




Kementerian Pendidikan Dan Kebudayaan
Republik Indonesia
2013



TEKNIK DASAR ELEKTRONIKA KOMUNIKASI

Untuk SMK / MAK Kelas X

2



Penulis : RUGIANTO
Editor Materi : ASMUNIV
Editor Bahasa :
Ilustrasi Sampul :
Desain & Ilustrasi Buku : PPPPTK BOE MALANG

Hak Cipta © 2013, Kementerian Pendidikan & Kebudayaan

**MILIK NEGARA
TIDAK DIPERDAGANGKAN**

Semua hak cipta dilindungi undang-undang.


Dilarang memperbanyak(mereproduksi), mendistribusikan, atau memindahkan sebagian atau seluruh isi buku teks dalam bentuk apapun atau dengan cara apapun, termasuk fotokopi, rekaman, atau melalui metode (media) elektronik atau mekanis lainnya, tanpa izin tertulis dari penerbit, kecuali dalam kasus lain, seperti diwujudkan dalam kutipan singkat atau tinjauan penulisan ilmiah dan penggunaan non-komersial tertentu lainnya diizinkan oleh perundangan hak cipta. Penggunaan untuk komersial harus mendapat izin tertulis dari Penerbit.

Hak publikasi dan penerbitan dari seluruh isi buku teks dipegang oleh Kementerian Pendidikan & Kebudayaan.

Untuk permohonan izindapat ditujukan kepada Direktorat Pembinaan Sekolah Menengah Kejuruan, melalui alamat berikut ini:

Pusat Pengembangan & Pemberdayaan Pendidik & Tenaga Kependidikan Bidang Otomotif & Elektronika:

Jl. Teluk Mandar, Arjosari Tromol Pos 5, Malang 65102, Telp. (0341) 491239, (0341) 495849, Fax. (0341) 491342, Surel: vedcmalang@vedcmalang.or.id, Laman: www.vedcmalang.com



DISKLAIMER (DISCLAIMER)

Penerbit tidak menjamin kebenaran dan keakuratan isi/informasi yang tertulis di dalam buku tek ini. Kebenaran dan keakuratan isi/informasi merupakan tanggung jawab dan wewenang dari penulis.

Penerbit tidak bertanggung jawab dan tidak melayani terhadap semua komentar apapun yang ada didalam buku teks ini. Setiap komentar yang tercantum untuk tujuan perbaikan isi adalah tanggung jawab dari masing-masing penulis.

Setiap kutipan yang ada di dalam buku teks akan dicantumkan sumbernya dan penerbit tidak bertanggung jawab terhadap isi dari kutipan tersebut. Kebenaran keakuratan isi kutipan tetap menjadi tanggung jawab dan hak diberikan pada penulis dan pemilik asli. Penulis bertanggung jawab penuh terhadap setiap perawatan (perbaikan) dalam menyusun informasi dan bahan dalam buku teks ini.

Penerbit tidak bertanggung jawab atas kerugian, kerusakan atau ketidaknyamanan yang disebabkan sebagai akibat dari ketidakjelasan, ketidaktepatan atau kesalahan didalam menyusun makna kalimat didalam buku teks ini.


Kewenangan Penerbit hanya sebatas memindahkan atau menerbitkan mempublikasi, mencetak, memegang dan memproses data sesuai dengan undang-undang yang berkaitan dengan perlindungan data.

Katalog Dalam Terbitan (KDT)

TEKNIK ELEKTRONIKA KOMUNIKASI, Edisi Pertama 2013

Kementerian Pendidikan & Kebudayaan

Direktorat Jenderal Peningkatan Mutu Pendidik & Tenaga Kependidikan,
th. 2013: Jakarta




KATA PENGANTAR

Puji syukur kami panjatkan kepada Tuhan yang Maha Esa atas tersusunnya buku teks ini, dengan harapan dapat digunakan sebagai buku teks untuk siswa Sekolah Menengah Kejuruan (SMK) Bidang Studi Keahlian Teknologi Dan Rekayasa, TEKNIK ELEKTRONIKA KOMUNIKASI. Penerapan kurikulum 2013 mengacu pada paradigma belajar kurikulum abad 21 menyebabkan terjadinya perubahan, yakni dari pengajaran (*teaching*) menjadi BELAJAR (*learning*), dari pembelajaran yang berpusat kepada guru (*teachers-centered*) menjadi pembelajaran yang berpusat kepada peserta didik (*student-centered*), dari pembelajaran pasif (*pasive learning*) ke cara belajar peserta didik aktif (*active learning-CBSA*) atau *Student Active Learning-SAL*. Buku teks "TEKNIK DASAR ELEKTRONIKA KOMUNIKASI" ini disusun berdasarkan tuntutan paradigma pengajaran dan pembelajaran kurikulum 2013 diselaraskan berdasarkan pendekatan model pembelajaran yang sesuai dengan kebutuhan belajar kurikulum abad 21, yaitu pendekatan model pembelajaran berbasis peningkatan keterampilan proses sains. Penyajian buku teks untuk Mata Pelajaran "TEKNIK DASAR ELEKTRONIKA KOMUNIKASI" ini disusun dengan tujuan agar supaya peserta didik dapat melakukan proses pencarian pengetahuan berkenaan dengan materi pelajaran melalui berbagai aktivitas proses sains sebagaimana dilakukan oleh para ilmuwan dalam melakukan eksperimen ilmiah (penerapan *scientific*), dengan demikian peserta didik diarahkan untuk menemukan sendiri berbagai fakta, membangun konsep, dan nilai-nilai baru secara mandiri. Kementerian Pendidikan dan Kebudayaan, Direktorat Pembinaan Sekolah Menengah Kejuruan, dan Direktorat Jenderal Peningkatan Mutu Pendidik dan Tenaga Kependidikan menyampaikan terima kasih, sekaligus saran kritik demi kesempurnaan buku teks ini dan penghargaan kepada semua pihak yang telah berperan serta dalam membantu terselesaikannya buku teks siswa untuk Mata Pelajaran TEKNIK DASAR ELEKTRONIKA KOMUNIKASI kelas X/Semester 2 Sekolah Menengah Kejuruan (SMK).

Jakarta, 12 Desember 2013


Menteri Pendidikan dan Kebudayaan

Prof. Dr. Mohammad Nuh, DEA




DAFTAR ISI

DISKLAIMER (DISCLAIMER)	III
KATA PENGANTAR	IV
DAFTAR ISI	V
I. PENDAHULUAN.....	1
1.1 DESKRIPSI.....	1
1.2 PRASYARAT	1
1.3 PETUNJUK PENGGUNAAN.....	1
1.4 TUJUAN AKHIR.....	2
1.5 KOMPETENSI INTI DAN KOMPETENSI DASAR	3
1.6 CEK KEMAMPUAN AWAL.....	3
II. Kegiatan Belajar 1.	4
2.1 TUJUAN PEMBELAJARAN.....	4
2.2 URAIAN MATERI	4
2.3 RANGKUMAN.....	17
2.4 TUGAS KEGIATAN BELAJAR 1 - 1	20
2.5 TUGAS	22
2.6 TUGAS KEGIATAN BELAJAR 1 - 2.....	31
III. Kegiatan Belajar 2.	41
3.1 TUJUAN PEMBELAJARAN	41
3.2 URAIAN MATERI	41
3.3 RANGKUMAN.....	53
IV. Kegiatan Belajar 3.	54
4.1 TUJUAN PEMBELAJARAN	54
4.2 URAIAN MATERI.....	54
4.3 RANGKUMAN.....	68
4.4 TUGAS KEGIATAN BELAJAR 3 - 1	69
4.5 TUGAS	72
4.6 TUGAS KEGIATAN BELAJAR 3 - 2.....	84
4.7 TUGAS KEGIATAN BELAJAR 3 - 3.....	96
4.8 TUGAS	100
4.9 TUGAS KEGIATAN BELAJAR 3 - 4.....	123
4.10 TUGAS KEGIATAN BELAJAR 3 - 5.....	134
4.11 TUGAS	136
4.12 TUGAS KEGIATAN BELAJAR 3 - 6.....	140



V. Kegiatan Belajar 4.....	149
5.1 TUJUAN PEMBELAJARAN	149
5.2 URAIAN MATERI	149
5.3 RANGKUMAN.....	158
5.4 TUGAS KEGIATAN BELAJAR 4 - 1.....	160
5.5 TUGAS KEGIATAN BELAJAR 4 - 2.....	169
5.6 TUGAS KEGIATAN BELAJAR 4 - 3.....	177
5.7 TUGAS KEGIATAN BELAJAR 4 - 4.....	192
5.8 PENERAPAN.....	200
5.8.1 ATTITUDE SKILLS.....	200
5.8.2 KOGNITIF SKILLS	201
5.8.3 PSIKOMOTORIK SKILLS	202
5.8.4 PRODUK/BENDA KERJA SESUAI KRITERIA STANDARD	204
DAFTAR PUSTAKA.....	205



I. PENDAHULUAN

1.1 Deskripsi

Teknik Elektronika Digital adalah merupakan dasar dalam melakukan melakukan pekerjaan-pekerjaan yang berkaitan dengan rangkaian maupun peralatan telekomunikasi. Untuk itu pada pekerjaan ini siswa diharapkan dapat melakukan dan menguasai dengan benar karena akan menunjang pada proses pembelajaran berikutnya.

Teknik Elektronika Digital merupakan salah satu bentuk dan alat bantu ajar yang dapat digunakan baik di laboratorium elektronika pada saat siswa melakukan praktek di laboratorium elektronika telekomunikasi. Dengan modul ini maka diharapkan dapat meningkatkan efisiensi dan efektifitas proses belajar mengajar yang berorientasi pada proses pembelajaran tuntas. Dengan modul ini diharapkan proses belajar mengajar akan menjadi program dan terencana untuk meningkatkan pengetahuan dan ketrampilan pada siswa didik.

1.2 Prasyarat


Sebelum siswa mempelajari materi teknik elektronika digital ini, siswa sudah harus mengetahui metode dan cara pengukuran menggunakan berbagai macam alat ukur di bidang elektronika dan materi teknik elektronika analog untuk menunjang kegiatan agar proses belajar mengajar menjadi lebih lancar.

1.3 Petunjuk Penggunaan

Langkah - langkah yang harus dilakukan untuk mempelajari modul ini:

a. Bagi siswa atau peserta didik:

1. Bacalah tujuan antara dan tujuan akhir dengan seksama,
2. Bacalah Uraian Materi pada setiap kegiatan belajar dengan seksama sebagai teori penunjang,
3. Baca dan ikuti langkah kerja yang ada pada modul ini pada tiap proses pembelajaran sebelum melakukan atau mempraktekkan,
4. Persiapkan peralatan yang digunakan pada setiap kegiatan belajar yang sesuai dan benar




b. Bagi guru pembina / pembimbing:

1. Dengan mengikuti penjelasan didalam modul ini, susunlah tahapan penyelesaian yang diberikan kepada siswa / peserta didik.
2. Berikanlah penjelasan mengenai peranan dan pentingnya materi dari modul ini.
3. Berikanlah penjelasan serinci mungkin pada setiap tahapan tugas yang diberikan kepada siswa.
4. Berilah contoh gambar-gambar atau barang yang sudah jadi, untuk memberikan wawasan kepada siswa.
5. Lakukan evaluasi pada setiap akhir penyelesaian tahapan tugas.
6. Berilah penghargaan kepada siswa didik yang setimpal dengan hasil karyanya.

1.4 Tujuan Akhir

1. Peserta / siswa dapat menerapkan sistem konversi bilangan pada rangkaian logika
2. Peserta / siswa dapat menerapkan aljabar Boolean pada gerbang logika digital
3. Peserta / siswa dapat menerapkan macam-macam gerbang dasar rangkaian logika
4. Peserta / siswa dapat menerapkan macam-macam rangkaian Flip-Flop.




1.5 Kompetensi Inti dan Kompetensi Dasar

Dengan menguasai modul ini diharapkan peserta / siswa didik dapat menjelaskan dasar elektronika digital dalam teknik telekomunikasi.

1.6 Cek Kemampuan Awal

Pada awal pembelajaran siswa didik diberi tugas untuk menyebutkan aplikasi elektronika digital dalam teknik telekomunikasi

Apabila siswa telah dapat melaksanakan tugas tersebut dengan benar, maka siswa yang bersangkutan sudah dapat ujian untuk mendapatkan sertifikat, dan tidak perlu mengikuti modul ini serta diperbolehkan langsung mengikuti modul berikutnya.



II. Kegiatan Belajar 1.

SISTEM BILANGAN (ELEKTRONIKA DIGITAL)

2.1 Tujuan Pembelajaran

Peserta diklat / siswa dapat :


- Memahami sistem bilangan desimal, biner, oktal, dan heksadesimal
- Memahami konversi sistem bilangan desimal ke sistem bilangan biner
- Memahami konversi sistem bilangan desimal ke sistem bilangan oktal
- Memahami konversi sistem bilangan desimal ke sistem bilangan heksadesimal.
- Memahami konversi sistem bilangan biner ke sistem bilangan desimal
- Memahami konversi sistem bilangan oktal ke sistem bilangan desimal
- Memahami konversi sistem bilangan heksadesimal ke sistem bilangan desimal.
- Memahami sistem bilangan pengkode biner (binary encoding)

2.2 Uraian Materi

1. Sistem bilangan desimal, biner, oktal, dan heksadesimal

a) Bilangan Desimal

Ada beberapa sistem bilangan yang kita kenal, antara lain yang sudah kita kenal dan digunakan setiap hari adalah sistem bilangan desimal. Urutan penulisan sistem bilangan ini adalah 0, 1, 2, 3, 4, 5, 6, 7, 8, dan 9. Sehingga bilangan desimal disebut dengan bilangan yang mempunyai bobot radik 10. Nilai suatu sistem bilangan desimal memiliki karakteristik dimana besarnya nilai bilangan tersebut ditentukan oleh posisi atau tempat bilangan tersebut berada. Sebagai contoh bilangan



desimal 369, bilangan ini memiliki bobot nilai yang berbeda. Bilangan 9 menunjukkan satuan (10^0), angka 6 memiliki bobot nilai (10^1) dan angka 3 menunjukkan bobot nilai ratusan (10^2). Cara penulisan bilangan desimal yang memiliki radik atau basis 10 dapat dinyatakan seperti berikut:

$$(369)_{10} = (300 + 60 + 9)$$

$$(369)_{10} = (3 \times 10^2 + 6 \times 10^1 + 9 \times 10^0)$$

sehingga untuk mengetahui nilai bilangan desimal (bobot bilangan) dari suatu bilangan desimal dengan radik yang lainnya secara umum dapat dinyatakan seperti persamaan (1) berikut:

$$(N)_B = X_3 B^3 + X_2 B^2 + X_1 B^1 + X_0 B^0 \quad (1)$$

$$(N)_B = [(X_3 B + X_2) \cdot B + X_1] \cdot B + X_0 \quad (2)$$

Contoh:

Penulisan dengan menggunakan persamaan (3.1)

$$(N)_B = X_3 B^3 + X_2 B^2 + X_1 B^1 + X_0 B^0$$

$$4567(10) = 4 \cdot 10^3 + 5 \cdot 10^2 + 6 \cdot 10^1 + 7 \cdot 10^0$$


atau dapat dinyatakan juga dengan menggunakan persamaan (2)

$$(N)_B = [(X_3 B + X_2) \cdot B + X_1] \cdot B + X_0$$

$$(N)_B = [(4 \cdot 10 + 5) \cdot 10 + 6] \cdot 10 + 7$$

b) Bilangan biner


Berbeda dengan bilangan desimal, bilangan biner hanya menggunakan dua simbol, yaitu 0 dan 1. Bilangan biner dinyatakan dalam radik 2 atau disebut juga dengan sistem bilangan basis 2, dimana setiap *biner* atau *biner digit* disebut *bit*. Tabel 1 kolom sebelah kanan memperlihatkan pencacahan bilangan biner dan kolom sebelah kiri menunjukkan nilai sepadan bilangan desimal.



Tabel 1. Pencacah Biner dan Desimal

Pencacah Desimal	Pencacah Biner			
	2^3	2^2	2^1	2^0
	8	4	2	1
0				0
1				1
2			1	0
3			1	1
4		1	0	0
5		1	0	1
6		1	1	0
7		1	1	1
8	1	0	0	0
9	1	0	0	1
10	1	0	1	0
11	1	0	1	1
12	1	1	0	0
13	1	1	0	1
14	1	1	1	0
15	1	1	1	1

Bilangan biner yang terletak pada kolom sebelah kanan yang dibatasi bilangan 2^0 biasa disebut bit yang kurang signifikan (*LSB, Least Significant Bit*), sedangkan kolom sebelah kiri dengan batas bilangan 2^4 dinamakan bit yang paling significant (*MSB, Most Significant Bit*).



c) Bilangan Oktal

Sistem bilangan oktal sering dipergunakan dalam prinsip kerja digital computer. Bilangan oktal memiliki basis delapan, maksudnya memiliki kemungkinan bilangan 1,2,3,4,5,6 dan 7.

Posisi digit pada bilangan oktal adalah :

Tabel 2. Posisi digit bilangan oktal


8^4	8^3	8^2	8^1	8^0	8^{-1}	8^{-3}	8^{-3}	8^{-4}	8^{-5}
-------	-------	-------	-------	-------	----------	----------	----------	----------	----------

Penghitungan dalam bilangan oktal adalah:

0,1,2,3,4,5,6,7,10,11,12,13,14,15,16,17,20.....65,66,67,
70,71.....275,276,277,300.....dst.

d) Bilangan Heksadesimal

Sistem bilangan heksadesimal memiliki radik 16 dan disebut juga dengan sistem bilangan basis 16. Penulisan simbol bilangan heksadesimal berturut-turut adalah 0, 1, 2, 3, 4, 5, 6, 7, 8, 9, A, B, C, D, E dan F. Notasi huruf A menyatakan nilai bilangan 10, B untuk nilai bilangan 11, C menyatakan nilai bilangan 12, D menunjukkan nilai bilangan 13, E untuk nilai bilangan 14, dan F adalah nilai bilangan 15. Manfaat dari bilangan heksadesimal adalah kegunaannya dalam pengubahan secara langsung dari bilangan biner 4-bit.



Tabel 3. Pencacah Sistem Bilangan Desimal, Biner, Heksadesimal


Desimal	Biner	Heksadesimal	Desimal	Biner	Heksadesimal
0	0000	0	16	00010000	10
1	0001	1	17	00010001	11
2	0010	2	18	00010010	12
3	0011	3	19	00010011	13
4	0100	4	20	00010100	14
5	0101	5	21	00010101	15
6	0110	6	22	00010110	16
7	0111	7	23	00010111	17
8	1000	8	24	00011000	18
9	1001	9	25	00011001	19
10	1010	A	26	00011010	1A
11	1011	B	27	00011011	1B
12	1100	C	28	00011100	1C
13	1101	D	29	00011101	1D
14	1110	E	30	00011110	1E
15	1111	F	31	00011111	1F

Hitungan heksadesimal pada nilai yang lebih tinggi adalah38,39. 3A, 3B, 3C, 3D, 3E, 3F, 40,41.....
6F8,6F9,6FA, 6FB,6FC,6FD,6FE,6FF, 700.....

Tabel 7 memperlihatkan pencacahan sistem bilangan desimal, biner dan heksadesimal. Terlihat jelas bahwa ekivalen-ekivalen heksadesimal memperlihatkan tempat menentukan nilai. Misal 1 dalam 10_{16} mempunyai makna/bobot nilai 16 satuan, sedangkan angka 0 mempunyai nilai nol.

2. Konversi sistem bilangan desimal ke sistem bilangan biner

Berikut cara penyelesaian bagaimana mengkonversi bilangan desimal basis 10 ke bilangan biner basis 2. Pertama (I) bilangan desimal 80 dibagi dengan basis 2 menghasilkan 40 sisa 1. Untuk bilangan biner sisa ini menjadi bit yang kurang signifikan (LSB), sedangkan sisa pembagian pada langkah ketujuh (VII) menjadi bit



yang paling signifikan (MSB). Urutan penulisan bilangan biner dimulai dari VII ke I.

Tabel 4 Konversi Desimal ke Biner


I	83 : 2	=	41	sisanya	1	↑	LSB
II	41 : 2	=	20	sisanya	1	↓	
III	20 : 2	=	10	sisanya	0		
IV	10 : 2	=	5	sisanya	0		
V	5 : 2	=	2	sisanya	1		
VI	2 : 2	=	1	sisanya	0		
VII	1 : 2	=	0	sisanya	1		
					0		

Sehingga didapatkan hasil konversi bilangan desimal 83 ke bilangan biner basis 2 adalah $\Rightarrow 83_{(10)} = 01010011_{(2)}$.

Berikut adalah contoh konversi bilangan desimal pecahan ke bilangan biner. Berbeda dengan penyelesaian bilangan desimal bukan pecahan (tanpa koma), Pertama (I) bilangan desimal 0,84375 dikalikan dengan basis 2 menghasilkan 1,6875. Langkah berikutnya bilangan pecahan dibelakang koma 0,6875 dikalikan bilangan basis 2 sampai akhirnya didapatkan nilai bilangan genap 1,0. Semua bilangan yang terletak didepan koma mulai dari urutan (I) sampai (V) merepresentasikan bilangan biner pecahan.

Tabel 5. Konversi Desimal ke Biner Pecahan

I	0,84375 x 2	=	1,6875	↓
II	0,6875 x 2	=	1,375	↓
III	0,375 x 2	=	0,75	
IV	0,75 x 2	=	1,50	
V	0,50 x 2	=	1,00	



Sehingga konversi bilangan desimal $0,87375_{(10)}$ terhadap bilangan biner adalah $= 0,1\ 1\ 0\ 1\ 1_{(2)}$.

Berikut adalah contoh konversi bilangan desimal pecahan $5,625$ ke bilangan biner basis 2. Berbeda dengan penyelesaian bilangan desimal bukan pecahan (tanpa koma), Pertama (I) bilangan desimal 5 dibagi dengan basis 2 menghasilkan 2 sisa 1, berulang sampai dihasilkan hasil bagi 0. Langkah berikutnya adalah menyelesaikan bilangan desimal pecahan dibelakang koma $0,625$ dikalikan dengan basis 2 menghasilkan $1,25$, berulang sampai didapatkan nilai bilangan genap $1,0$. Penulisan diawali dengan bilangan biner yang terletak didepan koma mulai dari urutan (III) berturut-turut sampai (I), sedangkan untuk bilangan biner pecahan dibelakang koma ditulis mulai dari (I) berturut-turut sampai ke (III).

Tabel 6. Konversi Desimal ke Biner Pecahan


I	$5 : 2$	=	2	sisa	1
II	$2 : 2$	=	1	sisa	0
III	$1 : 2$	=	0	sisa	1
Hasil	$5,625_{(10)} = 1\ 0\ 1,1\ 0\ 1_{(2)}$				
I	$0,625 \times 2$	=	1,25		
II	$0,250 \times 2$	=	0,50		
III	$0,50 \times 2$	=	1,00		

Sehingga didapatkan hasil konversi bilangan $5,625_{(10)} = 1\ 0\ 1,1\ 0\ 1_{(2)}$.

3. Konversi sistem bilangan desimal ke sistem bilangan oktal

Bilangan desimal bisa dikonversikan ke dalam bilangan oktal dengan cara yang sama dengan sistem pembagian yang diterapkan pada konversi desimal ke biner, tetapi dengan faktor pembagi 8.

Contoh : Bilangan 266_{10} dikonversikan ke bilangan oktal :



Tabel 7 Konversi Desimal ke Oktal

I	266 : 8	=	33	sis	2	↑	LSD
II	33 : 8	=	4	sis	1		
					4		MSD

Maka hasilnya → $266_{10} = 412_8$

Sisa pembagian yang pertama disebut dengan Least Significant Digit (LSD) dan sisa pembagian terakhir disebut Most Significant Digit (MSD).

4. Konversi sistem bilangan desimal ke sistem bilangan heksadesimal.

Konversi desimal ke heksadesimal bisa dilakukan dengan dua tahapan. Yang pertama adalah melakukan konversi bilangan desimal ke bilangan biner, kemudian dari bilangan biner ke bilangan heksadesimal.


Contoh :

Konversi bilangan desimal 250 ke bilangan heksadesimal.

Tabel 8 Konversi Desimal ke Heksadesimal.

I	250 : 2	=	125	sis	0	↑	LSB	A	
II	125 : 2	=	62	sis	1				
III	62 : 2	=	31	sis	0				
IV	31 : 2	=	15	sis	1				
V	15 : 2	=	7	sis	1				F
VI	7 : 2	=	3	sis	1				
VII	3 : 2	=	1	sis	1				
					1		MSB		

Maka langkah pertama adalah merubah bilangan deimal 250 ke dalam bilangan biner: $250_{(10)} = 1111.1010_{(2)}$. Untuk memudahkan konversi bilangan biner ke heksadesimal maka deretan bilangan biner dikelompokkan dalam masing-masing 4 bit bilangan biner yang disebut dengan 1 byte. Artinya 1 byte = 4 bit.



Byte pertama adalah

$$1111(2) = F(16)$$

Byte ke dua adalah

$$1010(2) = A(16)$$

Maka bilangan heksadesimal, $1111.1010_{(2)} = FA_{(16)}$

Sehingga $250_{(10)} = FA_{(16)}$

5. Konversi sistem bilangan biner ke sistem bilangan desimal

Konversi bilangan biner basis 2 ke bilangan desimal basis 10 dapat dilakukan seperti pada tabel 3.2 berikut.


Tabel 9 Konversi Desimal ke Biner

Pangkat	2^4	2^3	2^2	2^1	2^0
Nilai	16	8	4	2	1
Biner	1	0	0	0	1
Desimal	16	+			1
Hasil	17				

Oleh karena bilangan biner yang memiliki bobot hanya kolom paling kiri dan kolom paling kanan, sehingga hasil konversi ke desimal adalah sebesar $16 + 1 = 17$.

Tabel 10 Konversi Biner ke desimal

Pangkat	2^3	2^2	2^1	2^0	$1/2^1$	$1/2^2$	$1/2^3$
Nilai	8	4	2	1	0,5	0,25	0,125
Biner	1	0	1	0	1	0	1
Desimal	8	+	2	+	0,5	+	0,125
Hasil	10,625						




Tabel 10 memperlihatkan contoh konversi dari bilangan biner pecahan ke besaran desimal. Biner yang memiliki bobot adalah pada bilangan desimal $8 + 2 + 0,5 + 0,125 = 10,6125$.

6. Konversi sistem bilangan oktal ke sistem bilangan desimal
Bilangan oktal bisa dikonversikan dengan mengalikan bilangan oktal dengan angka delapan dipangkatkan dengan posisi pangkat.

Contoh :

$$\begin{aligned} 226_8 &= 2 \times 8^2 + 2 \times 8^1 + 6 \times 8^0 \\ &= 2 \times 64 + 2 \times 8 + 6 \times 1 \\ &= 128 + 16 + 6 = 150_{10} \end{aligned}$$

7. Konversi sistem bilangan heksadesimal ke sistem bilangan desimal.
Bila kita hendak mengkonversi bilangan heksadesimal ke bilangan desimal, hal penting yang perlu diperhatikan adalah banyaknya bilangan berpangkat menunjukkan banyaknya digit bilangan heksadesimal tersebut. Misal 3 digit bilangan heksadesimal mempunyai 3 buah bilangan berpangkat yaitu 16^2 , 16^1 , 16^0 .
Kita ambil contoh nilai heksadesimal 2B6 ke bilangan desimal. Tabel 3.8 memperlihatkan proses perhitungan yang telah pelajari sebelumnya. Bilangan 2 terletak pada posisi kolom 256-an sehingga nilai desimalnya adalah $2 \times 256 = 512$ (lihat tabel 3.8 baris desimal). Bilangan heksadesimal B yang terletak pada kolom 16-an sehingga nilai desimalnya adalah $16 \times 11 = 176$. Selanjutnya kolom terakhir paling kanan yang mempunyai bobot 1-an menghasilkan nilai desimal sebesar $1 \times 6 = 6$. Nilai akhir pencacahan dari heksadesimal 2B6 ke desimal adalah $512 + 176 + 6 = 694_{(10)}$.



Tabel 11. Konversi bilangan heksadesimal ke desimal

No	Pangkat	16^2	16^1	16^0
I	Nilai-Tempat	256-an	16-an	1-an
II	Heksadesimal	2	B	6
III	Desimal	$256 \times 2 = 512$	$16 \times 11 = 176$	$1 \times 6 = 6$
IV		$512 + 176 + 6 = 694_{(10)}$		

Tabel 12 berikut memperlihatkan contoh konversi bilangan pecahan heksadesimal ke desimal. Metode penyelesaiannya adalah sama seperti metode yang digunakan tabel 11.


Tabel 12 Konversi bilangan pecahan heksadesimal ke desimal

No	Pangkat	16^2	16^1	16^0	.	$1/16^1$
I	Nilai-Tempat	256-an	16-an	1-an		0,625
II	Heksadesimal	A	3	F	.	C
III	Desimal	$256 \times 10 = 2560$	$16 \times 3 = 48$	$1 \times 15 = 15$		$0,625 \times 12 = 0,75$
IV		$2560 + 48 + 15 + 0,75 = 2623,75_{(10)}$				

Langkah pertama adalah bilangan heksadesimal A pada kolom 256-an dikalikan dengan 10 sehingga didapatkan nilai desimal sebesar 2560. Bilangan heksadesimal 3 pada kolom 16-an menghasilkan nilai desimal sebesar $3 \times 16 = 48$. Selanjutnya bilangan F menyatakan nilai desimal $1 \times 15 = 15$. Terakhir bilangan pecahan heksadesimal adalah $0,625 \times 12 = 0,75$. sehingga hasil akhir bilangan desimal adalah $2560 + 48 + 15 + 0,75 = 2623,75_{(10)}$.

8. Sistem bilangan pengkode biner (binary encoding)

Pada umumnya manusia akan lebih mudah menggunakan bilangan desimal dalam sistem penghitungan langsung (tanpa alat pengkode). Berbeda dengan konsep peralatan elektronik seperti



mesin hitung (kalkulator), komputer dan alat komunikasi handphone yang menggunakan bilangan logika biner 1 dan 0. Peralatan-peralatan tersebut termasuk kelompok perangkat digital yang hanya mengolah data berupa bilangan biner.

Untuk menghubungkan perhitungan logika perangkat digital dan perhitungan langsung yang dimengerti manusia, diperlukan sistem pengkodean dari bilangan biner ke desimal. Sistem pengkodean dari bilangan logika biner menjadi bilangan desimal lebih dikenal dengan sebutan BCD (*Binary Coded Desimal*).


Kode BCD

Sifat dari logika biner adalah sukar untuk dipahami secara langsung. Suatu kesulitan, berapakah nilai konversi jika kita hendak merubah bilangan biner $10010110_{(2)}$ menjadi bilangan desimal?.

Tabel 13 Kode BCD 8421

Desimal	BCD			
	8	4	2	1
0	0	0	0	0
1	0	0	0	1
2	0	0	1	0
3	0	0	1	1
4	0	1	0	0
5	0	1	0	1
6	0	1	1	0
7	0	1	1	1
8	1	0	0	0
9	1	0	0	1

Untuk menyelesaikan masalah tersebut, sudah barang tentu diperlukan waktu dan energi yang tidak sedikit. Untuk mempermudah dalam menyelesaikan masalah tersebut, diperlukan sistem pengkode BCD atau dikenal juga dengan sebutan BCD



8421. Tabel 13 memperlihatkan kode BCD 4bit untuk digit desimal 0 sampai 9. Maksud sistem desimal terkode biner atau kode BCD (*Binary Coded Desimal*) bertujuan untuk membantu agar supaya konversi biner ke desimal menjadi lebih mudah. Kode BCD ini setiap biner memiliki bobot nilai yang berbeda tergantung posisi bitnya. Untuk bit paling kiri disebut *MSB-Most Significant Bit* mempunyai nilai desimal 8 dan bit paling rendah berada pada posisi bit paling kiri dengan nilai desimal 1 disebut *LSB-Least Significant Bit*. Oleh karena itu sistem pengkode ini dinamakan juga dengan sebutan kode BCD 8421. Bilangan 8421 menunjukkan besarnya pembobotan dari masing-masing bilangan biner 4bit.

Contoh 1 memperlihatkan pengubahan bilangan desimal 352 basis 10 ke bentuk kode BCD 8421.

Desimal	3	5	2
BCD	0011	0101	0010

Contoh 2 menyatakan pengubahan BCD 0110 1001 ke bentuk bilangan desimal basis 10.


BCD	0110	1001	.
Desimal	6	9	.

Contoh 3 memperlihatkan pengubahan bilangan desimal pecahan 53.52 basis 10 ke bentuk BCD 8421.

Desimal	5	3	.	5	2
BCD	0101	0011	.	0101	0010

Contoh 4 menyatakan pengubahan pecahan BCD 8421 ke bentuk bilangan desimal basis 10.

BCD	0111	0001	.	0000	1000
Desimal	7	1	.	0	8



Contoh 5 menyatakan pengubahan pecahan BCD 8421 ke bentuk bilangan desimal basis 10 dan ke konversi biner basis 2.

BCD	0101	0100	.	0101
Desimal	5	4	.	5


Desimal ke biner

I	54 : 2	=	27	sisa	0	<div style="border-left: 1px dashed red; padding-left: 5px;"> Hasil 1 1 0 1 1 0 . 1₍₂₎ </div>
II	27 : 2	=	13	sisa	1	
III	13 : 2	=	6	sisa	1	
IV	6 : 2	=	3	sisa	0	
V	3 : 2	=	1	sisa	1	
VI	1 : 2	=	0	sisa	1	
	I		0,5 × 2	=	1,0	
	II		0,00 × 2	=	0,0	


Biner	1 0 0 0 1 0 1 0			.	1 0 1				
Desimal	128	+	8	+	2	.	0,5	+	0,125
Hasil	138.625								
BCD	1		3		8	.	6	2	5
	0 0 0 1		0 0 1 1		1 0 0 0	.	0 1 1 0	0 0 1 0	0 1 0 1

2.3 Rangkuman

1. Sistem bilangan desimal, biner, oktal, dan heksadesimal
 - Sistem bilangan desimal, urutan penulisan sistem bilangan ini adalah 0, 1, 2, 3, 4, 5, 6, 7, 8, dan 9. Sehingga bilangan desimal disebut dengan bilangan yang mempunyai bobot radik 10. Nilai suatu sistem bilangan desimal memiliki karakteristik dimana besarnya nilai bilangan tersebut ditentukan oleh posisi atau tempat bilangan tersebut berada.
 - Bilangan biner hanya menggunakan dua simbol, yaitu 0 dan 1. Bilangan biner dinyatakan dalam radik 2 atau disebut juga dengan sistem bilangan basis 2, dimana setiap *biner* atau *biner digit* disebut *bit*.




- Sistem bilangan oktal sering dipergunakan dalam prinsip kerja digital computer. Bilangan oktal memiliki basis delapan, maksudnya memiliki kemungkinan bilangan 1,2,3,4,5,6 dan 7.
 - Sistem bilangan heksadesimal memiliki radik 16 dan disebut juga dengan sistem bilangan basis 16. Penulisan simbol bilangan heksadesimal berturut-turut adalah 0, 1, 2, 3, 4, 5, 6, 7, 8, 9, A, B, C, D, E dan F. Notasi huruf A menyatakan nilai bilangan 10, B untuk nilai bilangan 11, C menyatakan nilai bilangan 12, D menunjukkan nilai bilangan 13, E untuk nilai bilangan 14, dan F adalah nilai bilangan 15. Manfaat dari bilangan heksadesimal adalah kegunaannya dalam pengubahan secara langsung dari bilangan biner 4-bit.
2. Konversi sistem bilangan desimal ke sistem bilangan biner
Langkah konversi bilangan desimal basis 10 ke bilangan biner basis 2. Pertama (I) bilangan desimal 80 dibagi dengan basis 2 menghasilkan 40 sisa 1. Untuk bilangan biner sisa ini menjadi bit yang kurang signifikan (LSB), sedangkan sisa pembagian pada langkah ketujuh (VII) menjadi bit yang paling signifikan (MSB). Urutan penulisan bilangan biner dimulai dari VII ke I.
 3. Konversi sistem bilangan desimal ke sistem bilangan oktal
Bilangan desimal bisa dikonversikan ke dalam bilangan oktal dengan cara yang sama dengan sistem pembagian yang diterapkan pada konversi desimal ke biner, tetapi dengan faktor pembagi 8.
 4. Konversi sistem bilangan desimal ke sistem bilangan heksadesimal.
Konversi desimal ke heksadesimal bisa dilakukan dengan dua tahapan. Yang pertama adalah melakukan konversi bilangan desimal ke bilangan biner, kemudian dari bilangan biner ke bilangan heksadesimal.
 5. Konversi sistem bilangan biner ke sistem bilangan desimal



Pada konversi bilangan biner basis 2 ke bilangan desimal basis 10, bilangan biner yang memiliki bobot hanya kolom paling kiri dan kolom paling kanan, sehingga hasil konversi ke desimal

6. Konversi sistem bilangan oktal ke sistem bilangan desimal
Bilangan oktal bisa dikonversikan dengan mengalikan bilangan oktal dengan angka delapan dipangkatkan dengan posisi pangkat.
7. Konversi sistem bilangan heksadesimal ke sistem bilangan desimal.
Bila kita hendak mengkonversi bilangan heksadesimal ke bilangan desimal, hal penting yang perlu diperhatikan adalah banyaknya bilangan berpangkat menunjukkan banyaknya digit bilangan heksadesimal tersebut. Misal 3 digit bilangan heksadesimal mempunyai 3 buah bilangan berpangkat yaitu 16^2 , 16^1 , 16^0
8. Sistem bilangan pengkode biner (binary encoding)
Untuk menghubungkan perhitungan logika perangkat digital dan perhitungan langsung yang dimengerti manusia, diperlukan sistem pengkodean dari bilangan biner ke desimal. Sistem pengkodean dari bilangan logika biner menjadi bilangan desimal lebih dikenal dengan sebutan BCD (*Binary Coded Desimal*).



2.4 Tugas Kegiatan Belajar 1 - 1

Pengalih Desimal ke Biner

Tujuan Instruksional Umum

Setelah pelajaran selesai, peserta harus dapat:

- ⇒ Memahami rangkaian dan aturan pengalih bilangan desimal ke Biner.

Tujuan Instruksional Khusus

Peserta harus dapat:

- ⇒ Membangun rangkaian pengalih bilangan Desimal ke bilangan Biner
- ⇒ Menyusun tabel kebenaran rangkaian pengalih
- ⇒ Memeriksa tabel kebenaran dengan valensi Biner
- ⇒ Menerapkan aturan pengalih bilangan Desimal ke Bilangan Biner.

Waktu 5 x 45 menit

Alat dan Bahan

Alat Alat:


- ⇒ Catu daya 5V 1 buah
- ⇒ Trainer digital 1 buah
- ⇒ Kabel penghubung Secukupnya

Bahan:

- ⇒ IC 74LS32 2 buah

Langkah Kerja

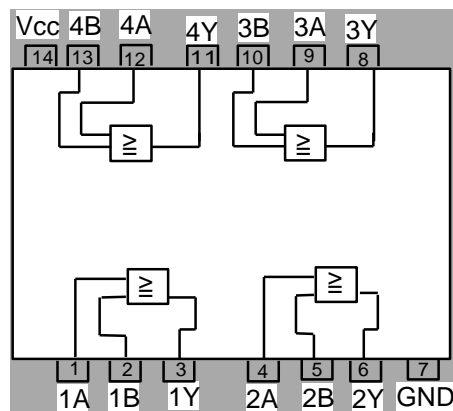
1. Persiapan alat dan bahan
2. Buatlah rangkaian seperti gambar 2
3. Lakukan percobaan sesuai tabel kebenaran



4. Buatlah rangkaian seperti gambar 3
5. Lakukan percobaan sesuai tabel kebenaran
6. Buatlah rangkaian seperti gambar 4
7. Lakukan percobaan sesuai tabel kebenaran
8. Buatlah rangkaian seperti gambar 5
9. Lakukan percobaan sesuai tabel kebenaran
10. Periksa apakah data percobaan pada tabel kebenaran sesuai dengan valensi Biner
11. Definisikan aturan pengalihan dari bilangan Desimal ke bilangan Biner
12. Gambarkan data-data dan tabel; kebenaran ke gambar bentuk pulsa


Cara Kerja / Petunjuk

1. Konstruksi IC



Gambar 1. 74LS32

2. Periksakan rangkaian yang anda buat pada instruktur sebelum rangkaian dihubungkan ke sumber tegangan

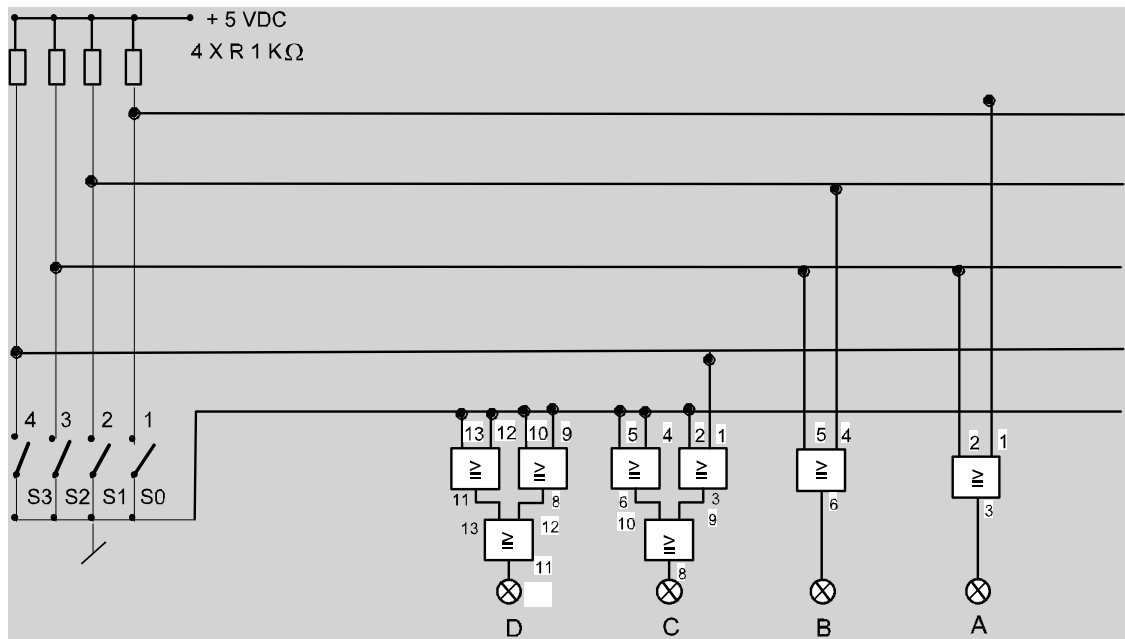



2.5 Tugas

Untuk langkah 2

Rangkaian pengalih bilangan Desimal 1-4 ke bilangan Biner

Gambar 2.

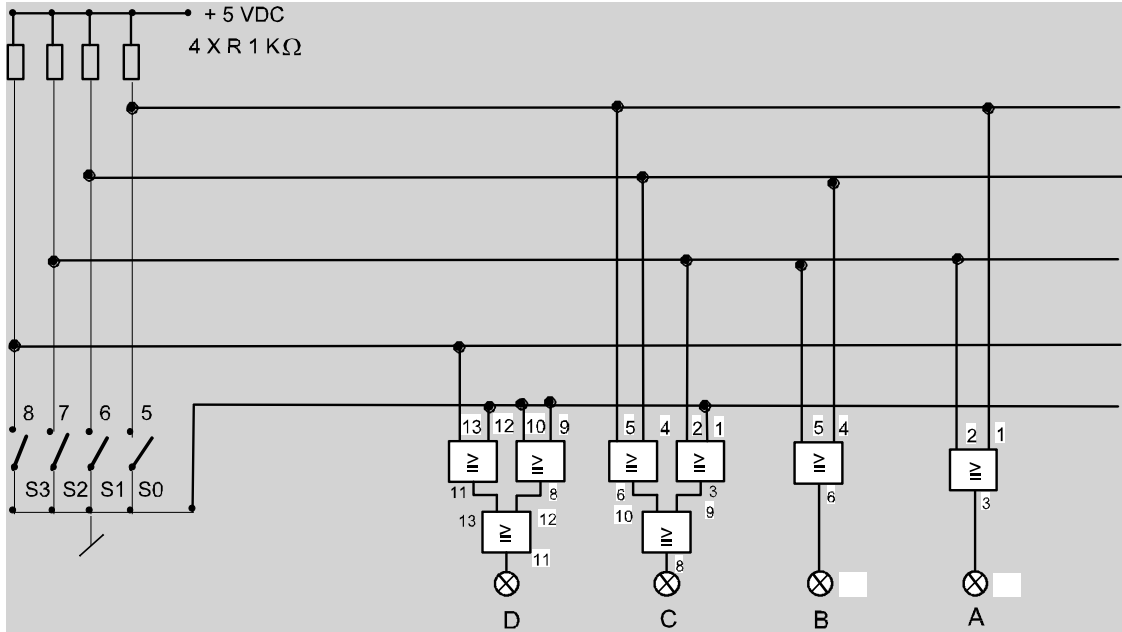




Untuk langkah 4

Rangkaian pengalih bilangan Desimal (5-8) ke bilangan Biner

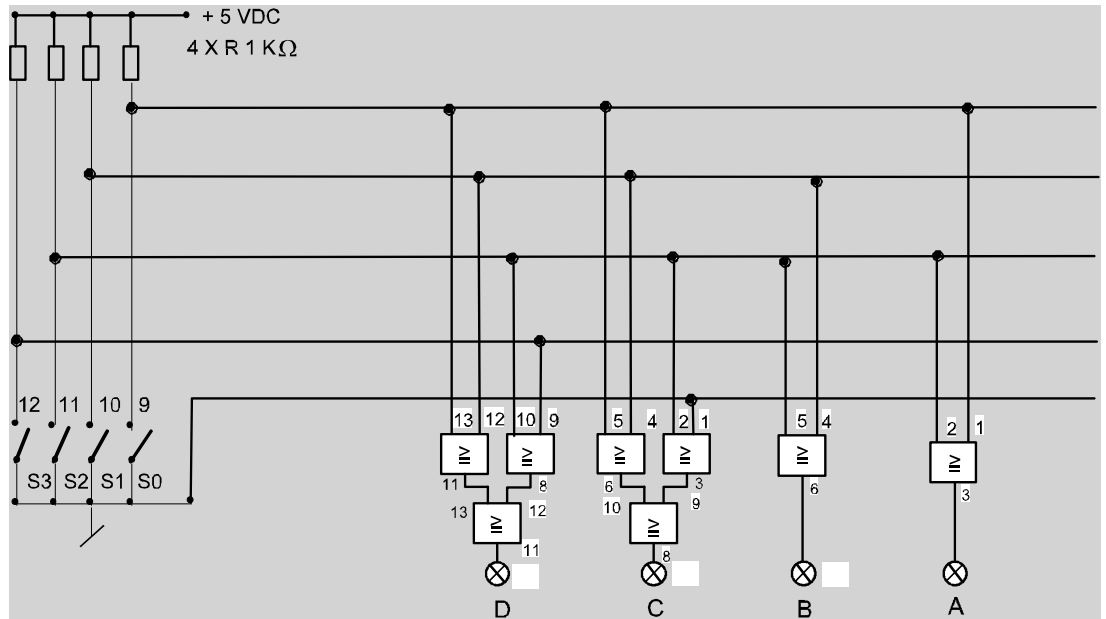
Gambar 3.




Untuk langkah 6

Rangkaian pengalih bilangan Desimal (9-12) ke bilangan Biner

Gambar 4.

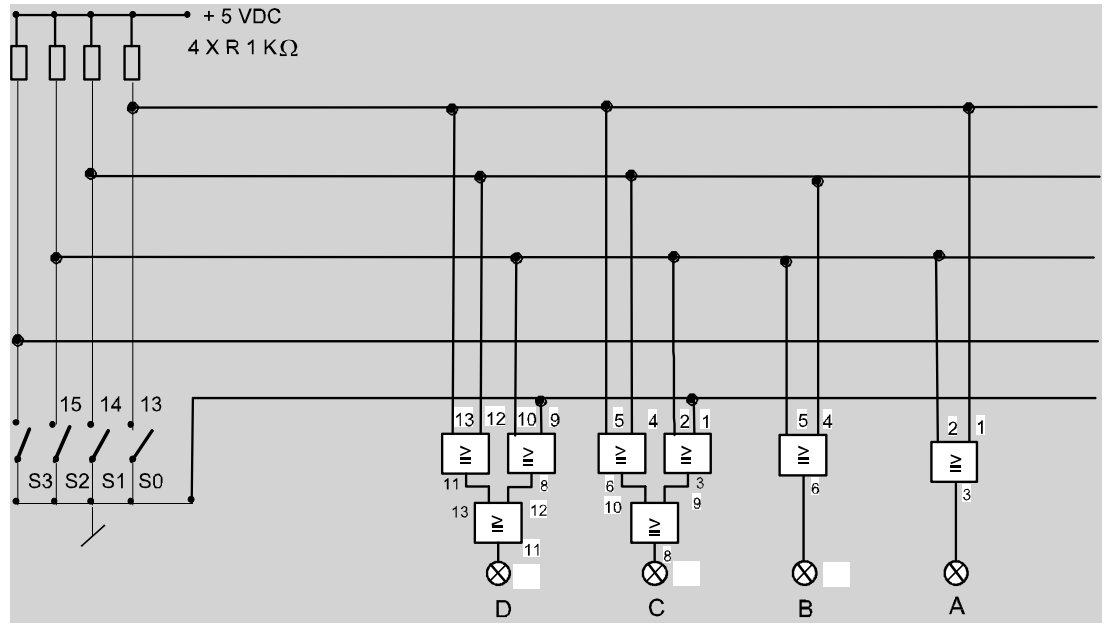




Untuk langkah 8

Rangkaian pengalih bilangan Desimal (13-15) ke bilangan Biner


Gambar 5.



Tabel kebenaran

Untuk langkah 3

Desimal	INPUT				OUTPUT				Biner
	S3	S2	S1	S0	D	C	B	A	
1	0	0	0	1					
2	0	0	1	0					
3	0	1	0	0					
4	1	0	0	0					



Untuk langkah 5

5	0	0	0	1					
6	0	0	1	0					
7	0	1	0	0					
8	1	0	0	0					

Untuk langkah 7

9	0	0	0	1					
10	0	0	1	0					
11	0	1	0	0					
12	1	0	0	0					

Untuk langkah 9

13	0	0	0	1					
14	0	0	1	0					
15	0	1	0	0					


Untuk langkah 10

1. Nilai valensi dari digit Code Biner

Digit Code Biner pada	D	C	B	A
Nilai Valensi				

2. Bagaimana cara memeriksa kembali data pengalihan bilangan desimal ke bilangan Biner ?

$$\text{Bilangan Desimal} = \dots + \dots + \dots + \dots$$



3. Periksalah kembali data-data dibawah ini, dengan menentukan nilai valensinya

Desimal	Nilai valensi	Biner
3		
5		
10		
15		

Untuk langkah 11

1. Sebuah rangkaian pengalih bilangan desimal ke bilangan Biner dapat bdibuat dengan mempergunakan :.....
2. Aturan yang berlaku untuk pengalihan bilangan desimal ke bilangan Biner adalah

Untuk A : Amempunyai nilai

bila A = 1 berlaku untuk semua bilangan desimaloleh sebab itu A adalah terjadi secara

Untuk B : B mempunyai nilai


Bila B = 1 berlaku untuk bilangan desimal, yang mengandung sebuaholeh sebab itu B berubah dalam irama

Untuk C : C mempunyai nilai

Bila C = 1 berlaku untuk bilangan desimal yang mengandung sebuaholeh karena itu C berubah dalam irama


Untuk D : D mempunyai nilai.....


Bila D = 1 berlaku untuk bilangan desimal yang mengandung sebuaholeh sebab itu D berubah dalam irama



Untuk langkah 12

Grafik yang menggambarkan perubahan bilangan desimal ke bilangan Biner





Jawaban

Tabel kebenaran

Untuk langkah 3

Desimal	INPUT				OUTPUT				Biner
	S3	S2	S1	S0	D	C	B	A	
1	0	0	0	1	0	0	0	0	0001
2	0	0	1	0	0	0	0	0	0010
3	0	1	0	0	0	0	0	0	0011
4	1	0	0	0	0	0	0	0	0100

Untuk langkah 5


5	0	0	0	1	0	0	0	0	0111
6	0	0	1	0	0	0	0	0	0110
7	0	1	0	0	0	0	0	0	0111
8	1	0	0	0	0	0	0	0	1000

Untuk langkah 7

9	0	0	0	1	0	0	0	0	1001
10	0	0	1	0	0	0	0	0	1010
11	0	1	0	0	0	0	0	0	1011
12	1	0	0	0	0	0	0	0	1100

Untuk langkah 9

13	0	0	0	1	0	0	0	0	1101
----	---	---	---	---	---	---	---	---	------



14	0	0	1	0	0	0	0	0	1110
15	0	1	0	0	0	0	0	0	1111

Untuk langkah 10

1. Nilai valensi dari digit Code Biner

Digit Code Biner pada	D	C	B	A
Nilai Valensi	2^3	2^2	2^1	2^0

2. Bagaimana cara memeriksa kembali data pengalihan bilangan desimal ke bilangan Biner ?


$$\text{Bilangan Desimal} = D_3 + D_2 + D_1 + D_0$$

3. Periksalah kembali data-data dibawah ini, dengan menentukan nilai valensinya

Desimal	Nilai valensi	Biner
3	$0 + 0 + 2^1 + 2^0$	0 0 1 1
5	$0 + 2^2 + 0 + 2^0$	0 1 0 1
10	$2^3 + 0 + 2^1 + 0$	1 0 1 0
15	$2^3 + 2^2 + 2^1 + 2^0$	1 1 1 1

Untuk langkah 11

1. Sebuah rangkaian pengalih bilangan desimal ke bilangan Biner dapat dibuat dengan mempergunakan : **gerbang dasar OR**
2. Aturan yang berlaku untuk pengalihan bilangan desimal ke bilangan Biner adalah
 Untuk A : A mempunyai nilai $2^0 = 1$
 bila A = 1 berlaku untuk semua bilangan desimal **ganjil** oleh sebab itu
 Adalah terjadi secara **bergantian 0 dan 1**



Untuk B : B mempunyai nilai $2^1 = 2$

Bila B = 1 berlaku untuk bilangan desimal, yang mengandungi sebuah **nilai 2** oleh sebab itu D₁ berubah dalam irama **dua-dua (dua kali B= 0 dan dua kali B = 1) : 0011001100110011 dst**

Untuk C : C mempunyai nilai $2^2 = 4$

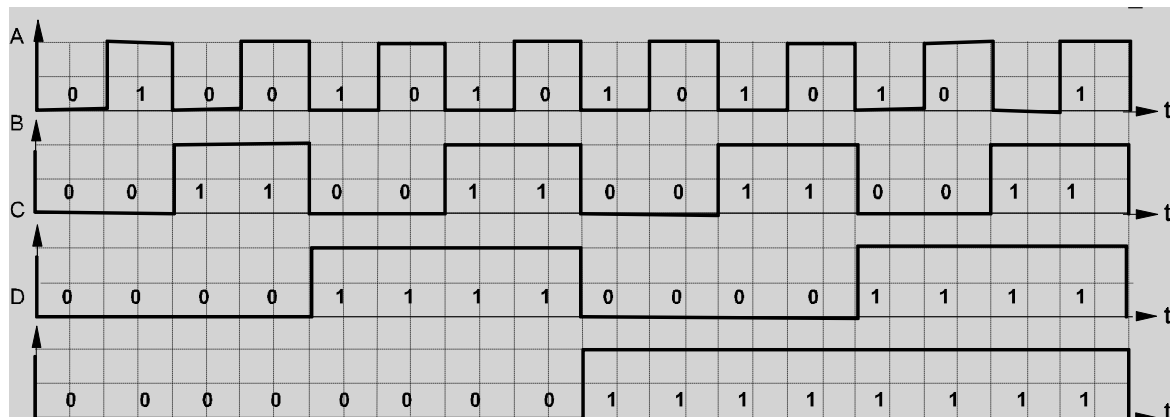
Bila C = 1 berlaku untuk bilangan desimal yang mengandungi sebuah **nilai 4** oleh kerana itu C berubah dalam irama **empat-empat : 0000111100001111 dst**


Untuk D : D mempunyai nilai $2^3 = 8$

Bila D = 1 berlaku untuk bilangan desimal yang mengandungi sebuah **nilai 8** oleh sebab itu D berubah dalam irama **delapan-delapan : 0000000011111111 dst**

Untuk langkah 12

Grafik yang menggambarkan perubahan bilangan desimal ke bilangan Biner





2.6 Tugas Kegiatan Belajar 1 - 2

Pengalih Biner Ke Desimal

Tujuan Instruksional Umum

Setelah pelajaran selesai, peserta harus dapat:

- ⇒ Memahami rangkaian dan aturan pengalih bilangan biner ke desimal

Tujuan Instruksional Khusus

Peserta harus dapat:


- ⇒ Membangun rangkaian pengalih bilangan biner ke bilangan desimal.
- ⇒ Menyusun tabel kebenaran rangkaian pengalih.
- ⇒ Memeriksa tabel kebenaran dengan valensi biner.
- ⇒ Menerapkan hukum pengalih bilangan biner ke bilangan desimal.

Waktu 4 x 45 Menit

Alat dan Bahan

- ⇒ Trainer Digital / Papan Percobaan
- ⇒ Catu daya 5 V DC
- ⇒ IC 7404
- ⇒ IC 7421
- ⇒ Modul LED
- ⇒ Modul Resistor
- ⇒ Kabel Penghubung
- ⇒ Toll sheet

Keselamatan Kerja



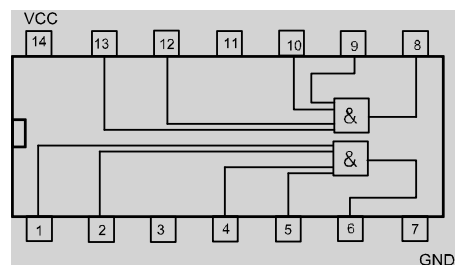
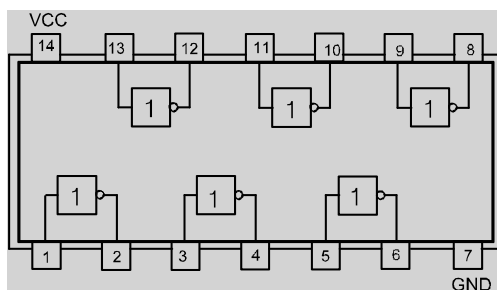
- ⇒ Gunakan pakaian kerja dengan benar
- ⇒ Hati - hati memasang dan melepas IC
- ⇒ Hindari hubung singkat


Langkah Kerja

1. Buat rangkaian seperti gambar 1 sampai dengan 4.
2. Gunakan saklar, letakkan pada input bilangan biner.
3. Catat hasil tingkat keluaran dalam tabel kebenaran.
4. Periksa apakah sesuai dengan valensi biner.
5. Definisikan dari pengalih bilangan biner ke bilangan desimal.

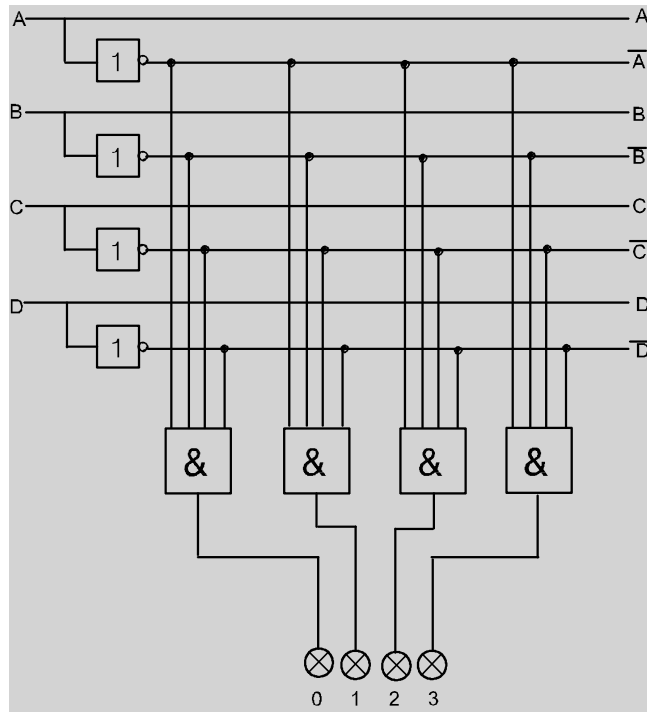
Cara Kerja / Petunjuk

Konstruksi IC 74 04 dan IC 74 21






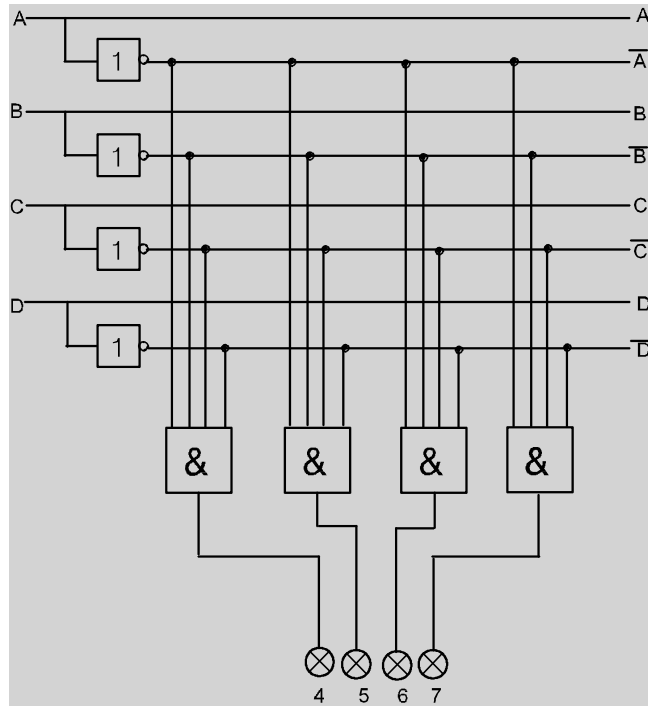
Rangkaian Pengalih bilangan biner ke bilangan desimal (0-3)



Gambar 1.

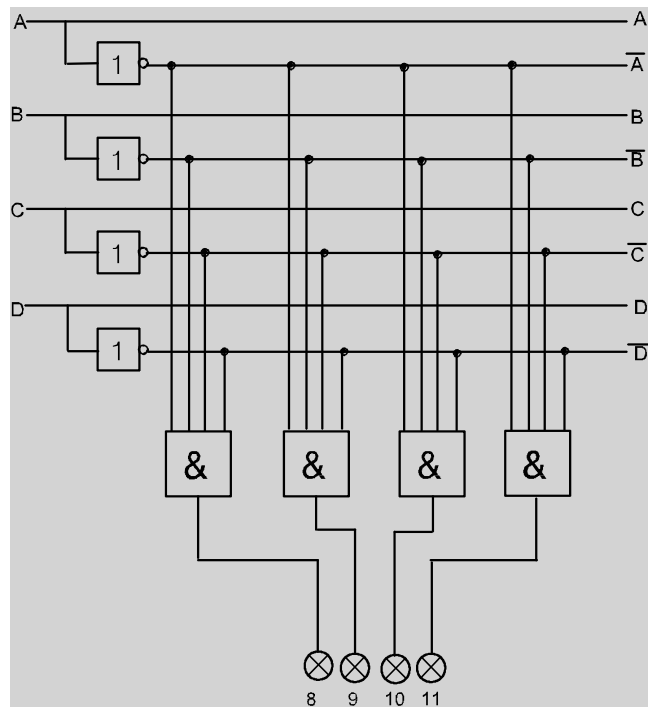


Rangkaian Pengalih bilangan biner ke bilangan desimal (4-7)




Gambar 2.

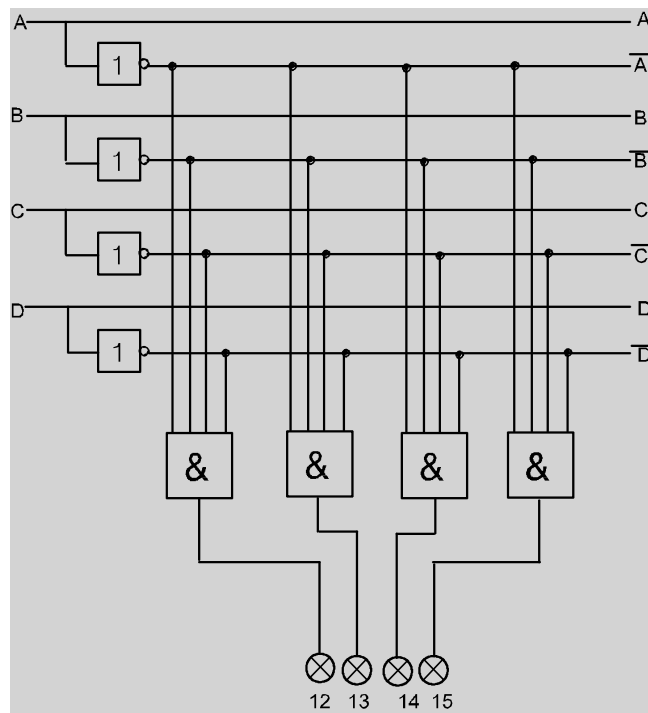
Rangkaian Pengalih bilangan biner ke bilangan desimal (8-11)



Gambar 3.



Rangkaian Pengalih bilangan biner ke bilangan desimal (12-15)




Gambar 4.

Untuk Langkah 3

Tabel Kebenaran

BINER				RANGKAIAN	DESIMAL
D	C	B	A		
0	0	0	1	1	
0	0	0	0		
0	0	1	1		
0	0	1	0		
0	1	0	0	2	
0	1	0	1		
0	1	1	0		



0	1	1	1		
1	0	0	0	3	
1	0	0	1		
1	0	1	0		
1	0	1	1		
1	1	0	0	4	
1	1	0	1		
1	1	1	0		
1	1	1	1		


Untuk Langkah 4

1. Berapa hasil, yang harus diperhitungkan
2. Alihkan bilangan biner ini ke bilangan desimal.
 - a. 0001 =
 - b. 0101 =
 - c. 1001 =
 - d. 1010 =
 - e. 1111 =

Untuk Langkah 5

Pengalih bilangan biner ke bilangan desimal dapat dibangun dengan gerbang

.....



Hukum dari pengalihan.

a. Untuk A.....

.....

b. Untuk B


.....

c. Untuk C

.....

d. Untuk D

.....



Jawaban

Untuk Langkah 3


Tabel Kebenaran untuk pengalih bilangan biner ke bilangan desimal.

BINER				RANGKAIAN	DESIMAL
D	C	B	A		
0	0	0	1	1	0
0	0	0	0		1
0	0	1	1		2
0	0	1	0		3
0	1	0	0	2	4
0	1	0	1		5
0	1	1	0		6
0	1	1	1		7
1	0	0	0	3	8
1	0	0	1		9
1	0	1	0		10
1	0	1	1		11
1	1	0	0	4	12
1	1	0	1		13
1	1	1	0		14
1	1	1	1		15

Untuk Langkah 4

1. Berapa hasil, yang harus diperhitungkan

$$X = D + C + B + A.$$



2. Alihkan bilangan biner ini ke bilangan desimal.

a. $0001 = 0 + 0 + 0 + 1 = 1$

b. $0101 = 0 + 4 + 0 + 1 = 5$

c. $1001 = 8 + 0 + 0 + 1 = 9$

d. $1010 = 8 + 0 + 2 + 0 = 10$

e. $1111 = 8 + 4 + 2 + 1 = 15$

Untuk Langkah 5

Pengalih bilangan biner ke bilangan desimal dapat dibangun dengan gerbang

AND atau NAND

Hukum dari pengalihan.

a. Untuk A.

A mempunyai nilai $2^0 = 1$.

Yang mana A = 1, bagi / untuk bilangan desimal ganjil.

b. Untuk B.

B mempunyai nilai $2^1 = 2$.


Yang mana B = 1, bagi / untuk bilangan desimal yang nilainya a :

2, 3, 6, 7, 10, 11, 14, 15.

c. Untuk C.

C mempunyai nilai $2^2 = 4$.

Yang mana C = 1, bagi / untuk bilangan desimal yang



nilainya :


4, 5, 6, 7, 12, 14, 15.

d. Untuk D.

D mempunyai nilai $2^3 = 8$.

Yang mana D = 1, bagi / untuk bilangan desimal yang nilainya :

8., 9, 10, 11, 12, 13, 14, 15.



ALJABAR BOOLEAN

3.1 Tujuan Pembelajaran

Peserta diklat / siswa dapat:

- Menjelaskan konsep dasar aljabar Boolean pada gerbang logika digital.
- Mentabulasikan macam macam Karnaugh *map* untuk mendapatkan persamaan rangkaian digital

3.2 Uraian Materi

1. Aljabar Boole

Untuk menyelesaikan disain rangkaian digital tentunya dibutuhkan rangkaian yang benar, efektif, sederhana, hemat komponen serta ekivalen gerbang dasar bila terjadi keterbatasan komponen yang tersedia. Untuk itu diperlukan penyelesaian secara matematis guna mencapai tujuan-tujuan tersebut di atas. Aljabar boole adalah cara meyelesaikan permasalahan dengan penyederhanaan melalui beberapa persamaan sebagai berikut :

Postulate 2 $x + 0 = x$

$$x \cdot 1 = x$$

Postulate 5 $x + x' = 1$

$$x \cdot x' = 0$$

Theorems 1 $x + x = x$

$$x \cdot x = x$$

Theorems 2 $x + 1 = 1$


$$x \cdot 0 = 0$$

Theorems 3, involution $(x')' = x$

Postulate 3 Commutative $x+y = y+x$

$$x \cdot y = x \cdot y$$

Theorems 4 Associative $x+(y+z)=(x+y)+z$



$$x(yz) = (xy)z$$

Postulate 4 Distributive $x(y+z) = xy + xz$

$$x+yz = (x+y)(x+z)$$

Theorems 5 De Morgan $(x+y)' = x'y'$

$$(x.y)' = x'+y'$$

Theorems 6 Absorption $x+xy = x$

$$x(x+y) = x$$

2. Karnaugh Map

Karnaugh *map* adalah metode untuk mendapatkan persamaan rangkaian digital dari tabel kebenarannya. Aplikasi dari Karnaugh map adalah dengan cara memasukkan data keluaran dari tabel kebenaran ke dalam tabel karnaugh map. Dengan menggunakan metode *Sum of Product*, maka keluaran yang berlogik “1” dan berdekatan atau berderet ditandai dengan tanda hubung. Kemudian tuliskan persamaannya dengan metode SOP.

Karnaugh map dua masukan satu keluaran

Tabel sebuah rangkaian yang memiliki dua masukan A,B dan satu keluaran Q :

Tabel 1 Tabel kebenaran 2 masukan 1 keluaran


A	B	Q
0	0	A0
0	1	A1
1	0	A2
1	1	A3

Karnaugh map

		A	
		0	1
B	0	A0	A2
	1	A1	A3

Contoh soal 1:

Dengan menggunakan Karnaugh map, tentukan persamaan dari data keluaran yang ada pada tabel kebenaran berikut :



Tabel 2 Tabel kebenaran contoh 1

A	B	Q
0	0	0
0	1	0
1	0	0
1	1	1

Karnaugh Map

B \ A	0	1
0	0	0
1	0	1

Maka persamaan rangkaian tersebut adalah : $Q = A.B$

Contoh soal 2 : Dengan menggunakan Karnaugh map, tentukan persamaan dari data keluaran yang ada pada tabel kebenaran berikut :

Tabel 3 Tabel kebenaran contoh 2

A	B	Q
0	0	0
0	1	1
1	0	1
1	1	0

Karnaugh map

B \ A	0	1
0	0	1
1	1	0

Maka persamaan rangkaian tersebut adalah : $Q = \bar{A}B + A\bar{B} = A \oplus B$

Bentuk-bentuk lain penyelesaian Karnaugh map adalah sebagai berikut:

Tabel 4 Tabel kebenaran contoh 3


A	B	Q
0	0	0
0	1	1
1	0	0
1	1	1

Karnaugh map

B \ A	0	1
0	0	0
1	1	1

Persamaan $Q = B$

Contoh lain : bila diketahui data-data seperti pada tabel 3.28, tuliskan persamaan rangkaian tersebut.



Tabel 5 Tabel kebenaran contoh 4

A	B	Q
0	0	0
0	1	0
1	0	0
1	1	1

Karnaugh map

A \ B	0	1
0	0	1
1	0	1

Persamaan adalah $Q = A$

Karnaugh map tiga masukan satu keluaran

Karnaugh map ada yang memiliki tiga buah masukan A,B,C dan sebuah keluaran Q seperti pada tabel 6.


Tabel 6 Tabel Karnaugh Map 3 masukan 1 keluaran

A	B	C	Q
0	0	0	1
0	0	1	0
0	1	0	1
0	1	1	0
1	0	0	0
1	0	1	1
1	1	0	0
1	1	1	1

Karnaugh Map

AB \ C	00	01	11	10
0	1	1	0	0
1	0	0	0	1

Contoh 5: Dengan menggunakan Karnaugh map, tentukan persamaan dari data keluaran yang ada pada tabel kebenaran berikut :



Tabel 7 Tabel kebenaran contoh 5

A	B	C	Q
0	0	0	1
0	0	1	1
0	1	0	1
0	1	1	1
1	0	0	0
1	0	1	0
1	1	0	0
1	1	1	0

Karnaugh Map

AB \ C	00	01	11	10
0	1	1	0	0
1	1	1	0	0

Persamaan rangkaian adalah $Q = \bar{A}\bar{C} + \bar{A}BC$

Bentuk-bentuk karnaugh map yang lain untuk 3 masukan 1 keluaran:


Tabel 8 Tabel kebenaran contoh 5

A	B	C	Q
0	0	0	1
0	0	1	1
0	1	0	1
0	1	1	1
1	0	0	0
1	0	1	0
1	1	0	0
1	1	1	0

Karnaugh Map

AB \ C	00	01	11	10
0	1	1	0	0
1	1	1	0	0

Persamaan rangkaian adalah $Q = \bar{A}$



Contoh 6.

Diketahui tabel kebenaran di bawah, cari persamaan rangkaian.

Tabel 9 Tabel kebenaran contoh 6

A	B	C	Q
0	0	0	0
0	0	1	0
0	1	0	1
0	1	1	1
1	0	0	0
1	0	1	0
1	1	0	1
1	1	1	1

Karnaugh map

AB \ C	00	01	11	10
0	0	1	1	0
1	0	1	1	0

Persamaan rangkaian adalah $Q = B$

Contoh 7.

Diketahui tabel kebenaran di bawah, cari persamaan rangkaian.


Tabel 10 Tabel kebenaran contoh 7

A	B	C	Q
0	0	0	1
0	0	1	1
0	1	0	0
0	1	1	0
1	0	0	1
1	0	1	1
1	1	0	0
1	1	1	0

Karnaugh map

AB \ C	00	01	11	10
0	1	0	0	1
1	1	0	0	1

Persamaan rangkaian adalah $Q = \bar{B}$



Contoh 8.

Diketahui tabel kebenaran di bawah, cari persamaan rangkaian.

Tabel 11 Tabel kebenaran contoh 8

A	B	C	Q
0	0	0	1
0	0	1	0
0	1	0	0
0	1	1	0
1	0	0	1
1	0	1	0
1	1	0	0
1	1	1	0


Karnaugh map

AB \ C	00	01	11	10
0	1	0	0	1
1	0	0	0	0

Persamaan rangkaian adalah $Q = \bar{B} \cdot \bar{C}$

Karnaugh Map Empat Masukan A,B,C,D dan Satu Keluaran Q

Tabel 12 Tabel kebenaran 4 masukan 1 keluaran



A	B	C	D	Q
0	0	0	0	A0
0	0	0	1	A1
0	0	1	0	A2
0	0	1	1	A3
0	1	0	0	A4
0	1	0	1	A5
0	1	1	0	A6
0	1	1	1	A7
1	0	0	0	A8
1	0	0	1	A9
1	0	1	0	A10
1	0	1	1	A11
1	1	0	0	A12
1	1	0	1	A13
1	1	1	0	A14
1	1	1	1	A15

Karnaugh *map* yang memiliki empat buah masukan dan satu buah keluaran adalah seperti pada tabel 12 di atas.


Karnaugh Map

AB \ CD	00	01	11	10
00	A0	A4	A12	A8
01	A1	A5	A13	A9
11	A3	A7	A15	A11
10	A2	A6	A14	A10

Aplikasi dari model Karnaugh map 4 masukan 1 keluaran adalah sebagai berikut :

Contoh 9.

Diketahui tabel kebenaran di bawah, cari persamaan rangkaian.



Tabel 13 Tabel kebenaran 4 masukan 1 keluaran contoh 9

A	B	C	D	Q
0	0	0	0	1
0	0	0	1	0
0	0	1	0	0
0	0	1	1	1
0	1	0	0	0
0	1	0	1	1
0	1	1	0	1
0	1	1	1	0
1	0	0	0	1
1	0	0	1	0
1	0	1	0	0
1	0	1	1	1
1	1	0	0	0
1	1	0	1	1
1	1	1	0	1
1	1	1	1	0

Karnaugh Map

AB \ CD	00	01	11	10
00	1	0	0	1
01	0	1	1	0
11	0	1	1	0
10	1	0	0	1

Persamaan adalah : $Q = \bar{B}\bar{D} + BD$

Karnaugh Map Lima Masukan A,B,C,D,E dan Satu Keluaran Q


Karnaugh map yang memiliki lima buah masukan dan satu buah keluaran adalah seperti pada Tabel 14, table ini merupakan Tabel Kebenaran 5 masukan 1.

Karnaugh map harus dipecah menjadi dua bagian, yaitu untuk kondisi masukan A=0 dan A=1. Sehingga Karnaugh map-nya sebagaai berikut:

Aplikasi dari model Karnaugh map 5 masukan 1 keluaran adalah sebagai berikut :

Contoh10.

Diketahui tabel kebenaran (Tabel 14), cari persamaan rangkaian.



Tabel 15 Tabel kebenaran 5 masukan 1


A	B	C	D	E	Q
0	0	0	0	0	A0
0	0	0	0	1	A1
0	0	0	1	0	A2
0	0	0	1	1	A3
0	0	1	0	0	A4
0	0	1	0	1	A5
0	0	1	1	0	A6
0	0	1	1	1	A7
0	1	0	0	0	A8
0	1	0	0	1	A9
0	1	0	1	0	A10
0	1	0	1	1	A11
0	1	1	0	0	A12
0	1	1	0	1	A13
0	1	1	1	0	A14
0	1	1	1	1	A15
1	0	0	0	0	A16
1	0	0	0	1	A17
1	0	0	1	0	A18
1	0	0	1	1	A19
1	0	1	0	0	A20
1	0	1	0	1	A21
1	0	1	1	0	A22
1	0	1	1	1	A23
1	1	0	0	0	A24
1	1	0	0	1	A25
1	1	0	1	0	A26
1	1	0	1	1	A27
1	1	1	0	0	A28
1	1	1	0	1	A29
1	1	1	1	0	A30
1	1	1	1	1	A31


Untuk A=0

BC \ DE	00	01	11	10
00	A0	A4	A12	A8
01	A1	A5	A13	A9
11	A3	A7	A15	A11
10	A2	A6	A14	A10

Untuk A=1

BC \ DE	00	01	11	10
00	A16	A20	A28	A24
01	A17	A21	A29	A25
11	A19	A23	A31	A27
10	A18	A22	A30	A26





Tabel 16 Tabel kebenaran contoh 10

A	B	C	D	E	Q
0	0	0	0	0	0
0	0	0	0	1	1
0	0	0	1	0	1
0	0	0	1	1	0
0	0	1	0	0	0
0	0	1	0	1	0
0	0	1	1	0	0
0	0	1	1	1	0
0	1	0	0	0	1
0	1	0	0	1	1
0	1	0	1	0	1
0	1	0	1	1	1
0	1	1	0	0	1
0	1	1	0	1	1
0	1	1	1	1	1
1	0	0	0	0	0
1	0	0	0	1	1
1	0	0	1	0	1
1	0	0	1	1	0
1	0	1	0	0	0
1	0	1	0	1	1
1	0	1	1	0	1
1	0	1	1	1	0
1	1	0	0	0	0
1	1	0	0	1	1
1	1	0	1	0	1
1	1	0	1	1	0
1	1	1	0	0	0
1	1	1	0	1	1
1	1	1	1	0	1

Untuk A=0

BC \ DE	00	01	11	10
00	0	0	1	1
01	1	0	1	1
11	1	0	1	1
10	0	0	1	1

Persamaan rangkaian :


$$Q_1 = \bar{C}.E + B$$

Untuk A=1

BC \ DE	00	01	11	10
00	0	0	0	0
01	1	1	1	1
11	1	1	1	1
10	0	0	0	0


Persamaan rangkaian $Q_2 = E$

Maka persamaan total $= \bar{C}.E + B + E$



3.3 Rangkuman

1. Konsep dasar aljabar Boolean pada gerbang logika digital.
Untuk menyelesaikan disain rangkaian digital tentunya dibutuhkan rangkaian yang benar, efektif, sederhana, hemat komponen serta ekivalen gerbang dasar bila terjadi keterbatasan komponen yang tersedia. Untuk itu diperlukan penyelesaian secara matematis guna mencapai tujuan-tujuan tersebut di atas. Aljabar boole adalah cara meyelesaikan permasalahan dengan penyederhanaan melalui beberapa persamaan
2. Mentabulasikan macam macam Karnaugh *map* untuk mendapatkan persamaan rangkaian digital abulasikan macam macam Karnaugh *map* untuk mendapatkan persamaan rangkaian digital
Aplikasi dari Karnaugh map adalah dengan cara memasukkan data keluaran dari tabel kebenaran ke dalam tabel karnaugh map. Dengan menggunakan metode *Sume of Product*, maka keluaran yang berlogik "1" dan berdekatan atau berderet ditandai dengantanda hubung. Kemudian tuliskan persamaannya dengan metode SOP.



GERBANG DASAR

4.1 Tujuan Pembelajaran

Peserta diklat / siswa dapat :

- Memahami konsep dasar rangkaian logika digital.
- Memahami prinsip dasar gerbang logika AND, OR, NOT, NAND, NOR.
- Memahami prinsip dasar gerbang logika eksklusif OR dan NOR.

4.2 Uraian Materi

1. Konsep dasar rangkaian logika digital.

Besaran digital adalah besaran yang terdiri dari besaran level tegangan High dan Low, atau dinyatakan dengan logika "1" dan "0". Level high adalah identik dengan tegangan "5 Volt" atau logika "1", sedang level low identik dengan tegangan "0 Volt" atau logika "0". Untuk sistem digital yang menggunakan C-MOS level yang digunakan adalah level tegangan "15 Volt" dan "0 Volt"

Sebagai gambaran perbedaan besaran digital dan analog adalah seperti penunjukan alat ukur. Alat ukur analog akan menunjukkan besaran analog, sedangkan alat ukur digital akan menunjukkan display angka yang disusun secara digital (7-segment).

Pada Gambar 1 diperlihatkan alat ukur analog (gambar c) dan alat ukur digital pada gambar d.

Gambar 1a dan b memperlihatkan besaran digital yang hanya ada harga 0 dan 5V untuk di peralatan yang menggunakan TTL serta 0 dan 15V untuk di peralatan yang menggunakan C-MOS


Pengukuran dengan menggunakan osiloskop (CRO=Chathode x-Ray Oscilloscope) pada Gambar 1e memperlihatkan besaran analog dan pada Gambar 1d memperlihatkan besaran digital.



a. Besaran Digital TTL



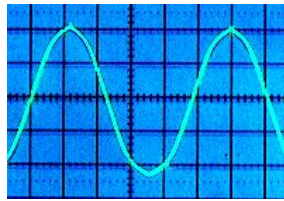
b. Besaran Digital C-MOS



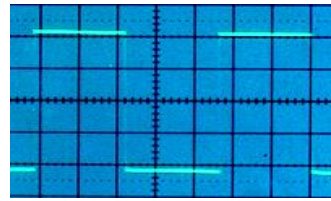
c Besaran Analog



d Besaran Digital



e Tegangan Analog



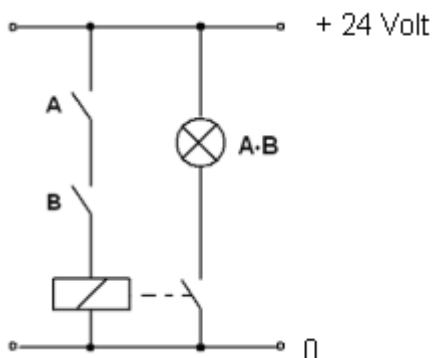
f Tegangan digital

Gambar 1 Besaran Analog dan Digital

2. Prinsip dasar gerbang logika AND, OR, NOT, NAND, NOR.


Gerbang AND

Gerbang dasar AND adalah ekuivalen dengan dua buah saklar terbuka yang terpasang seri seperti terlihat pada gambar 2 di bawah.



Gambar 2 Rangkaian listrik ekuivalen AND

Rangkaian yang terdiri dari dua buah saklar A dan B, sebuah relay dan sebuah lampu. Lampu hanya akan menyala bila saklar A dan B dihubungkan (on). Sebaliknya lampu akan mati bila salah satu

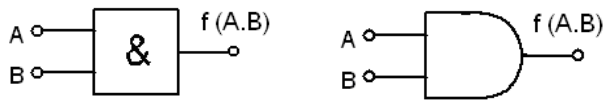


saklar atau semua saklar diputus (off). Sehingga bisa dirumuskan hanya akan terjadi keluaran “1” bila A=”1” dan B=”1”.

Rangkaian listrik :

Simbol standar IEC

standar USA



Gambar 3 Simbol gerbang AND

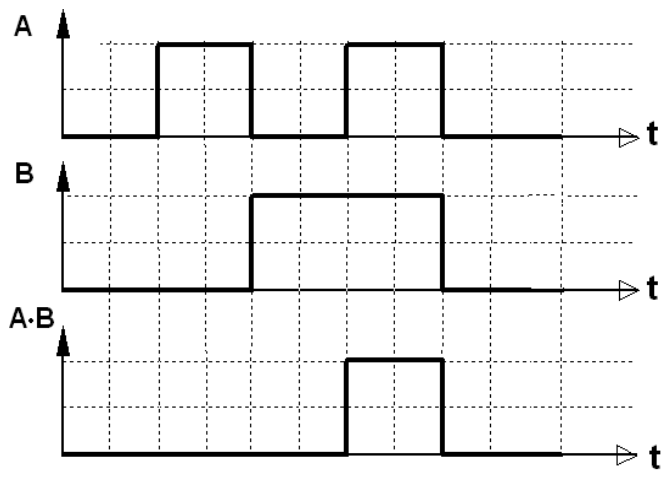
Fungsi persamaan dari gerbang AND

$$f(A,B) = A \bullet B \quad (1)$$


Tabel 1 Tabel kebenaran AND

B	A	Q=f(A,B)
0	0	0
0	1	0
1	0	0
1	1	1

Diagram masukan-keluaran dari gerbang AND terlihat bahwa pada keluaran akan memiliki logik high “1” bila semua masukan A dan B berlogik “1”

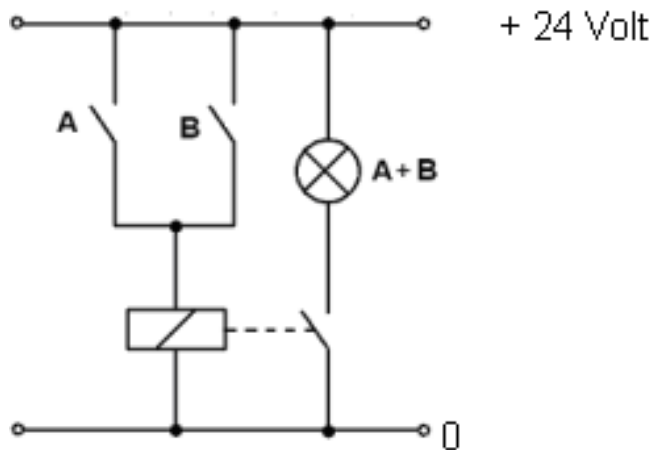


Gambar 4 Diagram masukan-keluaran gerbang AND

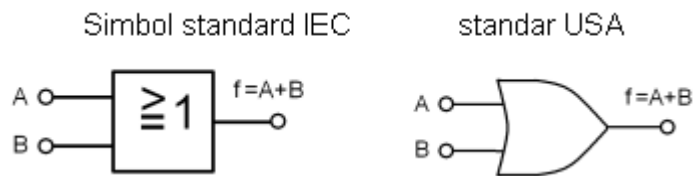


Gerbang OR

Gerbang dasar OR adalah ekivalen dengan dua buah saklar terbuka yang terpasang parallel / jajar seperti terlihat pada gambar 3.5 di bawah. Rangkaian terdiri dari dua buah saklar yang terpasang secara parallel, sebuah relay dan lampu. Lampu akan menyala bila salah satu atau ke dua saklar A dan B dihubungkan (on). Sebaliknya lampu hanya akan padam bila semua saklar A dan B diputus (off). Maka bisa dirumuskan bahwa akan terjadi keluaran “1” bila salah satu saklar A=“1” atau B=“1”, dan akan terjadi keluaran “0” hanya bila saklar Rangkaian listrik : A=“1” dan B=“1”.



Gambar 5 Rangkaian listrik ekivalen gerbang OR




Gambar 6 simbol gerbang OR

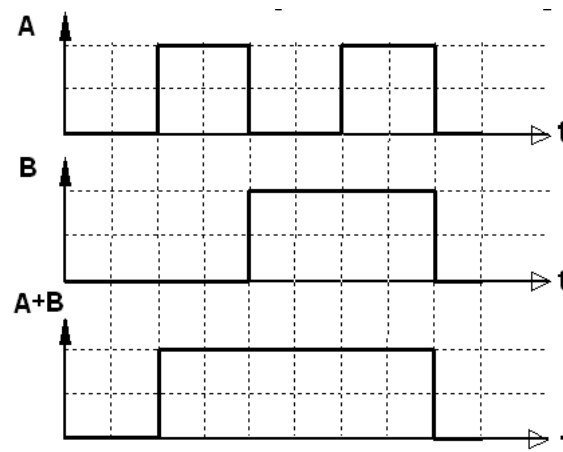
Fungsi dari gerbang OR adalah :

$$f(A,B) = A + B \tag{2}$$

Tabel 2 Tabel kebenaran OR



B	A	Q=f(A,B)
0	0	0
0	1	1
1	0	1
1	1	1

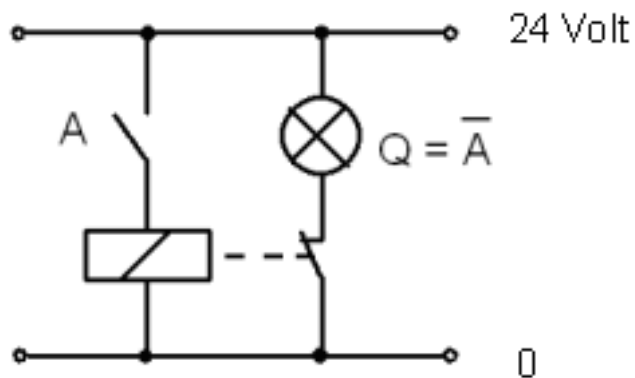



Gambar 7 Diagram masukan-keluaran gerbang OR

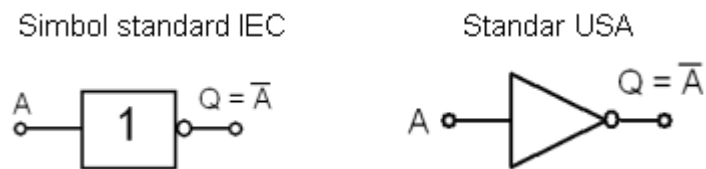
Diagram masukan-keluaran diperlihatkan seperti gambar di bawah. Pada keluaran A+B hanya akan memiliki logik low "0" bila semua masukan - masukannya A dan B memiliki logik "0"

Gerbang NOT

Gerbang dasar NOT adalah rangkaian pembalik / inverter. Rangkaian ekivalennya adalah sebuah rangkaian listrik seperti gambar 8 di bawah. Bila saklar A dihubungkan (on), maka lampu akan mati. Sebaliknya bila saklar A diputus (off), maka lampu akan menyala. Sehingga bisa disimpulkan bahwa akan terjadi keluaran $Q="1"$ hanya bila masukan $A="0"$. Rangkaian listrik :



Gambar 8 Rangkaian listrik ekivalen gerbang NOT



Gambar 9 Gambar symbol gerbang NOT

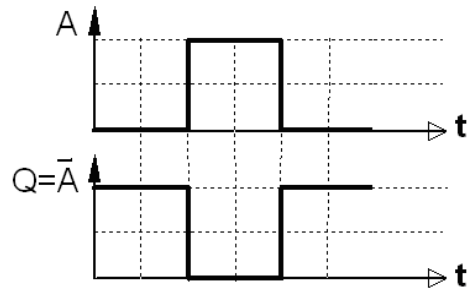

Fungsi persamaan dari gerbang NOT adalah:

$$f(A) = \bar{A} \quad (3)$$

Tabel 3 Tabel kebenaran NOT

A	Q=A ⁻
0	1
1	0

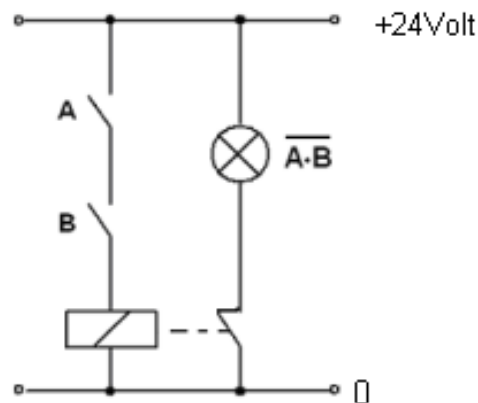
Diagram masukan-keluaran dari gerbang NOT seperti ditunjukkan pada gambar 9 di bawah. Keluaran akan selalu memiliki kondisi logik yang berlawanan terhadap masukannya.



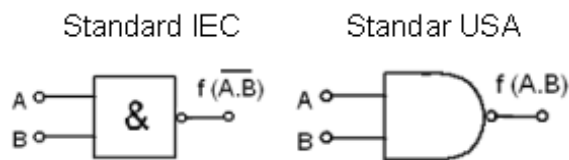
Gambar 9 Diagram masukan-keluaran gerbang NOT

Gerbang NAND

Gerbang dasar NAND adalah ekuivalen dengan dua buah saklar terbuka yang terpasang seri. Akan terjadi keluaran Q="1" hanya bila A="0" dan B="0". Gerbang NAND sama dengan gerbang AND dipasang seri dengan gerbang NOT. Rangkaian listrik :



Gambar 10 Rangkaian listrik ekuivalen gerbang NAND




Gambar 11 Gambar symbol gerbang NAND

Fungsi persamaan gerbang NAND

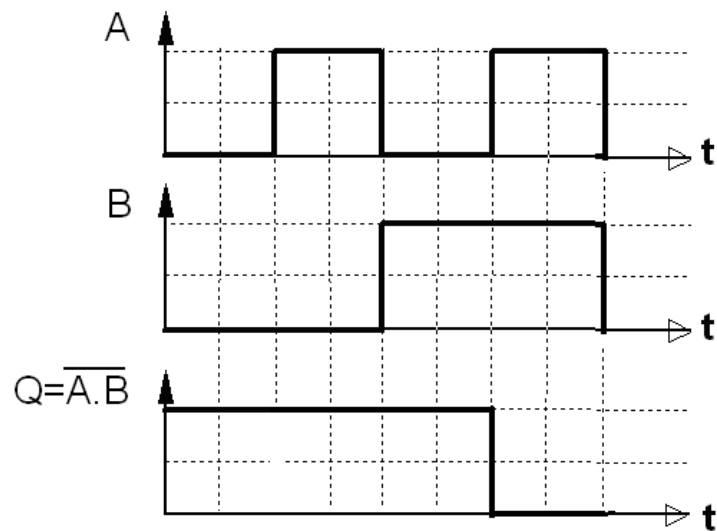
$$f(A,B) = \overline{A \cdot B} \quad (4)$$

Tabel 4 Tabel kebenaran NAND




B	A	$Q=f(A,B)$
0	0	1
0	1	1
1	0	1
1	1	0

Diagram masukan-keluaran dari gerbang NAND, keluaran memiliki logik "0" hanya bila ke dua masukannya berlogik "1"

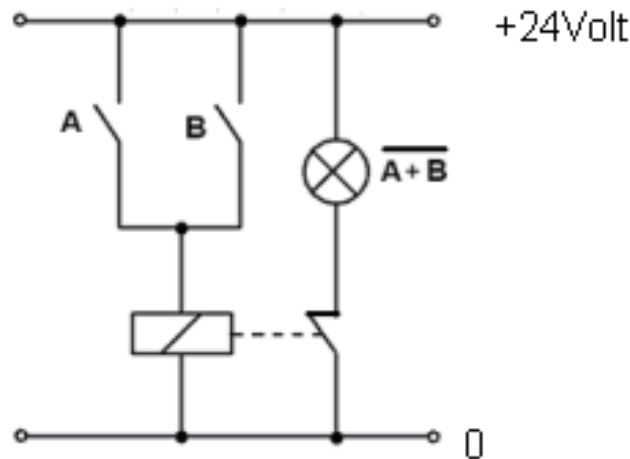


Gambar 12 Diagram masukan-keluaran gerbang NAND



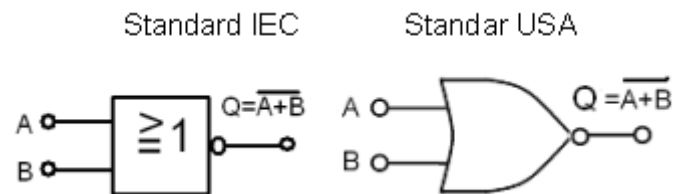
Gerbang NOR

Gerbang dasar NOR adalah ekivalen dengan dua buah saklar terbuka yang terpasang parallel / jajar.



Gambar 13 Rangkaian listrik ekivalen gerbang NOR

Akan terjadi keluaran “1” bila semua saklar A=”0” atau B=”0”. Gerbang NOR sama dengan gerbang OR dipasang seri dengan gerbang NOT.



Gambar 14 Gerbang NOR

Fungsi persamaan gerbang NOR

$$f(A,B) = \overline{A+B} \quad (5)$$

Tabel 5 Tabel kebenaran NOR

B	A	Q=f(A.B)
0	0	1
0	1	0
1	0	0
1	1	0


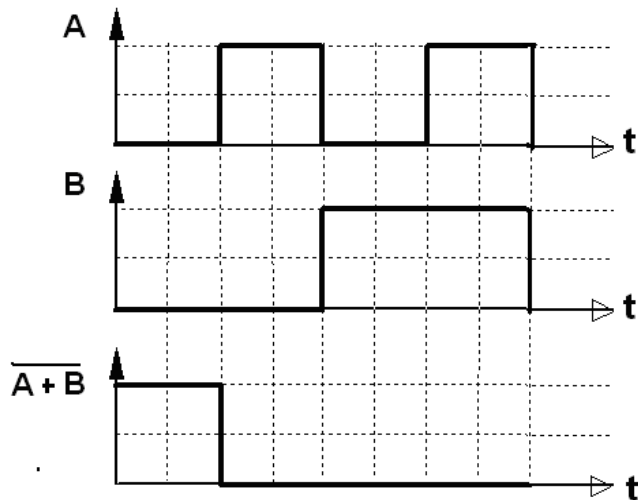


Diagram masukan-keluaran seperti terlihat pada gambar di bawah. Keluaran hanya akan memiliki logik '1', bila semua masukannya berlogik "0"

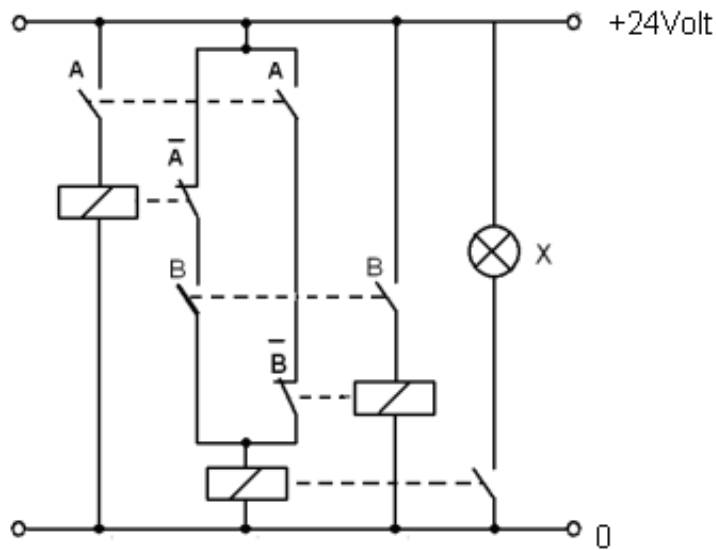



Gambar 15 Diagram masukan-keluaran gerbang NOR

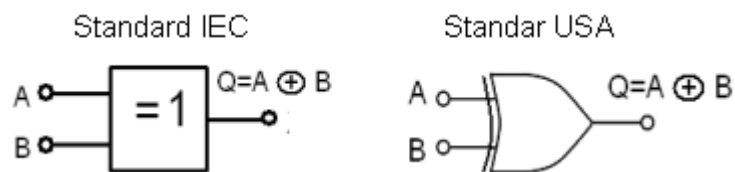
3. Prinsip dasar gerbang logika eksklusif OR dan NOR.

Exclusive OR (EX-OR)

Gerbang EX-OR sering ditulis dengan X-OR adalah gerbang yang paling sering dipergunakan dalam teknik komputer. Gerbang EX-OR hanya akan memiliki keluaran $Q=1$ bila masukan-masukan A dan B memiliki kondisi berbeda. Pada gambar 16 yang merupakan gambar rangkaian listrik ekuivalen EX-OR diperlihatkan bahwa bila saklar A dan B masing-masing diputus (off), maka lampu akan mati. Bila saklar A dan B masing-masing dihubungkan (on), maka lampu juga mati. Bila saklar A dihubungkan (on) sedangkan saklar B diputus (off), maka lampu akan menyala. Demikian pula sebaliknya bila saklar A diputus (off) dan saklar B dihubungkan (on) maka lampu akan menyala. Sehingga bisa disimpulkan bahwa lampu akan menyala hanya bila kondisi saklar A dan B berlawanan. Tanda dalam pelunilsa EX-OR adalah dengan tanda \oplus .



Gambar 16 Rangkaian listrik ekivalen gerbang EX-OR



Gambar 17 Simbol gerbang EX-OR


Fungsi persamaan gerbang EX-OR

$$f(A,B) = \bar{A}B + A\bar{B} = A \oplus B \quad (6)$$

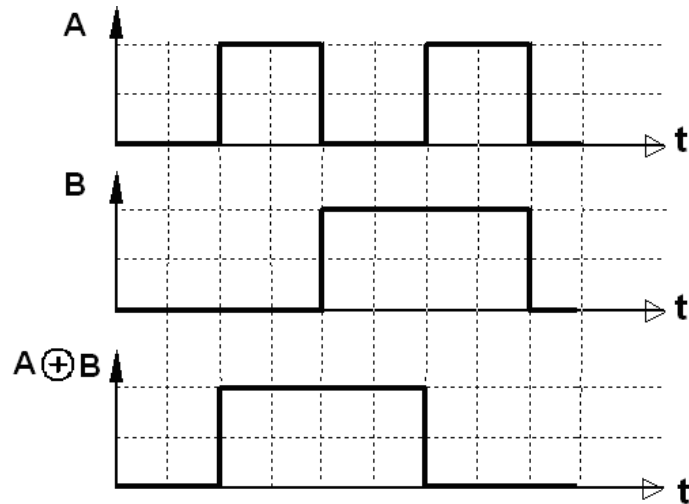
Tabel 6 Tabel kebenaran EX-OR

B	A	Q=f(A,B)
0	0	0
0	1	1
1	0	1
1	1	0

Diagram masukan keluaran dari gerbang EX-OR seperti terlihat pada gambar di bawah.



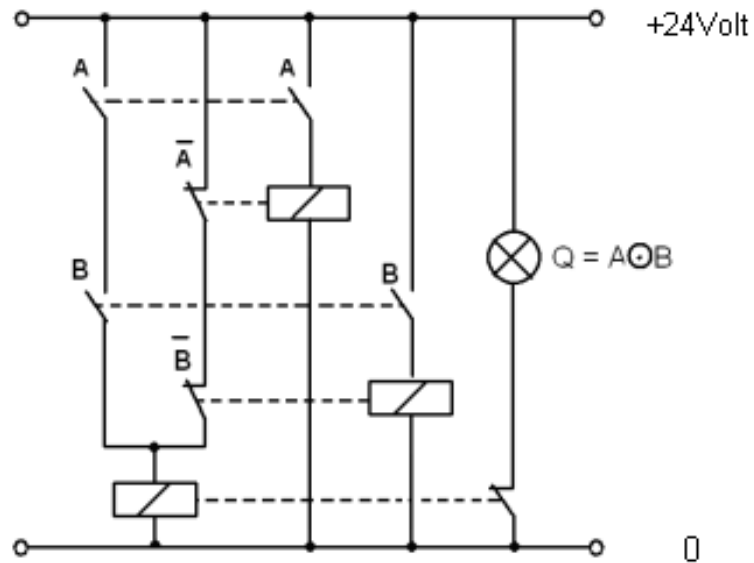

Keluaran hanya akan memiliki logik "1" bila masukan-masukannya memiliki kondisi logik berlawanan.



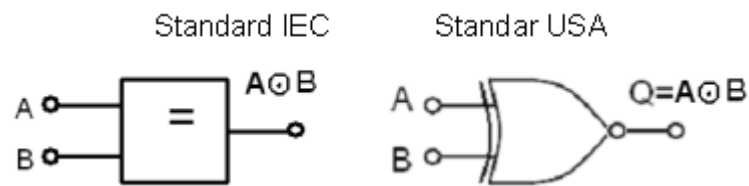
Gambar 18 Diagram masukan-keluaran gerbang EX-OR

Gerbang EX-NOR (Exclusive-NOR)

Pada gambar 19 adalah rangkaian listrik ekivalen dengan gerbang EX-NOR. Bila saklar A dan B masing-masing dihubungkan (on) atau diputus (off) maka lampu akan menyala. Namun bila saklar A dan B dalam kondisi yang berlawanan, maka lampu akan mati. Sehingga bisa disimpulkan bahwa gerbang EX-NOR hanya akan memiliki keluaran $Q=1$ bila masukan-masukan A dan B memiliki kondisi yang sama. Rangkaian listrik :



Gambar 20 Rangkaian listrik ekivalen gerbang EX-NOR



Gambar 21 Simbol gerbang EX-NOR


Fungsi persamaan gerbang EX-NOR

$$f(A,B) = AB + \overline{A}\overline{B} = A \oplus B \quad (7)$$

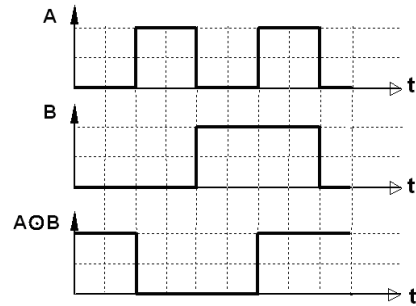
Tabel 3.23 Tabel kebenaran gerbang EX=NOR

B	A	Q=f(A,B)
0	0	1
0	1	0
1	0	0
1	1	1


Diagram masukan keluaran dari gerbang EX-NOR seperti terlihat pada gambar di bawah. Keluaran hanya akan memiliki logik "1" bila



masukan-masukannya memiliki kondisi logik sama, logik "0" maupun logik "1".



Gambar 22 Diagram masukan-keluaran gerbang EX-NOR



4.3 Rangkuman


1. Konsep dasar rangkaian logika digital.

Besaran digital adalah besaran yang terdiri dari besaran level tegangan High dan Low, atau dinyatakan dengan logika “1” dan “0”. Level high adalah identik dengan tegangan “5 Volt” atau logika “1”, sedang level low identik dengan tegangan “0 Volt” atau logika “0”. Untuk sistem digital yang menggunakan C-MOS level yang digunakan adalah level tegangan “15 Volt” dan “0 Volt”

2. Prinsip dasar gerbang logika AND, OR, NOT, NAND, NOR.

- Gerbang dasar AND adalah ekuivalen dengan dua buah saklar terbuka yang terpasang seri. Diagram masukan-keluaran dari gerbang AND terlihat bahwa pada keluaran akan memiliki logik high “1” bila semua masukan A dan B berlogik “1”.
- Gerbang dasar OR adalah ekuivalen dengan dua buah saklar terbuka yang terpasang parallel / jajar , bahwa akan terjadi keluaran “1” bila salah satu saklar $A=1$ atau $B=1$, dan akan terjadi keluaran “0” hanya bila saklar Rangkaian listrik : $A=1$ dan $B=1$.
- Gerbang dasar NOT adalah rangkaian pembalik / inverter , bahwa akan terjadi keluaran $Q=1$ hanya bila masukan $A=0$.
- Gerbang dasar NAND adalah ekuivalen dengan dua buah saklar terbuka yang terpasang seri. Akan terjadi keluaran $Q=1$ hanya bila $A=0$ dan $B=0$. Gerbang NAND sama dengan gerbang AND dipasang seri dengan gerbang NOT.
- Gerbang dasar NOR adalah ekuivalen dengan dua buah saklar terbuka yang terpasang parallel / jajar. Akan terjadi keluaran “1” bila semua saklar $A=0$ atau $B=0$. Gerbang NOR sama dengan gerbang OR dipasang seri dengan gerbang NOT.

3. Prinsip dasar gerbang logika eksklusif OR dan NOR.



- Gerbang EX-OR sering ditulis dengan X-OR adalah gerbang yang paling sering dipergunakan dalam teknik komputer. Gerbang EX-OR hanya akan memiliki keluaran $Q=1$ bila masukan-masukan A dan B memiliki kondisi berbeda.
- Pada gerbang EX-NOR bila saklar A dan B masing-masing dihubungkan (on) atau diputus (off) maka lampu akan menyala. Namun bila saklar A dan B dalam kondisi yang berlawanan, maka lampu akan mati. Sehingga bisa disimpulkan bahwa gerbang EX-NOR hanya akan memiliki keluaran $Q=1$ bila masukan-masukan A dan B memiliki kondisi yang sama.

4.4 TUGAS Kegiatan Belajar 3 - 1

Gerbang DAN (AND Gate)

Tujuan Instruksional Umum

Setelah pelajaran selesai, peserta harus dapat:

- ⇒ Memahami prinsip kerja gerbang DAN


Tujuan Instruksional Khusus

Peserta harus dapat:

- ⇒ Menerangkan prinsip kerja gerbang DAN sesuai dengan tabel kebenaran
- ⇒ Menggambarkan rangkaian persamaan gerbang DAN sesuai dengan standar IEC
- ⇒ Menuliskan persamaan Aljabar Boole gerbang DAN sesuai dengan tabel kebenaran
- ⇒ Menggambar pulsa keluaran gerbang DAN sesuai dengan tabel kebenaran.

Waktu

4 x 45 menit



Alat dan Bahan

Alat Alat:

- ⇒ Multimeter 1 buah
- ⇒ Catu daya 1 buah
- ⇒ Papan Percobaan 1 buah
- ⇒ Kabel penghubung secukupnya

Bahan:

- ⇒ IC 7408 1 buah
- ⇒ IC 7421 1 buah

Keselamatan Kerja


- ⇒ Hati-hatilah dengan arus dan tegangan 220 Volt
- ⇒ Hati-hati memasukkan sumber tegangan jangan sampai lebih dari 5 Volt DC.

Langkah Kerja

1. Persiapan alat dan bahan
2. Buat rangkaian seperti gambar 1.2
3. Laporkan pada Instruktur sebelum rangkaian dihubungkan ke sumber tegangan.
4. Hubungkan ke sumber tegangan 5 V DC
5. Lakukan percobaan sesuai tabel kebenaran dan perhatikan perubahan pada keluaran, kemudian catat pada tabel kebenaran
6. Gambarkan rangkaian persamaan logikanya dari gerbang AND
7. Serta tuliskan persamaan Aljabar Booleanya dari gerbang AND
8. Gambarkan Diagram Pulsa pada kurva diagram

Percobaan I (B) (Gerbang AND 3 masukan)

9. Ulangi langkah percobaan 2 - 8 untuk percobaan A dan percobaan B dengan menggunakan gambar 1.3



Percobaan I (C) (Gerbang AND 4 masukan)

10. Ulangi langkah percobaan 2 - 8 untuk percobaan A dan percobaan C dengan menggunakan gambar 1.4

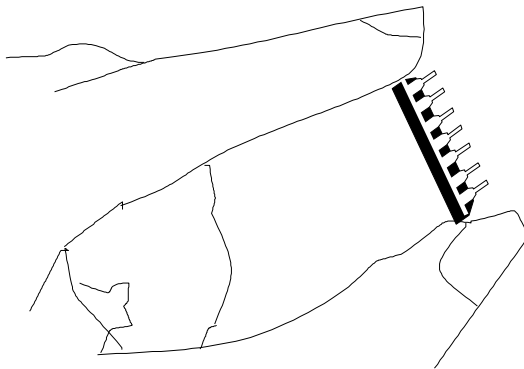
Percobaan II

(Gerbang AND dengan menggunakan IC 7421 (IC AND 4 masukan))

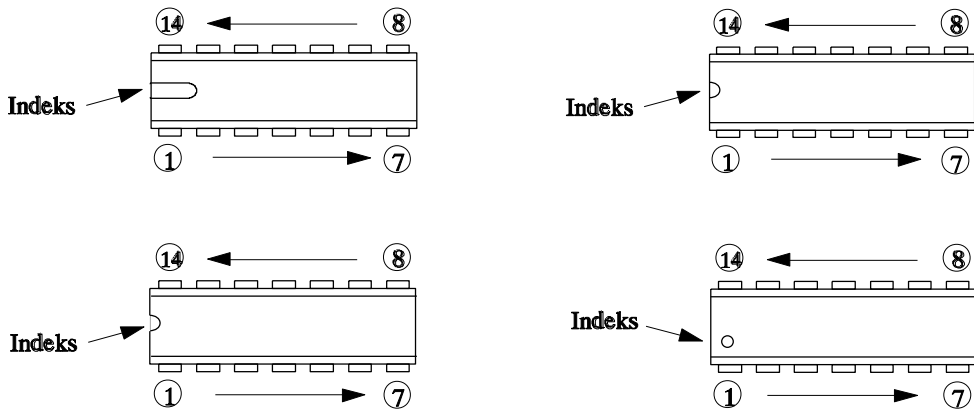

11. Ulangi langkah percobaan 2 - 8 untuk percobaan IA dan percobaan II, dengan menggunakan gambar 2-1 (IC 7421)

Cara Kerja / Petunjuk

1. Cara memegang IC yang benar diperlihatkan oleh gambar di bawah :



2. Perhatikan tanda pada gambar di bawah untuk menetapkan kaki IC secara tepat.



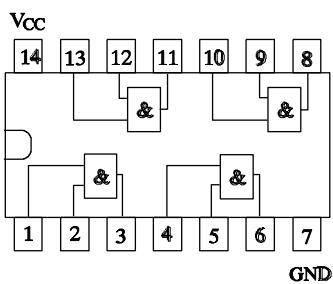
3. Jangan memasang/melepas IC secara paksa
4. Pasang IC dengan tepat, jangan terbalik
5. Simbol untuk gerbang AND (\wedge).

4.5 Tugas

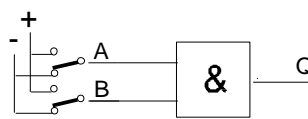
Gerbang DAN (IC-7408)

Gerbang DAN dengan 2 masukan (Percobaan IA)

Untuk langkah 1



Gambar 1



Gambar 2

Keterangan :

- A dan B = masukan
- Q = keluaran
- A.B dan Q = variabel
- 1 = + 5 Vdc
- 0 = -


Untuk langkah 5

Tabel kebenaran

MASUKA	KELUARAN
N	

Untuk langkah 7

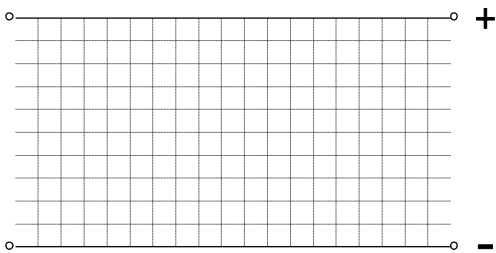
Persamaan aljabar Boole



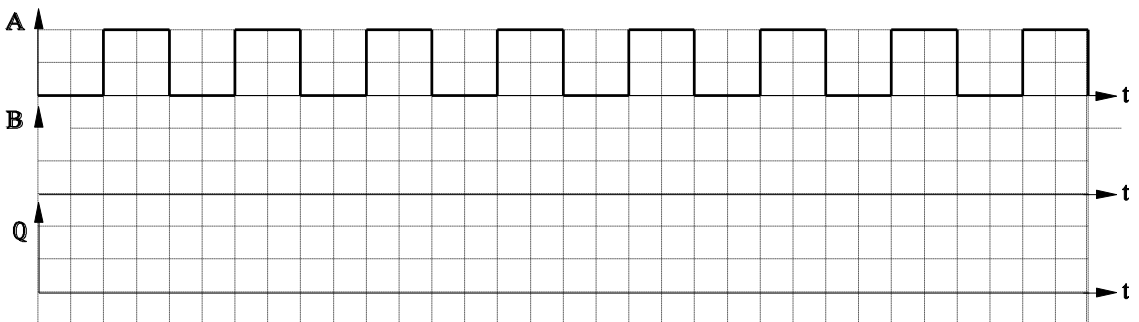
B	A	Q
0	0	
0	1	
1	0	
1	1	

Q =

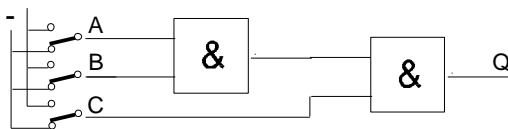
Untuk langkah 6
Rangkaian persamaan




Untuk langkah 8
Diagram Pulsa :



Gerbang DAN dengan 3 masukan. (Percobaan 1B)



Gambar 3



Untuk langkah 5

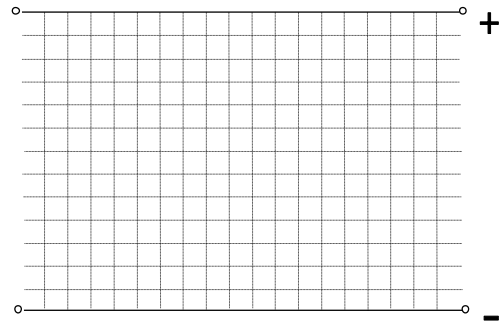
Tabel kebenaran :

Persamaan :

MASUKAN			KELUARAN
C	B	A	Q
0	0	0	
0	0	1	
0	1	0	
0	1	1	
1	0	0	
1	0	1	
1	1	0	
1	1	1	

Untuk langkah 6

Rangkaian

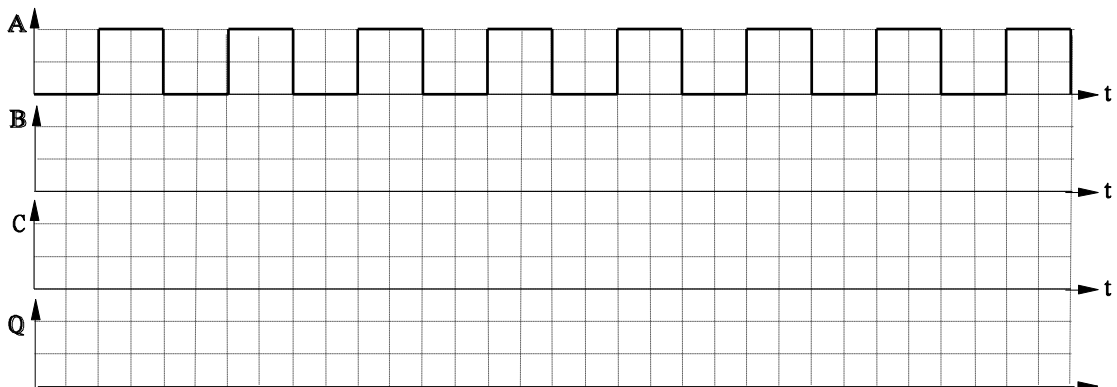



Untuk langkah 7

$Q =$

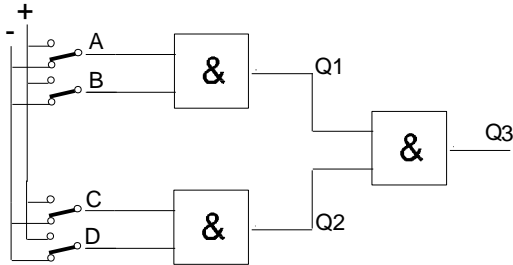
Untuk langkah 8

Diagram Pulsa





Gerbang DAN dengan 4 masukan (IC 7408) (Percobaan 1C)

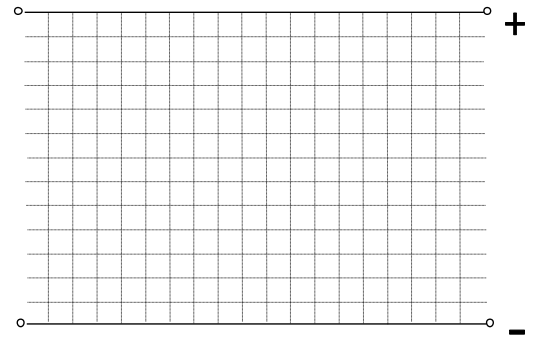


Gambar 4

Untuk langkah 6
Tabel Kebenaran


Untuk langkah 7
Rangkaian Persamaan :

MASUKAN				KELUARAN		
D	C	B	A	Q1	Q2	Q3
0	0	0	0			
0	0	0	1			
0	0	1	0			
0	0	1	1			
0	1	0	0			
0	1	0	1			
0	1	1	0			
0	1	1	1			
1	0	0	0			
1	0	0	1			
1	0	1	0			
1	0	1	1			
1	1	0	0			
1	1	0	1			
1	1	1	0			
1	1	1	1			

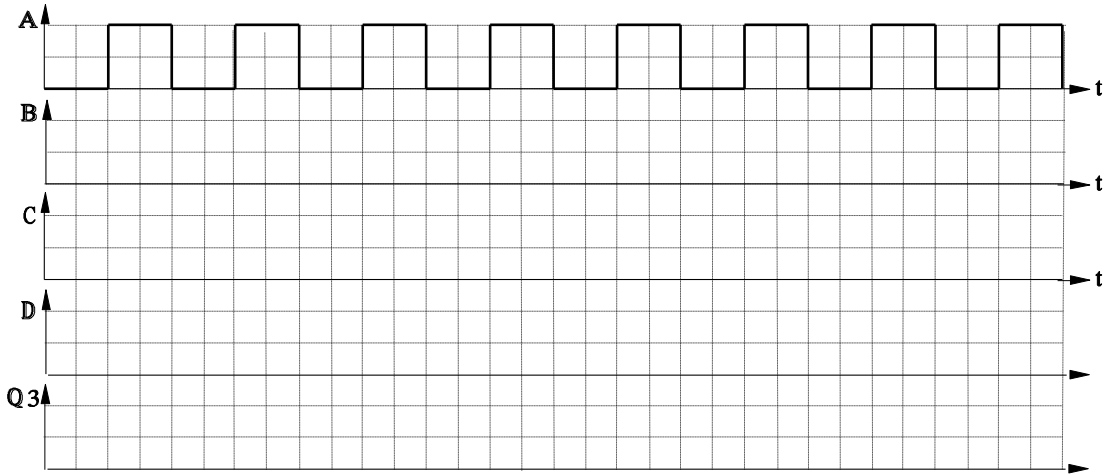


Untuk langkah 7

Q3 =

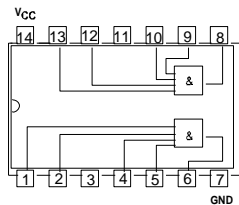


Untuk langkah 8
Diagram Pulsa

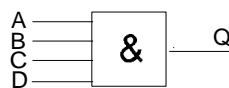


Gerbang DAN dengan 4 masukan (IC - 7421) (Percobaan II)

Untuk langkah 1



gambar 5



gambar 5

Keterangan :

A,B,C dan D = masukan

Q = keluaran

A,B,C,D dan Q = variabel

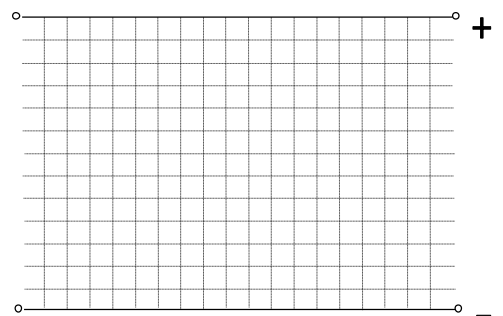
Untuk langkah 5


Tabel Kebenaran :

MASUKAN				KELUARAN
D	C	B	A	Q
0	0	0	0	
0	0	0	1	
0	0	1	0	
0	0	1	1	

Untuk langkah 6

Rangkaian persamaan





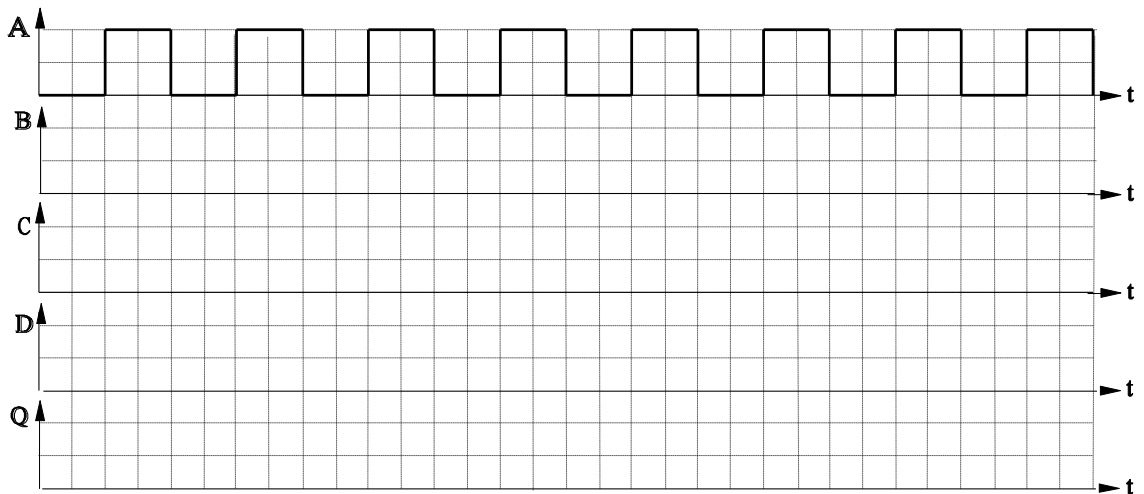
0	1	0	0
0	1	0	1
0	1	1	0
0	1	1	1
1	0	0	0
1	0	0	1
1	0	1	0
1	0	1	1
1	1	0	0
1	1	0	1
1	1	1	0
1	1	1	1


Untuk langkah 7

Q =

Untuk langkah 8

Diagram Pulsa :

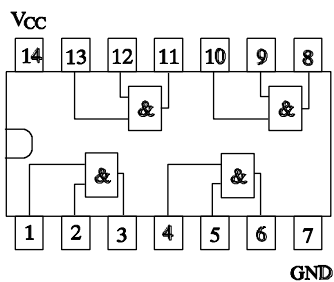




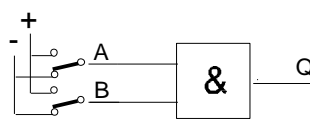
Jawaban

Gerbang DAN (IC-7408)

Gerbang DAN dengan 2 masukan (Percobaan 1A)



gambar 1



Gambar 2

Keterangan :

A dan B = masukan

Q = keluaran

A.B dan Q = variabel

1 = + 5 Vdc

0 = -

Untuk langkah 5

Tabel kebenaran

MASUKA		KELUARAN
B	A	Q
0	0	0
0	1	0
1	0	0
1	1	1

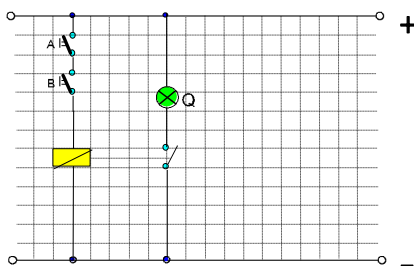
Untuk langkah 7


Persamaan aljabar Boole

$$Q = A \cdot B$$

Untuk langkah 6

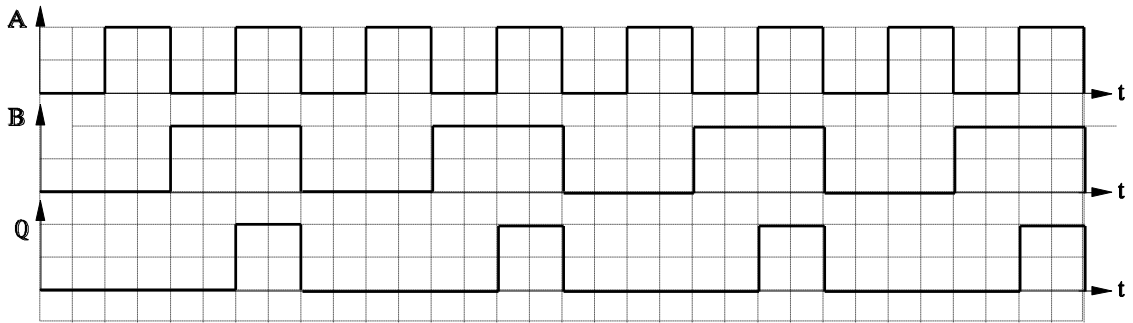
Rangkaian persamaan



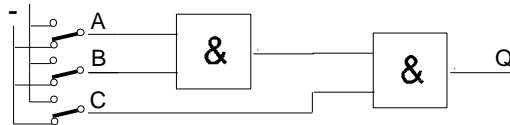


Untuk langkah 8

Diagram Pulsa :



Gerbang DAN dengan 3 masukan.



Gambar 3

Untuk langkah 5

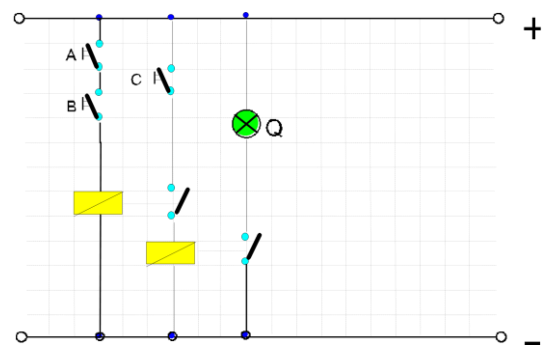
Tabel kebenaran :


Persamaan :

MASUKAN			KELUARAN
C	B	A	Q
0	0	0	0
0	0	1	0
0	1	0	0
0	1	1	0
1	0	0	0
1	0	1	0
1	1	0	0
1	1	1	1

Untuk langkah 6

Rangkaian

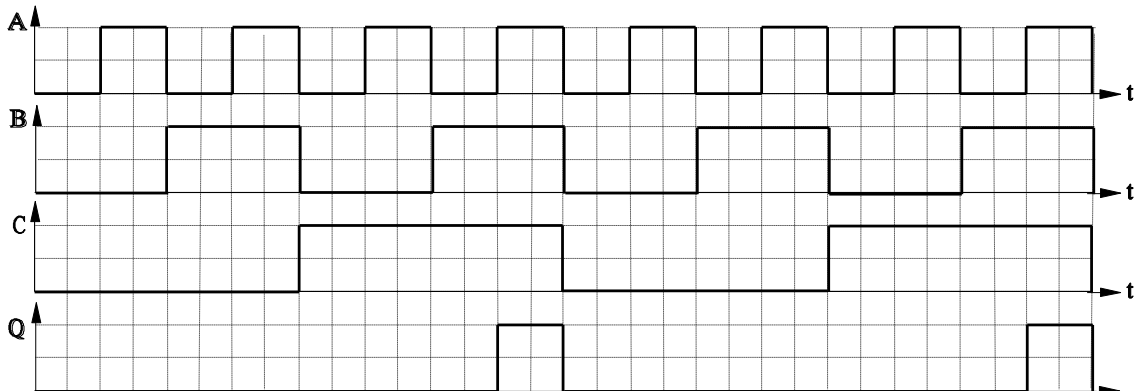




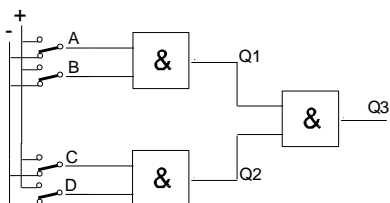
Untuk langkah 7
Persamaan aljabar Boole

$$Q = (A.B) + C$$

Untuk langkah 8
Diagram Pulsa



Gerbang DAN dengan 4 masukan (percobaan 1C)

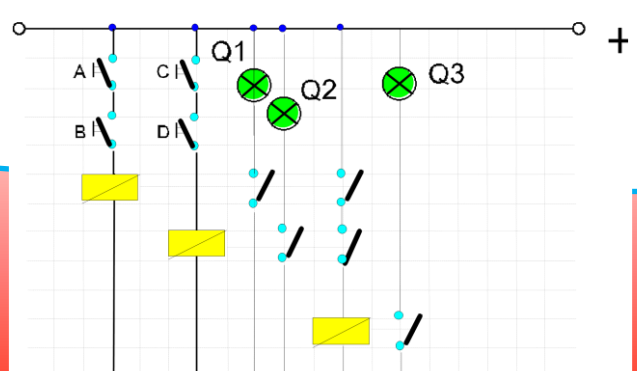



Gambar 4

Untuk langkah 5
Tabel Kebenaran

MASUKAN				KELUARAN		
D	C	B	A	Q1	Q2	Q3
0	0	0	0	0	0	0
0	0	0	1	0	0	0
0	0	1	0	0	0	0
0	0	1	1	0	0	0
0	1	0	0	0	1	0
0	1	0	1	0	1	0
0	1	1	0	1	1	1
0	1	1	1	1	1	1
1	0	0	0	1	0	0
1	0	0	1	1	0	0
1	0	1	0	1	0	0
1	0	1	1	1	0	0
1	1	0	0	1	1	1
1	1	0	1	1	1	1
1	1	1	0	1	1	1
1	1	1	1	1	1	1

Untuk langkah 6
Rangkaian Persamaan :





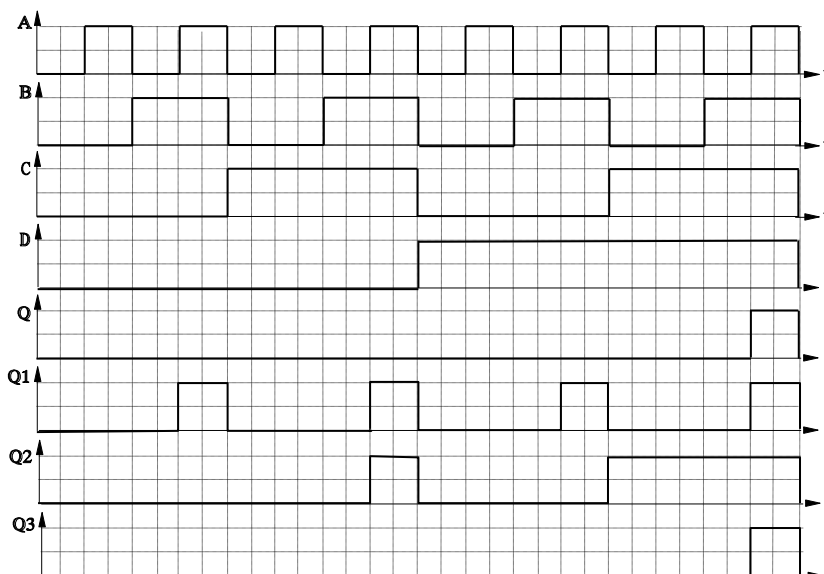
0	0	0	0	0	0	0
0	0	0	1	0	0	0
0	0	1	0	0	0	0
0	0	1	1	1	0	0
0	1	0	0	0	0	0
0	1	0	1	0	0	0
0	1	1	0	0	0	0
0	1	1	1	1	0	0
1	0	0	0	0	0	0
1	0	0	1	0	0	0
1	0	1	0	0	0	0
1	0	1	1	1	0	0
1	1	0	0	0	1	0
1	1	0	1	0	1	0
1	1	1	0	0	1	0
1	1	1	1	1	1	1


Untuk langkah 7

$$Q3 = (A.B) + (C.D)$$

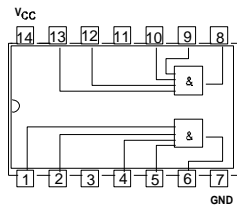
Untuk langkah 8

Diagram Pulsa

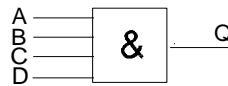




Gerbang DAN dengan 4 masukan (IC - 7421) (Percobaan II)



gambar 5



gambar 6

Keterangan :

A,B,C dan D = masukan

Q = keluaran

A,B,C,D dan Q = variabel

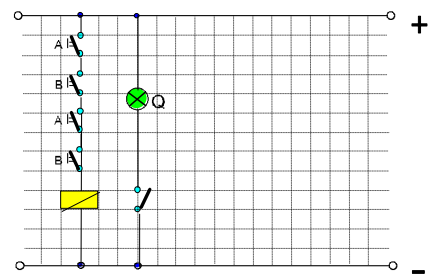
Untuk langkah 6

Tabel Kebenaran :

MASUKAN				KELUARAN
D	C	B	A	Q
0	0	0	0	0
0	0	0	1	0
0	0	1	0	0
0	0	1	1	0
0	1	0	0	0
0	1	0	1	0
0	1	1	0	0
0	1	1	1	0
1	0	0	0	0
1	0	0	1	0
1	0	1	0	0
1	0	1	1	0
1	1	0	0	0
1	1	0	1	0
1	1	1	0	0
1	1	1	1	1


Untuk langkah 5

Rangkaian persamaan



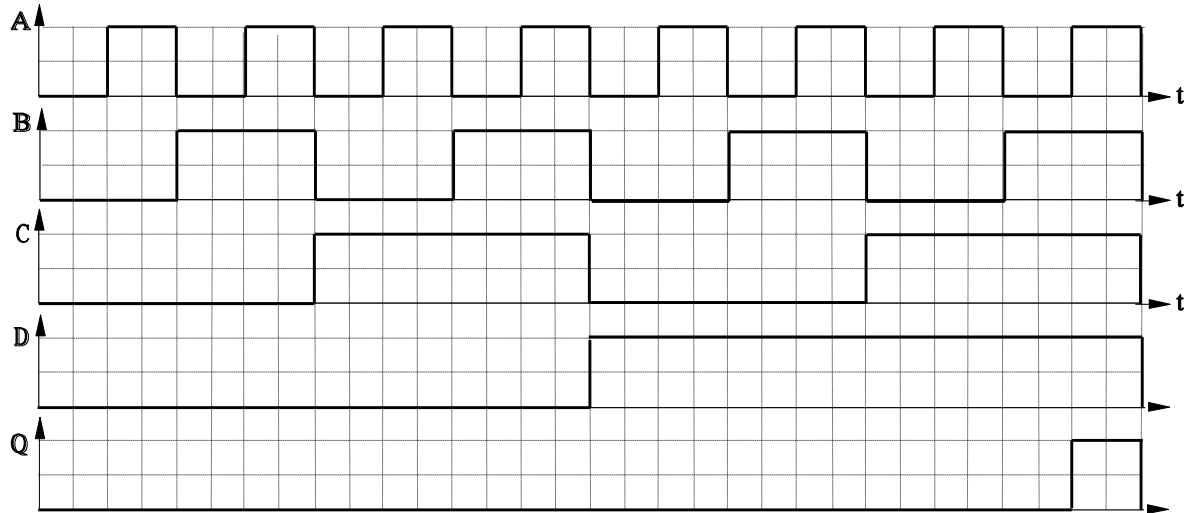
Untuk langkah 7


$$Q = A \cdot B \cdot C \cdot D$$



Untuk langkah 8

Diagram Pulsa :





4.6 TUGAS Kegiatan Belajar 3 - 2

Gerbang ATAU (OR-Gate)

Tujuan Instruksional Umum

Setelah pelajaran selesai, peserta harus dapat:

- ⇒ Menjelaskan prinsip kerja gerbang dasar ATAU

Tujuan Instruksional Khusus

Peserta harus dapat:

- ⇒ Menentukan kaki-kaki masukan, dan keluaran gerbang ATAU sesuai gambar petunjuk kaki IC dengan benar.
- ⇒ Menerangkan prinsip kerja gerbang ATAU sesuai dengan tabel kebenaran.
- ⇒ Menggambar rangkaian persamaan gerbang ATAU sesuai dengan standar IEC.
- ⇒ Menuliskan persamaan gerbang ATAU sesuai dengan tabel kebenaran,
- ⇒ Menggambar pulsa keluaran gerbang ATAU sesuai dengan tabel kebenaran.

Waktu 4 x 45 menit


Alat dan Bahan

Alat Alat:

- ⇒ Catu daya 5V 1 buah
- ⇒ Papan Percobaan / trainer digital 1 buah
- ⇒ Kabel penghubung secukupnya

Bahan:

- ⇒ IC 7432 2 buah



Keselamatan Kerja

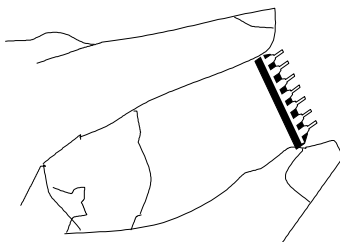
- ⇒ Output catu daya harus 5 Volt DC
- ⇒ Peganglah IC sesuai petunjuk
- ⇒ Pelajari petunjuk-petunjuk sebelum anda melakukan praktik

Langkah Kerja

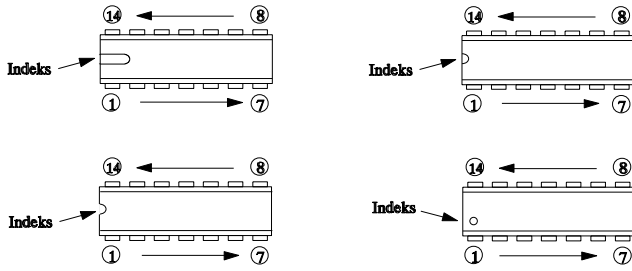

1. Persiapan alat dan bahan
2. Lengkapi gambar 1.1 dengan tanda masukan dan keluaran
3. Buat rangkaian seperti gambar 1.1
4. Laporkan pada Instruktur sebelum rangkaian dihubungkan ke sumber tegangan.
5. Lakukan percobaan sesuai tabel kebenaran
6. Perhatikan perubahan pada keluaran, catat di tabel kebenaran.
7. Buat gambar rangkaian persamaan.
8. Tuliskan Aljabar Boole nya.
9. Buat diagram pulsa
10. Ulangi langkah 2-8 untuk gambar 1.2 dan 1.3

Cara Kerja / Petunjuk

1. Cara memegang IC yang benar diperhatikan oleh gambar di bawah :



2. Perhatikan tanda pada gambar di bawah untuk menetapkan kaki IC secara tepat.

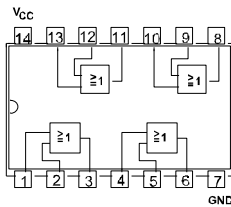


3. Jangan memasang/melepas IC secara paksa
4. Pasang IC dengan tepat, jangan terbalik
5. Simbol untuk gerbang AND (\wedge)

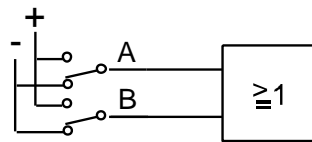
Tugas

Gerbang ATAU (IC-7432)

Untuk langkah 1



gambar 1



Gambar 2

Keterangan :

- A dan B = masukan
- Q = keluaran
- A.B dan Q = variabel
- 1 = + 5 VDC
- 0 = -

Untuk langkah 5


Tabel kebenaran

MASUKA		KELUARAN
B	A	Q
0	0	
0	1	
1	0	

Untuk langkah 7

Persamaan aljabar Boole

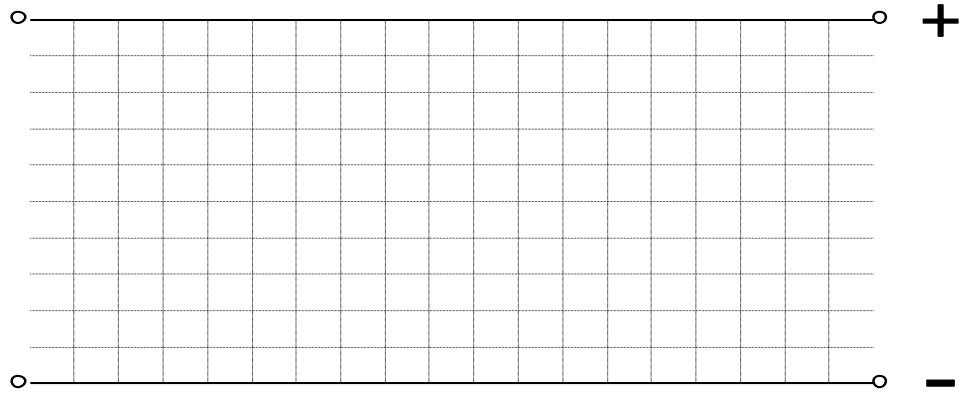
$Q =$



1	1	
---	---	--

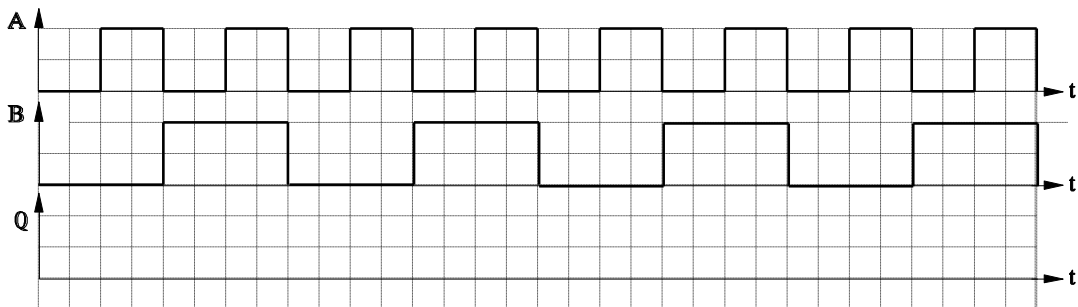
Untuk langkah 6


Rangkaian persamaan



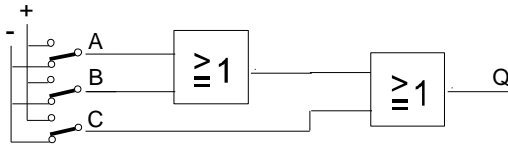
Untuk langkah 8

Diagram Pulsa :





Gerbang ATAU dengan 3 masukan.



gambar 3

Untuk langkah 5

Tabel kebenaran :

Persamaan :

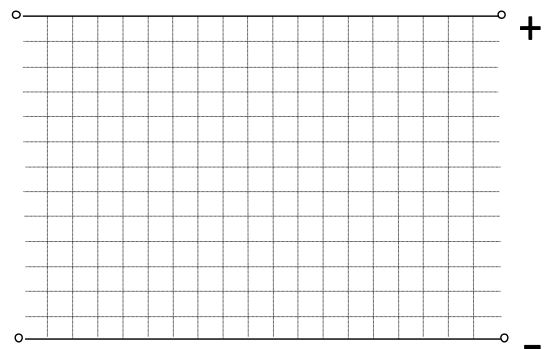
MASUKAN			KELUARAN
C	B	A	Q
0	0	0	
0	0	1	
0	1	0	
0	1	1	
1	0	0	
1	0	1	
1	1	0	
1	1	1	


Untuk langkah 7

Q =

Untuk langkah 6

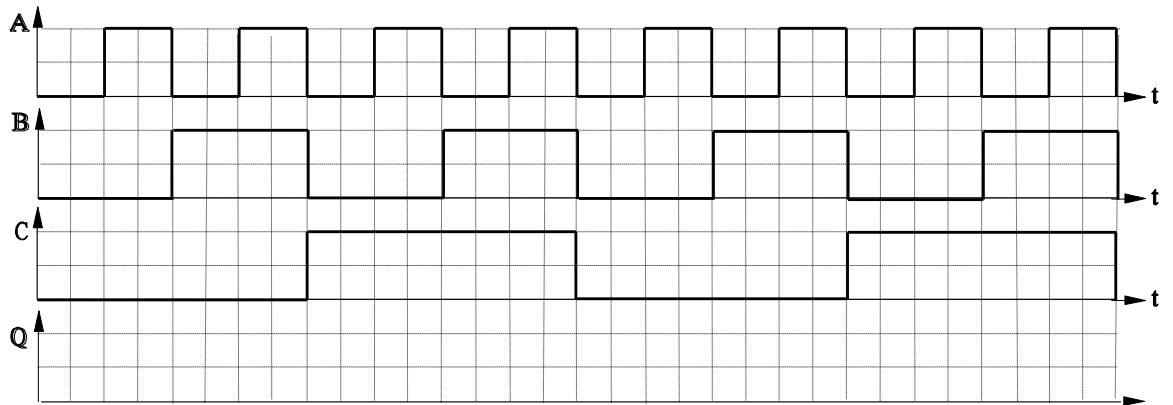
Rangkaian

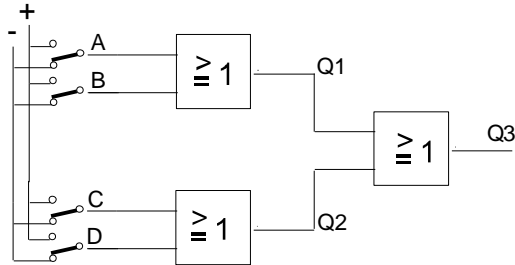





Untuk langkah 8

Diagram Pulsa



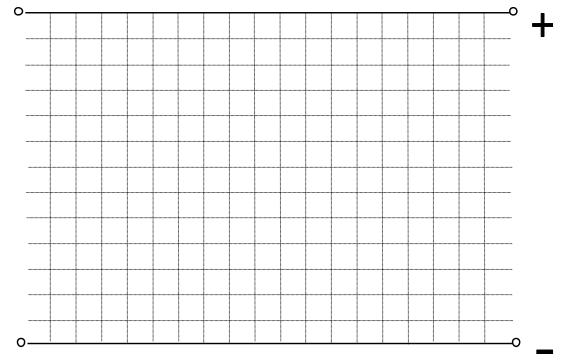


Gambar 4

Untuk langkah 6
Tabel Kebenaran


Untuk langkah 7
Rangkaian Persamaan :

MASUKAN				KELUARAN		
D	C	B	A	Q1	Q2	Q3
0	0	0	0			
0	0	0	1			
0	0	1	0			
0	0	1	1			
0	1	0	0			
0	1	0	1			
0	1	1	0			
0	1	1	1			
1	0	0	0			
1	0	0	1			
1	0	1	0			
1	0	1	1			
1	1	0	0			
1	1	0	1			
1	1	1	0			
1	1	1	1			

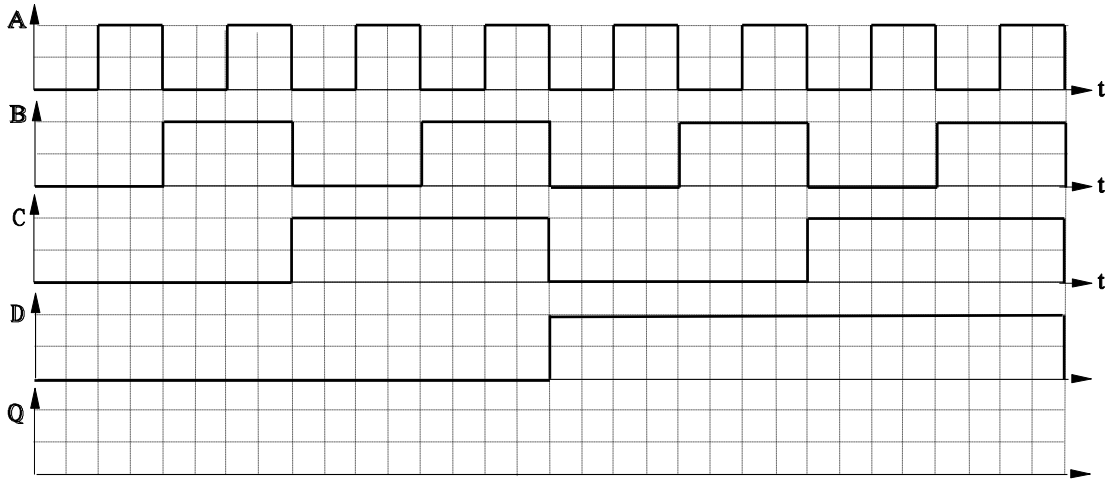


Untuk langkah 7

Q3 =

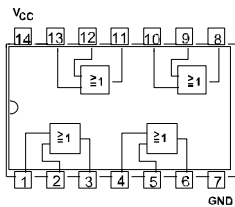


Untuk langkah 8
Diagram Pulsa

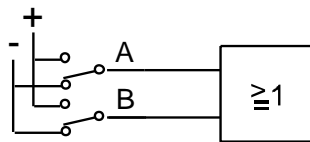


Jawaban

Untuk langkah 1



gambar 1.1



Gambar 1.2

Keterangan :

A dan B =
masukan

Q = keluaran

A.B dan Q =
variabel

1 = + 5 VDC

0 = -

Untuk langkah 5


Tabel kebenaran

MASUKAN		KELUARAN
B	A	Q
0	0	0
0	1	1

Untuk langkah 7

Persamaan aljabar Boole

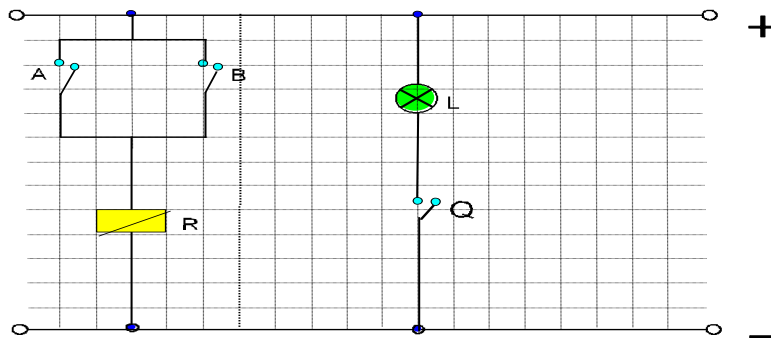
$$Q = A \vee B$$



1	0	1
1	1	1

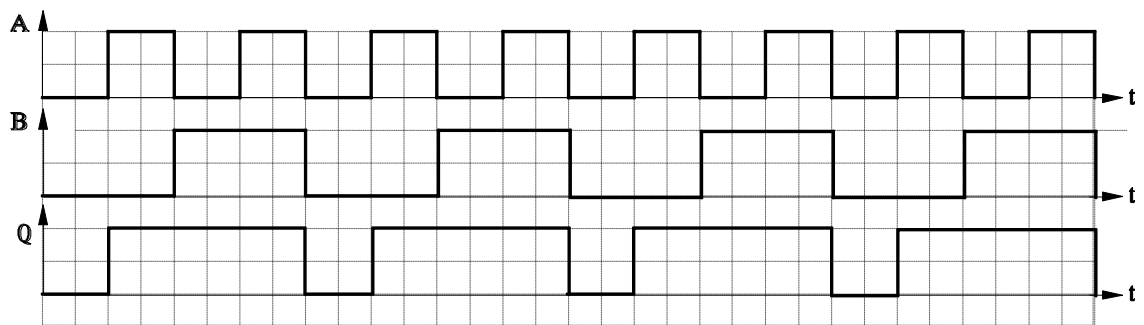
Untuk langkah 6

Rangkaian persamaan

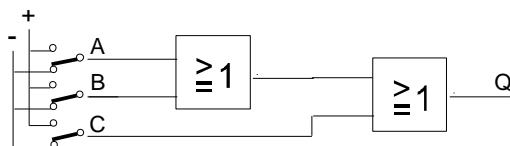


Untuk langkah 8


Diagram Pulsa :



Gerbang ATAU dengan 3 masukan.



gambar 3



Untuk langkah 5

Tabel kebenaran :

Persamaan :

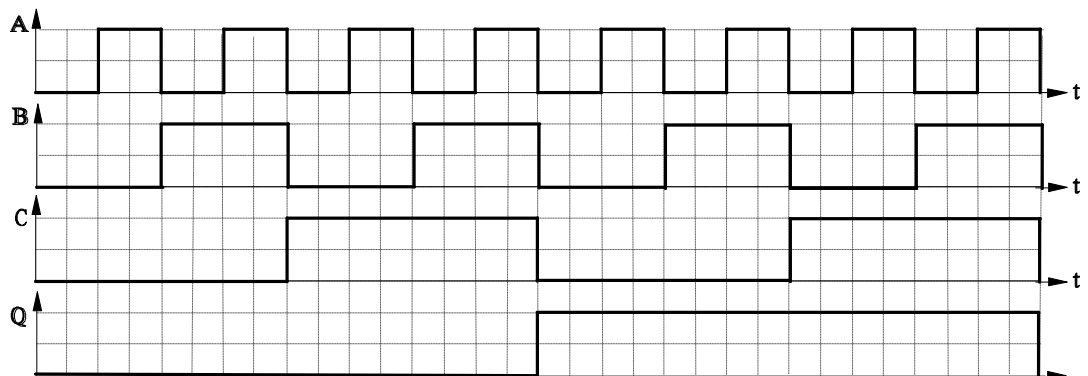
MASUKAN			KELUARAN
C	B	A	Q
0	0	0	0
0	0	1	1
0	1	0	1
0	1	1	1
1	0	0	1
1	0	1	1
1	1	0	1
1	1	1	1

Untuk langkah 7

$$Q = (A \vee B) \vee C$$

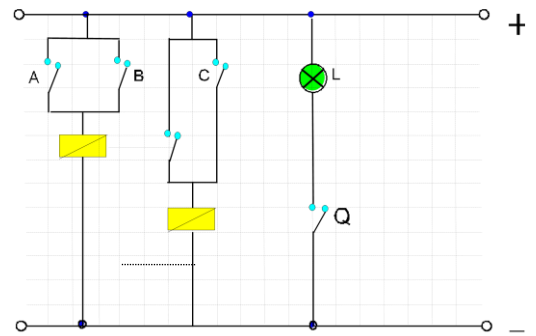
Untuk langkah 8


Diagram Pulsa



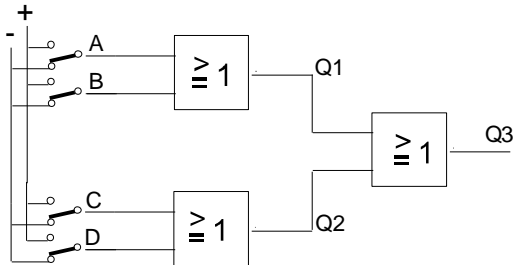
Untuk langkah 6

Rangkaian





Gerbang ATAU9 dengan 4 masukan

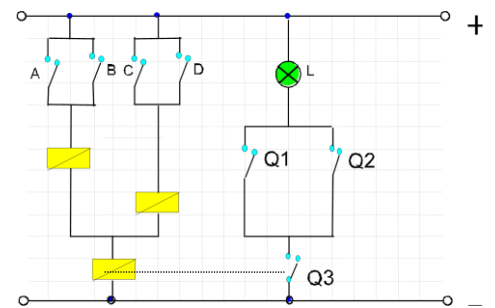


Gambar 4

Untuk langkah 6
Tabel Kebenaran


MASUKAN				KELUARAN		
D	C	B	A	Q1	Q2	Q3
0	0	0	0	0	0	0
0	0	0	1	1	0	1
0	0	1	0	1	0	1
0	0	1	1	1	0	1
0	1	0	0	0	1	1
0	1	0	1	1	1	1
0	1	1	0	1	1	1
0	1	1	1	1	1	1
1	0	0	0	0	1	1
1	0	0	1	1	1	1
1	0	1	0	1	1	1
1	0	1	1	1	1	1
1	1	0	0	0	1	1
1	1	0	1	1	1	1
1	1	1	0	1	1	1
1	1	1	1	1	1	1

Untuk langkah 7
Rangkaian Persamaan :



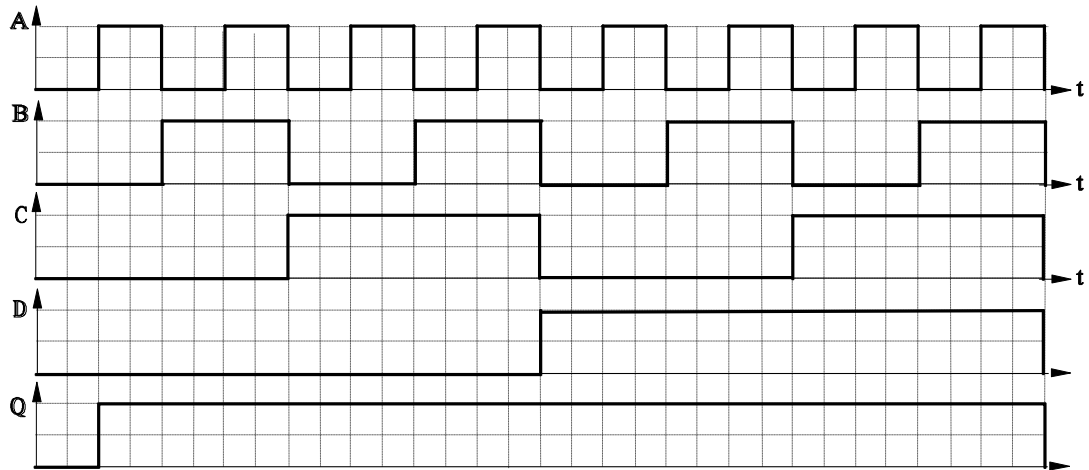
Untuk langkah 7


$$Q3 = (A \vee B) \vee (C \vee D)$$



Untuk langkah 8

Diagram Pulsa





4.7 TUGAS Kegiatan Belajar 3 - 3

Gerbang NOT , NAND dan NOR

Tujuan Instruksional Umum

Setelah pelajaran selesai, /peserta harus dapat:

- ⇒ Menganalisa prinsip kerja gerbang Not, Nand dan Nor-gate.

Tujuan Instruksional Khusus

Peserta harus dapat:


- ⇒ Menentukan kaki-kaki masukan, dan keluaran pada IC berdasarkan gambar bukaannya dengan benar
- ⇒ Menerangkan prinsip kerja gerbang NOT,NAND dan NOR. berdasarkan hasil percobaan dalam tabel kebenaran dengan benar.
- ⇒ Menggambarkan rangkaian persamaan listrik dari gerbang NOT, NAND dan NOR berdasarkan tabel kebenaran dengan benar.
- ⇒ Menuliskan persamaan fungsi "Aljabar Boole" dari gerbang NOT, NAND dan NOR berdasarkan tabel kebenaran dengan benar.
- ⇒ Menggambar kan pulsa .keluaran gerbang-gerbang NOT, NAND dan NOR berdasarkan tabel kebenaran dengan benar.

Waktu 8 x 45 menit

Alat dan Bahan


Alat Alat:

- ⇒ Catu daya 5 VDC 1 buah
- ⇒ Papan percobaan 1 buah
- ⇒ Kabel penghubung secukupnya.



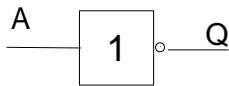
Bahan:

- ⇒ IC 7400 1 buah
- ⇒ IC 7402 1 buah
- ⇒ IC 4002 1 buah
- ⇒ IC 7404 1 buah
- ⇒ IC 7408 1 buah
- ⇒ IC 7420 1 buah
- ⇒ IC 7432 1 buah

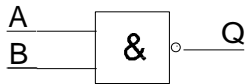


Keselamatan Kerja

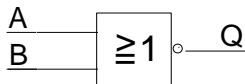
- ⇒ Hati-hati dalam memasang IC pada papan percobaan
- ⇒ Hati-hati dengan tegangan 220 Volt



- ⇒ Gerbang Tidak (NOT) akan mempunyai keluaran yang selalu berbeda dengan masukannya.




- ⇒ gerbang Tidak Dan (NAND) akan mempunyai keluaran berlogika 1 apabila semua masukan tidak berlogika 1



- ⇒ Gerbang Tidak Atau (NOR) akan mempunyai keluaran berlogika 1. Apabila semua masukan berlogika 0

Langkah Kerja

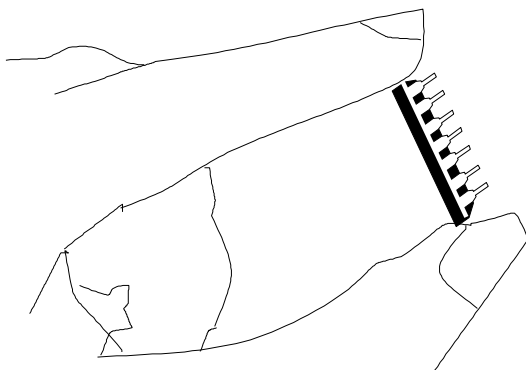
1. Lengkapi gambar bukaan IC dari gerbang NOT, NAND, NOR, dengan tanda masukan dan keluaran (lihat keterangan)
2. Buat rangkaian seperti gambar 1.2 pada papan percobaan
3. Laporkan instruktur sebelum rangkaian dihubungkan ke sumber tegangan.
4. Hubungkan rangkaian ke sumber tegangan 5 VDC
5. Lakukan percobaan dan Perhatikan perubahan pada keluaran dan catat hasilnya pada tabel kebenaran.



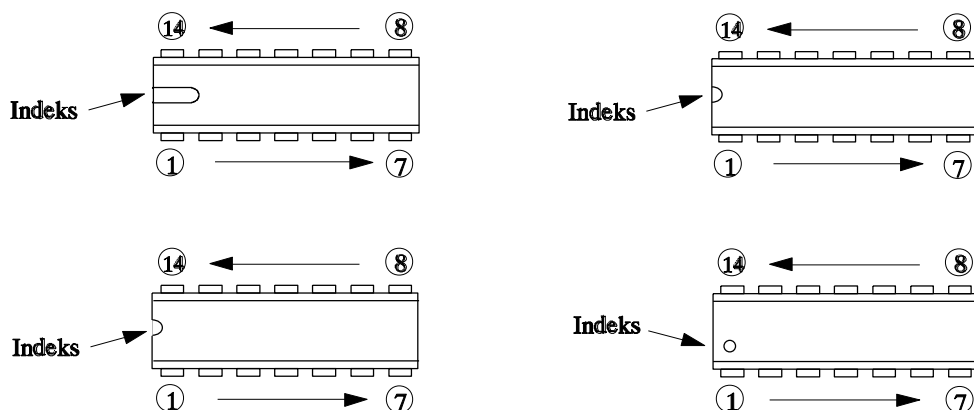
6. Buatlah rangkaian persamaan kelistrikannya.
7. Tuliskan fungsi "Aljabar Boole" nya ke dalam kolom
8. Ulangi langkah 1 s/d 7 untuk percobaan berikutnya
9. Buat kesimpulan untuk tiap-tiap percobaan.

Cara Kerja / Petunjuk


1. Cara memegang IC yang benar diperlihatkan oleh gambar di bawah.



2. Perhatikan penunjuk (indeks) di bawah untuk menetapkan nomor kaki IC secara tepat.



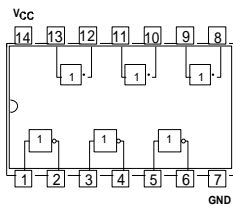
3. Simbol untuk TIDAK (-)



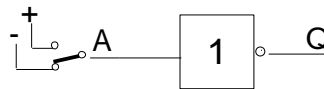
4.8 Tugas

Gerbang NOT (IC - 7404)

Untuk Langkah 1



Gambar 1.1



Gambar 1.2

Keterangan

A = masukan

Q = keluaran


Untuk langkah 5

Tabel kebenaran :

Masukan	Keluaran
A	Q
0	
1	

Untuk langkah 6


Rangkaian persamaan



Untuk langkah 7

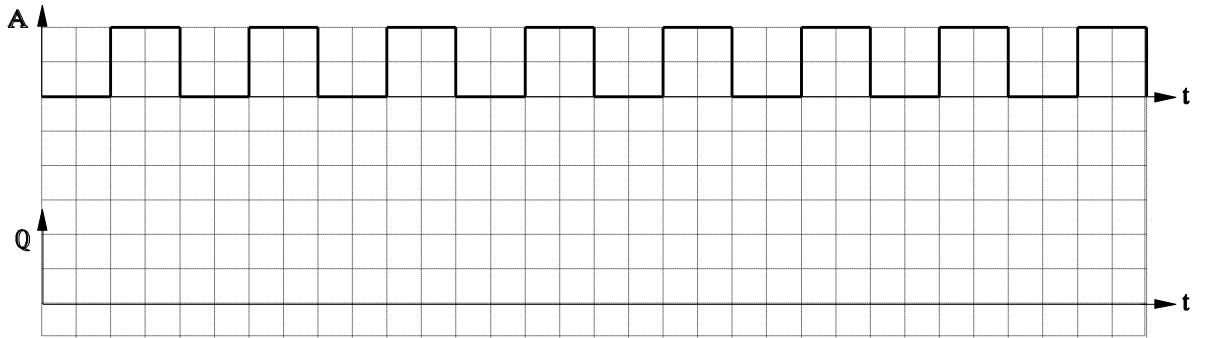
Persamaan aljabar boole


Q =



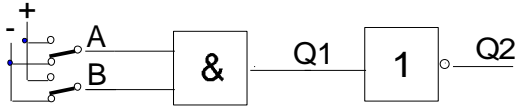
Untuk langkah 8

Diagram pulsa :



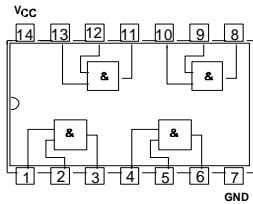


NAND dibangun dari gerbang AND + NOT

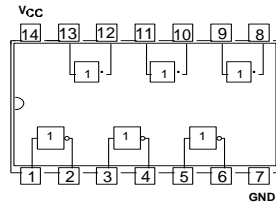


Gambar 2.1

Untuk langkah 1



Gambar 2.2



Gambar 2.3

Keterangan :

- A dan B = masukan
- Q = Keluaran
- 1 = +5 VDC
- 0 = -

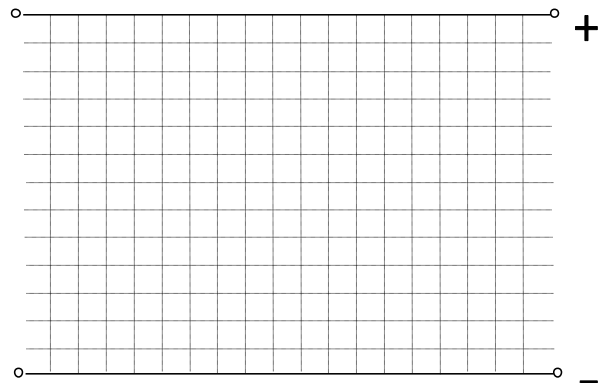
Untuk langkah 5

Tabel kebenaran

Masukan		Keluaran	
B	A	Q1	Q2
0	0		
0	1		
1	0		
1	1		

Untuk langkah 6

Rangkaian persamaan

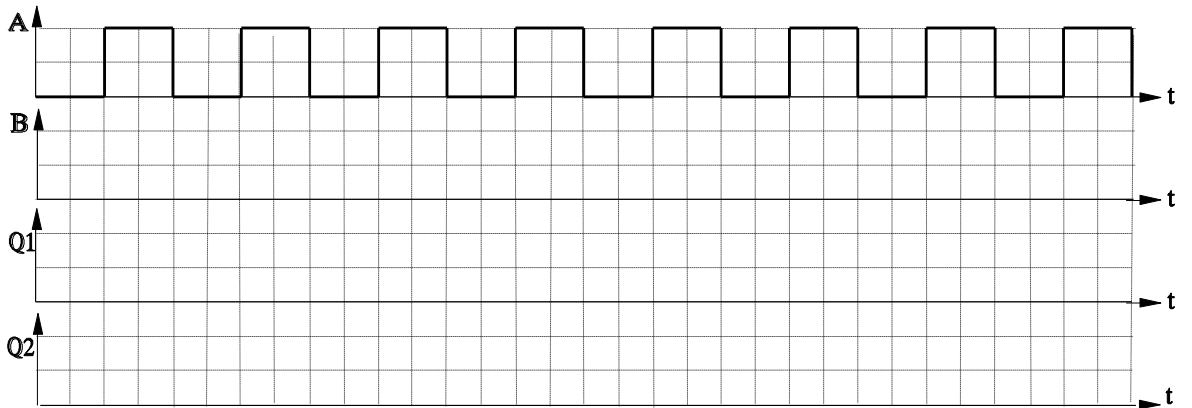



Untuk langkah 7

Q2 =

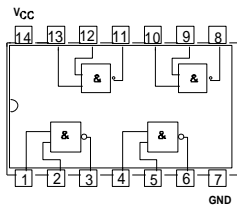
Untuk langkah 8

Diagram pulsa :

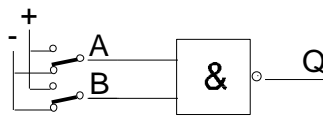


GERBANG NAND (IC-7400)

Untuk langkah 1



Gambar 3.1



Gambar 3.2

Keterangan :

A dan B = masukan

Q = keluaran

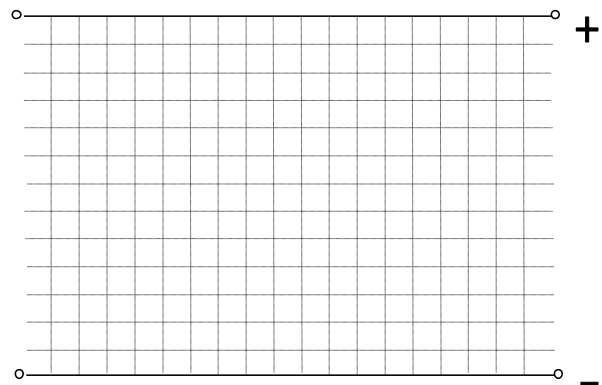
Untuk langkah 5


Tabel kebenaran

Masukan		Keluaran
B	A	Q
0	0	
0	1	
1	0	
1	1	

Untuk langkah 6

Rangkaian persamaan





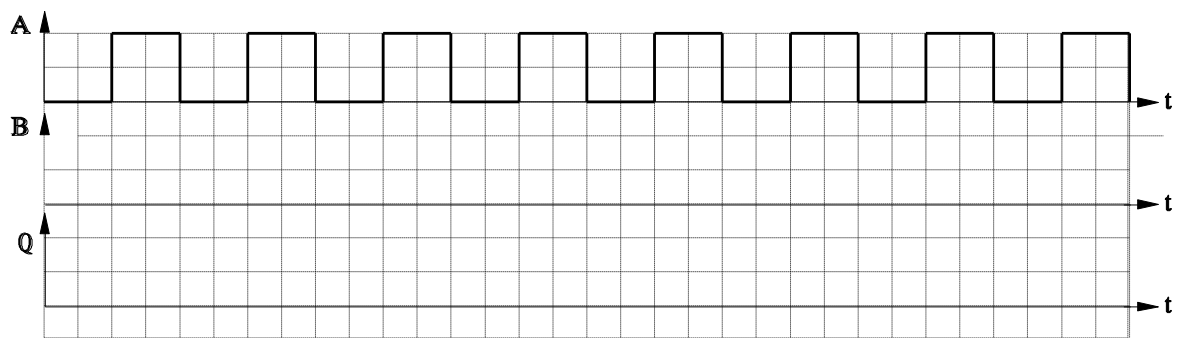
Untuk langkah 7

Persamaan aljabar boole

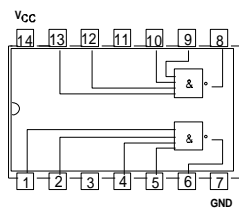
$$Q =$$

Untuk langkah 8

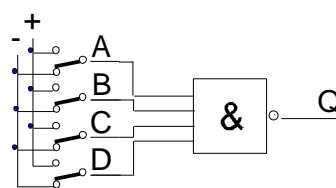
Diagram pulsa



NAND dengan 4 masukan (7420)




Gambar 4.1



Gambar 4.2

Keterangan :

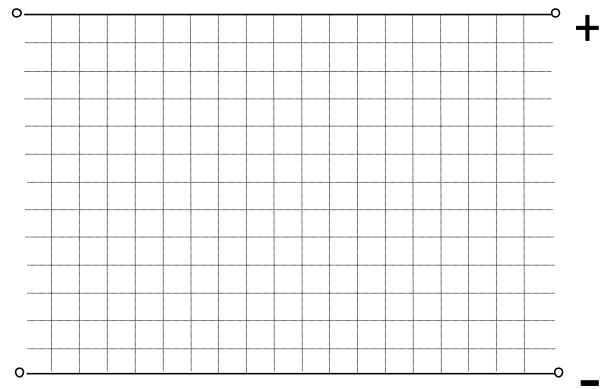
- A B, C dan D = masukan
- Q = keluaran
- A, B, C, D dan Q = variabel



Untuk langkah 5
Tabel kebenaran


MASUKAN				KELUARAN
D	C	B	A	Q
0	0	0	0	
0	0	0	1	
0	0	1	0	
0	0	1	1	
0	1	0	0	
0	1	0	1	
0	1	1	0	
0	1	1	1	
1	0	0	0	
1	0	0	1	
1	0	1	0	
1	0	1	1	
1	1	0	0	
1	1	0	1	
1	1	1	0	
1	1	1	1	

Untuk langkah 6
Rangkaian persamaan

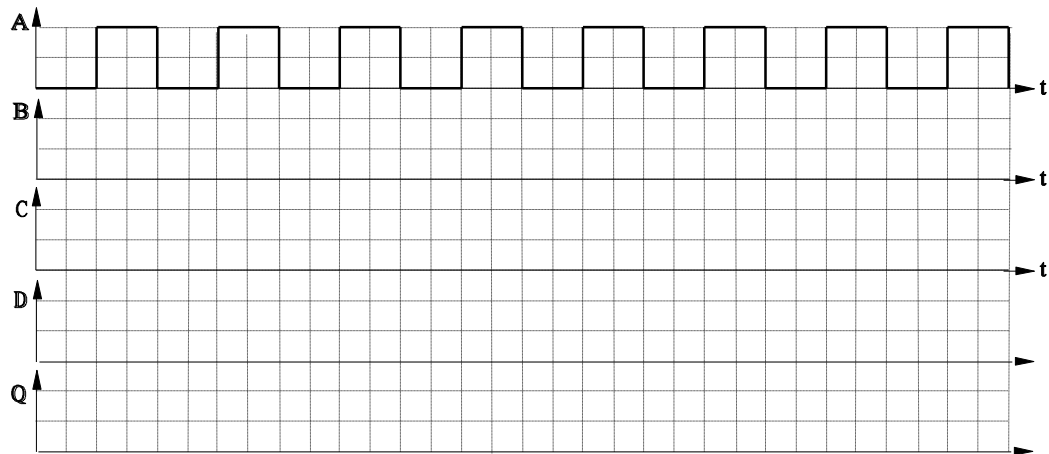


Untuk langkah 7
Rangkaian persamaan

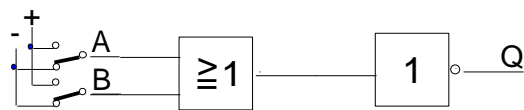
Q =



Untuk langkah 8
Diagram pulsa

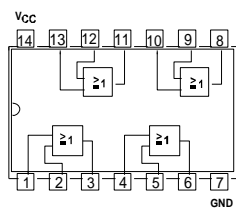


NOR dibangun dari gerbang OR + NOT

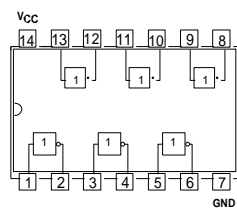


Gambar 5.1

Untuk langkah 1



Gambar 5.2



Gambar 5.3

Keterangan

A dan B = masukan


Q = keluaran

1 = + 5 VDC


0 = -

Untuk langkah 5
Tabel kebenaran

Untuk langkah 6
Rangkaian persamaan



MASUKAN		KELUARAN	
B	A	Q1	Q2
0	0		
0	1		
1	0		
1	1		



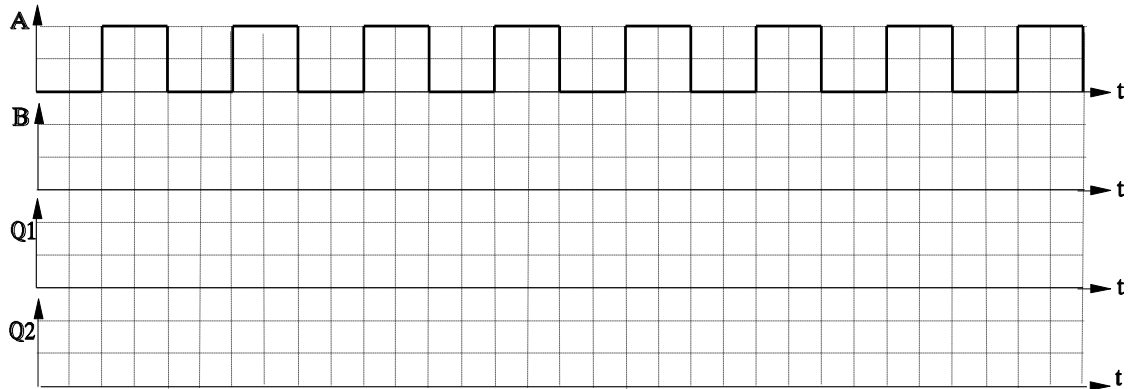
Untuk langkah 7


Persamaan aljabar boole

$Q =$

Untuk langkah 8

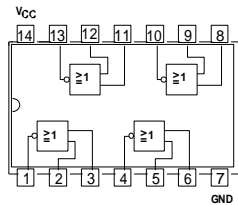
Diagram pulsa :



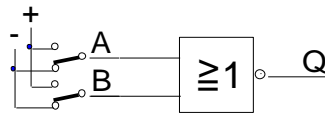


Gerbang NOR (IC-7402)

Untuk langkah 1



Gambar 5.1



Gambar 5.2

Keterangan :

A dan B = masukan

Q = keluaran

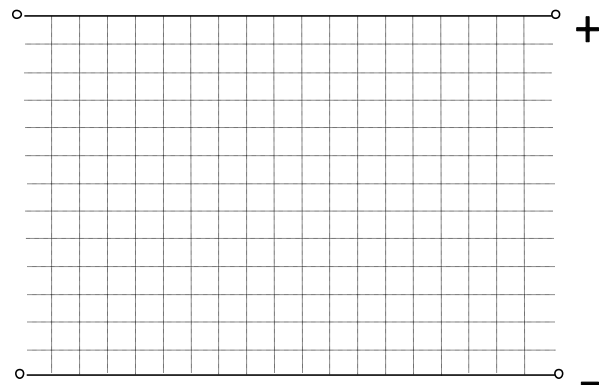
Untuk langkah 5

Tabel kebenaran

Masukan		Keluaran
B	A	Q
0	0	
0	1	
1	0	
1	1	

Untuk langkah 6

Rangkaian persamaan



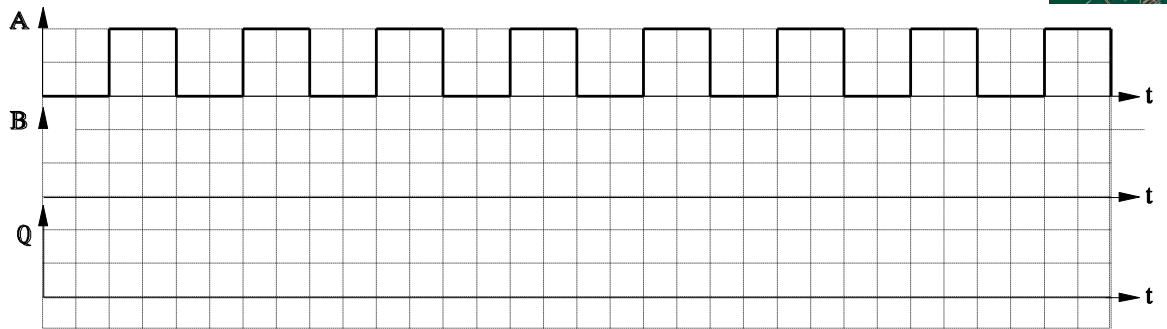

Untuk langkah 7


Persamaan aljabar boole

Q =

Untuk langkah 8

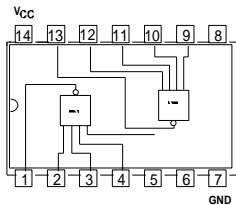
Diagram Pulsa :



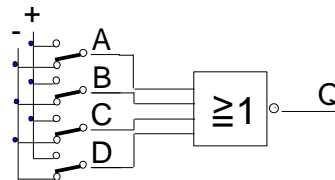


NOR dengan 4 masukan : (IC C MOS 4002)

Untuk langkah 1



Gambar 7.1



Gambar 7.2

Keterangan :

A B, C dan D = masukan

Q = keluaran

A, B, C, D dan Q = variabel

Untuk langkah 5

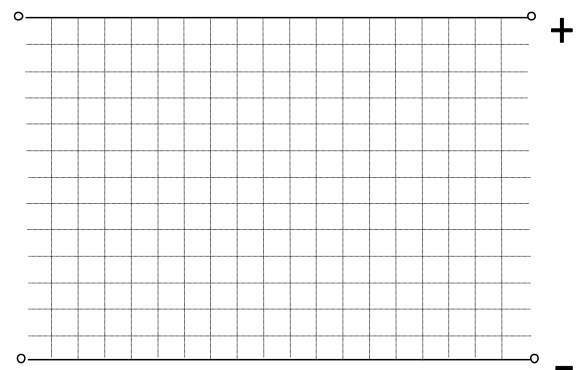
Tabel kebenaran

MASUKAN				KELUARA
D	C	B	A	N
0	0	0	0	
0	0	0	1	
0	0	1	0	
0	0	1	1	
0	1	0	0	
0	1	0	1	
0	1	1	0	
0	1	1	1	
1	0	0	0	
1	0	0	1	
1	0	1	0	
1	0	1	1	
1	1	0	0	
1	1	0	1	
1	1	1	0	
1	1	1	1	

Untuk langkah 8

Untuk langkah 6

Rangkaian persamaan :



Untuk langkah 7

Pesamaan aljabar boole

Q =


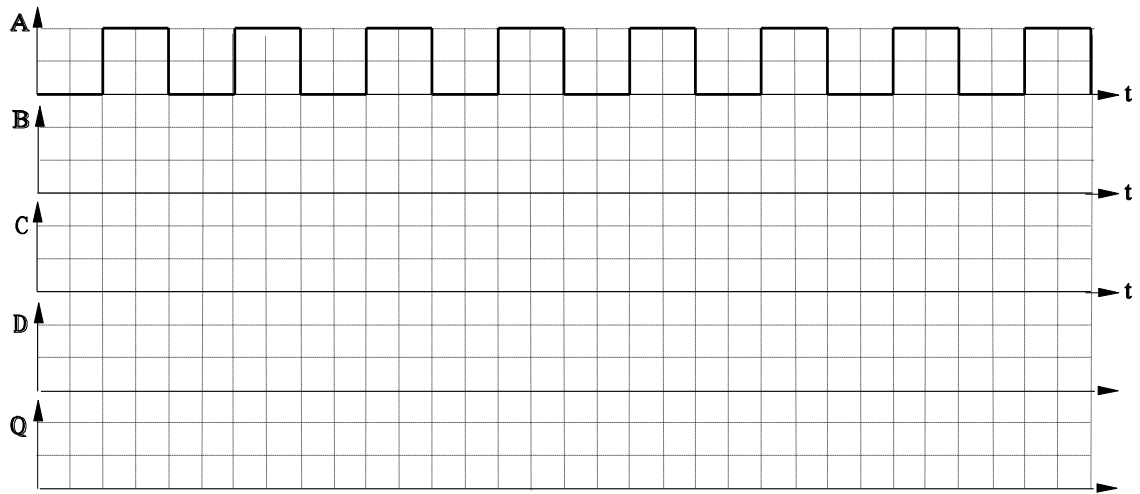


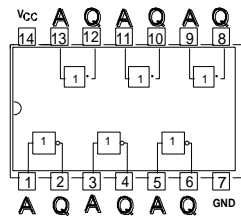
Diagram pulsa



Jawaban

Gerbang NOT (IC - 7404)

Untuk langkah 1



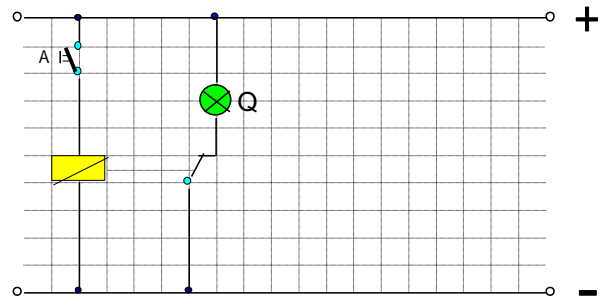
Untuk langkah 5


Tabel kebenaran :

Masukan	Keluaran
A	Q
0	1
1	0

Untuk langkah 6

Rangkaian Persamaan

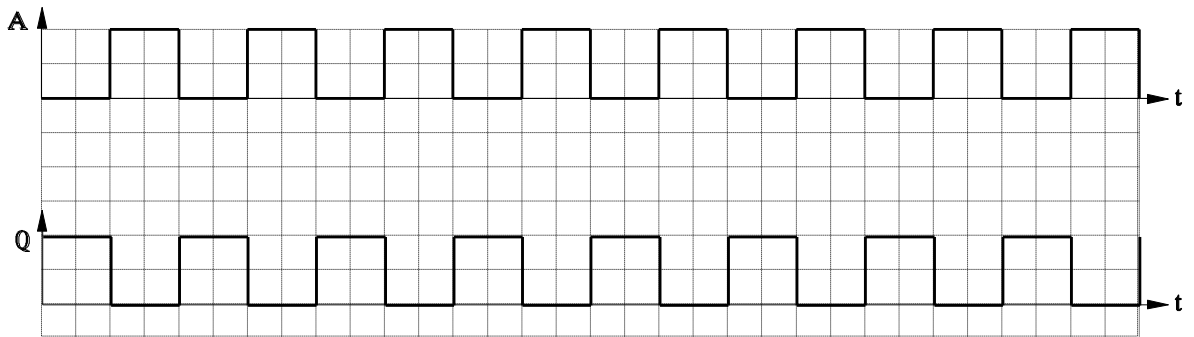




Untuk langkah 7
 Persamaan aljabar boole

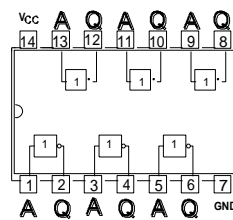
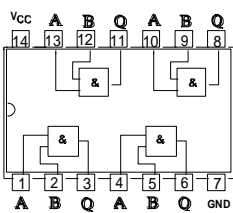
$$Q = \bar{A}$$

Untuk langkah 8
 Diagram Pulsa :




NAND dibangun dari gerbang AND + NOT

Untuk Langkah 1

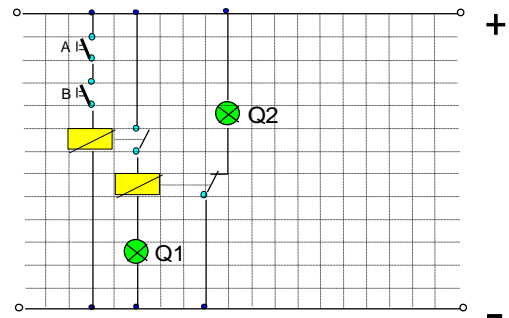


Untuk langkah 5
 Tabel kebenaran

Untuk langkah 6
 Rangkaian persamaan



Masukan		Keluaran	
B	A	Q1	Q2
0	0	0	1
0	1	0	1
1	0	0	1
1	1	1	0



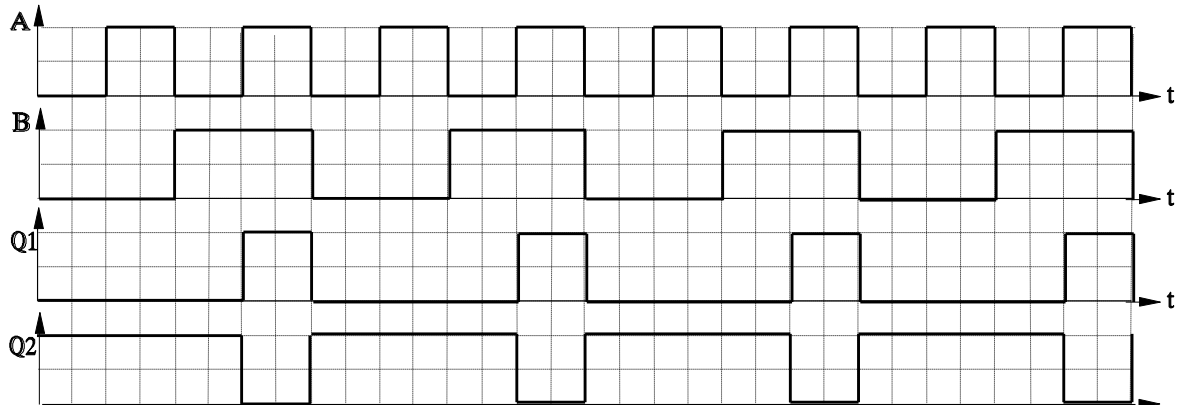
Untuk langkah 7


Persamaan aljabar boole

$$Q2 = \overline{Q1} = \overline{A \wedge B}$$

Untuk langkah 8

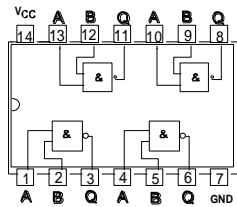
Diagram pulsa :





GERBANG NAND (IC -7400)

Untuk langkah 1



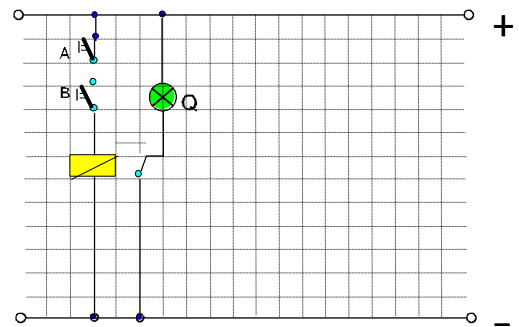
Untuk langkah 5

Tabel kebenaran

Masukan		Keluaran
B	A	Q
0	0	1
0	1	1
1	0	1
1	1	0

Untuk langkah 6

Rangkaian persamaan



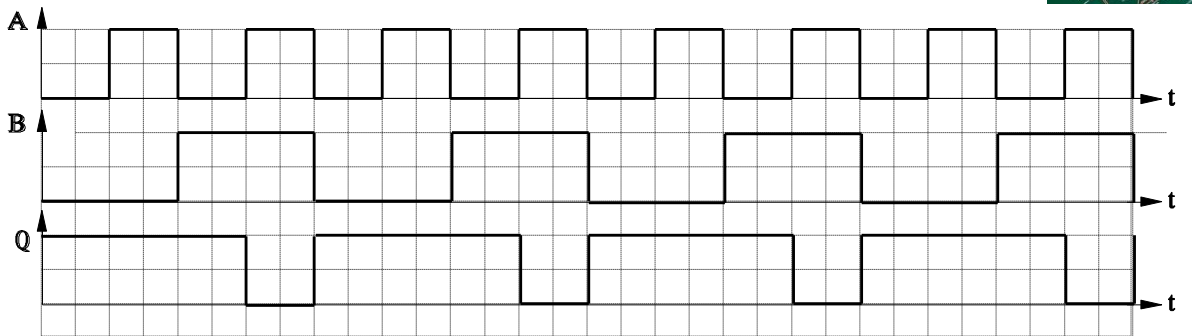

Untuk langkah 7

Persamaan aljabar boole

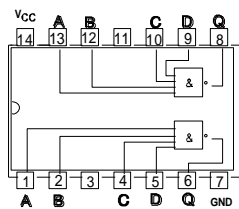
$$Q = \overline{A \wedge B}$$

Untuk langkah 8

Diagram pulsa

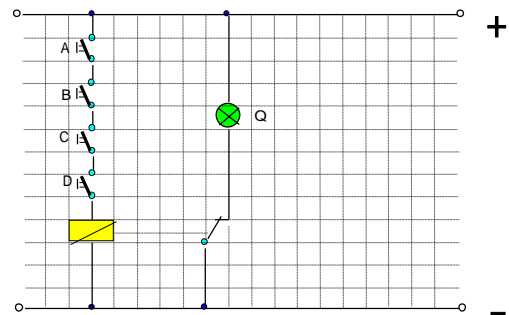


NAND dengan 4 masukan (7420)




Untuk langkah 5
Tabel kebenaran

Untuk langkah 6
Rangkaian persamaan



MASUKAN				KELUARAN
D	C	B	A	Q
0	0	0	0	1
0	0	0	1	1
0	0	1	0	1
0	0	1	1	1



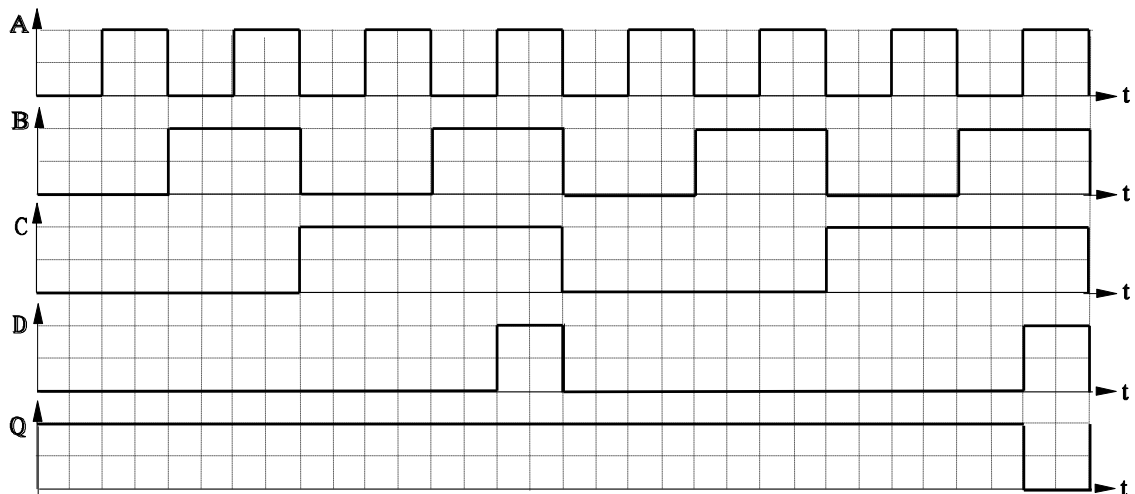
0	1	0	0	1
0	1	0	1	1
0	1	1	0	1
0	1	1	1	1
1	0	0	0	1
1	0	0	1	1
1	0	1	0	1
1	0	1	1	1
1	1	0	0	1
1	1	0	1	1
1	1	1	0	1
1	1	1	1	0


Untuk langkah 7
Rangkaian persamaan

$$Q = \overline{A} \wedge B \wedge C \wedge \overline{D}$$

Untuk langkah 8

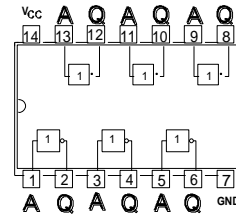
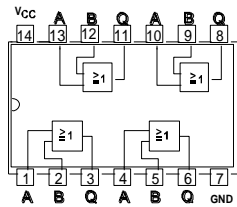
Diagram pulsa





NOR dibangun dari gerbang OR + NOT

Untuk langkah 1



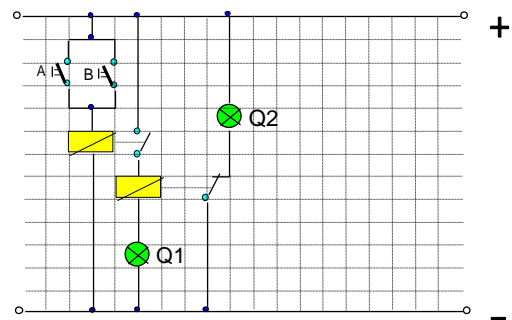
Untuk langkah 5

Tabel kebenaran

MASUKAN		KELUARAN	
B	A	Q1	Q2
0	0	0	1
0	1	1	0
1	0	1	0
1	1	1	0

Untuk langkah 6


Rangkaian persamaan



Untuk langkah 7

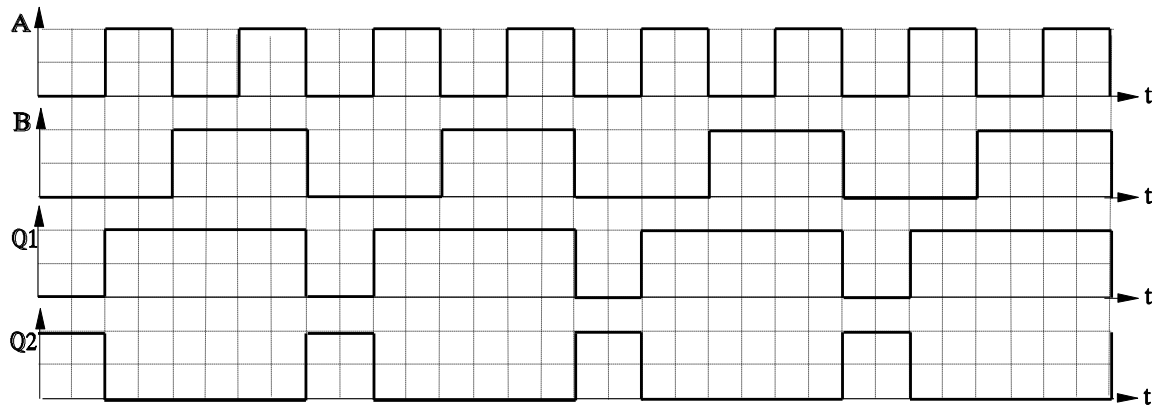
Persamaan aljabar boole


$$Q2 = \overline{Q1} = \overline{A \vee B}$$



Untuk langkah 8

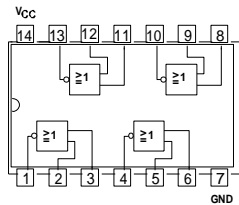
Diagram pulsa :





Gerbang NOR (IC-7402)

Untuk langkah 1



Gambar 5.1

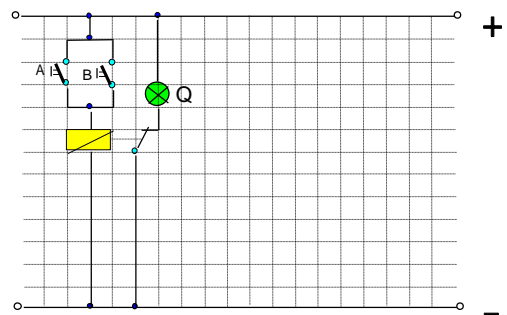
Untuk langkah 5

Tabel kebenaran

Masukan		Keluaran
B	A	Q
0	0	1
0	1	0
1	0	0
1	1	0


Untuk langkah 6

Rangkaian persamaan



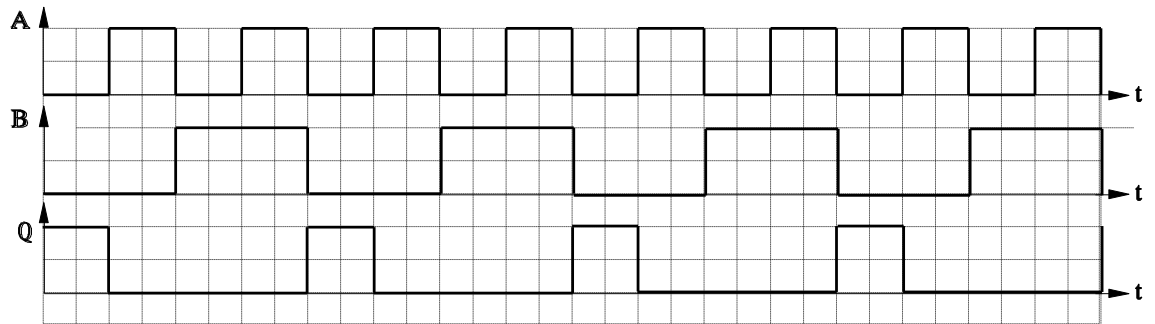
Untuk langkah 7


$$Q = \overline{A \vee B}$$



Untuk langkah 8

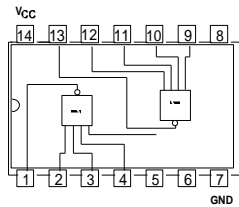
Diagram pulsa :





NOR dengan 4 masukan : (IC CMOS 4002)

Untuk langkah 1



Gambar 7.1

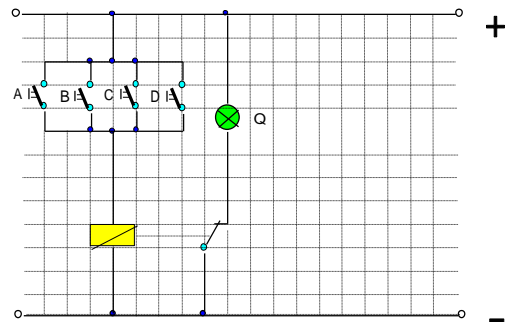
Untuk langkah 5

Tabel kebenaran

MASUKAN				KELUARA
D	C	B	A	N
0	0	0	0	1
0	0	0	1	0
0	0	1	0	0
0	0	1	1	0
0	1	0	0	0
0	1	0	1	0
0	1	1	0	0
0	1	1	1	0
1	0	0	0	0
1	0	0	1	0
1	0	1	0	0
1	0	1	1	0
1	1	0	0	0
1	1	0	1	0
1	1	1	0	0
1	1	1	1	0

Untuk langkah 6


Rangkaian persamaan :



Untuk langkah 7

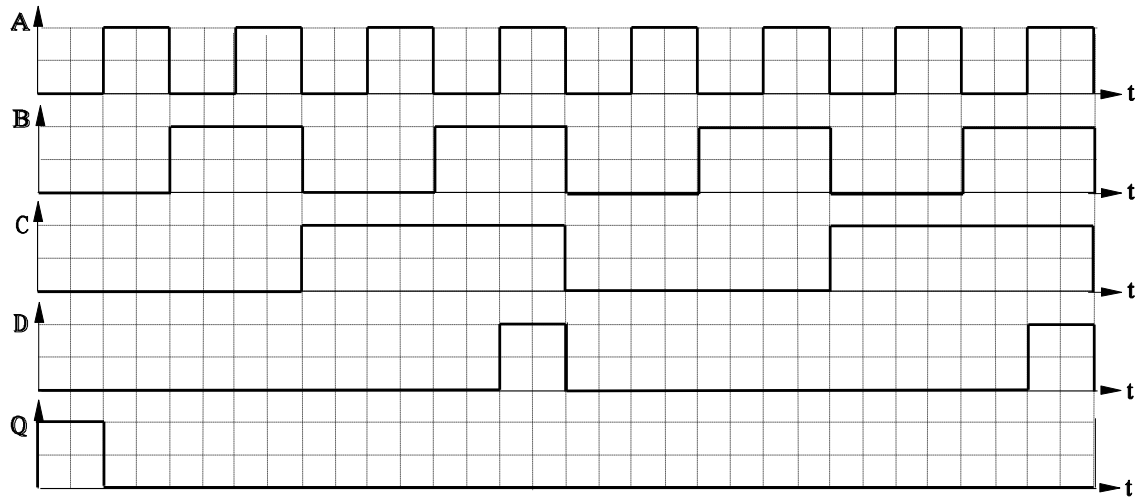
Pesamaan aljabar boole


$$Q = \overline{A \vee B \vee C \vee D}$$



Untuk langkah 8

Diagram pulsa





4.9 TUGAS Kegiatan Belajar 3 - 4

Gerbang Exclusive OR (EX - OR) dan Exclusive NOR (EX - NOR)

Tujuan Instruksional Umum

Setelah pelajaran selesai peserta harus dapat:

- ⇒ Memahami gerbang Exclusive OR dan Exclusive NOR

Tujuan Instruksional Khusus

Peserta harus dapat:

- ⇒ Menentukan kaki - kaki masukan IC
- ⇒ Menentukan keluaran gerbang EX - OR
- ⇒ Menentukan keluaran gerbang EX - NOR
- ⇒ Menggambarkan rangkaian persamaan gerbang EX - OR
- ⇒ Menggambarkan rangkaian persamaan gerbang EX - NOR
- ⇒ Menuliskan persamaan Aljabar Boole Gerbang EX - OR
- ⇒ Menuliskan persamaan Aljabar Boole Gerbang EX - NOR
- ⇒ Menggambarkan diagram pulsa gerbang EX - OR
- ⇒ Menggambarkan diagram pulsa gerbang EX - NOR


Waktu 4 x 45 menit

Alat Bantu / Persiapan

Alat :

- ⇒ Bread Board 1 buah
- ⇒ Catu Daya 5 V DC 1 buah
- ⇒ Multi meter Analog 1 buah

Bahan:




⇒ IC EX - OR (7486) 1 buah

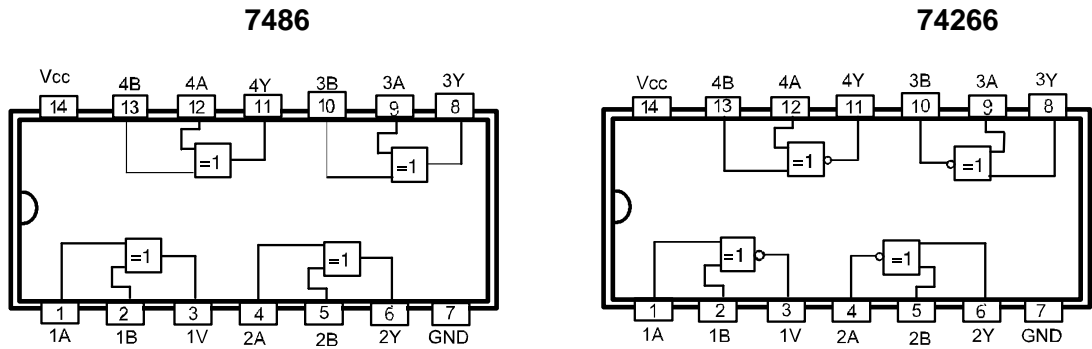
⇒ IC EX - NOR (74266) 1 buah

Keselamatan Kerja

⇒ Hati - hati terhadap jaringan 220 V/AC



Gambar :



- | | | |
|-------------------|-------------------|-------------------|
| SN5486 (J,W) | SN7486 (J,N) | SN54AL266 (J) |
| | SN74H266 (N) | |
| SN54ALS86 (J) | SN74ALS86 (N) | SN54LS266 (J,W) |
| | SN74LS266 (J,N) | |
| SN54HC86 (J) | SN74HC86 (N) | |
| SN54LS86A (J,W) | SN74LS86A (J,N) | |
| SN54S86 (J,W) | SN74S86 (J,N) | |

FUNCTION TABLE

TABLE

INPUTS		OUTPUT
A	B	Y
L	L	L
L	H	H
H	L	H
H	H	L


H = High level, L = Low level

EX - OR

FUNCTION

INPUTS		OUTPUT
A	B	Y
L	L	H
L	H	L
H	L	L
H	H	H

EX -



NOR

$$Y = A \oplus B, \text{ atau}$$

$$Y = A \vee B, \text{ atau}$$

$$Y = \overline{AB} + A\overline{B}, \text{ atau}$$


$$Y = (\overline{A} \wedge B) \vee (A \wedge \overline{B})$$

$$Y = \overline{A \oplus B}, \text{ atau}$$

$$Y = \overline{A \vee B}, \text{ atau}$$

$$Y = AB + \overline{A\overline{B}}, \text{ atau}$$

$$Y = (A \wedge B) \vee (\overline{A \wedge B})$$

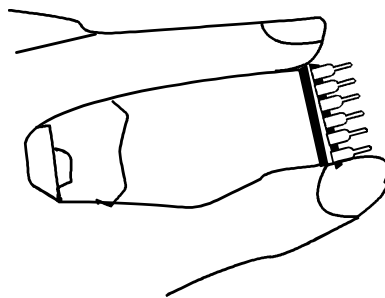


Langkah Kerja

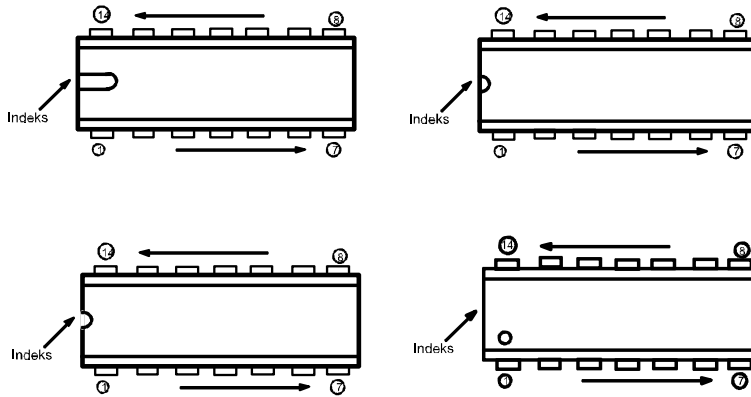

1. Lengkapi gambar 1 dengan tanda masukan dan keluaran (lihat keterangan).
2. Dengan gambar 2, buatlah rangkaiannya pada papan percobaan.
3. Lapor instruktur sebelum rangkaiannya dihubung sumber.
4. Hubungkan ke sumber tegangan 5V DC.
5. Lakukan percobaan sesuai tabel kebenaran.
6. Perhatikan perubahan pada keluaran, catat di tabel.
7. Gambar rangkaian persamaannya.
8. Tuliskan aljabar Boole gerbang EX-OR,
9. Buat diagram pulsa.
10. Jelaskan prinsip kerja gerbang EX-OR pada instruktur.
11. Ulangi langkah kerja 1 sampai 10 untuk gerbang EX-NOR (74266).

Cara Kerja / Petunjuk

1. Cara memegang IC yang benar diperlihatkan oleh gambar dibawah :



2. Perhatikan tanda gambar di bawah untuk menetapkan nomor kaki secara tepat :

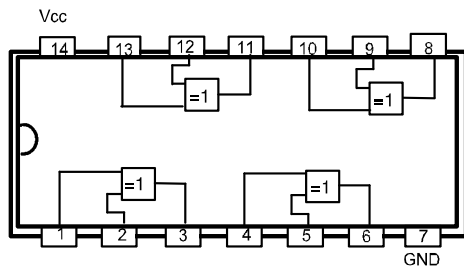


3. Jangan memasang / melepas IC secara paksa.
4. Pasang IC dengan tepat, jangan terbalik.

Tugas

Gerbang EX - OR (IC - 7486)

Untuk langkah 1

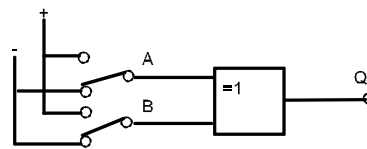


Gambar 1

Untuk langkah 6

Tabel kebenaran

Masukan		Keluarkan
B	A	Q
0	0	
0	1	





Keterangan :
 A dan B = masukan
 Z = keluaran
 A, B dan Z = variabel

Gambar 2

Untuk langkah 7

Rangkaian Persamaan





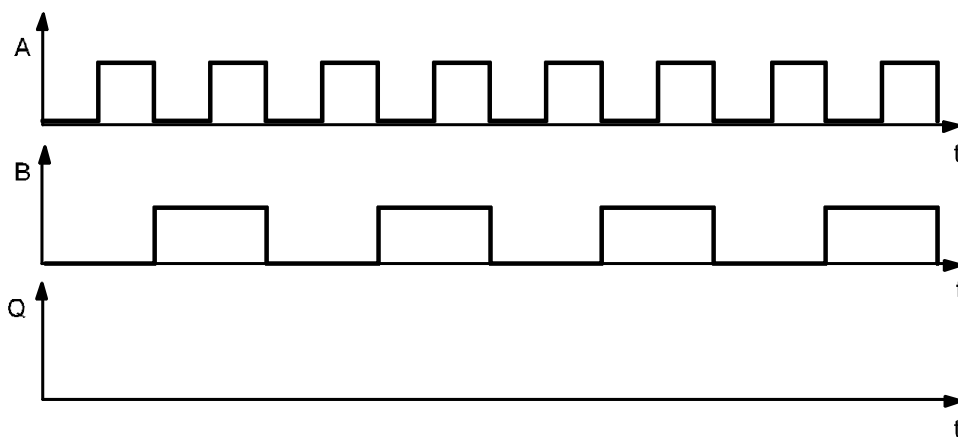
1	0	
1	1	

Untuk langkah 8

Q =

Untuk langkah 9

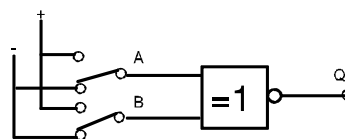
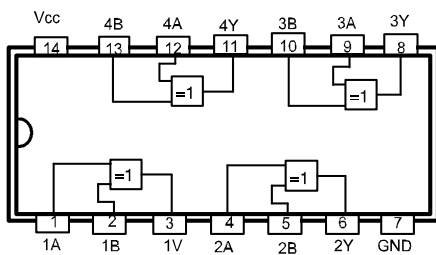
Diagram Pulsa




Tugas

Gerbang EX - NOR (IC - 74266)

Untuk langkah 1



Keterangan :
 A dan B = masukan
 Z = keluaran
 A, B dan Z = variabel




Untuk langkah 6

Tabel kebenaran

Masukan		Keluarkan
B	A	Q
0	0	
0	1	
1	0	
1	1	

Untuk langkah 7

Rangkaian Persamaan

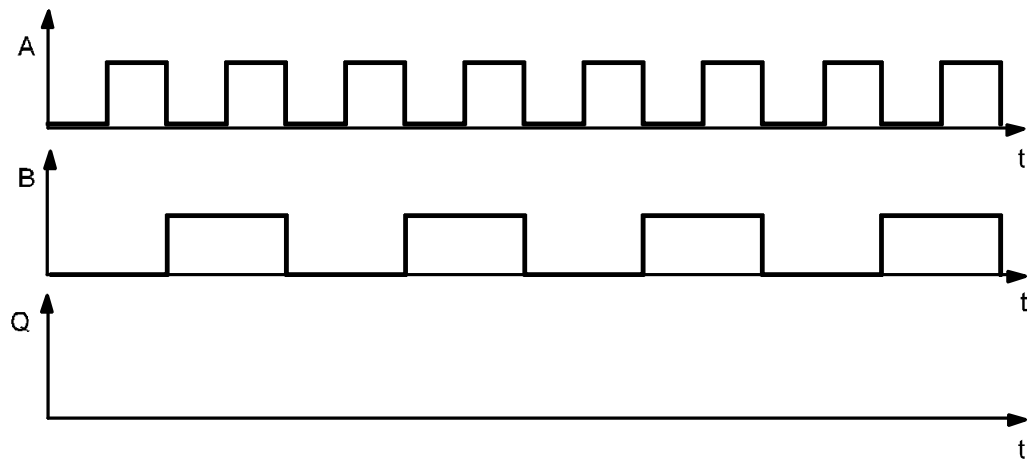



Untuk langkah 8

Q =

Untuk langkah 9

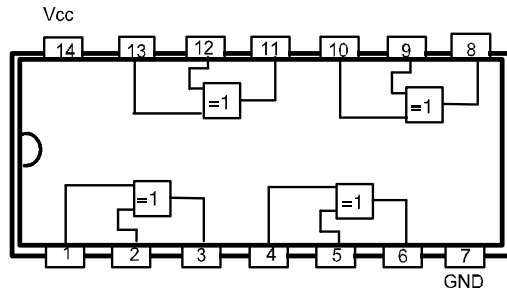
Diagram Pulsa





Jawaban

Untuk langkah 1



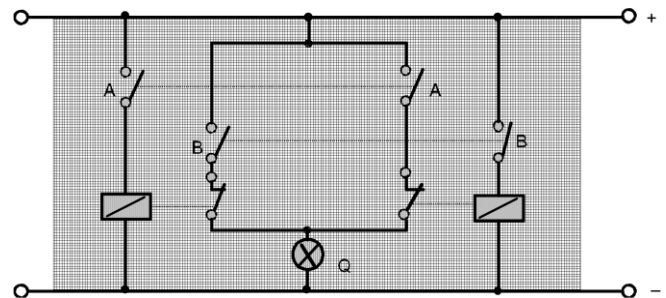
Untuk langkah 6

Tabel kebenaran

Masukan		Keluarkan
B	A	Q
0	0	0
0	1	1
1	0	1
1	1	0

Untuk langkah 7


Rangkaian Persamaan



Untuk langkah 8

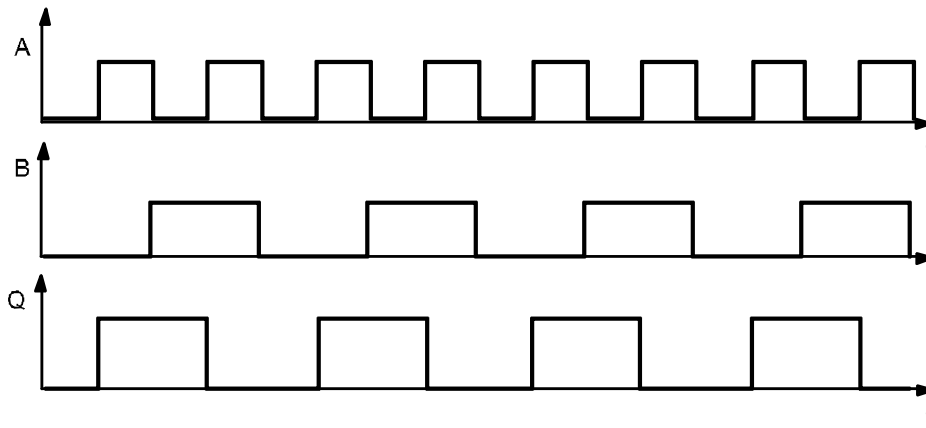
$$Q = (\bar{A} \wedge B) \vee (A \wedge \bar{B}) \text{ atau}$$

$$Q = A \vee B$$

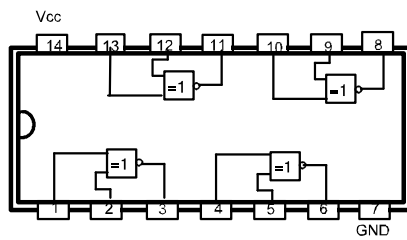


Untuk langkah 9

Diagram Pulsa



Untuk langkah 1



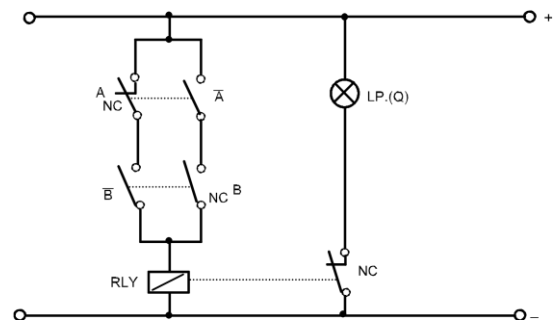
Untuk langkah 6

Tabel kebenaran


Masukan		Keluarkan
B	A	Q
0	0	1
0	1	0
1	0	0
1	1	1

Untuk langkah 7

Rangkaian Persamaan



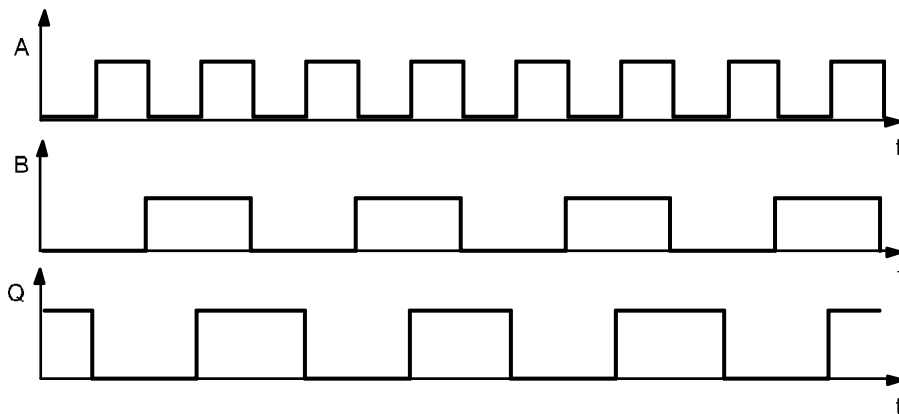
Untuk langkah 8




$$Q = (A \wedge B) \vee (\bar{A} \wedge \bar{B}) \text{ atau}$$
$$Q = \overline{A \vee B}$$

Untuk langkah 9

Diagram Pulsa





4.10 TUGAS Kegiatan Belajar 3 - 5

Logika AND Menggunakan Teknik NAND

Tujuan Instruksional Umum

Setelah pelajaran selesai, peserta harus dapat:

- ⇒ Membuat gerbang AND dengan teknik NAND

Tujuan Instruksional Khusus

Peserta harus dapat:

- ⇒ Membangun rangkaian logika AND menggunakan gerbang NAND
- ⇒ Menyusun tabel kebenaran atas rangkaian
- ⇒ Menegaskannya dengan referensi logika AND
- ⇒ Menuliskan persamaan logika atas rangkaian secara sederhana.

Waktu 2 x 45 menit

Alat dan Bahan

Alat Alat:

- ⇒ Catu daya 5V DC 1 buah
- ⇒ Papan percobaan/trainer digital 1 buah


Bahan:

- ⇒ IC 7400 (74 LS 00) 1 buah

Keselamatan Kerja

- ⇒

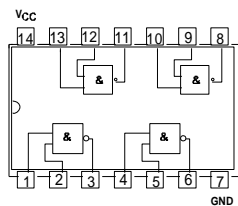
Langkah Kerja



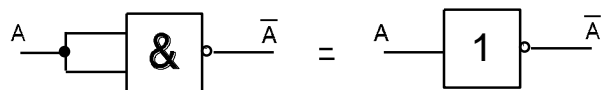
1. Buat rangkaian seperti gambar 1.
2. Laporkan instruksi sebelum rangkaian dihubungkan ke sumber
3. Gunakan sakelar, buatlah kombinasi masukan pada rangkaian logika dengan tepat
4. Catat keluaran ke tabel untuk tiap-tiap masukan
5. Fungsi logika dasar manakah yang ditunjukkan oleh keluaran Q_2 ?
6. Evaluasi tabel kebenaran dan jelaskan kerja rangkaian secara logika
7. Tuliskan persamaan logikanya untuk keluaran Q_1 dan Q_2


Cara Kerja / Petunjuk

1. Gambar IC 7400



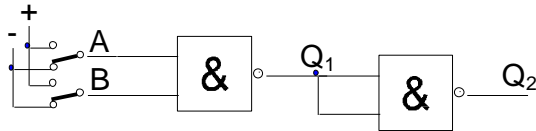
2. Gerbang NAND dapat juga digunakan sebagai inverter (gerbang NOT) dengan cara sbb :





4.11 Tugas

Logika AND menggunakan gerbang NAND




Gambar 1.

Untuk langkah 4

Tabel kebenaran

MASUKAN		KELUARAN	
B	A	Q ₁	Q ₂
0	0		
0	1		
1	0		
1	1		

Untuk langkah 5




Untuk langkah 6

Untuk langkah 7

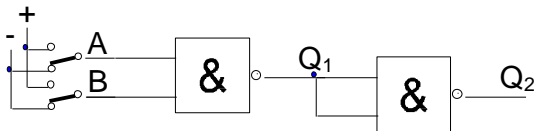
$$Q_1 =$$

$$Q_2 =$$



Jawaban

Logika AND menggunakan gerbang NAND



Gambar 1.

Untuk langkah 4

Tabel kebenaran

MASUKAN		KELUARAN	
B	A	Q ₁	Q ₂
0	0	1	0
0	1	1	0
1	0	1	0
1	1	0	1


Untuk langkah 5

Keluaran Q₂ akan mendapatkan logik 1 jika hanya masukannya 1

Keluaran Q₂ sesuai dengan hasil keluaran pada tabel kebenaran adalah logika AND

Untuk langkah 6


Jika keluaran Q₁ pada gerbang NAND dibalik dengan gerbang NAND[̄] kedua (Q₂ =Q), maka rangkaian lengkapnya berfungsi sebagai logika AND



Untuk langkah 7

$$Q_1 = \overline{A \wedge B}$$

$$Q_1 = \overline{Q_2} = \overline{\overline{A \wedge B}} = A \wedge B$$



4.12 TUGAS Kegiatan Belajar 3 - 6

Logika AND dan NAND Menggunakan Teknik NOR

Tujuan Instruksional Umum

Setelah pelajaran selesai, peserta harus dapat:

- ⇒ Membuat gerbang NAND dan NAND dengan teknik NOR

Tujuan Instruksional Khusus

Peserta harus dapat:

- ⇒ Membangun logika AND dan NAND menggunakan gerbang NOR
- ⇒ Menyusun tabel kebenaran rangkaian AND dan NAND
- ⇒ Menegaskan catatan tabel kebenaran, rangkaian dengan gerbang NOR fungsi logika AND dan NAND
- ⇒ Menuliskan persamaan logika rangkaian secara sederhana.

Tugas

⇒

Waktu 4 jam

Alat dan Bahan


Alat Alat:

- ⇒ Catu daya 5VDC 1 buah
- ⇒ Papan percobaan/trainer digital 1 buah


Bahan:

- ⇒ IC 7402 (74LS02) 1 buah

Keselamatan Kerja




- ⇒ Pada saat anda membuat rangkaian pastikan bahwa catu daya dalam keadaan off
- ⇒ Perhatikan cara kerja / petunjuk pada halaman (2-1)



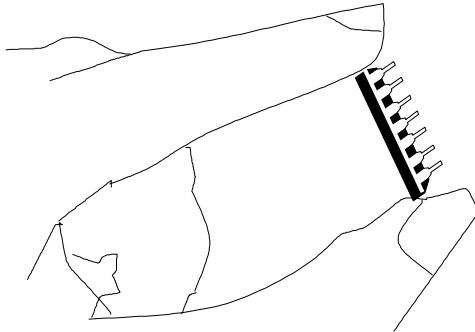
Langkah Kerja

1. Buat rangkaian seperti gambar 1
2. Gunakan sakelar, buatlah kombinasi tiap masukan pada rangkaian logika dengan tepat
3. Catat tingkat keluaran untuk tiap-tiap masukan ke tabel kebenaran 1
4. Fungsi logika dasar apa yang, ditunjukkan oleh keluaran Q pada rangkaian tersebut ?
5. Evaluasilah tabel kebenaran dan jelaskan kerja rangkaian secara logika
6. Dengan catatan tabel kebenaran, ubahlah ke persamaan logika AND secara sederhana
7. Gambarlah rangkaian logika fungsi NAND menggunakan gerbang NOR
8. Hasilkan semua kombinasi masukan menggunakan sakelar
9. Lengkapi tabel kebenaran 2
10. Fungsi logika dasar apa yang, ditunjukkan oleh out put Q pada rangkaian tersebut ?
11. Evaluasilah tabel kebenaran dan jelaskan kerja rangkaian secara logika
12. Nyatakan persamaan rangkaian logika NAND secara sederhana.

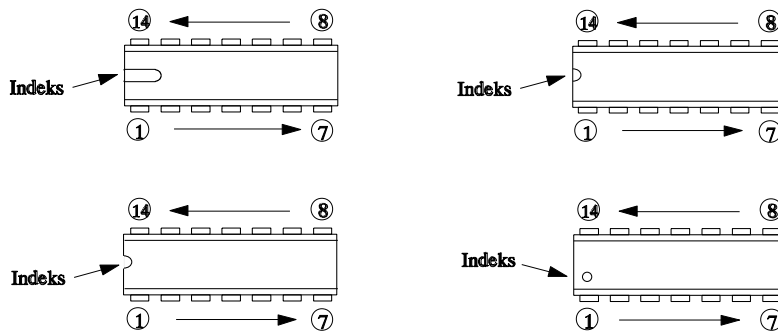


Cara Kerja / Petunjuk

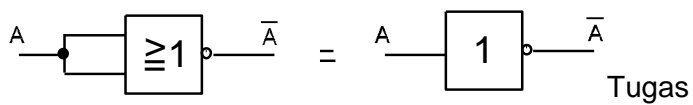
1. Perhatikan cara memegang IC yang benar.



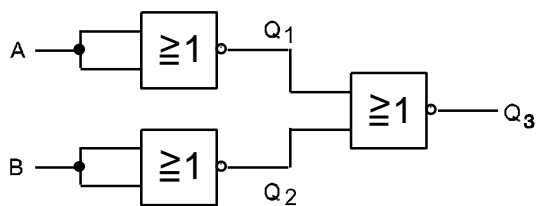
2. Perhatikan tanda pada gambar di bawah untuk menetapkan nomor kaki IC secara tepat.




3. Pada gerbang NOR, dapat kita gunakan sebagai gerbang not (inverter) dengan cara sebagai berikut :



Logika AND menggunakan gerbang NOR





Untuk langkah 3


Tabel kebenaran 1.

B	A	Q1	Q2	Q3
0	0			
0	1			
1	0			
1	1			

Untuk langkah 4

Untuk langkah 5


Untuk langkah 6



Untuk langkah 10

Untuk langkah 11

Untuk langkah 12



Jawaban

Logika AND menggunakan gerbang NOR

Untuk langkah 3

Tabel kebenaran 1.

B	A	Q1	Q2	Q3
0	0	1	1	0
0	1	0	1	0
1	0	1	0	0
1	1	0	0	1

Untuk langkah 4

Keluaran Q3 memenuhi kondisi fungsi logika ANDA

Untuk langkah 5

Pada keluaran Q1 dan Q2 merupakan hasil inverter dari dua gerbang NOR dan dimasukkan pada gerbang NOR ketiga, sehingga rangkaian lengkap dan hasil keluarannya merupakan ekivalen sebuah rangkaian logika AND

Untuk langkah 6

$$Q1 = \bar{A} \dots \dots \dots (1)$$


$$Q2 = \bar{B} \dots \dots \dots (2)$$

$$Q3 = \overline{Q1 \vee Q2} \dots \dots \dots (3)$$

Dari persamaan 1,2 dan 3 kita dapatkan :

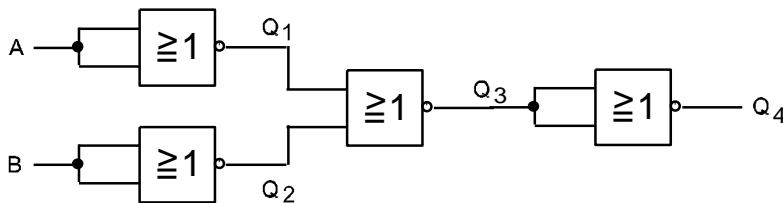
$$Q3 = \overline{\bar{A} \vee \bar{B}} = \bar{\bar{A}} \wedge \bar{\bar{B}} = A \wedge B$$

$$Q3 = A \wedge B$$



Logika NAND menggunakan gerbang NOR

Untuk langkah 7



Untuk langkah 9

Tabel kebenaran 2

B	A	Q1	Q2	Q3	Q4
0	0	1	1	0	1
0	1	0	1	0	1
1	0	1	0	0	1
1	1	0	0	1	0

Untuk langkah 10

Keluaran Q4 memenuhi kondisi fungsi logika NAND

Untuk langkah 11

Gerbang NOR ke empat membalik keluaran Q3 pada logika AND, sehingga


$Q4 = \overline{Q3}$ hal ini memenuhi kondisi logika NAND

Untuk langkah 12

Persamaan logika AND yaitu : $Q3 = \overline{\overline{A} \wedge \overline{B}} = A \wedge B$

dengan $Q4 = \overline{Q3}$, didapatkan persamaan logika NAND sbb:

$Q4 = \overline{A \wedge B}$



V. Kegiatan Belajar 4.

FLIP-FLOP**5.1 Tujuan Pembelajaran**

Peserta diklat / siswa dapat :


- Memahami prinsip dasar rangkaian S-R Flip-Flop.
- Memahami prinsip dasar rangkaian D Flip-Flop.
- Memahami prinsip dasar rangkaian J-K Flip-Flop.
- Memahami rangkaian Toggling Mode J-K Flip-Flop.
- Memahami prinsip dasar penghitung Naik Asinkron (*Asynchron Up Counter*)
- Memahami prinsip dasar penghitung Turun Asinkron (*Asynchrony Down Counter*)
- Memahami prinsip dasar penghitung Naik Sinkron (*Synchrony Up Counter*)
- Memahami prinsip dasar penghitung Turun Sinkron (*Synchrony Down Counter*)

5.2 Uraian Materi**1. Prinsip dasar rangkaian S-R Flip-Flop.****S-R flip-flop (bistabel flip-flop)**

Untuk menyederhanakan PSNS, maka dikembangkan *set-reset flip-flop*. Pada kondisi $S = 0$ dan $R = 0$, maka kondisi $X(t+1) = X(t)$. Bila $S = 1$ dan $R = 0$, maka kondisi $X(t+1) = 1$. Bila $S = 0$ dan $R = 1$, maka $X(t+1) = 0$. Bila $S = 1$ dan $R = 1$ maka $X(t+1)$ tidak didefinisikan.

Tabel 1 Tabel kebenaran S-R *flip-flop*

S	R	X(t+1)
0	0	X(t)
0	1	1
1	0	0
1	1	?

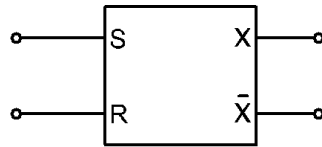


$$X(t+1) = \overline{Y(t) + R(t)}$$

$$Y(t+1) = \overline{X(t) + S(t)}$$

$$X(t+1) = \overline{\overline{X(t) + S(t)} + R(t)}$$

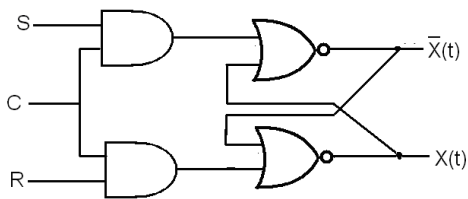
$$X(t+1) = \overline{R(t)}\{X(t) + S(t)\}$$



Gambar 2 Blok diagram SR *flip-flop*.

Clocked S-R FLIP-FLOP

Sebuah S-R *flip flop* adalah rangkaian S-R flip-flop yang dikendalikan oleh *clock*. *Set* dan *reset* akan dikendalikan oleh kondisi *clock*. *Set* dan *reset* akan berfungsi hanya bila kondisi *clock* adalah *high* ("1"), sebaliknya *set* dan *reset* tidak akan berfungsi atau $X(t+1) = X(t)$ bila kondisi *clock* adalah *low* ("0").




Gambar 3 Rangkaian *clocked* S-R *flip-flop*

Persamaan :

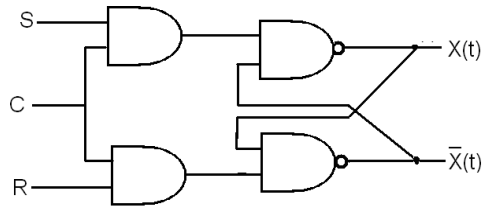
$$X(t+1) = \overline{RC(t)}\{X(t) + SC(t)\}$$

Bila $C = 0$, maka $X(t+1) = X(t)$

$$C = 1, \text{ maka } X(t+1) = \overline{RC(t)}\{X(t) + SC(t)\}$$



Clocked S-R flip-flop bisa dikembangkan dengan menggunakan gerbang NAND.



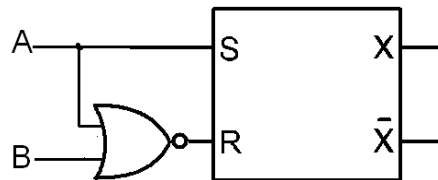
Gambar 4 Clocked S-R flip flop dengan gerbang NAND

Dari gambar 4 tersebut di atas dapat dituliskan persamaan :

$$X(t+1) = S(t) + \bar{R}(t)\{X(t)\}$$

RS Flip Flop dengan NOR

Pengembangan lebih lanjut dari Set reset flip-flop (RS flip-flop) adalah dengan memasang gerbang NOR pada reset R. Pada gambar 5 bila masukan B = "0" (low), maka keluaran X(t+1)=X(t).



Gambar 5. RS flip-flop dengan NOR

Dari gambar 5 bisa dituliskan persamaan :

$$S(t) = A(t)$$

$$R(t) = \overline{A(t)+B(t)}$$


$$X(t+1) = \bar{R}(t)\{S(t)+ Z(t)\}$$

$$X(t+1) = \overline{\overline{A(t)+B(t)}}\{A(t)+ Z(t)\}$$

$$X(t+1) = A(t)+ A(t)Z(t)+ A(t)B(t)+ B(t)Z(t)$$

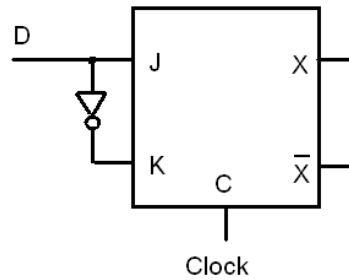
$$X(t+1) = A(t)+ B(t)Z(t)$$

Syarat S.R≠ 1



2. Prinsip dasar rangkaian D Flip-Flop.

Data *flip-flop* (*D-flip flop*) adalah sebuah register yang berfungsi mengendalikan atau menyimpan data masukan. Antara masukan J dan K terhubung gergang NOT, sehingga rangkaian ini hanya memiliki sebuah masukan D saja.



Gambar 6 *D-flip-flop*

Dari gambar 6 tersebut di atas maka bisa dituliskan tabel kebenaran D flip-flop seperti di tabel bawah.

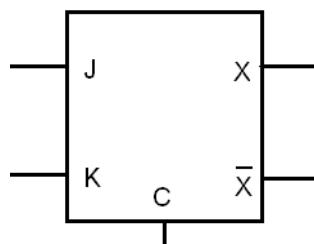
Tabel 2 Tabel kebenaran D *flip flop*


D	X	X(t+1)
0	0	0
0	1	0
1	0	1
1	1	1

Persamaan D *flip flop*: $X(t+1) = D(t)$

3. Prinsip dasar rangkaian J-K Flip-Flop.

Pengembangan dari *RS flip flop* yang lain adalah *JK flip flop*. Rangkaian ini memiliki masukan J dan K , kendali clock C dan keluaran X dan \bar{X} .





Gambar 7 JK flip-flop

Tabel 3 Tabel kebenaran JK flip-flop

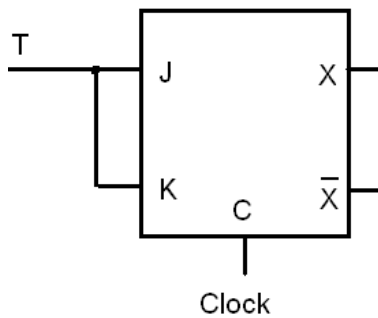
J	K	X(t+1)
0	0	X(t)
0	1	0
1	0	1
1	1	$\bar{X}(t)$

Dari tabel 3 tersebut di atas bisa dituliskan persamaan JK flip-flop

$$X(t+1) = J(t)\bar{X}(t) + \bar{K}(t)X(t)$$

4. Rangkaian Toggling Mode J-K Flip-Flop.


Toggle flip flop dipersiapkan untuk mendisain sebuah counter (pencacah). Masukan J dan K dihubungkan menjadi satu sebagai masukan T. sebuah kendali clock C dan keluaran keluaran X dan \bar{X}



Gambar 8 T flip-flop.

Tabel 4 Tabel Kebenaran T flip-flop

T	X	X(t+1)
0	0	0
0	1	1
1	0	1
1	1	0



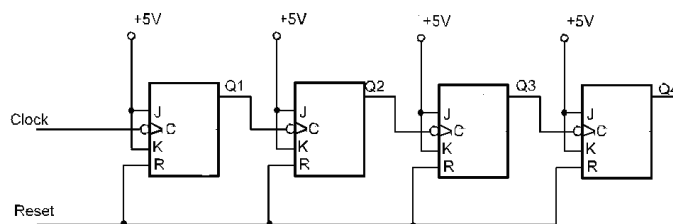
Dari Tabel 4 Tabel Kebenaran bisa dituliskan persamaan T *flip-flop* seperti persamaan di bawah.

$$X(t+1)=T \oplus X$$

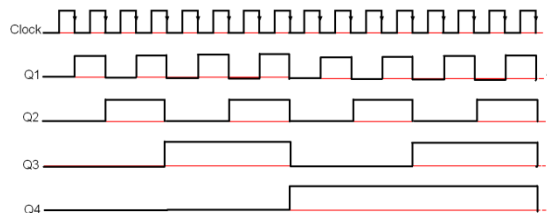
5. Penghitung Naik Asinkron (*Asynchron Up Counter*)

Penghitung naik yang terdiri dari empat bit keluaran Q1, Q2, Q3, Q4. *Clock* diberi masukan dari keluaran sebelumnya (tidak serempak). Rangkaian ini akan menghitung “0000” sampai dengan “1111”

Rangkaian penghitung naik asinkron diperlihatkan pada Gambar 9a sedang gambar pulsanya diperlihatkan pada Gambar 9b



(a) Rangkaian penghitung naik asinkron



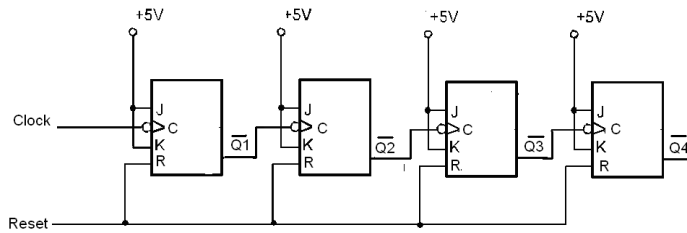

(b) Pulsa penghitung naik asinkron (*Asynchron Up Counter*)

Gambar 9 Penghitung naik asinkron

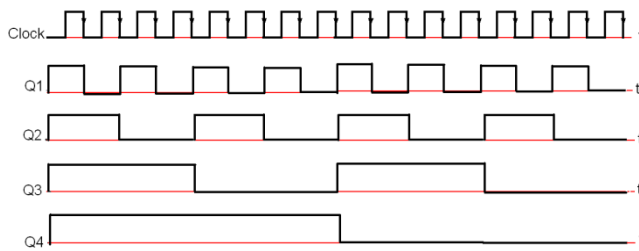
Keluaran rangkaian akan berubah kondisinya hanya bila pulsa pada masukan *clock* C bergerak dari *high* (“1”) ke *low* (“0”), pada kondisi lain maka keluaran akan tetap dipertahankan.

6. Penghitung Turun Asinkron (*Asynchrony Down Counter*)

Penghitung turun asinkron yang terdiri dari empat bit keluaran Q1, Q2, Q3, Q4. Rangkaian ini akan menghitung “1111” sampai dengan “0000”



(a) Rangkaian Penghitung turun asinkron



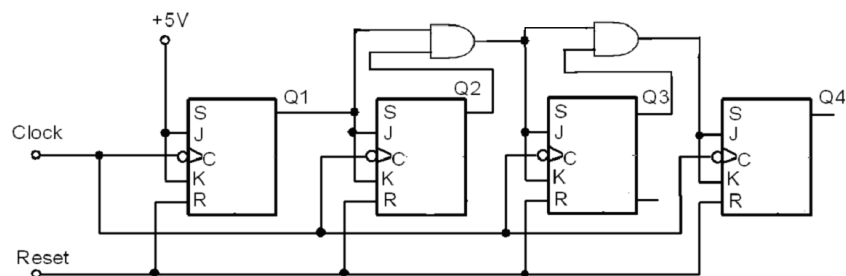
(b) Bentuk pulsa penghitung turun asinkron


Gambar 10 Penghitung turun asinkron

Keluaran rangkaian akan berubah kondisinya hanya bila pulsa pada masukan *clock* C bergerak dari *high* ("1") ke *low* ("0"), pada kondisi lain maka keluaran akan tetap dipertahankan namun komposisi keluaran empat buah JK *flip-flop* akan bergerak dari "1111" menuju "0000".

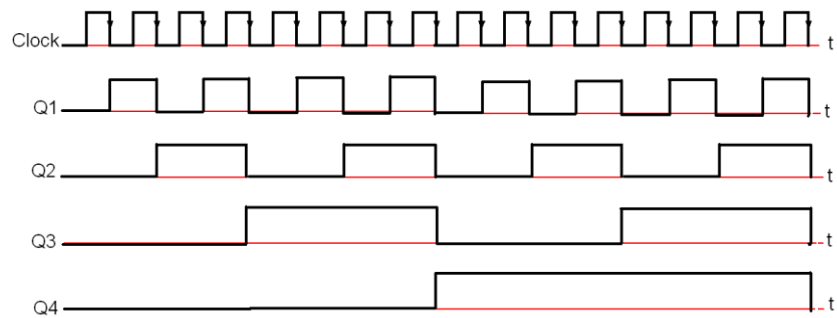
7. Penghitung Naik Sinkron (*Synchrony Up Counter*)

Penghitung naik sinkron yang terdiri dari empat bit keluaran Q_1, Q_2, Q_3, Q_4 . *Clock* diberi masukan secara serempak (terpasang paralel) dan diberi masukan *clock* secara bersamaan dari sumber *clock*. Rangkaian ini akan menghitung "0000" sampai dengan "1111". Sama dengan penghitung sebelumnya bawa kondisi keluaran akan berubah kondisinya hanya bila ada sinyal masukan pada *clock* C yang bergerak dari *high* ke *low*.





(a) Rangkaian penghitung naik sinkron

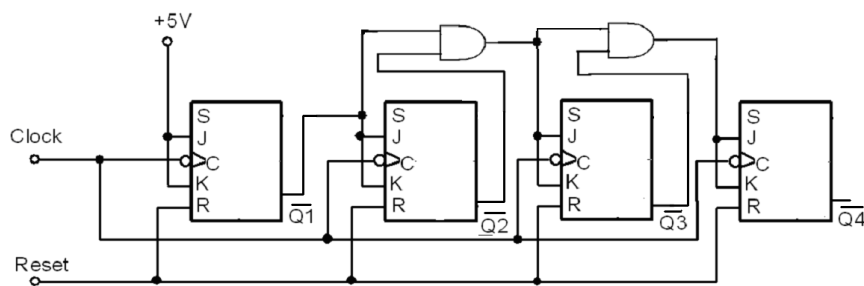


(b) Bentuk pulsa penghitung naik sinkron

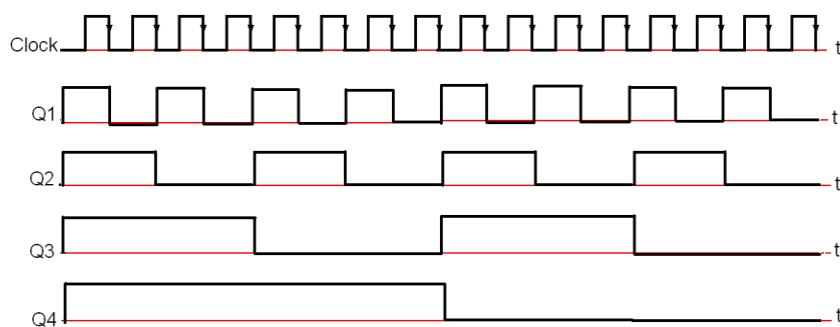
Gambar 11 Penghitung naik sinkron

8. Penghitung Turun Sinkron (*Synchrony Down Counter*)

Kebalikan dari penghitung naik sinkron, penghitung turun sinkron yang terdiri dari empat bit keluaran Q_1, Q_2, Q_3, Q_4 . Rangkaian ini akan menghitung “1111” sampai dengan “0000”. Masukan *clock* diberi masukan secara serempak.




(a) Rangkaian penghitung turun sinkron




(b) Bentuk pulsa penghitung turun sinkron

Gambar 12 penghitung turun sinkron




Penghitung baik sinkron maupun asinkron bisa didisain sebagai pengitung dari 1 sampai dengan 15 (contoh penghitung sampai dengan 10,8, 6 dsb.) dengan cara memasang gerbang-gerbang dasar tertentu yang inputnya dipasang pada keluaran beberapa *flip-flop* sedangkan keluarannya diumpankan ke *reset* R agar penghitung kembali ke “0”



5.3 Rangkuman


1. Prinsip dasar rangkaian Clocked S-R Flip-Flop.
Set-Reset Flip-flop. Pada kondisi $S = 0$ dan $R = 0$, maka kondisi $X(t+1) = X(t)$. Bila $S = 1$ dan $R = 0$, maka kondisi $X(t+1) = 1$. Bila $S = 0$ dan $R = 1$, maka $X(t+1) = 0$. Bila $S = 1$ dan $R = 1$ maka $X(t+1)$ tidak didefinisikan.
2. Prinsip dasar rangkaian D Flip-Flop.
Data flip-flop (D-flip flop) adalah sebuah register yang berfungsi mengendalikan atau menyimpan data masukan. Antara masukan J dan K terhubung gergang NOT, sehingga rangkaian ini hanya memiliki sebuah masukan D saja.
3. Prinsip dasar rangkaian J-K Flip-Flop.
JK flip flop. Rangkaian ini memiliki masukan J dan K, kendali clock C dan keluaran X dan \bar{X} .
4. Rangkaian Toggling Mode J-K Flip-Flop.
Toggle flip flop dipersiapkan untuk mendisain sebuah *counter* (pencacah). Masukan J dan K dihubungkan menjadi satu sebagai masukan T. sebuah kendali *clock* C dan keluaran keluaran X dan \bar{X} .
5. Penghitung Naik Asinkron (*Asynchron Up Counter*)
Penghitung naik yang terdiri dari empat bit keluaran Q1, Q2, Q3, Q4. *Clock* diberi masukan dari keluaran rangkaian sebelumnya (tidak serempak). Rangkaian ini akan menghitung "0000" sampai dengan "1111"
Keluaran rangkaian akan berubah kondisinya hanya bila pulsa pada masukan *clock* C bergerak dari *high* ("1") ke *low* ("0"), pada kondisi lain maka keluaran akan tetap dipertahankan.



6. Penghitung Turun Asinkro (*Asynchrony Down Counter*)
Penghitung turun asinkron yang terdiri dari empat bit keluaran Q₁, Q₂, Q₃, Q₄. Rangkaian ini akan menghitung “1111” sampai dengan “0000”
Keluaran rangkaian akan berubah kondisinya hanya bila pulsa pada masukan *clock* C bergerak dari *high* (“1”) ke *low* (“0”), pada kondisi lain maka keluaran akan tetap dipertahankan namun komposisi keluaran empat buah JK *flip-flop* akan bergerak dari “1111” menuju “0000”.

7. Penghitung Naik Sinkron (*Synchrony Up Counter*)
Penghitung naik sinkron yang terdiri dari empat bit keluaran Q₁, Q₂, Q₃, Q₄. *Clock* diberi masukan secara serempak (terpasang paralel) dan diberi masukan *clock* secara bersamaan dari sumber *clock*. Rangkaian ini akan menghitung “0000” sampai dengan “1111”. Sama dengan penghitung sebelumnya bawa kondisi keluaran akan berubah kondisinya hanya bila ada sinyal masukan pada *clock* C yang bergerak dari *high* ke *low*.

8. Penghitung Turun Sinkron (*Synchrony Down Counter*)
Penghitung turun sinkron yang terdiri dari empat bit keluaran Q₁, Q₂, Q₃, Q₄. Rangkaian ini akan menghitung “1111” sampai dengan “0000”. Masukan *clock* diberi masukan secara serempak.
Penghitung baik sinkron maupun asinkron bisa didisain sebagai pengitung dari 1 sampai dengan 15 (contoh penghitung sampai dengan 10,8, 6 dsb.) dengan cara memasang gerbang-gerbang dasar tertentu yang inputnya dipasang pada keluaran beberapa *flip-flop* sedangkan keluarannya diumpankan ke *reset* R agar penghitung kembali ke “0”



5.4 TUGAS Kegiatan Belajar 4 - 1

Penghitung Naik Asinkron

Tujuan Instruksional Umum

Setelah pelajaran selesai peserta harus dapat:

- ⇒ Memahami prinsip kerja rangkaian penghitung naik asinkron

Tujuan Instruksional Khusus

Peserta harus dapat:

- ⇒ Membangun sebuah rangkaian penghitung naik asinkron menggunakan JK - FF
- ⇒ Menyusun tabel kebenaran untuk rangkaian penghitung
- ⇒ Menggambar diagram pulsa penghitung dengan melihat bentuk gelombang pada oscilloscope

Waktu


8 x 45 menit

Benda Kerja

- ⇒ - IC 74 107 (74 LS 107)

Alat dan Bahan

- ⇒ Alat Alat: Papan percobaan/Triner Digital
- ⇒ Dual trace oscilloscope
- ⇒ Clock generator
- ⇒ Sakelar push - button
- ⇒ Tool sheet
- ⇒ Catu daya 5V DC



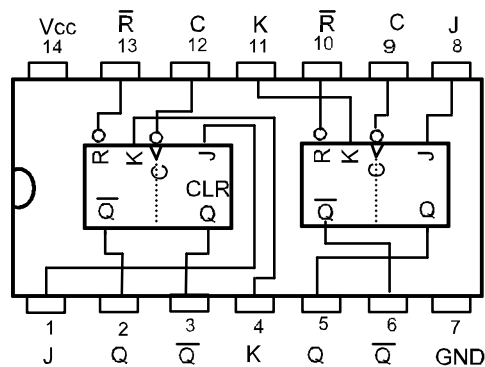
Keselamatan Kerja

- ⇒ Gunakan pakaian kerja dengan benar
- ⇒ Hindari hubung singkat


Langkah Kerja

1. Buatlah rangkaian seperti gambar 1
2. Dengan menggunakan push - button, berilah pulsa pada clock penghitung dan periksalah fungsi - fungsinya dengan benar.
3. Lengkapilah tabel, sesuai dengan sisi clock
4. Pasanglah clock generator pada rangkaian
5. Gambarlah diagram waktu
6. Berilah valensi biner tiap-tiap keluaran pada penghitung

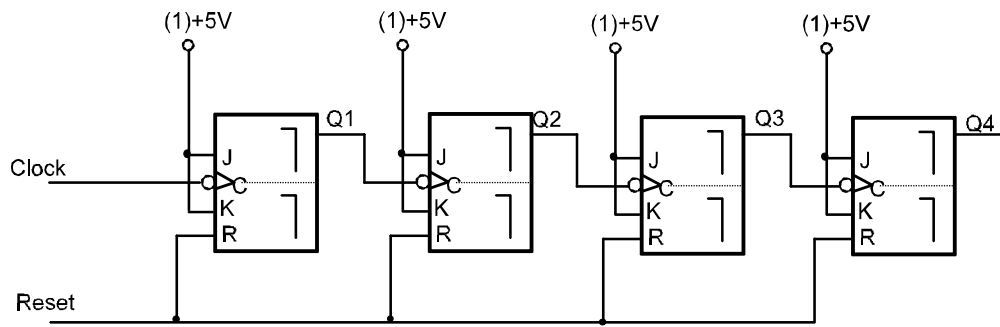
Petunjuk




IC 74107, LS107



Untuk Langkah Kerja 1.




Gambar .1.



Untuk Langkah Kerja 3

Tabel Kebenaran

Start	Sisi clock	0	Q4	Loncatan	Q3	Loncatan	Q2	Loncatan	Q1	Loncatan
	0	0	0		0		0		0	
	1.	0 → 1								
	2.	1 → 0								
	3.	0 → 1								
	4.	1 → 0								
	5.	0 → 1								
	6.	1 → 0								
	7.	0 → 1								
	8.	1 → 0								
	9.	0 → 1								
	10.	1 → 0								
	11.	0 → 1								
	12.	1 → 0								
	13.	0 → 1								
	14.	1 → 0								
	15.	0 → 1								
	16.	1 → 0								
	17.	0 → 1								
	18.	1 → 0								
	19.	0 → 1								
	20.	1 → 0								
	21.	0 → 1								
	22.	1 → 0								
	23.	0 → 1								
	24.	1 → 0								



25.	0 → 1								
26.	1 → 0								
27.	0 → 1								
28.	1 → 0								
29.	0 → 1								
30.	1 → 0								
31.	0 → 1								
32.	1 → 0								

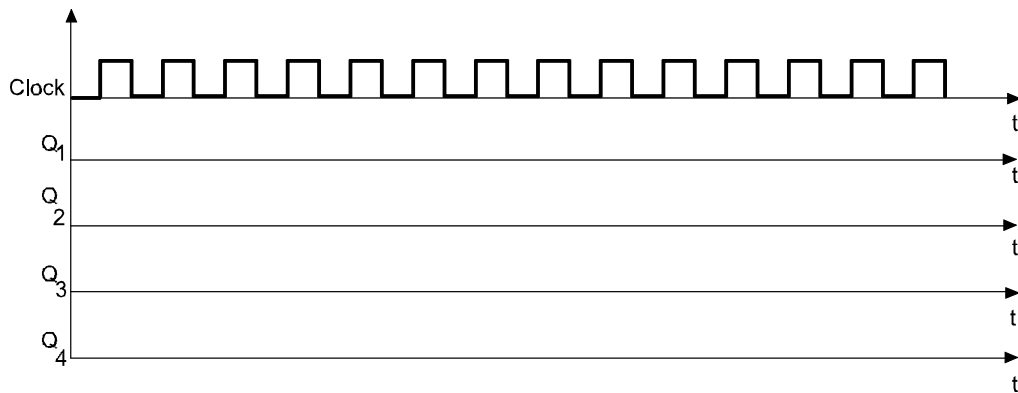
Untuk langkah Kerja 5

Diagram waktu sebuah penghitung naik asinkron

Frekuensi clock 1 kHz.

Jarak pulsa S


Periode pulsa S



Lengkapi sisi pergantian pulsa clock dengan anak panah pada diagram waktu sebagai berikut :

SISI POSITIP

SISI NEGATIP



Catatan :

Bentuk gelombang harus dilihat pada oscilloscope, sesudah yang satu kemudian lainnya (Q1,Q2,Q3,Q4)

Penetapan pemacu (trigger setting) pada oscilloscope harus tetap tak berubah selama pengukuran, sehingga hubungan waktu yang tepat antara keluaran-keluarannya dapat terlihat.

Untuk langkah Kerja 6

a). Valensi pada keluaran penghitung


<u>Nilai</u>	<u>Keluaran</u>
.....	Q1
.....	Q2
.....	Q3
.....	Q4

b). Dengan sebuah penghitung naik rangkap asinkron, ini tetap untuk menghitung dalam biner berturut-turut yaitu

Ini memberikan sebuah nilai dalam desimal untuk

c). Dalam penghitung naik rangkap asinkron, JK flip-flop yang mana mempunyai valensi paling rendah ?


.....



Jawaban


1. Tabel untuk langkah 3

Start	Sisi clock	0	Q4	Loncatan	Q3	Loncatan	Q2	Loncatan	Q1	Loncatan
0.			0		0		0		0	
1.		0 → 1	0		0		0		0	
2.		1 → 0	0		0		0		1	
3.		0 → 1	0		0		0		1	
4.		1 → 0	0		0		1		0	
5.		0 → 1	0		0		1		0	
6.		1 → 0	0		0		1		1	
7.		0 → 1	0		0		1		1	
8.		1 → 0	0		1		0	1 → 0	0	1 → 0
9.		0 → 1	0		1		0		0	
10.		1 → 0	0		1		0		1	
11.		0 → 1	0		1		0		1	
12.		1 → 0	0		1		1		0	1 → 0
13.		0 → 1	0		1		1		0	
14.		1 → 0	0		1		1		1	
15.		0 → 1	0		1		1		1	
16.		1 → 0	1		0	1 → 0	0	1 → 0	0	1 → 0
17.		0 → 1	1		0		0		0	
18.		1 → 0	1		0		0		1	



19.	0 → 1	1		0		0		1	
20.	1 → 0	1		0		1		0	1 → 0
21.	0 → 1	1		0		1		0	
22.	1 → 0	1		0		1		1	
23.	0 → 1	1		0		1		1	
24.	1 → 0	1		1		0	1 → 0	0	1 → 0
25.	0 → 1	1		1		0		0	
26.	1 → 0	1		1		0		1	
27.	0 → 1	1		1		0		1	
28.	1 → 0	1		1		1		0	
29.	0 → 1	1		1		1		0	
30.	1 → 0	1		1		1		1	
31.	0 → 1	1		1		1		1	
32.	1 → 0	0	1 → 0	0	1 → 0	0	1 → 0	0	1 → 0

Loncatan 1 ke 0, sisi menuju negatip, dapat juga digambarkan sebagai :

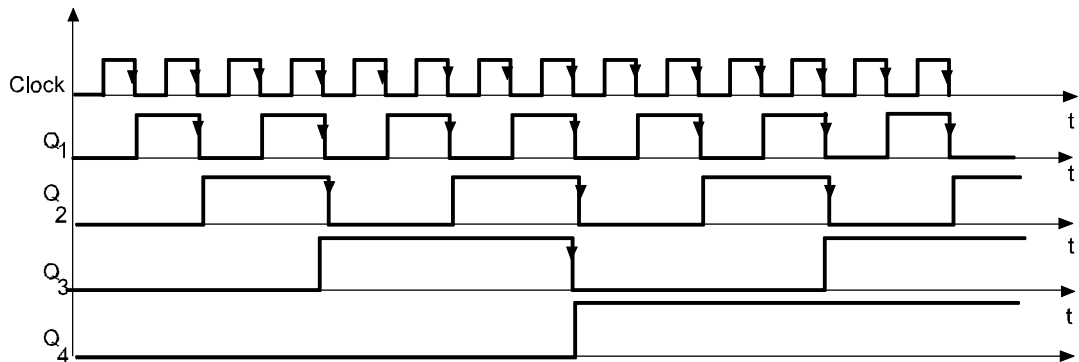


Untuk langkah 5

2. Diagram waktu sebuah penghitung naik asinkron

Frekuensi clock 1 kHz. Jarak pulsa S

Periode pulsa S




3. Untuk langkah 6

a). Valensi pada keluaran penghitung

Nilai	Keluaran
1	Q1
2.	Q2
4	Q3
8	Q4

b). Dengan sebuah penghitung naik rangkap asinkron, ini tetap untuk menghitung dalam biner berturut-turut yaitu **1 1 1 1** Ini memberikan sebuah nilai dalam desimal untuk **15** .

c). Dalam penghitung naik rangkap asinkron, JK flip-flop yang mana mempunyai valensi paling rendah adalah **Flip-flop yang terhubung langsung ke generator clock.**



5.5 TUGAS Kegiatan Belajar 4 - 2

Penghitung Turun Asinkron

Tujuan Instruksional Umum

Setelah pelajaran selesai, peserta harus dapat:

- ⇒ Mengerti prinsip kerja dari rangkaian penghitung turun asinkron menggunakan JK - FF

Tujuan Instruksional Khusus

Peserta harus dapat:

- ⇒ Menyusun tabel kebenaran rangkaian penghitung di atas
- ⇒ Menggambar diagram waktu penghitung dengan melihat bentuk gelombang pada oscilloscope
- ⇒ Menunjukkan keluaran - keluaran penghitung dengan valensi biner yang sesuai

Benda kerja


- ⇒ Bahan : IC 74107 (74LS107)

Waktu

8 x 45 menit

Alat dan Bahan

- ⇒ Catu daya 5 V DC
- ⇒ Dual trace oscilloscope
- ⇒ Clode generator 1 Hz - 1 kHz
- ⇒ Saklar push - Button
- ⇒ Papan percobaan/Trainer Digital
- ⇒ Cool Sheet



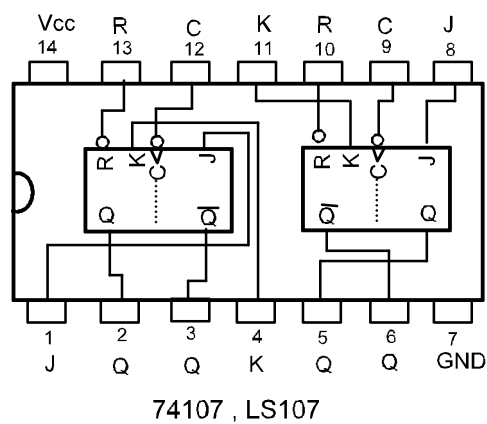
Keselamatan Kerja

- ⇒ Hati-hati memasang dan melepas IC, jangan sampai kakinya putus
- ⇒ Gunakan pakaian kerja dengan benar

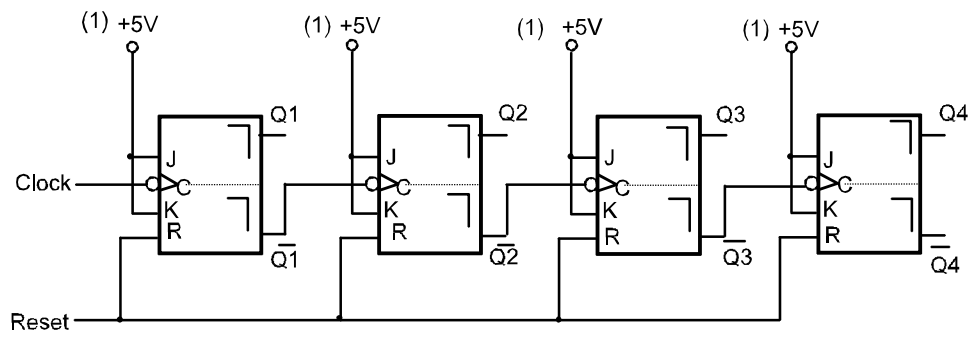

Langkah Kerja

1. Buatlah rangkaian seperti gambar 1
2. Dengan menggunakan sakelar push - button, beri pulsa pada clock penghitung dan periksalah fungsi - fungsinya dengan benar
3. Lengkapilah tabel kebenaran sesuai informasi clock
4. Pasanglah clock generator pada rangkaian
5. Gambarlah diagram waktu
6. Berilah valensi biner tiap - tiap keluaran pada penghitung


Cara Kerja / Petunjuk



Gambar rangkaian penghitung - turun rangkap asinkron




Gambar 1.



UNTUK LANGKAH 3

Tabel kebenaran

Clock	Q4	Q3	Q2	Q1
0 Start	1	1	1	1
1.				
2.				
3.				
4.				
5.				
6.				
7.				
8.				
9.				
10.				
11.				
12.				
13.				
14.				
15.				
16.				

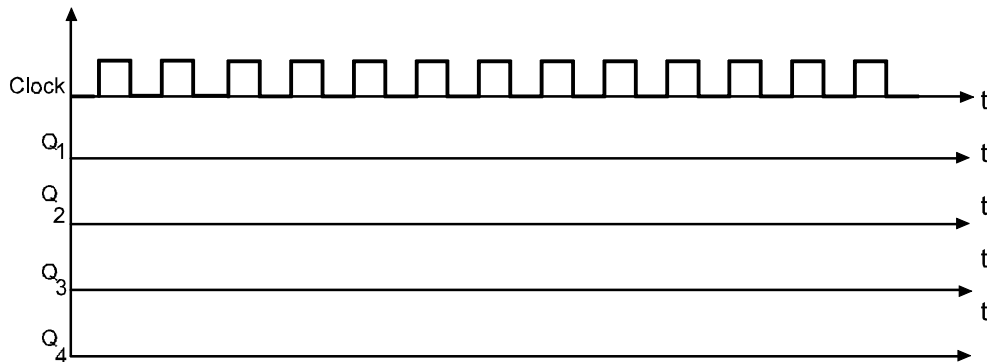


UNTUK LANGKAH 5


Diagram waktu sebuah penghitung asinkron

Frekuensi clock 1 kHz. Jarak pulsa ms

Periode pulsa ms



Lengkapi sisi pergantian pulsa dengan panah sebagai berikut :



Catatan :


Bentuk gelombang harus dilihat pada oscilloscope, sesudah yang satu kemudian lainnya (Q1, Q2, Q3, Q4).

Penetapan pemacu (trigger setting) pada oscilloscope harus tetap tak berubah selama pengukuran sehingga hubungan waktu yang tetap tak berubah selama pengukuran sehingga hubungan waktu yang tepat antara keluaran - keluarannya dapat terlihat.

UNTUK LANGKAH 6A

Valensi pada keluaran penghitung :

Nilai Keluaran
 Q1



- Q2
- Q3
- Q4

UNTUK LANGKAH 6B

Dengan sebuah penghitung turun rangkap asinkron, ini tepat untuk menghitung dalam biner berturut - turut yaitu

Ini memberikan sebuah nilai dalam desimal untuk


UNTUK LANGKAH 6C

Dalam menghitung turun rangkap asinkron, JK - Flip flop yang mana mempunyai valensi paling rendah ?

.....

.....

.....



Jawaban


UNTUK LANGKAH 3

1. Tabel kebenaran

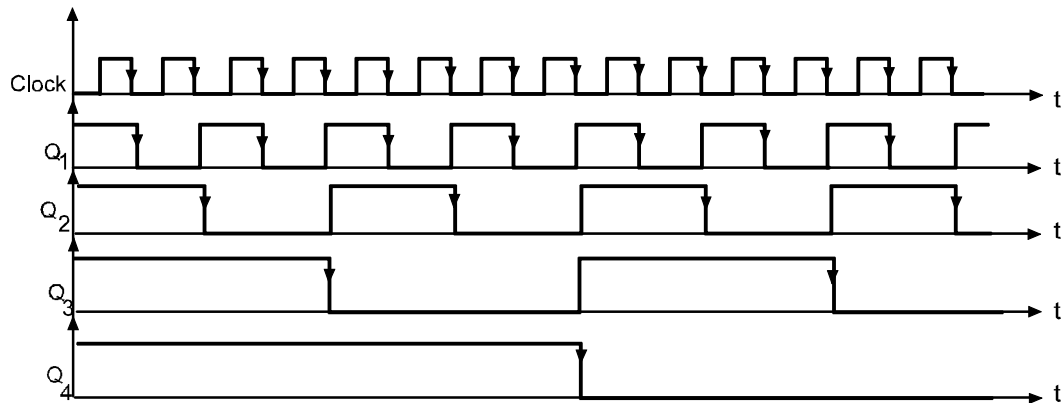
Clock	Q4	Q3	Q2	Q1
0 Start	1	1	1	1
1.	1	1	1	0
2.	1	1	0	1
3.	1	1	0	0
4.	1	0	1	1
5.	1	0	1	0
6.	1	0	0	1
7.	1	0	0	0
8.	0	1	1	1
9.	0	1	1	0
10.	0	1	0	1
11.	0	1	0	0
12.	0	0	1	1
13.	0	0	1	0
14.	0	0	0	1
15.	0	0	0	0
16.	1	1	1	1

UNTUK LANGKAH 5

2. Diagram waktu sebuah penghitung asinkron



Frekuensi clock 1 kHz. Jarak pulsa0,5..... ms
 Periode pulsa1..... ms



3. Untuk langkah 6a

Valensi pada keluaran penghitung :

Nilai	Keluaran
1	Q1
2	Q2
4	Q3
8	Q4


4. Untuk langkah 6b

Dengan sebuah penghitung turun rangkap asinkron, ini tepat untuk menghitung dalam biner berturut - turut yaitu 1111.
 Ini memberikan sebuah nilai dalam desimal untuk 15.

5. Untuk langkah 6c

Dalam menghitung turun rangkap asinkron, JK - Flip flop yang mana mempunyai valensi paling rendah ?

Flipflop yang terhubung langsung dengan generator clock.



5.6 TUGAS Kegiatan Belajar 4 - 3

Penghitung Naik Sinkron

Tujuan Instruksional Umum

Setelah pelajaran selesai peserta harus dapat:

⇒ Memahami prinsip kerja penghitung naik sinkron

Tujuan Instruksional Khusus

Peserta harus dapat:

⇒ Membangun rangkaian penghitung naik sinkron

⇒ Melengkapi tabel kebenaran untuk penghitung naik sinkron

⇒ Menggambarkan diagram pulsa untuk penghitung naik sinkron

⇒ Menerangkan fungsi dari rangkaian penghitung naik sinkron

Waktu 6 x 45 menit

Benda kerja

Gambar kerja : Lihat halaman : 2, 3 dan 4

Alat dan Bahan

Alat Alat:

⇒ Catu daya 5 V DC 1 buah


⇒ Papan percobaan/Trainer Digital 1 buah

⇒ Oscilloscope 1 buah

⇒ AFG 1 buah

Bahan :

⇒ IC 7408/74LS08 1 buah




⇒ IC 74107/74LS107 2 buah

⇒ IC 7421 1 buah

Keselamatan Kerja

⇒ Berhati - hatilah dalam mengambil peralatan, jangan sampai jatuh.

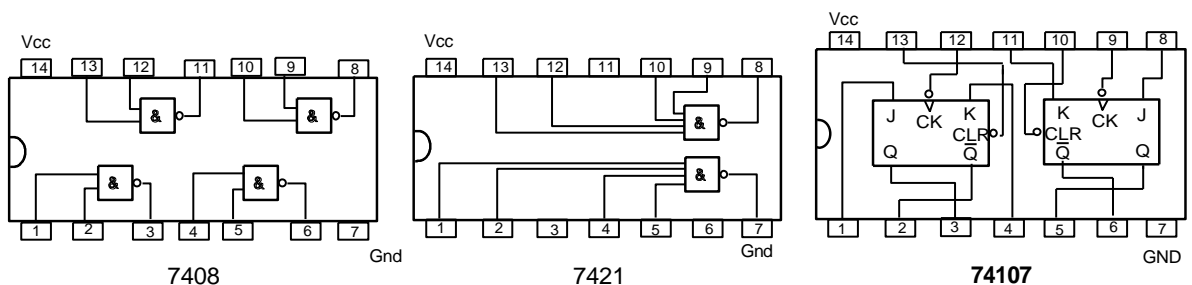



Langkah Kerja

1. Bangunlah rangkaian seperti pada gambar 1, dengan menggunakan 2 J-K flip flop.
2. Gunakan saklar pada input, untuk mendapatkan tingkat pulsa clock untuk flip flop dan catat hasil untuk Q1 dan Q2 pada tabel I.
3. Bangunlah rangkaian seperti pada gambar 2 dengan menggunakan 3 J-K flip flop.
4. Gunakan saklar pada input, untuk mendapatkan tingkat pulsa clock untuk flip - flop dan catat hasil untuk Q1, Q2 dan Q3 pada tabel II.
5. Bangunlah rangkaian seperti pada gambar 3, dengan menggunakan 4 J-K flip flop.
6. Gunakan saklar pada input, untuk mendapatkan tingkat pulsa clock untuk flip flop dan catat hasil untuk Q1, Q2, Q3, dan Q4 pada tabel III.
7. Hubungkan input clock dengan AFG (clock Generator)
8. Gambarlah diagram pulsa yang ditunjukkan pada layar Oscilloscope.
9. Dari hasil rangkaian gambar 1, 2, 3 dan diagram pulsa, terangkan fungsi dan rangkaian control untuk penghitung naik sinkron.

Petunjuk

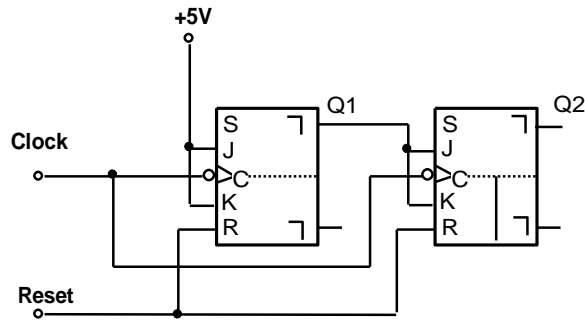
Konstruksi IC 7408, IC 7421 dan IC 74107






Untuk langkah 1

Rangkaian penghitung naik sinkron dengan 2 JK Flip-Flop.








Gambar 1



Untuk Langkah 2

Tabel kebenaran I

CLOCK	Q2	Q1	KETERANGAN
1 	0	0	
2 			
3 			
4 			
5 			

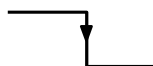
Lengkapi sisi pergantian pulsa clock dengan anak panah pada program diagram waktu sebagai berikut.

Sisi positif




0 → 1

Sisi negatif

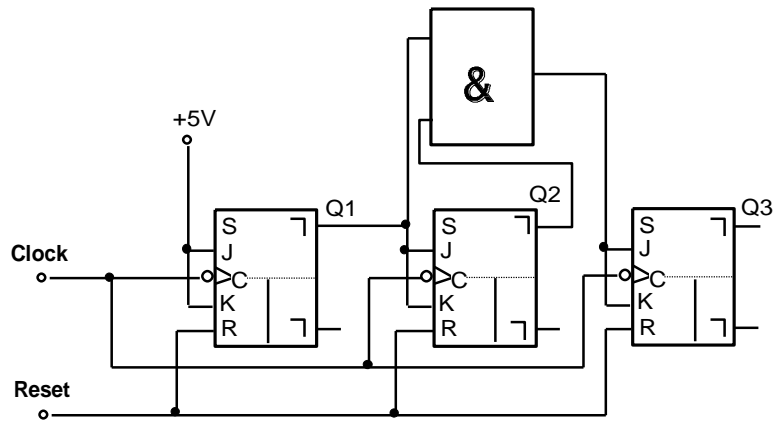


1 → 0




Untuk Langkah 3

Rangkaian penghitung naik sinkron dengan 3 JK Flip-Flop







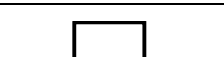
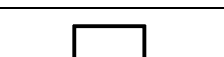
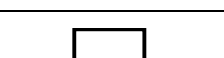


Gambar 2



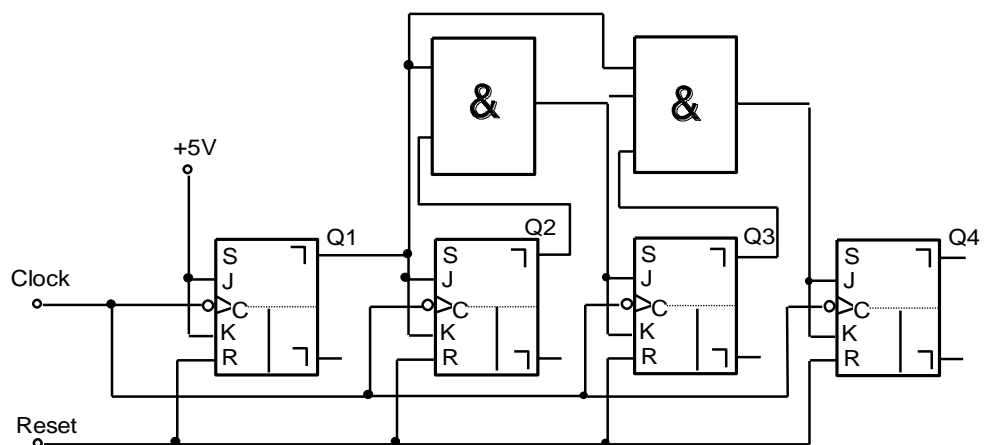
Untuk Langkah 4

Tabel kebenaran II


CLOCK	Q3	Q2	Q1	KETERANGAN
1 	0	0	0	
2 				
3 				
4 				
5 				
6 				
7 				
8 				
9 				

Untuk Langkah 5

Rangkaian penghitung naik sinkron dengan 4 JK Flip-Flop.









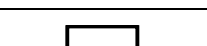
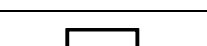
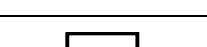






Gambar 3





Untuk Langkah 6

Tabel kebenaran III

CLOCK	Q4	Q3	Q2	Q1	KETERANGAN
1 	0	0	0	0	
2 					
3 					
4 					
5 					
6 					
7 					
8 					
9 					
10 					
11 					
12 					
13 					
14 					
15 					

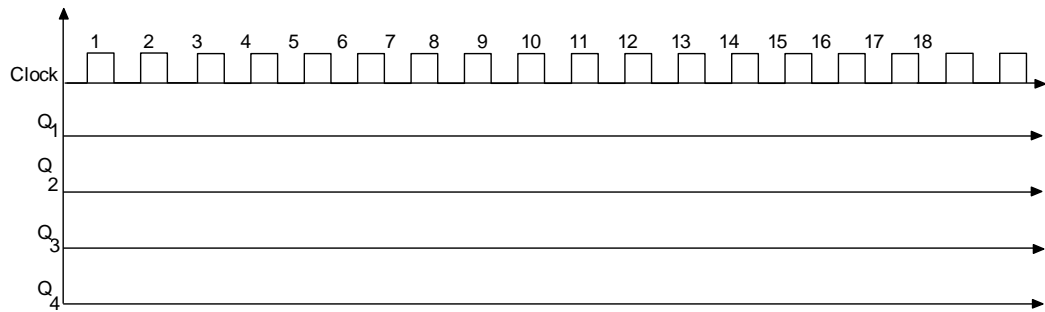


16						
----	---	--	--	--	--	--



Untuk Langkah 8

Diagram pulsa untuk penghitung naik sinkron



Untuk Langkah 9

Apa yang terjadi bila JK Flip-Flop yang ke tiga tidak dihubungkan pada keluaran gerbang AND tetapi langsung dihubungkan pada Q2 ?

CLOCK	0	1	2	3	4	NILAI
Q1						
Q2						
Q3						


.....

.....

.....

.....


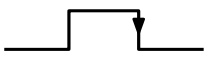
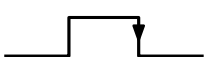
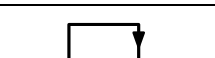
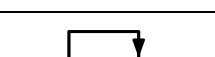

Terangkan fungsi dari gerbang AND untuk flip flop ketiga, pada proses perhitungan



Jawaban


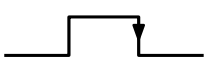
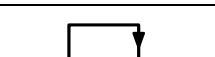
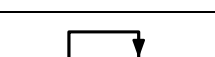
Untuk Langkah 2


Tabel kebenaran I

CLOCK	Q2	Q1	KETERANGAN
0 	0	0	RESET, KALAU PERLU
1 	0	1	
2 	1	0	
3 	1	1	
4 	0	0	MEMULAI BAGIAN JAWABAN
5 	0	1	

Untuk Langkah 4

Tabel kebenaran II

CLOCK	Q3	Q2	Q1	KETERANGAN
0 	0	0	0	RESET, KALAU PERLU
1 	0	0	1	
2 	0	1	0	
3 	0	1	1	




4		1	0	0	
5		1	0	1	
6		1	1	0	
7		1	1	1	
8		0	0	0	MEMULAI BAGIAN JAWABAN
9		0	0	1	

Untuk Langkah 6

Tabel kebenaran III

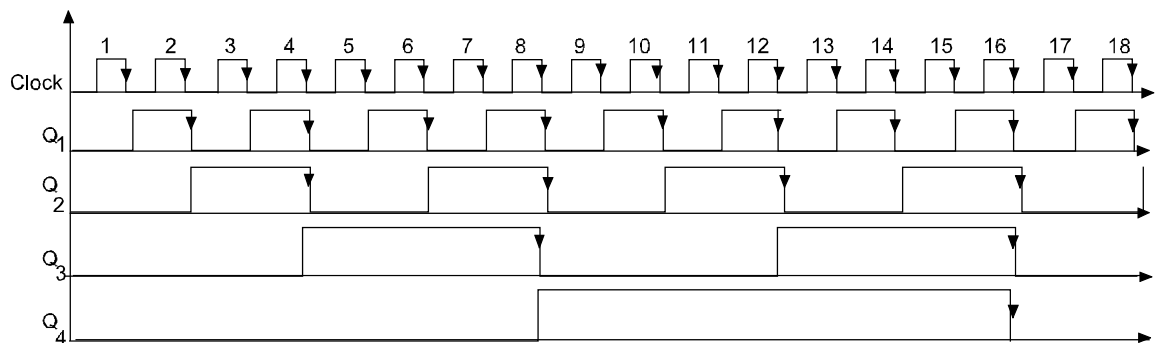
CLOCK	Q4	Q3	Q2	Q1	KETERANGAN	
0		0	0	0	0	RESET, KALAU PERLU
1		0	0	0	1	
2		0	0	1	0	
3		0	0	1	1	
4		0	1	0	0	
5		0	1	0	1	
6		0	1	1	0	
7		0	1	1	1	
8		1	0	0	0	
9		1	0	0	1	



10		1	0	1	0	
11		1	0	1	1	
12		1	1	0	0	
13		1	1	0	1	
14		1	1	1	0	
15		1	1	1	1	
16		0	0	0	0	MEMULAI BAGIAN JAWABAN


Untuk Langkah 8

Diagram timing untuk penghitung naik sinkron



Untuk Langkah 9


CLOCK	0	1	2	3	4	NILAI
Q1	0	1	0	1	0	1
Q2	0	0	1	1	0	2
Q3	0	0	0	1	0	4



- Saat $Q1 = 1$, $Q2 = 2$, dan $Q3 = 4$, hasil perhitungannya 0, 1, 2, 7, 0. ini hasil dari tingkat pengemudi pertama gerbang AND dengan $Q1$ dan $Q2$ sebagai masukan.

Terangkan fungsi dari gerbang AND untuk flip flop ketiga, pada proses perhitungan.

- Sebuah JK flip flop dapat mencegah ketika masukan J dan K berlogik 0. Masukan J dan K ketiga pada flip flop sama dengan 1.
- Pada saat pulsa clock menuju ke negatip, $Q1$ dan $Q2$ mempunyai logik 0 dan $Q3 = 1$ yang akhirnya J3 dan K3 mendapat logik 1.
- Pada perubahan selanjutnya, $Q3$ akan mempunyai logik 1 dan $Q1$ dan $Q2$ juga mempunyai logik 1. Setelah pulsa clock menuju negatip maka flip flop ketiga akan berubah keadaan menjadi $Q3 = 0$.



5.7 TUGAS Kegiatan Belajar 4 - 4

Penghitung Turun Sinkron

Tujuan Instruksional Umum

Setelah pelajaran selesai, peserta harus dapat:

- ⇒ Memahami prinsip kerja penghitung turun sikron

Tujuan Instruksional Khusus

Peserta harus dapat:

- ⇒ Membangun rangkaian penghitung turun sinkron.
- ⇒ Melengkapi tabel kebenaran untuk penghitung turun sinkron
- ⇒ Menggambarkan diagram timing untuk penghitung turun sinkron
- ⇒ Menerangkan fungsi dari rangkaian penghitung turun sinkron

Benda Kerja

- ⇒ Gambar kerja : lihat halaman 2-2

Waktu


4 X 45 menit

Alat dan Bahan

Alat Alat:

- ⇒ Papan percobaan/trainer digital 1 buah
- ⇒ AFG 1 buah
- ⇒ Oscilloscope 1 buah
- ⇒ Kabel penghubung secukupnya
- ⇒ Catu daya 5 Vdc 1 buah

Bahan:



- ⇒ IC 7408/74LS08 1 buah
- ⇒ IC 74107//74LS107 2 buah
- ⇒ Jobsheet 1 buah


Keselamatan Kerja

- ⇒ Hati-hatillah dengan sumber tegangan 220 Volt.

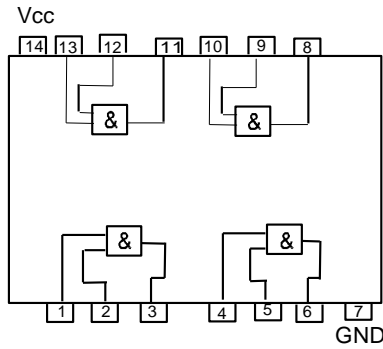
Langkah Kerja

1. Siapkan alat dan bahan
2. Bangunlah rangkaian seperti pada gambar 2
3. Hubungkan input clock (C) dirangkaian dengan output clock AFG
4. Berikan pulsa clock pada rangkaian dan catat hasil Q1, Q2, Q3 dan Q4 dalam tabel kebenaran
5. Gambarlah pulsa diagram timing sesuai tabel kebenaran (langkah 4)
6. Dan hasil pengamatan rangkaian dan diagram timing terangkan fungsi dari rangkaian penghitung turun sinkron

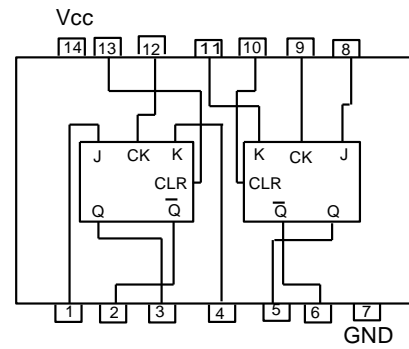
Cara Kerja / Petunjuk



Konstruksi IC 7408 dan IC 74107



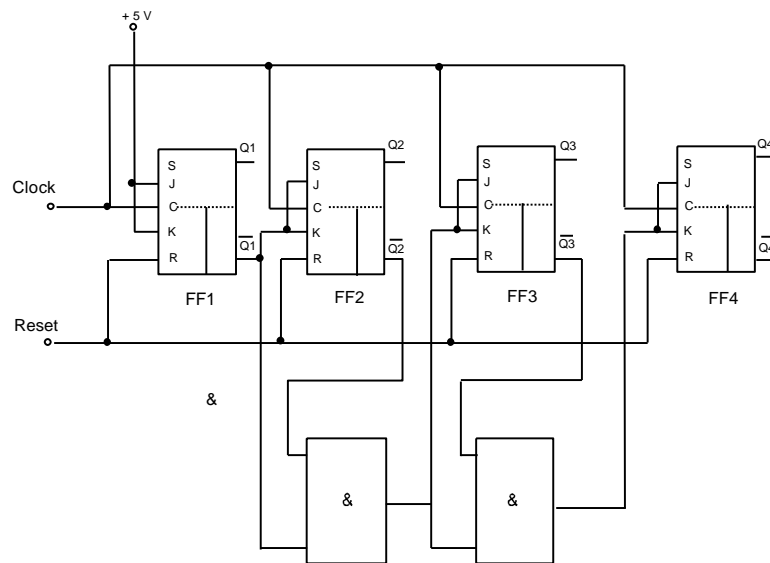
IC 7408



IC 74107


Gambar .1

Gambar : rangkaian penghitung sinkron dengan 4 J-K flip flop



Gambar .2


•



Untuk langkah 4

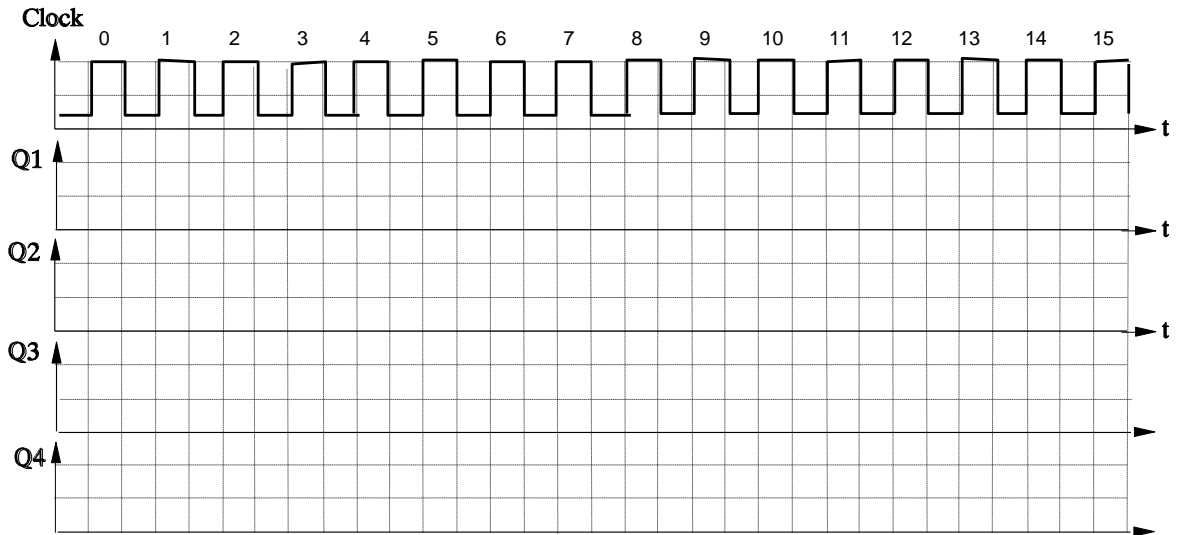
Tabl kebenaran

<i>Clock</i>	<i>Q4</i>	<i>Q3</i>	<i>Q2</i>	<i>Q1</i>	<i>Keterangan</i>
1.					
2.					
3.					
4.					
5.					
6.					
7.					
8.					
9.					
10.					
11.					
12.					
13.					
14.					
15.					
16.					



Untuk langkah 5

Diagram timing

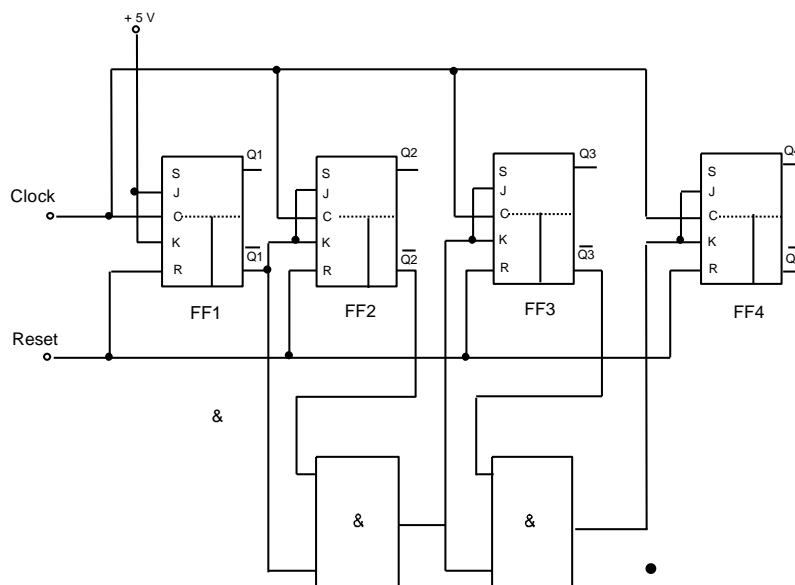



Untuk langkah 6

Terangkan fungsi rangkaian penghitung turun sinkron

Jawaban

Gambar : rangkaian penghitung sinkron dengan 4 J-K flip flop




**Gambar .2**

Untuk langkah 4

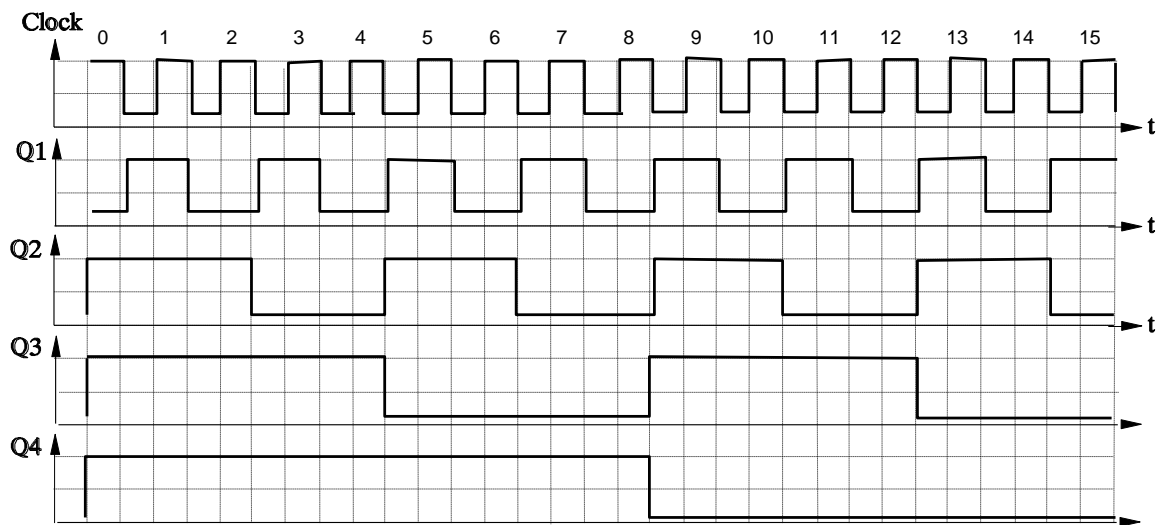
Tabl kebenaran

<i>Clock</i>	<i>Q4</i>	<i>Q3</i>	<i>Q2</i>	<i>Q1</i>	<i>Keterangan</i>
0.	1	1	1	1	15
1.	1	1	1	0	14
2.	1	1	0	1	13
3.	1	1	0	0	12
4.	1	0	1	1	11
5.	1	0	1	0	10
6.	1	0	0	1	9
7.	1	0	0	0	8
8.	0	1	1	1	7
9.	0	1	1	0	6
10.	0	1	0	1	5
11.	0	1	0	0	4
12.	0	0	1	1	3
13.	0	0	1	0	2
14.	0	0	0	1	1
15.	0	0	0	0	0



Untuk langkah 5

Diagram timing



Untuk langkah 6


Terangkan fungsi rangkaian penghitung turun sinkron

Menerangkan fungsi control penghitung turunsinkron tanda keluaran Q_1 , Q_2 , Q_3 dan Q_4 adalah semua keadaan 1

$\bar{Q}_1, \bar{Q}_2, \bar{Q}_3$ dan Q_4 adalah semua keadaan 0

1. Pertama pulsa menuju negatif, pulsa clock merubah FF₁ menjadi $Q_1 = 0$ dan $\bar{Q}_1 = 1$ flip-flop yang lain tidak dapat berubah sejak masuk jk dalam keadaan 0.
2. $J_2/K_2 = Q_1 = 1$, oleh karena pulsa clock kedua menuju ke negatif, pulsa clock merubah FF₁ menjadi $Q_2 = 0$ dan $\bar{Q}_2 = 1$. FF1 juga menjadi $Q_1 = 1$ dan $\bar{Q}_1 = 0$

$Q_1 = 1$ $Q_2 = 0$ $Q_3 = 1$ $Q_4 = 1$



$$Q_1 = 0 \quad \bar{Q}_2 = 1 \quad \bar{Q}_3 = 0 \quad \bar{Q}_4 = 0$$

3. FF₁ berubah lagi pada saat pulsa clock ketiga, menuju negatif semua FF yang lain dihalangi oleh masukan jk yang keadaannya 0.

$$\begin{array}{cccc} Q_1 = 0 & Q_2 = 0 & Q_3 = 1 & Q_4 = 1 \\ Q_1 = 1 & \bar{Q}_2 = 1 & \bar{Q}_3 = 0 & \bar{Q}_4 = 0 \end{array}$$

4. Pada J₃/K₃ masukannya menerima keadaan 1 lewat gerbang AND pertama, saat pulsa clock keempat dan FF₃, FF₂ dan FF₁, semuanya berubah keadaan.

$$\begin{array}{cccc} Q_1 = 1 & Q_2 = 1 & Q_3 = 0 & Q_4 = 1 \\ Q_1 = 0 & \bar{Q}_2 = 0 & \bar{Q}_3 = 1 & \bar{Q}_4 = 0 \end{array}$$

5. Proses 1, 2 dan 3 terulang lagi, sampai pulsa clock kedelapan menuju negatif dan semua FF berubah keadaan.

$$\begin{array}{cccc} Q_1 = 1 & Q_2 = 1 & Q_3 = 1 & Q_4 = 0 \\ Q_1 = 0 & \bar{Q}_2 = 0 & \bar{Q}_3 = 0 & \bar{Q}_4 = 1 \end{array}$$

6. Pada pulsa clock berikutnya menuju negatif, semua FF 1, 2, 3 dan 4 berubah keadaan.


7. Sesudah pulsa clock ke 15, keluaran-keluaran FF akan kembali keadaan semula.

$$\begin{array}{cccc} Q_1 = 0 & Q_2 = 0 & Q_3 = 0 & Q_4 = 0 \\ Q_1 = 1 & \bar{Q}_2 = 1 & \bar{Q}_3 = 1 & \bar{Q}_4 = 1 \end{array}$$

8. sekarang semua masukan jk keadaan 1, perubahan keadaan 4 buah flip-flop berikutnya mengikuti perubahan pulsa clock.

$$Q_1 = 1 \quad Q_2 = 1 \quad Q_3 = 1 \quad Q_4 = 1$$

Maka kondisi akan memulai lagi jawab



5.8 Penerapan


5.8.1 Attitude skills

Kata bijak dalam Attitude skills: *"Holding yourself accountable for job performance begins with holding yourself accountable for your attitude"*.

Dalam buku teknik kerja bengkel ini, diharapkan peserta mengembangkan attitude skill, kesadaran dan pemahaman yang tinggi, bagaimana agar yang bersangkutan berani mengatakan **"Ya, saya bisa!"** pada pendekatan untuk semua yang mereka lakukan. Melalui evaluasi diri, latihan aplikasi dan mengembangkan rencana aksinya, dan memfokuskan kembali untuk mencapai tujuan materi pembahasan setiap topik pada buku teknik kerja bengkel ini.

Adapun Konsep dan penerapan Attitude skill pada pekerjaan teknik kerja bengkel ini meliputi:

- Memahami sikap
- Mengenali pentingnya sikap
- Sikap positif adalah cara untuk mendedikasikan diri Anda dan cara Anda berpikir
- Memeriksa cara berpikir Anda
- Mengembangkan atribut sikap Anda
- Mengembangkan sikap "Ya, saya bisa"
- Belajar kekuatan sikap
- Mengidentifikasi asal-usul sikap dan pengaruhnya
- Menerapkan prinsip-prinsip yang mengarah pada sikap positif
- Memiliki visi yang jelas dan singkat
- Melakukan pemeriksaan realitas impian Anda
- Jangan membiarkan rasa takut menghentikan kesuksesan Anda
- Menjual manfaat dari kinerja




- Bertanggung jawab atas sikap Anda, tindakan dan hasil Anda
- Mengambil tindakan spesifik yang akan mengarah pada sikap positif
- Menceritakan kisah untuk melukis gambaran keberhasilan
- Memancarkan optimisme
- Mengakui prestasi
- Apa yang harus dilakukan ketika Anda memiliki kekurangan/kelemahan.
- Apa yang harus dilakukan ketika orang lain memiliki kekurangan/kelemahan.
- Mengembangkan rencana aksi individu untuk mencapai sikap positif
- For most people, these skills and behaviors do not automatically happen. This is especially true in time of crisis and uncertainty. This training can do wonders for improved workplace morale and improved performance. Creating great workplace attitudes is not just the manager's job – it is everyone's job.

5.8.2 Kognitif skills

Keterampilan kognitif yang lemah yang mendasari mungkin menjadi alasan mengapa seseorang berjuang untuk membaca atau belajar pada bahkan dimulai tingkat dasar. Jika ini adalah penyebab kesulitan belajar, itu bisa dikoreksi. Targetnya dari kognitif skill untuk mencapai pemahaman yang lebih cepat , lebih mudah belajar dan membaca .

Hasil penerapan keterampilan kognitif individu membantu kita memahami bagaimana mereka mempengaruhi pembelajaran. Proses penerapan Keterampilan ini meliputi:

- Pengolahan Kecepatan : efisiensi dengan otak memproses data yang diterimanya . Kecepatan pemrosesan lebih cepat mengarah ke pemikiran yang lebih efisien dan belajar .




- Pengolahan Auditory : ini adalah keahlian khusus suara pengolahan . Hal ini melibatkan menganalisis, segmentasi dan pencampuran suara. Keterampilan pendengaran sangat penting jika seorang siswa untuk membaca, mengeja , dan belajar kata-kata baru atau konsep dengan baik.
- Pengolahan Visual: ini adalah kemampuan untuk menerima dan memanipulasi informasi visual. Menciptakan citra mental juga sangat berpengaruh membaca pemahaman dan memori jangka panjang.
- Memory : Memory termasuk memori jangka panjang , penyimpanan dan recall dan kerja memori jangka pendek . Proses gabungan membantu menciptakan konsep-konsep baru dan pemahaman .
- Logika dan Penalaran : Keterampilan ini diperlukan untuk pemecahan masalah dan perencanaan

5.8.3 Psikomotorik skills


Penerapan psikomotorik skills mensintesis kesimpulan berbasis empiris, serta teori yang relevan, mengenai proses pengembangan keterampilan psikomotor. Itu variabel yang akan terkandung dalam materi teknik kerja bengkel ini antara lain: (1) motivasi. (2) demonstrasi, (3) fisik praktek, (4) latihan mental, dan (5) umpan balik / pengetahuan tentang hasil.

- Pemberian motivasi kepada seorang siswa memiliki pengaruh yang positif terhadap pengembangan keterampilan psikomotor.
- Demonstrasi meningkatkan perolehan keterampilan psikomotor. Semakin tinggi status orang (guru terhadap siswa) menyajikan demonstrasi, semakin besar pengaruh dari demonstrasi pada penguasaan keterampilan siswa. Tugas harus dipecah menjadi beberapa sub-unit untuk tujuan pengajaran. Keterampilan yang terlibat dalam setiap sub-unit harus dibuktikan secara berurutan, memungkinkan siswa untuk berlatih di masing-masing subunit sebelum pindah ke yang sub-unit berikutnya. Demonstrasi dapat



membantu mengurangi kecemasan atas melakukan keterampilan yang baru dilihatnya.

- Praktek dapat didefinisikan sebagai "... pengulangan dengan maksud meningkatkan kinerja". Praktek yang sebenarnya dari keterampilan manipulatif sangat penting untuk kinerja yang diterimanya. Selain itu, kinerja aktual keterampilan secara efektif mengurangi rasa takut dan kecemasan yang menyertai kinerja banyak keterampilan .
- Penerapan latihan mental untuk meningkatkan keterampilan:
 - ✓ Siswa harus terbiasa dengan tugas (melalui pengalaman sebelumnya, demonstrasi, atau visual :) sebelum menggunakan teknik latihan mental.
 - ✓ Siswa perlu instruksi dalam penggunaan latihan mental.
 - ✓ Kombinasi latihan fisik dan mental harus memberikan keuntungan kinerja terbesar.
 - ✓ Keterampilan sederhana, atau keterampilan yang kompleks dipecah menjadi subunit, paling cocok untuk praktek.
 - ✓ Siswa harus melakukan latihan mental dalam waktu dan tempat mereka sendiri.
- Keterampilan umpan balik ini biasanya keterampilan kompleks yang dapat dipecah menjadi bagian-bagian, dampaknya pada perolehan keterampilan:
 - ✓ Tingkat peningkatan keterampilan tergantung pada kepresisian dan frekuensi kerja.
 - ✓ Sebuah keterlambatan dalam pengetahuan ini tidak mempengaruhi perolehan keterampilan. Namun, umpan balik adalah penting, terutama pada tahap awal berlatih keterampilan feedback sederhana.
 - ✓ Penarikan pengetahuan hasil penurunan kinerja pada tahap awal tidak mempengaruhi kinerja dalam tahap akhir.
 - ✓ Berbagai jenis umpan balik harus disediakan. termasuk visual, verbal, dan kinestetik. Penggunaan video taped dan umpan




balik lisan meningkatkan kinerja pada umpan balik dan keterampilan yang kompleks.

5.8.4 Produk/benda kerja sesuai kriteria standard

Teknik Elektronika Digital adalah merupakan dasar dalam melakukan melakukan pekerjaan-pekerjaan yang berkaitan dengan rangkaian maupun peralatan telekomunikasi. Untuk itu pada pekerjaan ini siswa harus dapat melakukan dan menguasai dengan benar meliputi:

- Membuat sistem konversi bilangan pada rangkaian logika
- Membuat aljabar Boolean pada gerbang logika digital
- Membuat gerbang dasar rangkaian logika
- Membuat rangkaian Flip-Flop



Daftar Pustaka

A. SAHAN. MANNA, 2007, Digital Principles and Logic Design

David Money Harris and Sarah L. Harris, Digital Design and Computer Architecture

Introduction to CPLDs and FPGAs, Second Edition

J.E. Ayers, 2005, Digital integrated circuits : analysis and design

Jerry Luecke, 2005, Analog and Digital Circuits for Electronic Control System Applications

Parag, K. Lala, 2007, Principles of Modern Digital Design,

Steven T. Karris , Digital Circuit Analysis and Design with Simulink® Modeling and Virendra Kumar, 2006, Digital Electronics Theory and Experiments

