

Tri Jaya Suranto ■ A. Dakir



# Ilmu Pengetahuan Sosial

Untuk SD dan MI Kelas VI



PUSAT PERBUKUAN  
Departemen Pendidikan Nasional

6

# Ilmu Pengetahuan Sosial

Untuk SD dan MI Kelas VI



PUSAT PERBUKUAN  
Departemen Pendidikan Nasional

6

Hak Cipta pada Departemen Pendidikan Nasional  
dilindungi oleh Undang-Undang

# Ilmu

# Pengetahuan Sosial

*Jilid 6 untuk SD dan MI Kelas VI*

**Penyusun** : Tri Jaya Suranto  
A. Dakir  
**Editor** : Vivi Vibariani  
**Perancang Kulit** : Alfianto  
**Layout** : Nastain  
**Ilustrator** : Alfianto  
**Ukuran Buku** : 17,6 x 25 cm

372.8

TRI

i

TRI Jaya Suranto

Ilmu Pengetahuan Sosial 6 : Untuk SD dan MI Kelas VI / Penyusun  
Tri Jaya Suranto, A. Dakir, Editor Vivi Vibariani ; Ilustrator Alfianto.  
— Jakarta : Pusat Perbukuan, Departemen Pendidikan Nasional, 2009.  
vi, 146 hlm. : ilus. ; 25 cm.

Bibliografi : hlm. 146

ISBN 978-979-068-008-1 (nomor jilid lengkap)

ISBN 978-979-068-023-4

1. Ilmu-ilmu Sosial-Studi dan Pengajaran 2. Ilmu-ilmu Sosial-  
Pendidikan Dasar I. Judul II. A. Dakir III. Vivi Vibariani IV. Alfianto

Diterbitkan oleh Pusat Perbukuan  
Departemen Pendidikan Nasional  
Tahun 2009

diperbanyak oleh ....



## Kata Sambutan

Puji syukur kami panjatkan ke hadirat Allah SWT, berkat rahmat dan karunia-Nya, Pemerintah, dalam hal ini, Departemen Pendidikan Nasional, pada tahun 2008, telah membeli hak cipta buku teks pelajaran ini dari penulis/penerbit untuk disebarluaskan kepada masyarakat melalui situs internet (*website*) Jaringan Pendidikan Nasional.

Buku teks pelajaran ini telah dinilai oleh Badan Standar Nasional Pendidikan dan telah ditetapkan sebagai buku teks pelajaran yang memenuhi syarat kelayakan untuk digunakan dalam proses pembelajaran melalui Peraturan Menteri Pendidikan Nasional Nomor 69 Tahun 2008.

Kami menyampaikan penghargaan yang setinggi-tingginya kepada para penulis/penerbit yang telah berkenan mengalihkan hak cipta karyanya kepada Departemen Pendidikan Nasional untuk digunakan secara luas oleh para siswa dan guru di seluruh Indonesia.

Buku-buku teks pelajaran yang telah dialihkan hak ciptanya kepada Departemen Pendidikan Nasional ini, dapat diunduh (*down load*), digandakan, dicetak, dialihmediakan, atau difotokopi oleh masyarakat. Namun, untuk penggandaan yang bersifat komersial harga penjualannya harus memenuhi ketentuan yang ditetapkan oleh Pemerintah. Diharapkan bahwa buku teks pelajaran ini akan lebih mudah diakses sehingga siswa dan guru di seluruh Indonesia maupun sekolah Indonesia yang berada di luar negeri dapat memanfaatkan sumber belajar ini.

Kami berharap, semua pihak dapat mendukung kebijakan ini. Kepada para siswa kami ucapkan selamat belajar dan manfaatkanlah buku ini sebaik-baiknya. Kami menyadari bahwa buku ini masih perlu ditingkatkan mutunya. Oleh karena itu, saran dan kritik sangat kami harapkan.

Jakarta, Februari 2009  
Kepala Pusat Perbukuan

# Kata Pengantar

Mari kita belajar, belajar Ilmu Pengetahuan Sosial. Belajar tentang kehidupan sosial, ekonomi, sejarah, dan budaya di sekitar lingkungan kalian. Melalui buku ini, kalian bisa mendapatkannya. Untuk itulah kalian perlu mempelajari buku ini.

Kalian tentu akan dapat memetik banyak manfaat kalau kalian dapat mempelajari Ilmu Pengetahuan Sosial dengan baik dan benar untuk berbagai kepentingan. Kalian akan memperoleh kemudahan dalam kegiatan studi maupun dalam pergaulan hidup di tengah masyarakat.

Buku ini juga dilengkapi dengan gambar-gambar, latihan, dan kegiatan praktis yang dapat kalian gunakan untuk mengembangkan kemampuan kalian.

Dengan bimbingan guru, kalian akan cukup mudah mempelajari dan menggunakan buku ini. Kami berharap semoga buku ini bermanfaat, baik untuk kalian maupun bagi dunia pendidikan umumnya.

Akhirnya, segala masukan dan saran demi penyempurnaan buku ini sangat kami harapkan.

# Daftar Isi

|                      |     |
|----------------------|-----|
| Kata Sambutan .....  | iii |
| Kata Pengantar ..... | iv  |
| Daftar Isi .....     | v   |

## Bab 1 Perkembangan Wilayah Indonesia

|   |    |
|---|----|
| A. Wilayah Indonesia .....                              | 3  |
| B. Provinsi Indonesia Pada Awal Kemerdekaan .....       | 4  |
| C. Wilayah Provinsi Indonesia Setelah Kemerdekaan ..... | 5  |
| Rangkuman .....   | 14 |
| Latihan Soal Pelajaran 1 .....                          | 14 |

## Bab 2 Kenampakan Alam, Pemerintahan, dan Kegiatan Ekonomi Negara Asia

|   |    |
|---|----|
| A. Kenampakan Alam dan Keadaan Sosial Negara di Asia Tenggara ..... | 19 |
| B. Hubungan Kerja Sama antara Negara-Negara ASEAN .....             | 31 |
| Rangkuman .....   | 32 |
| Latihan Soal Pelajaran 2 .....                                      | 33 |

## Bab 3 Benua-Benua di Dunia

|  |    |
|--|----|
| A. Mengenal Benua-Benua .....                            | 37 |
| B. Negara-Negara yang Menghuni Masing-Masing Benua ..... | 38 |
| Rangkuman .....  | 64 |
| Latihan Soal Pelajaran 3 .....                           | 65 |
| <b>Latihan Ulangan Semester I</b> .....                  | 69 |

## **Bab 4 Gejala Alam di Indonesia dan Negara Tetangga**

|                                |    |
|--------------------------------|----|
| A. Bentuk Alam .....           | 75 |
| B. Iklim .....                 | 77 |
| C. Flora dan Fauna .....       | 78 |
| Rangkuman .....                | 81 |
| Latihan Soal Pelajaran 4 ..... | 81 |

## **Bab 5 Bencana Alam dan Cara Menanganinya**

|                                |    |
|--------------------------------|----|
| A. Banjir .....                | 85 |
| B. Gempa Bumi .....            | 86 |
| C. Gunung Meletus .....        | 89 |
| D. Tsunami .....               | 89 |
| E. Tanah Longsor .....         | 90 |
| Rangkuman .....                | 92 |
| Latihan Soal Pelajaran 5 ..... | 92 |

## **Bab 6 Globalisasi**

|  |     |
|--|-----|
| A. Globalisasi di Sekitar Kita .....   | 97  |
| B. Perusahaan Asing di Indonesia ..... | 101 |
| Rangkuman .....                        | 106 |
| Latihan Soal Pelajaran 6 .....         | 107 |

## **Bab 7 Kegiatan Ekspor dan Impor**

|  |     |
|--|-----|
| A. Jenis Perdagangan .....               | 111 |
| B. Manfaat Ekspor dan Impor .....        | 112 |
| Rangkuman .....                          | 117 |
| Latihan Soal Pelajaran 7 .....           | 117 |
| <b>Latihan Ulangan Semester II</b> ..... | 120 |
| <b>Ujian Akhir Tahun</b> .....           | 123 |
| <b>Latihan Ebtanas 1</b> .....           | 129 |
| <b>Latihan Ebtanas 2</b> .....           | 137 |

|                      |     |
|----------------------|-----|
| Glosarium .....      | 145 |
| Daftar Pustaka ..... | 146 |

# Pelajaran

# 1

## Perkembangan Wilayah Indonesia



*Kota Jayapura*

Sumber: [www.wikipedia.org](http://www.wikipedia.org)

Jumlah provinsi di Indonesia mengalami pemekaran. Tentu saja karena disesuaikan dengan kebutuhan setempat. Pemekaran dalam rangka memenuhi tuntutan pembangunan, politik, dan pemerintahan. Pemekaran juga dalam rangka memenuhi keadilan. Bagaimanakah pemekaran provinsi terjadi? Bagaimana dampaknya bagi kehidupan masyarakat?



# Peta Konsep



## A. Wilayah Indonesia

Indonesia merupakan negara kepulauan yang terdiri pulau-pulau besar dan kecil yang dikelilingi oleh lautan. Pulau-pulau besar tersebut antara lain: Sumatra, Jawa, Kalimantan, Sulawesi dan Irian (Papua). Tiap pulau terdiri atas beberapa provinsi yang tergabung dalam wilayah Indonesia. Tahukah kamu bahwa dahulu wilayah Indonesia hanya terdiri atas beberapa provinsi? Bagaimana Indonesia bisa memiliki wilayah sebesar sekarang? Sebelum membahas lebih jauh, perhatikanlah peta wilayah Indonesia berikut!



**Gambar 1.1** Peta wilayah Indonesia dari Sabang sampai Merauke  
Sumber: *Atlas Indonesia Buana Raya*

## Perkembangan Jumlah Provinsi di Indonesia

### Tahukah Kamu

Provinsi di Indonesia 33 buah? Sejak Irian Jaya (papua) dibagi menjadi 3 provinsi tahun 1999, lalu masuknya Bangka Belitung, Banten dan Gorontalo tahun 2000, kemudian diikuti kepulauan Riau tahun 2003, jumlah seluruh provinsi di Indonesia yang semula 27 menjadi 33 buah.

Wilayah Indonesia mengalami perkembangan seiring dengan penambahan jumlah penduduk, kemampuan ekonomi, serta kemampuan dalam bidang pertahanan keamanan. Inilah yang memengaruhi terjadinya perkembangan provinsi Indonesia.

### Menjadi Anak Kritis

Apa untung dan ruginya dari pemekaran provinsi di Indonesia?  
Kumpulkan hasilnya kepada gurumu!

## B. Provinsi Indonesia Pada Awal Kemerdekaan

Pada awal kemerdekaan yaitu pada tahun 1945, jumlah provinsi di Indonesia meliputi delapan provinsi, yaitu:

| No. | Nama Pulau    | Nama Provinsi |
|-----|---------------|---------------|
| 1.  | Sumatra       | Sumatra       |
| 2.  | Jawa          | Jawa Barat    |
| 3.  | Jawa          | Jawa Tengah   |
| 4.  | Jawa          | Jawa Timur    |
| 5.  | Kalimantan    | Borneo        |
| 6.  | Sulawesi      | Sulawesi      |
| 7.  | Nusa Tenggara | Sunda Kecil   |
| 8.  | Maluku        | Maluku        |

### Menjadi Anak Kritis

Berdasarkan tabel di atas, dapatkah kamu menunjukkan pulau mana yang belum termasuk wilayah Indonesia? Apa sebabnya?  
Kumpulkan hasilnya kepada gurumu!

## C. Wilayah Provinsi Indonesia Setelah Kemerdekaan

Pada kurun waktu tertentu, wilayah Indonesia mengalami perubahan. Pada tahun 1945, provinsi di Indonesia ada 8. Akan tetapi, sesuai dengan tuntutan kebutuhan dan kepentingan pembangunan di berbagai bidang, jumlah provinsi di Indonesia mengalami peningkatan.

Untuk lebih jelasnya kita perhatikan tabel berikut!

### Perkembangan provinsi-provinsi di Indonesia

| 1950            | 1958            | 1964            | 1976            | 2000            | 2003                |
|-----------------|-----------------|-----------------|-----------------|-----------------|---------------------|
| Sumatra Utara   | Sumatra Utara   | Sumatra Utara   | Sumatra Utara   | Sumatra Utara   | Sumatra Utara       |
| Sumatra Tengah  | DI Aceh         | DI Aceh         | DI Aceh         | NAD             | NAD                 |
| Sumatra Selatan | Sumatra Barat   | Sumatra Barat   | Sumatra Barat   | Sumatra Barat   | Sumatra Barat       |
|                 | Riau            | Riau            | Riau            | Riau            | Riau Kepulauan Riau |
|                 | Jambi           | Jambi           | Jambi           | Jambi           | Jambi               |
|                 |                 | Lampung         | Lampung         | Lampung         | Lampung             |
|                 |                 |                 | Bengkulu        | Bengkulu        | Bengkulu            |
| Sumatra Selatan | Sumatra Selatan | Sumatra Selatan | Sumatra Selatan | Sumatra Selatan | Sumatra Selatan     |



| 1950                            | 1958                            | 1964                   | 1976                   | 2000                   | 2003                   |
|---------------------------------|---------------------------------|------------------------|------------------------|------------------------|------------------------|
|                                 |                                 |                        |                        | Bangka<br>Belitung     | Bangka<br>Belitung     |
|                                 | DKI<br>Jakarta<br>Raya          | DKI<br>Jakarta<br>Raya | DKI<br>Jakarta<br>Raya | DKI<br>Jakarta<br>Raya | DKI<br>Jakarta<br>Raya |
| Jawa Barat                      | Jawa Barat                      | Jawa Barat             | Jawa Barat             | Jawa Barat             | Jawa Barat             |
|                                 |                                 |                        |                        | Banten                 | Banten                 |
| Jawa<br>Tengah                  | Jawa<br>Tengah                  | Jawa<br>Tengah         | Jawa<br>Tengah         | Jawa<br>Tengah         | Jawa<br>Tengah         |
| DI<br>Yogyakarta                | DI<br>Yogyakarta                | DI<br>Yogyakarta       | DI<br>Yogyakarta       | DI<br>Yogyakarta       | DI<br>Yogyakarta       |
| Jawa Timur                      | Jawa Timur                      | Jawa Timur             | Jawa Timur             | Jawa Timur             | Jawa Timur             |
| Kalimantan                      | Kalimantan<br>Barat             | Kalimantan<br>Barat    | Kalimantan<br>Barat    | Kalimantan<br>Barat    | Kalimantan<br>Barat    |
|                                 | Kalimantan<br>Timur             | Kalimantan<br>Timur    | Kalimantan<br>Timur    | Kalimantan<br>Timur    | Kalimantan<br>Timur    |
|                                 | Kalimantan<br>Selatan           | Kalimantan<br>Selatan  | Kalimantan<br>Selatan  | Kalimantan<br>Selatan  | Kalimantan<br>Selatan  |
|                                 | Kalimantan<br>Tengah            | Kalimantan<br>Tengah   | Kalimantan<br>Tengah   | Kalimantan<br>Tengah   | Kalimantan<br>Tengah   |
| Sulawesi<br>Utara dan<br>Tengah | Sulawesi<br>Utara dan<br>Tengah | Sulawesi<br>Utara      | Sulawesi<br>Utara      | Sulawesi<br>Utara      | Sulawesi<br>Utara      |
|                                 |                                 |                        |                        | Gorontalo              | Gorontalo              |
|                                 |                                 | Sulawesi<br>Tengah     | Sulawesi<br>Tengah     | Sulawesi<br>Tengah     | Sulawesi<br>Tengah     |

| 1950        | 1958   | 1964              | 1976              | 2000   | 2003              |
|-------------|--------|-------------------|-------------------|--|-------------------|
|             |        | Sulawesi Selatan  | Sulawesi Selatan  | Sulawesi Selatan                                   | Sulawesi Selatan  |
|             |        | Sulawesi Tenggara | Sulawesi Tenggara | Sulawesi Tenggara                                  | Sulawesi Tenggara |
| Sunda Kecil | Bali   | Bali              | Bali              | Bali   | Bali              |
|             | NTB    | NTB               | NTB               | NTB  | NTB               |
|             | NTT    | NTT               | NTT               | NTT  | NTT               |
|             |        |                   | Timor timur       | <b>Timor-Timur lepas dari Indonesia sejak 1999</b> |                   |
| Maluku      | Maluku | Maluku            | Maluku            | Maluku   | Maluku            |
|             |        |                   |                   | Maluku Utara                                       | Maluku Utara      |
|             |        |                   | Irian Jaya        | Papua (Irja)                                       | Papua (Irja)      |
|             |        |                   |                   | Papua Tengah                                       | Papua Tengah      |
|             |        |                   | Papua Barat       | Papua Barat  |                   |

### Mengasah Kecakapan Pribadi

- Carilah tabel perkembangan jumlah provinsi dari tahun ke tahun dengan lebih lengkap!
  - Manfaatkanlah berbagai buku pelajaran atau sumber lain yang kamu ketahui untuk melengkapinya!
- Kumpulkan hasilnya kepada gurumu!

## Letak masing-masing Provinsi di Wilayah Indonesia

Dari data - data yang pernah kita pelajari, tentunya kita bisa menunjukkan pada peta Indonesia di mana provinsi - provinsi tersebut berada mulai dari pulau Sumatra hingga ke Papua. Marilah kita mulai membahasnya!

### 1. Pulau Sumatra

Pulau Sumatra berbatasan dengan negara Singapura dan Malaysia dengan dipisahkan oleh Selat Malaka dan Samudra Hindia. Pulau Sumatra terdiri atas beberapa provinsi yaitu Nangroe Aceh Darussalam, Sumatra Utara, Riau, Kepulauan Riau, Sumatra Barat, Sumatra Selatan, Jambi, Bengkulu, Bangka Belitung dan Lampung.



**Gambar 1.2** Peta Pulau Sumatra  
**Sumber:** Atlas Indonesia Buana Raya

| No. | Provinsi                | Ibu Kota       | Luas (Km <sup>2</sup> ) |
|-----|-------------------------|----------------|-------------------------|
| 1   | Nangroe Aceh Darussalam | Banda Aceh     | 51.937                  |
| 2   | Sumatra Utara           | Medan          | 73.587                  |
| 3   | Sumatra Barat           | Padang         | 42.899                  |
| 4   | Riau                    | Pekanbaru      | 94.560 (*)              |
| 5   | Kepulauan Riau          | Batam          |                         |
| 6   | Sumatra Selatan         | Palembang      | 93.083                  |
| 7   | Jambi                   | Jambi          | 53.437                  |
| 8   | Bengkulu                | Bengkulu       | 19.789                  |
| 9   | Lampung                 | Bandar Lampung | 35.384                  |
| 10  | Bangka Belitung         | Pangkal Pinang | 16.171                  |

**Sumber:** Badan Pusat Statistik 2004

**Keterangan:** (\*) Luas Riau dan Kepulauan Riau

Dapatkah kamu menunjukkan pada peta di mana provinsi-provinsi tersebut berada?

## 2. Pulau Jawa

Pulau Jawa berbatasan dengan Pulau Sumatra yang dipisahkan oleh Selat Sunda. Pulau Jawa merupakan pulau yang paling padat penduduknya dibandingkan dengan pulau-pulau lain di Indonesia. Di pulau inilah letak Ibu kota Indonesia berada. Di mana letak Ibu kota Indonesia? Yang benar tentu saja Jakarta.

Provinsi-provinsi yang ada di Pulau Jawa ditunjukkan dengan tabel berikut:

| No. | Provinsi      | Ibu Kota   | Luas (Km <sup>2</sup> ) |
|-----|---------------|------------|-------------------------|
| 1   | DKI Jakarta   | Jakarta    | 664                     |
| 2   | Jawa Barat    | Bandung    | 34.597                  |
| 3   | Jawa Tengah   | Semarang   | 32.549                  |
| 4   | Jawa Timur    | Surabaya   | 47.922                  |
| 5   | DI Yogyakarta | Yogyakarta | 3.186                   |
| 6   | Banten        | Serang     | 8.651                   |



Gambar 1.3 Peta Pulau Jawa

Sumber: : Atlas Indonesia Buana Raya

### Mengasah Kecakapan Pribadi

- Tunjukkanlah pada peta di mana Ibu kota Indonesia berada!
- Provinsi mana yang belum termasuk wilayah Indonesia pada awal kemerdekaan?

Kumpulkan hasilnya kepada gurumu!



### 3. Pulau Kalimantan

Pulau Kalimantan merupakan pulau terbesar di Indonesia. Luasnya kurang lebih mencapai 540.000 km<sup>2</sup>. Sebelah timur laut pulau Kalimantan berbatasan dengan Laut Cina Selatan, sebelah selatan berbatasan dengan Laut Jawa, sedangkan sebelah timur berbatasan dengan Selat Makassar . Provinsi yang ada di Pulau Kalimantan yaitu:



**Gambar 1.4** Peta Pulau Kalimantan  
**Sumber:** Atlas Indonesia Buana Raya

| No. | Provinsi           | Ibu Kota     | Luas (Km <sup>2</sup> ) |
|-----|--------------------|--------------|-------------------------|
| 1   | Kalimantan Barat   | Pontianak    | 146.807                 |
| 2   | Kalimantan Tengah  | Palangkaraya | 153.564                 |
| 3   | Kalimantan Selatan | Banjarmasin  | 43.564                  |
| 4   | Kalimantan Timur   | Samarinda    | 230.277                 |

### 4. Pulau Bali dan Nusa Tenggara

Pulau Bali merupakan pulau yang terkenal hingga ke mancanegara karena keindahan alamnya. Berdasarkan data yang telah kita pelajari sebelumnya Bali dan Nusa Tenggara menjadi bagian dari wilayah Indonesia pada tahun 1958. Kemudian menyusul pula Timor Timur menjadi bagian provinsi Indonesia tahun 1976. Timor Timur kemudian melepaskan diri dari wilayah Indonesia menjadi negara tersendiri pada tahun 1999. Dengan demikian provinsi yang ada di Pulau Bali dan sekitarnya adalah:



**Gambar 1.5** Peta Pulau Bali dan Nusa Tenggara  
**Sumber:** Atlas Indonesia Buana Raya

| No. | Provinsi            | Ibu Kota | Luas (Km <sup>2</sup> ) |
|-----|---------------------|----------|-------------------------|
| 1   | Bali                | Denpasar | 5.633                   |
| 2   | Nusa Tenggara Barat | Mataram  | 20.153                  |
| 3   | Nusa Tenggara Timur | Kupang   | 47.351                  |

## 5. Pulau Sulawesi

Pulau Sulawesi berbatasan dengan Selat Makassar di sebelah baratnya, sedangkan sebelah selatan berbatasan dengan Laut Banda. Sebelah timur berbatasan dengan Laut Maluku, sebelah utara berbatasan dengan Laut Cina Selatan. Provinsi yang ada di Sulawesi berjumlah 5 setelah Gorontalo berubah menjadi provinsi setelah sebelumnya hanya merupakan kota bagian dari Manado.



**Gambar 1.6** Peta Pulau Sulawesi  
**Sumber:** Atlas Indonesia Buana Raya

| No. | Provinsi          | Ibu Kota  | Luas (Km <sup>2</sup> ) |
|-----|-------------------|-----------|-------------------------|
| 1   | Sulawesi Utara    | Manado    | 15.273                  |
| 2   | Sulawesi Tengah   | Palu      | 63.678                  |
| 3   | Sulawesi Selatan  | Makassar  | 62.365                  |
| 4   | Sulawesi Tenggara | Kendari   | 38.140                  |
| 5   | Gorontalo         | Gorontalo | 12.215                  |

## 6. Pulau Maluku

Pulau Maluku berbatasan dengan Laut Maluku di sebelah barat pulau, dan berbatasan dengan Laut Halmahera dan Papua di sebelah Timurnya. Maluku mulanya hanya memiliki satu provinsi kemudian bertambah lagi menjadi dua provinsi. Provinsi tersebut adalah Maluku dan Maluku Utara.



**Gambar 1.7** Peta Pulau Maluku dan Papua  
**Sumber:** Atlas Indonesia Buana Raya

| No. | Provinsi     | Ibu Kota | Luas (Km <sup>2</sup> ) |
|-----|--------------|----------|-------------------------|
| 1   | Maluku       | Ambon    | 46.975                  |
| 2   | Maluku Utara | Ternate  | 30.895                  |

## 7. Pulau Papua

Pulau Papua terletak paling timur dari wilayah Indonesia, sebelumnya hanya berupa satu provinsi kemudian pada tahun 1999 dipecah menjadi tiga provinsi yaitu Papua, Papua Barat, dan Papua Tengah. Namun semuanya mempunyai ibu kota yang sama yaitu Jayapura.

| No. | Provinsi     | Ibu Kota | Luas (Km <sup>2</sup> ) |
|-----|--------------|----------|-------------------------|
| 1   | Papua        | Jayapura | 365.466                 |
| 2   | Papua Barat  |          |                         |
| 3   | Papua Tengah |          |                         |

### Keterangan:

(\*\*) Sumber data Badan Pusat Statistik, 2004



## Mutiara Ilmu

### Tokoh Sejarah

Burhanudin Jusuf Habibie yang biasa disingkat BJ Habibie, pada waktu itu beliau menjabat Presiden Republik Indonesia menggantikan Soeharto. Pada masa pemerintahannya yaitu pada tahun 1999, sebagian rakyat Timor Timur menginginkan lepas dari Negara Kesatuan Republik Indonesia (NKRI). Diadakanlah jajak pendapat bagi masyarakat Timor Timur, dan sebagian besar rakyatnya menghendaki lepas Timor Timur dari NKRI. Oleh karena itu, sejak tahun 1999 Timor Timur bukan lagi merupakan wilayah Indonesia.



**Gambar 1.8** BJ. Habibie  
**Sumber:** [www.google.com](http://www.google.com)

## Tugas Kontekstual

Buatlah tabel seluruh provinsi yang ada di Indonesia beserta Ibu kotanya, seperti berikut ini!

| No. | Provinsi                 | Ibu Kota   |
|-----|--------------------------|------------|
| 1   | Nanggroe Aceh Darussalam | Banda Aceh |
| 2   | Sumatra Utara            |            |
| 3   | ....                     |            |

Kerjakan dalam buku latihanmu!



## Rangkuman

1. Pada awal kemerdekaan, jumlah provinsi di Indonesia terdiri atas 8 provinsi, yaitu Sumatra, Jawa Barat, Jawa Tengah, Jawa Timur, Borneo, Sulawesi, Sunda Kecil, dan Maluku.
2. Provinsi Bangka Belitung, Banten, dan Gorontalo menjadi bagian dari provinsi di Indonesia sejak tahun 2000.
3. Provinsi Timor Timur bukan lagi wilayah Indonesia pada tahun 1999.



## Latihan Soal Pelajaran 1

### I. Pilihlah jawaban yang benar!

1. Provinsi di wilayah Indonesia pada tahun 1945–1949 adalah ....
  - a. Papua
  - b. Maluku Utara
  - c. Sumatra
  - d. DKI Jakarta
2. Jumlah provinsi pada awal kemerdekaan ada ....
  - a. 5 provinsi
  - b. 6 provinsi
  - c. 7 provinsi
  - d. 8 provinsi
3. Perkembangan provinsi di Indonesia terjadi dengan pertimbangan berikut, **kecuali** ....
  - a. adanya pemberontakan
  - b. penambahan jumlah penduduk
  - c. kemampuan dalam peningkatan ekonomi
  - d. kemampuan bidang pertahanan dan keamanan

4. Provinsi Bangka Belitung berdiri pada tahun ....
  - a. 1950
  - b. 1964
  - c. 2000
  - d. 2003
5. Provinsi di pulau Jawa yang telah ada sejak awal kemerdekaan adalah sebagai berikut, **kecuali** ....
  - a. Jawa Barat
  - b. Jawa Timur
  - c. DKI Jakarta
  - d. Jawa Tengah
6. Di pulau Sumatra, yang belum menjadi provinsi pada tahun 1950 adalah ....
  - a. Sumatra Utara
  - b. Bengkulu
  - c. Sumatra Tengah
  - d. Sumatra Selatan
7. Provinsi yang berdiri pada tahun 2003 di pulau Sumatra adalah ....
  - a. Riau
  - b. Kepulauan Riau
  - c. Lampung
  - d. DI Aceh
8. Orang yang memimpin daerah di tingkat provinsi disebut ....
  - a. Gubernur
  - b. Bupati
  - c. Camat
  - d. Walikota
9. Gubernur sekarang yang menjabat provinsi DKI Jakarta adalah ....
  - a. Bapak Dada Rosada
  - b. Bapak Dani Setiawan
  - c. Bapak Sutiyoso
  - d. Bapak Fauzi Bowo
10. Provinsi Banten berdiri pada tahun ....
  - a. 1958
  - b. 1964
  - c. 1976
  - d. 2000

## II. Isilah titik-titik di bawah ini dengan jawaban yang benar!

1. Provinsi Lampung, Jambi, Riau, dan Nangroe Aceh Darussalam berada di pulau . . . .
2. Ibu kota provinsi Jawa Timur adalah . . . .
3. Banjarmasin adalah ibu kota provinsi . . . .
4. Provinsi Sumatra Utara ibu kotanya adalah . . . .
5. Ibu kota provinsi Kalimantan Tengah adalah . . . .
6. Ibu kota provinsi Jawa Tengah adalah . . . .
7. Provinsi Sulawesi Tenggara ibu kotanya di . . . .
8. Provinsi Sumatra Selatan ibu kotanya di . . . .
9. Kepala wilayah kabupaten adalah . . . .
10. Timor Timur lepas dari wilayah Indonesia pada tahun . . . .

## III. Jawablah pertanyaan berikut ini dengan singkat dan jelas!

1. Sebutkan nama-nama provinsi yang tergabung dalam wilayah Indonesia pada 1945–1949!
2. Jelaskan beberapa hal yang memengaruhi perkembangan wilayah Indonesia!
3. Sebutkan tiga provinsi yang baru bergabung pada tahun 2003!
4. Sebutkan lima provinsi yang berdiri pada tahun 2000!
5. Pulau manakah yang memiliki jumlah provinsi terbanyak? Sebutkan satu persatu!

## Pelajaran

# 2

# Kenampakan Alam, Pemerintahan, dan Kegiatan Ekonomi Negara Asia



*Bundaran HI Jakarta*

**Sumber:** [www.google.imagesearch.com](http://www.google.imagesearch.com)

Negara Indonesia bertetangga dengan negara-negara di sekitarnya. Hubungan dengan negara tetangga harus baik. Untuk itu, satu sama lain harus saling mengenal. Harus mengetahui keadaan alam dan sosialnya. Kamu harus mengetahui keadaan alam dan sosial negara-negara di Asia. Simaklah uraian berikut dengan saksama.



# Peta Konsep



## A. Kenampakan Alam dan Keadaan Sosial Negara di Asia Tenggara

Dapatkan kamu menunjukkan pada peta dunia di mana negara kita berada? Secara geografis Indonesia terletak di antara Benua Asia dan Benua Australia, serta diapit oleh dua Samudra yaitu Samudra Indonesia dan Samudra Pasifik. Indonesia merupakan negara yang terletak di Benua Asia tepatnya di wilayah Asia Tenggara.

### Tahukah Kamu

Indonesia merupakan negara dengan wilayah terluas di Asia Tenggara. Luas seluruh wilayah Indonesia kira-kira 9,8 juta km<sup>2</sup> yang terdiri atas daratan dengan luas sekitar 1,9 juta km<sup>2</sup> dan perairan sekitar 7,9 juta km<sup>2</sup>.

Negara lain yang juga berada di Asia Tenggara adalah Malaysia, Singapura, Brunei Darussalam, Filipina, Thailand, Myanmar, Kamboja, Vietnam, dan Laos. Negara-negara yang terletak di Asia Tenggara tersebut kemudian membentuk organisasi yang bernama *Association of South East Asian Nation* (ASEAN). Tujuan didirikan ASEAN adalah untuk melakukan kerja sama di antara negara-negara yang berada di Asia Tenggara.

Bersama negara-negara tetangga tersebut, Indonesia menjalin persahabatan dan kerja sama yang saling menguntungkan. Negara yang berdekatan dengan Indonesia disebut negara tetangga. Negara tetangga lainnya adalah Australia, Papua Nugini, dan Timor Timur.

Pada pembahasan kali ini kita hanya memaparkan kenampakan alam dan keadaan sosial negara-negara yang tergabung dalam ASEAN. Marilah kita membahas negara-negara tersebut satu-persatu!

### 1. Indonesia

#### a. Keadaan Alam

Indonesia merupakan negara kepulauan yang terdiri atas pulau - pulau besar dan kecil. Jumlah pulau yang terdapat di Indonesia adalah 13.667 pulau. Pulau-pulau besarnya antara lain Pulau Sumatra, Pulau Jawa, Pulau Kalimantan, Pulau Sulawesi, dan Pulau Papua.



**Gambar 2.1** Bendera dan Peta Wilayah Indonesia

Sumber: Atlas Indonesia Buana Raya

Pada pelajaran terdahulu di kelas lima kita telah mempelajari bahwa kenampakan alam yang ada di Indonesia terdiri atas rangkaian pegunungan, gunung, laut, sungai dan danau. Pegunungan tertinggi di Indonesia terdapat di Papua yaitu Pegunungan Sudirman dengan puncaknya yang tertinggi bernama Puncak Jaya yang ketinggiannya mencapai 5.030 meter. Sungai terpanjangnya adalah Sungai Kapuas (Kalimantan) sedangkan danau yang terbesar adalah Danau Toba (Sumatra Utara).

Indonesia terletak di daerah khatulistiwa sehingga iklimnya adalah tropis. Masih ingatkah kamu, kota mana saja di Indonesia yang dilalui oleh garis khatulistiwa?

### **b. Bentuk Pemerintahan**

Ibu kota negara Indonesia adalah Jakarta, dengan bentuk negaranya Republik dan dikepalai oleh seorang presiden. Presiden dipilih oleh rakyat. Di dalam menjalankan pemerintahan, Presiden dibantu oleh menteri-menteri yang dipilih oleh Presiden. Mata uang Indonesia adalah Rupiah. Lagu kebangsaan Indonesia adalah Indonesia Raya.



**Gambar 2.2** Ibu Kota Jakarta

Sumber: Encarta 2006

### **c. Kegiatan Ekonomi**

Indonesia merupakan negara yang kaya akan sumber daya alam. Oleh karena itu, kegiatan ekonomi bangsa Indonesia meliputi berbagai bidang mulai dari bidang agraris, industri, pertambangan dan pariwisata. Indonesia merupakan salah satu negara penghasil teh terbesar di dunia. Selain itu ada pula hasil perkebunan lain seperti kelapa sawit, karet, kopi, kayu, rotan dan rempah-rempah yang juga merupakan komoditi ekspor yang sangat diperhitungkan. Indonesia juga merupakan negara penghasil minyak dan

barang tambang lain seperti batu bara, gas alam, timah, emas, besi dan baja, aluminium, intan, perak dan hasil tambang lainnya.

Pada bidang industri, Indonesia menghasilkan kain dan pakaian jadi. Beberapa negara Asia Tenggara juga mengimpor bahan baku dan bahan makanan dari Indonesia. Pariwisata merupakan salah satu penghasil pendapatan negara yang cukup besar bagi Indonesia, salah satunya adalah wisata Pulau Bali.

## 2. Malaysia

### a *Keadaan Alam*

Luas Wilayah Malaysia kurang lebih 330.434 km<sup>2</sup> yang terdiri atas dua bagian yaitu wilayah Malaysia Barat dan Malaysia Timur.

- a. Wilayah Malaysia Barat terletak di semenanjung Malaka yang terdiri atas sebelas negara bagian, yaitu Kedah, Perak, Selangor, Negeri Sembilan, Penang, Pahang, Perlis, Kelantan, Malaka, Johor, dan Trenggano. Pegunungan tertingginya bernama Gunung Tahan dengan tinggi 2.190 meter.
- b. Malaysia Timur terletak di sebelah utara Kalimantan yang terdiri atas dua negara bagian yaitu Serawak dan Sabah. Di sini juga terdapat pegunungan tertinggi yaitu Gunung Kinabalu yang mencapai ketinggian 4.101 meter.



**Gambar 2.3** Bendera dan Peta Wilayah Malaysia

Sumber: *Dunia Buana Raya*

### b. *Bentuk Pemerintahan*

Ibu kota Malaysia adalah Kuala Lumpur. Bentuk negaranya adalah kerajaan. Kepala negaranya adalah raja dengan gelar Yang Dipertuan Agung yang dipilih oleh raja-raja dari negara bagian. Kepala negara-negara bagian adalah raja. Mata uang Malaysia yaitu Ringgit, dan Lagu Kebangsaaannya adalah Negaraku. Yang menjalankan pemerintahan adalah Perdana Menteri.

### c. Kegiatan Ekonomi

Kegiatan ekonomi bangsa Malaysia terutama pada bidang pertanian, perkebunan, pertambangan dan Industri. Pada bidang pertanian dan perkebunan menghasilkan karet, minyak sawit, lada, teh, padi, dan kopra. Pertambangan menghasilkan bijih besi, minyak bumi, bouksit, dan bijih timah. Bijih timah ini menjadikan Malaysia sebagai negara penghasil terbesar di dunia. Di bidang industri, Malaysia menghasilkan barang-barang elektronik.



**Gambar 2.4** Ibu Kota Kuala Lumpur  
Sumber: Encarta 2002

## 3. Singapura

### a. Keadaan Alam

Luas wilayah Singapura sekitar 622 km<sup>2</sup> yang terdiri atas pulau - pulau kecil. Singapura merupakan negara dengan letak yang strategis karena berada pada posisi silang jalur pelayaran dari negara-negara di Asia Timur, Asia Barat, Afrika, Eropa, Australia, dan Amerika.

Keadaan ini dimanfaatkan oleh pemerintah Singapura dengan membangun pelabuhan yang menyediakan sarana angkutan dan gudang. Dengan pelayanan yang baik, maka banyak kapal yang singgah di pelabuhan Singapura sehingga menjadikan Singapura sebagai pelabuhan teramai di Asia.



**Gambar 2.5** Bendera dan Peta Wilayah Singapura  
Sumber: Atlas Dunia Buana Raya

### b. Bentuk Pemerintahan

Ibu kota Singapura adalah Singapura. Bentuk negara Singapura adalah Republik yang dikepalai oleh seorang Presiden dengan kepala pemerintahannya adalah perdana menteri. Mata uang Singapura adalah Dollar Singapura (S \$). Lagu kebangsaannya adalah Majulah Singapura.



### c. **Kegiatan Ekonomi**

Kegiatan ekonomi bangsa Singapura terutama pada jasa perbankan, dan industri. Di bidang industri menghasilkan barang elektronik, dan bahan makanan. Namun karena luas negara yang terbatas maka untuk memperoleh bahan baku industri, Singapura mengimpor dari negara lain termasuk Indonesia. Jenis bahan baku yang diimpor dari Indonesia di antaranya timah, minyak mentah, dan gas alam.



**Gambar 2.6** Ibu Kota Singapura  
Sumber: Encarta 2006

### **Tahukah Kamu**

Singapura adalah satu-satunya negara ASEAN yang penghasilan penduduknya sebagian besar dari industri dan jasa.

## 4. **Brunei Darussalam**

### a. **Keadaan Alam**

Luas wilayah Brunei Darussalam sekitar 5.765 km<sup>2</sup>. Letaknya di Kalimantan Utara. Sebelah selatan, barat dan timurnya, berbatasan langsung dengan Serawak (negara bagian timur Malaysia), sedangkan sebelah utaranya berbatasan dengan Laut Cina Selatan. Wilayah Brunei terdiri atas dua yaitu wilayah barat dan wilayah timur. Wilayah barat merupakan daerah dataran rendah dan berawa sedangkan wilayah timur merupakan daerah yang berbukit. Brunei Darussalam mempunyai gunung dengan tinggi yang mencapai 1.850 meter.

### b. **Bentuk Pemerintahan**

Ibu kota Brunei Darussalam adalah Bandar Seri Begawan. Bentuk negaranya adalah kesultanan. Kepala negara dan kepala pemerintahannya adalah Sultan. Mata uang Brunei Darussalam adalah Dollar Brunei (Br \$). Lagu kebangsaannya adalah Pujian untuk Sultan.



**Gambar 2.7** Bendera dan Peta Wilayah Brunei Darussalam  
Sumber: Atlas Indonesia Buana Raya

### c. Kegiatan Ekonomi

Kegiatan ekonomi Brunei Darussalam terutama dalam pertambangan minyak bumi dan gas alam. Brunei merupakan penghasil minyak bumi terbesar di Asia. Brunei mengimpor dari negara-negara lain untuk kebutuhan barang lainnya, seperti barang elektronik, kendaraan, beras, gula, sayuran dan buah-buahan.



**Gambar 2.8** Masjid Brunei  
Sumber: Encarta 2006

## Tahukah Kamu

Negara terkaya di Asia Tenggara adalah Brunei Darussalam. Pendapatan per kapita penduduknya paling tinggi di antara penduduk Asia Tenggara Lainnya

## 5. Filipina

### a. Keadaan Alam

Luas wilayah Filipina sekitar 300.000 km<sup>2</sup>. Seperti halnya Indonesia, Filipina merupakan negara kepulauan. Jumlah pulau-pulainya kurang lebih 7.100 pulau. Pulau-pulau besarnya adalah Pulau Luzon, Pulau Mindore, Palawan, Cebu, Negros dan Pulau Mindanao. Kepulauan Filipina termasuk daerah Pegunungan Lipatan Pasifik dan memiliki banyak gunung api yang di

antaranya masih aktif. Gunung tertinggi di Pulau Luzon adalah Gunung Mayon dengan tinggi 2.421 meter, sedangkan gunung tertinggi di Pulau Mindanao adalah Gunung Apo dengan ketinggian 1.954 meter. Kota pelabuhan terbesar di Filipina adalah Cavite yang terdapat di Pulau Luzon.



**Gambar 2.9** Ibu kota Manila  
Sumber: Encarta 2006

### **b. Bentuk Pemerintahan**

Ibu kota Filipina adalah Manila. Bentuk negaranya yaitu Republik dengan kepala negaranya dipimpin oleh Presiden. Kepala pemerintahan Filipina adalah Presiden. Istana kepresidenan Filipina bernama Malacanang terdapat di Kota Manila. Mata uang Filipina adalah Peso. Lagu kebangsaannya adalah *Tierra Adorada*.

### **c. Kegiatan Ekonomi**

Kegiatan ekonomi penduduk Filipina adalah dalam bidang pertanian, pertambangan, dan industri. Hasil pertaniannya terdiri atas padi, nanas, dan gula. Hasil pertambangannya antara lain emas, tembaga, kobalt, nikel, bijih besi, dan minyak bumi. Di negara Filipina tepatnya di kota Los Banos terdapat Lembaga Penelitian Padi Internasional yang dalam bahasa Inggris, lembaga itu disebut *International Rice Research Institute* (IRRI).



**Gambar 2.10** Bendera dan Peta Wilayah Filipina  
Sumber: Atlas Dunia Buana Raya

## **6. Thailand**

### **a. Keadaan Alam**

Luas wilayah Thailand kurang lebih 513.998 km<sup>2</sup>. Thailand terdiri atas dataran rendah, bukit-bukit dan pegunungan. Dataran rendah dialiri oleh Sungai Chao Phraya, sehingga merupakan daerah yang sangat subur di Thailand. Pegunungan yang tertinggi



**Gambar 2.11** Bendera Thailand

terdapat di bagian utara dan barat dengan puncaknya yang tertinggi adalah Gunung Doi Inthanon dengan ketinggian 2.594 meter.

### b. Bentuk Pemerintahan

Ibu kota Thailand adalah Bangkok, dengan bentuk negaranya adalah kerajaan. Kepala negaranya adalah raja, sedangkan kepala pemerintahannya adalah perdana menteri. Mata uang Thailand adalah Baht. Lagu kebangsaannya adalah Pleng Chard.

### c. Kegiatan ekonomi

Kegiatan ekonomi penduduk Thailand adalah dalam bidang pertanian, kehutanan, pertambangan, dan industri. Thailand merupakan penghasil beras terbesar di Asia, sehingga dikenal sebagai lumbung padi Asia. Hasil tambangnya antara lain timah dan mangan. Hasil hutannya adalah kayu jati, sedangkan industrinya adalah tekstil, semen, dan barang elektronik.



Gambar 2.12 Peta Wilayah Thailand

Sumber: Atlas Dunia Buana Raya

## Tahukah Kamu

Thailand merupakan satu - satunya negara di Asia yang tidak pernah dijajah oleh bangsa Eropa ataupun Bangsa Amerika.

## 7. Myanmar

### a. Keadaan Alam

Luas wilayah negara Myanmar kurang lebih 676.552 km<sup>2</sup>. Iklim yang terdapat di Myanmar terbagi dua yaitu Myanmar bagian selatan beriklim tropis, sedangkan bagian utara beriklim subtropis. Di bagian timur terdapat dataran tinggi yang memisahkan



Gambar 2.13 Bendera Myanmar



Myanmar dengan Thailand. Di bagian tengah berupa dataran rendah yang dialiri oleh Sungai Irawadi dan beberapa sungai lainnya. Di bagian utara berbatasan dengan Cina dan India yang berupa pegunungan (bagian dari pegunungan Himalaya). Di bagian selatan terdapat garis pantai sepanjang Laut Andaman dan Teluk Benggala.

### **b. Bentuk Pemerintahan**

Ibu kota Myanmar adalah Yangon. Bentuk negaranya republik. Kepala negara dan kepala pemerintahannya adalah presiden. Mata uang Myanmar adalah Kyat. Lagu kebangsaannya adalah *Our Free Homeland* (Tanah Airku Merdeka).

### **c. Kegiatan Ekonomi**

Mata pencaharian penduduk Myanmar dalam bidang pertanian, kehutanan, perkebunan, dan pertambangan. Hasil utama pertanian Myanmar adalah padi yang merupakan penghasil terbesar di Asia Tenggara. Hasil perkebunannya adalah kapas, tembakau, dan tebu. Hasil hutannya adalah kayu jati, sedangkan hasil tambangnya berupa emas, perak, seng, timah, tembaga, dan minyak bumi.



**Gambar 2.14** Peta Wilayah Myanmar

Sumber: Atlas Dunia Buana Raya

## **8. Kamboja**

### **a. Keadaan Alam**

Kamboja terletak di semenanjung Indocina. Berbatasan dengan Laos di sebelah utara, di sebelah timur dan selatan berbatasan dengan Vietnam sedangkan di sebelah barat dan utara berbatasan dengan Thailand. Luas wilayah Kamboja sekitar 181.300 km<sup>2</sup>. Daerah Kamboja yang dilalui oleh Sungai Mekong merupakan daerah yang subur. Terdapat pegunungan Cardamon sepanjang 160 km yang berbatasan dengan Thailand. Tinggi puncak pegunungan Cardamon adalah 1.813 meter. Pada umumnya negara Kamboja beriklim tropis.



**Gambar 2.15** Bendera Kamboja





**Gambar 2.16** Peta Wilayah Kamboja dan ibu kota Phnom penh

Sumber: Atlas Dunia Buana Raya dan Encarta 2006

### **b. Bentuk Pemerintahan**

Bentuk negara Kamboja adalah republik. Ibu kota negara Kamboja adalah Phnom Penh. Kepala negara Kamboja adalah Presiden, sedangkan kepala pemerintahannya adalah perdana menteri. Mata uang Kamboja adalah Riel Kamboja. Lagu kebangsaannya adalah Our Country.

### **c. Kegiatan Ekonomi**

Mata pencaharian penduduk Kamboja terutama dalam pertanian. Hasil pertaniannya adalah padi, jagung, dan karet. Kamboja juga merupakan salah satu penghasil padi terbesar di Asia Tenggara.

## **9. Vietnam**

### **a. Keadaan Alam**

Negara Vietnam terletak di semenanjung Indocina. Luas wilayahnya sekitar 331.690 km<sup>2</sup>. Sebelah utara berbatasan dengan Cina, sebelah barat berbatasan dengan Laos dan Kamboja, dan sebelah selatan dan timur berbatasan dengan Laut Cina Selatan. Di Vietnam terdapat beberapa pegunungan dan delta sungai.

- 1) Di bagian barat laut terdapat pegunungan utara dengan puncak tertingginya bernama Fan-Si-Pan dengan ketinggian 3.143 meter.
- 2) Pegunungan Annam yang berada di wilayah barat mulai dari pegunungan utara hingga 80 km di utara Kota Saigon.
- 3) Delta Sungai Merah membentang dari pegunungan utara hingga Teluk Tonkin. Daerah ini merupakan daerah yang subur sehingga dijadikan wilayah pertanian.
- 4) Delta Mekong yang terbentuk dari Sungai Mekong.

Negara Vietnam merupakan negara yang beriklim musim tropis.



**Gambar 2.17** Bendera Vietnam dan ibu kota Ho Chi Minh

Sumber: Atlas Dunia Buana Raya

### b. Bentuk Pemerintahan

Ibu Kota negara Vietnam adalah Hanoi. Bentuk negaranya adalah republik sosialis dengan kepala negaranya adalah presiden. Kepala pemerintahan dipimpin oleh perdana menteri. Mata uang Vietnam adalah Dong. Lagu kebangsaannya adalah Tien Quan Ca (Forward Soldier).

### c. Kegiatan Ekonomi

Kegiatan ekonomi bangsa Vietnam adalah dalam bidang pertanian, industri dan pertambangan. Mata pencaharian penduduk Vietnam terutama dalam pertanian sehingga hasil utamanya adalah padi. Hasil pertanian lainnya yaitu jagung, tebu, teh, buah-buahan dan tembakau. Hasil industrinya antara lain tekstil, semen, pupuk, dan ban. Sedangkan hasil tambangnya adalah emas, bijih besi, batu bara, timah, seng, dan fosfat.



**Gambar 2.18** Peta wilayah Vietnam

Sumber: Atlas Dunia Buana Raya

## 10. Laos

### a. Keadaan Alam

Laos terletak di semenanjung Indocina, dengan luas wilayahnya sekitar 236.800 km<sup>2</sup>. Laos beriklim musim. Wilayah Laos umumnya dikelilingi oleh hutan dan



**Gambar 2.19** Bendera Laos

pegunungan. Di sebelah utara berbatasan dengan Cina, sebelah timur dengan Vietnam, sebelah selatan dengan Thailand dan Kamboja, dan sebelah barat berbatasan dengan Myanmar dan Thailand. Wilayah Laos sebelah utara terdapat pegunungan dan dataran tinggi yang membentang sepanjang batas timur dengan puncaknya adalah Gunung Bia.

## Tahukah Kamu

Satu-satunya negara di Asia Tenggara yang tidak memiliki wilayah laut adalah Laos.

Sungai penting di Laos adalah Sungai Mekong yang mengalir dari barat daya ke arah tenggara hingga perbatasan Thailand. Daerah sepanjang Sungai Mekong ini dijadikan daerah pertanian. Sungai Mekong juga dimanfaatkan sebagai sarana transportasi.

### b. Bentuk Pemerintahan

Ibu Kota negara Laos adalah Vientiane dengan bentuk negaranya republik. Kepala negaranya adalah presiden, sedangkan kepala pemerintahannya adalah perdana menteri. Mata uang Laos adalah New Kip (KN). Lagu kebangsaannya adalah Sat Lao Tang Te Deum Ma'Khan Sulu Sa You Nei Asie.

### c. Kegiatan Ekonomi

Kegiatan ekonomi penduduk Laos terutama dalam bidang agraris. Hasil pertaniannya adalah padi, sayuran, pisang, pepaya, kelapa dan jagung. Selain usaha pertanian, ada juga usaha ternak yang menghasilkan sapi, kerbau, babi, dan unggas.



**Gambar 2.20** Gerbang Victoria di Vientiane Ibu kota Laos & peta wilayah Laos

**Sumber:** Encarta 2006 & Atlas Dunia Buana Raya

## Tahukah Kamu

Negara-negara di Asia Tenggara yang termasuk kawasan Indocina adalah Laos, Kamboja, dan Vietnam.

## Mengasah Kecakapan Pribadi

Kamu telah mengetahui keadaan alam dan sosial negara-negara Asia. Hikmah apa yang dapat kamu ambil?

## B. Hubungan Kerja Sama antara Negara-Negara ASEAN

Pernahkah kamu menyaksikan SEA GAMES? SEA GAMES merupakan contoh bentuk kerja sama antarnegara ASEAN dalam bidang olah raga. Kerja sama antara negara-negara anggota ASEAN meliputi bidang ekonomi, politik, sosial, dan budaya.

Beberapa bentuk kerja sama negara ASEAN dalam bidang ekonomi antara lain:

1. Menyelenggarakan proyek industri bersama negara-negara anggota ASEAN, dengan pembagian saham 60% dari negara tempat industri tersebut, dan 40% dibagi sama rata di antara anggota ASEAN lainnya. Pabrik industri yang sudah berdiri di antaranya:
  - a. Pabrik pupuk urea amonia di Aceh, Indonesia
  - b. Pabrik pupuk urea amonia di Malaysia
  - c. Pabrik diesel marine di Singapura
  - d. Pabrik super posfat di Filipina
  - e. Pabrik abu soda di Thailand
  - f. Pabrik vaksin di Singapura
  - g. Pabrik industri tembaga di Filipina
2. Meningkatkan kerja sama bidang perdagangan dengan cara mengurangi bea masuk untuk perdagangan ekspor-impor antara sesama negara ASEAN.

Kerja sama yang terjalin dalam bidang politik antara lain:

- a. Mengadakan perjanjian ekstradisi antara anggota ASEAN
- b. Bekerja sama menanggulangi narkoba dan obat terlarang lainnya.

Selain bentuk kerja sama yang tersebut di atas, ada pula bentuk kerja sama dalam bidang sosial budaya, yaitu:

- a) Mengadakan tukar-menukar misi kebudayaan dan kesenian, misalnya acara Titian Muhibah yang diselenggarakan oleh TVRI (Indonesia) dengan RTM (Malaysia), acara Asia Bagus yang diikuti oleh peserta dari negara-negara di Asia.
- b) Mengadakan pesta olah raga bersama yang biasa disebut SEA GAMES, diselenggarakan dua tahun sekali. Tempat pelaksanaannya bergantian.
- c) Meningkatkan kerja sama dalam bidang pariwisata.

### Tahukah Kamu

Ekstradisi adalah penyerahan pelarian (buronan) dari suatu negara oleh negara yang menangkapnya.

### Menjadi Anak Kritis

- Carilah bentuk kerja sama lain yang dilakukan oleh Indonesia dengan negara lain di kawasan Asia Tenggara!
  - Diskusikan hasil temuanmu dengan teman kelompok!
- Kumpulkan hasilnya kepada gurumu!

### Rangkuman

1. Negara-negara yang termasuk dalam kawasan Asia Tenggara adalah Indonesia, Malaysia, Brunei Darussalam, Singapura, Thailand, Filipina, Myanmar, Kamboja, Laos, dan Vietnam.



2. Negara-negara yang termasuk dalam kawasan Indocina adalah Laos, Kamboja, dan Vietnam.
3. Selain Indonesia, yang mendapat julukan negara Kepulauan adalah Filipina.
4. Pendapatan utama Negara Brunei Darussalam adalah dari ekspor minyak bumi dan gas alam.



## Latihan Soal Pelajaran 2

### I. Pilihlah jawaban yang benar!

1. Negara dengan wilayah terluas di Asia Tenggara adalah ....
  - a. Malaysia
  - b. Singapura
  - c. Indonesia
  - d. Thailand
2. Satu-satunya negara yang penghasilan penduduknya dari industri dan jasa adalah ....
  - a. Kamboja
  - b. Singapura
  - c. Filipina
  - d. Myanmar
3. Berikut ini negara-negara yang terletak di kawasan Indocina, **kecuali** ....
  - a. Kamboja
  - b. Vietnam
  - c. Laos
  - d. Myanmar
4. Ibu Kota negara Filipina adalah ....
  - a. Manila
  - b. Singapura
  - c. Jakarta
  - d. Hanoi
5. Lagu kebangsaan Malaysia adalah ....
  - a. Indonesia Raya
  - b. *Our Country*
  - c. Negaraku
  - d. Bangsaku
6. Mata uang Singapura adalah ....
  - a. Dong
  - b. Dolar
  - c. Peso
  - d. Baht

7. Hasil utama Brunei Darussalam adalah ....
  - a. padi
  - b. logam
  - c. minyak bumi
  - d. kapas
8. Negara penghasil padi terbesar dan merupakan lumbung padi di Asia adalah ....
  - a. Malaysia
  - b. Filipina
  - c. Indonesia
  - d. Thailand
9. Ibu kota negara Laos adalah ....
  - a. Jakarta
  - b. Phnom Penh
  - c. Manila
  - d. Vientiane
10. Negara yang mendapat sebutan negara kepulauan di Asia Tenggara selain Indonesia adalah ....
  - a. Filipina
  - b. Myanmar
  - c. Kamboja
  - d. Thailand

## II. Isilah titik-titik di bawah ini dengan jawaban yang benar!

1. Gelar raja untuk Kepala Negara Malaysia adalah . . . .
2. Mata uang Thailand adalah . . . .
3. Hasil utama penduduk Brunei Darussalam adalah . . . .
4. Ibu kota negara Kamboja adalah . . . .
5. Lagu kebangsaan Indonesia adalah . . . .
6. Mata uang negara Myanmar adalah . . . .
7. Lagu kebangsaan negara Singapura adalah . . . .
8. Sad Lao Tang Te Deum Ma'khan Sulu Sa You Nei Asie adalah lagu kebangsaan negara . . . .
9. Ibu Kota negara Brunei Darussalam adalah . . . .
10. Mata uang Malaysia adalah . . . .

## III. Jawablah pertanyaan berikut ini dengan singkat dan jelas!

1. Sebutkan beberapa bentuk kerja sama dalam bidang ekonomi berupa proyek industri antarnegara ASEAN!
2. Apa yang dimaksud dengan ekstradisi?
3. Sebutkan hasil utama dari negara Brunei Darussalam!
4. Mengapa letak negara Singapura sangat strategis?
5. Sebutkan pulau-pulau besar yang terdapat di Filipina!

# Pelajaran

# 3

## Benua-Benua di Dunia

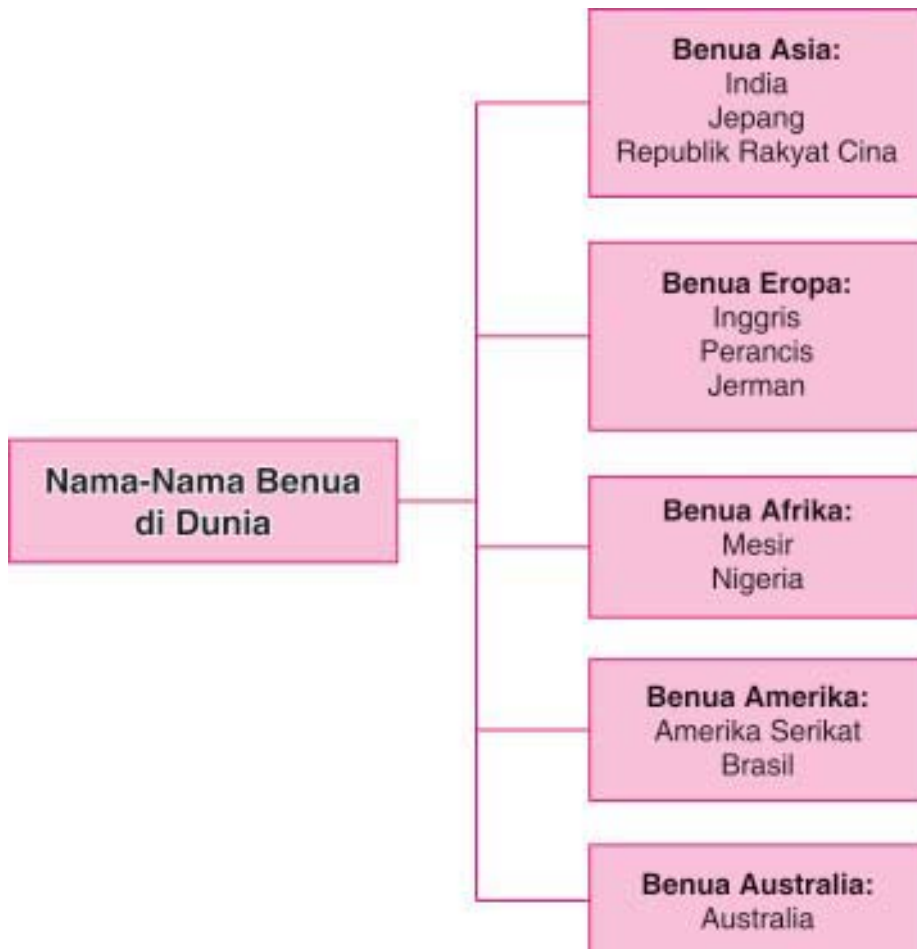


*Peta Dunia*

**Sumber:** *Atlas Dunia Buana Raya*

Dunia ini sangat luas. Terdiri atas enam benua, yang dihuni manusia ada lima benua. Kamu harus tahu benua apa saja yang dihuni manusia. Terdiri atas negara-negara mana saja yang ada di sana? Simaklah dengan saksama uraian berikut ini.

# Peta Konsep



## A. Mengetahui Benua-Benua

Kamu mungkin sering menggunakan peta, baik peta Indonesia maupun peta dunia. Peta yang kita kenal menunjukkan letak geografis maupun astronomis suatu negara bahkan benua. Pada pelajaran terdahulu kita mengetahui negara-negara di Asia Tenggara dengan berbagai keadaan alam dan kehidupan. Untuk pembahasan kali ini kita akan mengetahui negara-negara yang menempati benua di dunia.

Tahukah kamu ada berapa benua yang ada di dunia? Benar, lima benua. Dapatkah kamu menyebutkannya? Untuk mencocokkan jawabanmu, perhatikanlah peta dunia di bawah ini!



**Gambar 3.1** Peta Dunia

Sumber: Atlas Dunia Buana Raya

Dari peta globe tersebut kita dapat menunjukkan benua apa saja yang ada di dunia. Benua-benua tersebut adalah:

1. Benua Asia yang terbagi menjadi lima kawasan yaitu: Asia Tenggara, Asia Timur, Asia Selatan, Asia tengah, dan Asia Barat.
2. Benua Eropa yang terbagi menjadi lima kawasan yaitu: Eropa Barat, Eropa Utara, Eropa Timur, Eropa Selatan, dan Eropa Tengah.



3. Benua Afrika yang juga terbagi menjadi lima kawasan yaitu: Afrika Barat, Afrika Timur, Afrika Selatan, Afrika Timur, dan Afrika Utara.
4. Benua Amerika terbagi menjadi empat kawasan yaitu: Amerika Tengah, Amerika Selatan, Amerika Utara, dan Kepulauan Karibia.
5. Benua Australia.

Selain nama benua, pada peta tersebut terdapat pula nama-nama samudra, yaitu:

1. Samudra Hindia
2. Samudra Pasifik, yang terbagi menjadi Samudra Pasifik utara dan Samudra Pasifik Selatan.
3. Samudra Atlantik, terbagi menjadi Samudra Atlantik Utara dan Samudra Atlantik Selatan.
4. Samudra Arktik

## B. Negara-Negara yang Menghuni Masing-Masing Benua

### 1. Benua Asia

Perhatikanlah letak Benua Asia pada peta dunia tersebut! Di situ terlihat bahwa Benua Asia merupakan benua yang terluas di dunia. Secara astronomis Benua Asia terletak antara 110 LS sampai 770 LU dan 260 BT sampai 1690 BB. Negara-negara yang ada di Benua Asia menempati beberapa kawasan yang berbeda yang terbagi menjadi:

#### ***Kawasan Asia Selatan***

| No. | Negara     | Ibu Kota  |
|-----|------------|-----------|
| 1.  | India      | New Delhi |
| 2.  | Pakistan   | Islamabad |
| 3.  | Bangladesh | Dhaka     |
| 4.  | Sri Lanka  | Colombo   |
| 5.  | Nepal      | Katmandu  |
| 6.  | Bhutan     | Thimpu    |

### ***Kawasan Asia Tenggara***

| <b>No.</b> | <b>Negara</b>     | <b>Ibu Kota</b>     |
|------------|-------------------|---------------------|
| 1.         | Indonesia         | Jakarta             |
| 2.         | Singapura         | Singapura           |
| 3.         | Malaysia          | Kuala Lumpur        |
| 4.         | Brunei Darussalam | Bandar Seri Begawan |
| 5.         | Thailand          | Bangkok             |
| 6.         | Filipina          | Manila              |
| 7.         | Kamboja           | Phnom Penh          |
| 8.         | Myanmar           | Rangoon             |
| 9.         | Laos              | Vientiane           |
| 10.        | Vietnam           | Hanoi               |
| 11.        | Timor Leste       | Dilli               |

### ***Kawasan Asia Timur***

| <b>No.</b> | <b>Negara</b>        | <b>Ibu Kota</b> |
|------------|----------------------|-----------------|
| 1.         | Jepang               | Tokyo           |
| 2.         | Korea Selatan        | Seoul           |
| 3.         | Korea Utara          | Pyongyang       |
| 4.         | Taiwan               | Taipei          |
| 5.         | Republik Rakyat Cina | Beijing         |

### ***Kawasan Asia Tengah***

| <b>No.</b> | <b>Negara</b> | <b>Ibu Kota</b> |
|------------|---------------|-----------------|
| 1.         | Mongolia      | Ulan Bator      |
| 2.         | Kazakstan     | Alma-Ata        |
| 3.         | Kirgiztan     | Bishkek         |
| 4.         | Tajikistan    | Dushanbe        |
| 5.         | Uzbekistan    | Tashkent        |
| 6.         | Turkmenistan  | Askhabad        |

## Kawasan Asia Barat

| No. | Negara     | Ibu Kota   |
|-----|------------|------------|
| 1.  | Afganistan | Kabul      |
| 2.  | Iran       | Teheran    |
| 3.  | Irak       | Baghdad    |
| 4.  | Arab Saudi | Riyadh     |
| 5.  | Turki      | Ankara     |
| 6.  | Suriah     | Damaskus   |
| 7.  | Yordania   | Amman      |
| 8.  | Libanon    | Beirut     |
| 9.  | Kuwait     | Kuwait     |
| 10. | Yaman      | Sana       |
| 11. | Oman       | Muskat     |
| 12. | Bahrain    | Al Manamah |
| 13. | Cyprus     | Nicosia    |
| 14. | Qatar      | Doha       |
| 15. | Palestina  | Jerusalem  |
| 16. | Israel     | Tel Aviv   |

Perhatikanlah baik-baik letak semua negara yang ada di kawasan Asia! Dapatkah kamu menemukannya satu-persatu? Untuk pembahasan kali ini kita hanya membahas beberapa negara besar saja yang ada di Benua Asia, yaitu India, Jepang, dan Cina.

### a. India

#### 1) Keadaan Alam

India terletak di kawasan Asia Selatan dan mempunyai luas wilayah kurang lebih 3.287.596 km<sup>2</sup>. India bagian utara merupakan pegunungan, yaitu Pegunungan Himalaya yang puncak tertingginya bernama Mount Everest dengan tingginya mencapai 8.888 meter. Pegunungan Himalaya dengan puncaknya Mount Everest merupakan gunung tertinggi di dunia. Di bagian



Gambar 3.2 Bendera India

tengah terdapat dataran tinggi bernama Dataran Tinggi Dekkan. Di antara Dataran Tinggi Dekkan dan Pegunungan Himalaya terdapat Dataran Rendah Hindustan dan Dataran Tinggi Assam yang subur. Di dataran rendah itu terdapat Sungai Gangga dan Sungai Brahmaputra yang dianggap suci oleh para pemeluk agama Hindu di India. Kedua sungai tersebut bermuara ke Teluk Benggala.

## 2.) Keadaan Penduduk

India merupakan negara dengan jumlah penduduk terpadat kedua di dunia setelah Cina. Penduduk asli India adalah bangsa Indo Arya dan Dravida. Sebagian besar penduduknya menganut agama Hindu, sisanya menganut agama Islam, Buddha, dan Kristen.



**Gambar 3.3** Peta Wilayah India

Sumber: Atlas Dunia Buana Raya

## Tahukah Kamu

Penghasil teh terbesar di dunia adalah India tepatnya di Dataran Tinggi Assam

## 3) Bentuk Pemerintahan

Bentuk negara India adalah Republik. Kepala negaranya adalah seorang presiden, sedangkan kepala pemerintahannya adalah Perdana Menteri. Ibukota India adalah New Delhi. Mata uang India adalah Rupee, dan bahasa resminya adalah Bahasa Hindi. Lagu kebangsaan India adalah *Jana Gana Mana* (Pikiran Bagian Besar Rakyat).



**Gambar 3.4** Taj Mahal yang terkenal di Kota Agra India

Sumber: Encarta 2002

## b. Jepang

### 1) Keadaan Alam

Negara Jepang terletak di kawasan Asia Timur. Luas wilayah Jepang kurang lebih 377.837 km<sup>2</sup>. Jepang merupakan negara kepulauan yang terdiri atas banyak pulau kecil dan beberapa pulau besar. Pulau-pulau yang terdapat di Jepang di antaranya Pulau Sikoku, Pulau Hokaido, Pulau Kyusu, Pulau Honshu, dan Kepulauan Ryukyu. Kepulauan Jepang pada umumnya berbukit-bukit dan wilayah datarannya sempit. Gunung yang terdapat di Jepang adalah Gunung Fuji. Gunung Fuji merupakan gunung yang dianggap keramat oleh penduduk Jepang. Gunung Fuji terletak di Pulau Honshu.

Jepang merupakan contoh negara di Asia yang paling berhasil melaksanakan modernisasi. Meski hanya memiliki lahan pertanian yang sempit, tapi berhasil menerapkan teknologi tinggi dalam pertanian. Hasil pertanian Jepang antara lain beras, gandum, sayuran, dan buah-buahan.

### 2) Keadaan Penduduk

Jepang beriklim subtropis hingga sedang. Penduduk asli Jepang adalah suku Ainu. Sebagian besar penduduknya menganut agama Shinto (memuja arwah nenek moyang). Selain itu ada juga yang menganut agama Islam, Buddha dan Kristen.

### 3) Bentuk Pemerintahan

Ibu Kota Jepang adalah Tokyo. Bentuk negara Jepang adalah kerajaan (kekaisaran). Kepala negara dipimpin oleh seorang kaisar. Kepala pemerintahannya adalah perdana menteri. Lagu kebangsaan Jepang adalah Kimigayo (Pemerintah Kaisar Kami). Mata uangnya adalah Yen.



**Gambar 3.4** Gunung Fuji

Sumber: Encarta 2002



**Gambar 3.5** Bendera dan peta wilayah Jepang

Sumber: Atlas Dunia Buana Raya



### c. Republik Rakyat Cina

#### 1) Keadaan alam

Negara Cina memiliki luas wilayah sekitar 9.596.961 km<sup>2</sup>. Sebagian besar wilayahnya berupa pegunungan. Pegunungan yang terdapat di Cina adalah Pegunungan Kwan Lun dan Pegunungan Himalaya. Di pegunungan bagian selatan terdapat dataran tinggi yang disebut Dataran Tinggi Yunan. Di sebelah timur terdapat dataran rendah yang cukup luas dan di daerah ini mengalir Sungai Kuning (Sungai Hwang Ho). Selain Sungai Kuning, ada juga Sungai Mekhong, Sungai Yangtse, dan Sungai Si Kiang. Daerah di sekitar lembah sungai tersebut tanahnya sangat subur.

Cina memiliki tiga musim berbeda di masing-masing wilayah. Wilayah Cina bagian utara beriklim subtropis, bagian selatan beriklim tropis dan di bagian pantai beriklim musim.

Mata pencaharian penduduk Cina adalah dalam bidang pertanian, perindustrian, pertambangan, dan perdagangan. Pertanian merupakan mata pencaharian utama penduduk Cina, dengan hasil pertaniannya adalah padi, jagung, gandum, teh, kapas, dan tebu. Selain itu, Cina juga merupakan negara peternak ulat sutera dan penghasil bahan baku sutera terbaik di dunia.

#### 2) Keadaan Penduduk

Cina merupakan negara dengan penduduk terpadat nomor satu di dunia. Pada tahun 2002 jumlah penduduknya mencapai 1.273.111.290 jiwa. Sebagian besar penduduk Cina adalah suku Han, sisanya suku Mongol, Manchu, Korea, dan Turki. Penduduknya menganut ajaran Kong Hu Cu.



**Gambar 3.6** Sungai Kuning  
Sumber: Encarta 2006



**Gambar 3.7** Bendera dan peta wilayah Cina  
Sumber: Atlas Dunia Buana Raya

### 3) Bentuk Pemerintahan

Ibu kota Cina adalah Beijing. Bentuk negaranya adalah Republik. Kepala negaranya adalah seorang presiden dan kepala pemerintahannya adalah perdana menteri. Bahasa resminya adalah Bahasa Mandarin dan mata uangnya adalah Yuan. Lagu kebangsaan Cina adalah I Yung Chin Hsing Ch'u (Mars Sukarelawan (Timur adalah Merah)).



**Gambar 3.8** Tembok besar Cina  
Sumber: *National Geographic*

## Tugas Kontekstual

- Sebutkanlah beberapa bangunan yang merupakan keajaiban dunia lainnya yang kamu ketahui!
- Mintalah bantuan orang tua atau kerabat untuk menemukan jawabannya! Kumpulkan hasilnya kepada gurumu!

## 2. Benua Eropa

Perhatikan kembali peta dunia! Jika kamu mengamati lebih cermat, maka Benua Eropa merupakan bagian dari Benua Asia. Mengapa Benua Eropa dikatakan terpisah? Ini disebabkan ada Pegunungan Ural yang membatasi kedua benua tersebut.

Luas Benua Eropa kurang lebih 10.900.000 km<sup>2</sup>. Secara astronomis letak Benua Eropa ada pada 34° LU sampai 71° LS dan 10° BB sampai 66° BT. Pada umumnya negara-negara di Benua Eropa sudah lebih maju karena usaha dan kerja keras bangsa tersebut. Berdasarkan letaknya Benua Eropa terbagi atas Eropa Utara, Eropa Selatan, Eropa Barat, dan Eropa Timur. Berikut adalah negara-negara yang menghuni Benua Eropa!

### ***Kawasan Eropa Barat***

| <b>No.</b> | <b>Negara</b> | <b>Ibu Kota</b> |
|------------|---------------|-----------------|
| 1.         | Inggris Raya  | London          |
| 2.         | Irlandia      | Dubin           |
| 3.         | Perancis      | Paris           |
| 4.         | Belgia        | Brussels        |
| 5.         | Belanda       | Amsterdam       |
| 6.         | Luxemburg     | Luxemburg       |
| 7.         | Jerman        | Berlin          |

### ***Kawasan Eropa Timur***

| <b>No.</b> | <b>Negara</b> | <b>Ibu Kota</b> |
|------------|---------------|-----------------|
| 1.         | Rusia         | Moskow          |
| 2.         | Estonia       | Tallinn         |
| 3.         | Latvia        | Riga            |
| 4.         | Ukrania       | Kiev            |
| 5.         | Lithuania     | Vilnius         |
| 6.         | Moldovia      | Khisinev        |

### ***Kawasan Eropa Selatan***

| <b>No.</b> | <b>Negara</b> | <b>Ibu Kota</b> |
|------------|---------------|-----------------|
| 1.         | Yunani        | Athens          |
| 2.         | Italia        | Roma            |
| 3.         | Spain         | Madrid          |
| 4.         | Portugal      | Lisabon         |
| 5.         | Malta         | Valletta        |

### ***Kawasan Eropa Utara***

| <b>No.</b> | <b>Negara</b> | <b>Ibu Kota</b> |
|------------|---------------|-----------------|
| 1.         | Denmark       | Kopenhagen      |
| 2.         | Eslandia      | Reykjavik       |
| 3.         | Norwegia      | Oslo            |
| 4.         | Finlandia     | Helsinki        |
| 5.         | Swedia        | Stockholm       |

### ***Kawasan Eropa Tengah***

| <b>No.</b> | <b>Negara</b>      | <b>Ibu Kota</b> |
|------------|--------------------|-----------------|
| 1.         | Polandia           | Warsawa         |
| 2.         | Swiss              | Bern            |
| 3.         | Austria            | Wina            |
| 4.         | Ceko               | Praha           |
| 5.         | Slovakia           | Bratislava      |
| 6.         | Rumania            | Bukares         |
| 7.         | Hongaria           | Budapest        |
| 8.         | Albania            | Tirana          |
| 9.         | Bulgaria           | Sofia           |
| 10.        | Bosnia Herzegovina | Sarajevo        |
| 11.        | Kroasia            | Zagreb          |
| 12.        | Slovenia           | Ljubljana       |
| 13.        | Makedonia          | Skopje          |
| 14.        | Serbia             | Belgrado        |
| 15.        | Montenegro         | Titograd        |

Pada bagian ini, kita akan membahas beberapa negara besar seperti Inggris, Perancis dan Jerman.

## a. Inggris

### 1) Keadaan Alam

Luas wilayah negara Inggris sekitar 244.110 km<sup>2</sup>. Wilayah Inggris tergabung dalam kerajaan Inggris Raya terdiri atas empat wilayah yaitu Inggris dengan ibu kota London, Wales dengan ibu kota Cardiff, Scotlandia dengan ibu kota Eidenberg, dan Irlandia Utara dengan ibu kota Belfast. Kota-kota penting lainnya di Inggris adalah Oxford, Cambridge, dan Greenwich.

Sungai yang terkenal di Inggris adalah Sungai Thames. Sungai Thames membelah kota London dan merupakan jalan masuk menuju Inggris sejak dahulu. Dataran tinggi yang terdapat di Inggris ada di Skotlandia dan Wales. Masih ingatkah kamu dengan Greenwich? Greenwich menjadi patokan pembagian wilayah waktu di dunia karena terletak pada garis meridian 0°. Di kota Greenwich terdapat gedung penyelidikan bintang tertua di dunia.



**Gambar 3.9** Bendera dan peta wilayah Inggris

Sumber: Encarta 2006

### Tahukah Kamu

Inggris mendapat julukan Negeri Putih atau Albion karena tanahnya terdiri atas tanah kapur.

### 2) Keadaan Penduduk

Inggris merupakan negara yang maju salah satunya dalam bidang Industri. Daerah perindustrian di Inggris disebut **Black Country**. Inggris pernah memiliki negara jajahan di setiap benua, sehingga banyak para imigran yang datang dari negara-negara bekas jajahannya seperti India, Pakistan, dan Hindia Barat. Mata pencaharian penduduk meliputi pertanian, peternakan, pertambangan, dan perdagangan.



### 3) Bentuk Pemerintahan

Ibu kota Inggris adalah London. Bentuk negara Inggris adalah kerajaan dengan kepala negara adalah Ratu dan kepala pemerintahan adalah Perdana Menteri. Bahasa kebangsaannya adalah Bahasa Inggris. Mata uang Inggris adalah Poundsterling (£). Lagu kebangsaan Inggris adalah *God Save The Queen*.



**Gambar 3.10** Big Ben merupakan ciri kota London

Sumber: Encarta 2002

## b. Perancis

### 1) Keadaan Alam

Luas wilayah Perancis sekitar 543.965 km<sup>2</sup>. Wilayah Perancis dibagi menjadi dataran tinggi dan dataran rendah. Pegunungan yang ada di Perancis antara lain: Pegunungan Pirenia, Pegunungan Alpen Barat, Pegunungan Visges, dan Pegunungan Jura. Perancis beriklim laut sedang. Sungai-sungai yang terdapat di Perancis adalah Sungai Seine, Sungai Garone dan Sungai Rhone.

Perancis termasuk salah satu negara industri maju di dunia. Kota Paris bahkan dikenal dengan nama kota mode. Di Perancis terdapat bangunan yang termasuk salah satu bangunan keajaiban dunia yaitu Menara Eiffel.



**Gambar 3.11** Bendera dan Peta wilayah Perancis

Sumber: Encarta 2006

## Tahukah Kamu

Tinggi Menara Eiffel di Paris, Perancis mencapai 341 meter

## 2) Keadaan Penduduk

Penduduk Perancis sebagian besar tinggal di daerah perkotaan. Perancis banyak didatangi para imigran yang berasal dari Spanyol, Italia, Aljazair, dan beberapa negara di Eropa dan Afrika lainnya. Jumlah penduduk Perancis pada tahun 2002 adalah 59.551.227 jiwa.

## 3) Bentuk Pemerintahan

Perancis merupakan negara terbesar di kawasan Eropa Barat. Ibu kota negara Perancis adalah Paris. Bentuk negara Perancis adalah republik. Kepala negaranya adalah seorang presiden sedangkan kepala pemerintahannya adalah perdana menteri. Mata uang Perancis adalah Franc dan bahasa resminya adalah Bahasa Perancis. Lagu kebangsaannya adalah La Marseillaise.



**Gambar 3.12** Sungai Rhone dan Menara Eiffel di Paris yang merupakan salah satu keajaiban dunia

Sumber: Encarta 2006

## c. Jerman

### 1) Keadaan Alam

Luas wilayah Jerman sekitar 356.970 km<sup>2</sup>. Negara Jerman mempunyai tiga daerah utama yaitu dataran rendah di sebelah utara, dataran tinggi di bagian tengah, dan suatu wilayah pegunungan bagian selatan. Sungai yang terdapat di Jerman antara lain adalah Sungai Rhine, Sungai Oder, Sungai Elbe, dan Sungai Danube.



**Gambar 3.13** Bendera Jerman


Sungai Rhine merupakan sungai penting di Jerman karena banyak pusat kegiatan Industri terletak sepanjang Sungai Rhine. Sungai ini digunakan untuk pengiriman dan sarana transportasi.

## 2) Keadaan Penduduk

Jerman merupakan negara yang memiliki banyak keunggulan dalam bidang ilmu pengetahuan dan teknologi. Hasil industri Jerman yang membanjiri pasaran perdagangan dunia adalah mobil, kapal, farmasi, dan barang-barang elektronik. Jumlah penduduk Jerman pada tahun 2001 adalah 83.029.536 jiwa. Jerman juga banyak didatangi imigran dari berbagai negara seperti Turki, dan dari negara Eropa sendiri yaitu Italia, Spanyol, dan Yunani.

## 3) Bentuk Pemerintahan

Ibu kota Jerman adalah Berlin. Bentuk pemerintahannya adalah republik. Kepala negaranya adalah presiden, sedangkan kepala pemerintahannya adalah kanselir. Bahasa resminya adalah Bahasa Jerman. Mata uangnya adalah Mark. Lagu kebangsaan Jerman adalah Deutschland-Lied.



**Gambar 3.14** Peta wilayah Jerman dan Berlin Ibu kota Jerman

Sumber: Encarta 2006

## Tahukah Kamu

Antara tahun 1945–1990, wilayah Jerman terbagi menjadi dua bagian yaitu Jerman Barat dan Jerman Timur. Tetapi pada tahun 1991 Jerman kembali bersatu di bawah satu pemerintahan. Penyatuan ini ditandai dengan pembongkaran Tembok Berlin yang memisahkan Jerman Barat dan Jerman Timur.

### 3. Benua Afrika

Sebelumnya kita telah mengenal negara-negara yang mendiami benua Asia dan Eropa. Sekarang kita akan mempelajari negara-negara yang ada di Benua Afrika. Perhatikanlah peta Benua Afrika di bawah ini!



**Gambar 3.15** Peta Benua Afrika  
Sumber: Atlas Dunia Buana Raya

Secara astronomis, Benua Afrika terletak antara  $37^{\circ}$  LU sampai  $35^{\circ}$  LS dan  $17^{\circ}$  BB sampai  $51^{\circ}$  BT. Secara geografis, Benua Afrika dapat dibagi menjadi tiga bagian yaitu bagian utara, tengah dan selatan.

- Afrika bagian utara terletak di daerah subtropis dan beriklim subtropis.
- Afrika bagian tengah terletak di daerah tropis dan beriklim tropis.
- Afrika bagian selatan terletak di daerah subtropis dan beriklim subtropis.

Penduduk yang ada di Benua Afrika dapat dikelompokkan menjadi empat bangsa, yaitu:

- Bangsa Negro merupakan penduduk asli Benua Afrika yang terdiri atas suku Negro Sudan, Negro Niger, Negro Bantu, dan Negro Pigmes.
- Bangsa Arab yaitu penduduk yang mendiami Aljazair, Maroko, Tunisia, Libya, dan Mesir.
- Bangsa Melayu yang mendiami daerah Malagasi (Madagaskar).
- Bangsa kulit putih yang berasal dari Inggris, Perancis, Belanda, Belgia dan Portugal.

Wilayah Benua Afrika terbagi menjadi lima kawasan yaitu Afrika Utara, Afrika Selatan, Afrika Barat, Afrika Timur, dan Afrika Tengah. Adapun negara-negara tersebut adalah:

### ***Kawasan Afrika Selatan***

| <b>No.</b> | <b>Negara</b>           | <b>Ibu Kota</b> |
|------------|-------------------------|-----------------|
| 1.         | Angola                  | Luanda          |
| 2.         | Nambia                  | Windhoek        |
| 3.         | Botswana                | Gaborone        |
| 4.         | Zambia                  | Lusaka          |
| 5.         | Zimbabwe                | Harare          |
| 6.         | Malawi                  | Lilongwe        |
| 7.         | Mozambik                | Maputo          |
| 8.         | Lesotho                 | Maseru          |
| 9.         | Republik Afrika Selatan | Pretoria        |
| 10.        | Swaziland               | Mbabane         |
| 11.        | Republik Madagaskar     | Antananarivo    |
| 12.        | Komoro                  | Moroni          |

### ***Kawasan Afrika Barat***

| <b>No.</b> | <b>Negara</b> | <b>Ibu Kota</b> |
|------------|---------------|-----------------|
| 1.         | Nigeria       | Abuja           |
| 2.         | Mauritania    | Nouakchott      |
| 3.         | Senegal       | Dakar           |
| 4.         | Gambia        | Banjul          |
| 5.         | Guinea Bissau | Bissau          |
| 6.         | Siera Leone   | Freetown        |
| 7.         | Liberia       | Monrovia        |
| 8.         | Pantai Gading | Abijan          |
| 9.         | Guinea        | Konakri         |
| 10.        | Ghana         | Accra           |
| 11.        | Burkina Faso  | Ouagadougou     |
| 12.        | Togo          | Lome            |
| 13.        | Niger         | Niamey          |
| 14.        | Mali          | Bamako          |
| 15.        | Benin         | Portonovo       |



### ***Kawasan Afrika Utara***

| <b>No.</b> | <b>Negara</b> | <b>Ibu Kota</b> |
|------------|---------------|-----------------|
| 1.         | Mesir         | Kairo           |
| 2.         | Libya         | Tripoli         |
| 3.         | Tunisia       | Tunis           |
| 4.         | Maroko        | Rabat           |
| 5.         | Aljazair      | AlJir           |
| 6.         | Sahara Barat  | El aainun       |

### ***Kawasan Afrika Tengah***

| <b>No.</b> | <b>Negara</b>       | <b>Ibu Kota</b> |
|------------|---------------------|-----------------|
| 1.         | Chad                | N'Djamena       |
| 2.         | Kamerun             | Yaounde         |
| 3.         | Afrika Tengah       | Bangui          |
| 4.         | Zaire               | Kinshasa        |
| 5.         | Guinea Equator      | Malabo          |
| 6.         | Kongo               | Brazzaville     |
| 7.         | Gabon               | Libreville      |
| 8.         | Sao Tome & Principe | Sao Tome        |

### ***Kawasan Afrika Timur***

| <b>No.</b> | <b>Negara</b> | <b>Ibu Kota</b> |
|------------|---------------|-----------------|
| 1.         | Ethiopia      | Addis Ababa     |
| 2.         | Somalia       | Mogadishu       |
| 3.         | Kenya         | Nairobi         |
| 4.         | Uganda        | Kampala         |
| 5.         | Rwanda        | Kigali          |
| 6.         | Tanzania      | Dodoma          |
| 7.         | Burundi       | Bujumbura       |
| 8.         | Djibouti      | Djibouti        |
| 9.         | Sudan         | Khourtoun       |

Untuk pembahasan kali ini kita hanya akan membahas tiga negara besar yang ada di benua Afrika yaitu Mesir, dan Nigeria.

### a. Mesir

#### 1) Keadaan Alam

Luas wilayah Mesir adalah sekitar 997.739 km<sup>2</sup>. Sebagian besar wilayahnya berupa gurun dan hanya sebagian kecil saja yang merupakan daerah subur. Wilayah Mesir terdiri atas Semenanjung Sinai di Benua Asia dan daratan Mesir di Benua Afrika.

Sebelah utara Mesir berbatasan dengan Laut Mediterania, dan sebelah timur Jalur Gaza, Israel dan Laut Merah. Sebelah selatan berbatasan dengan Sudan dan sebelah barat berbatasan dengan Libya. Sungai yang terkenal dari Mesir adalah Sungai Nil. Sungai Nil juga merupakan sungai terpanjang di dunia. Sungai Nil merupakan anugerah bagi Mesir karena tanpa Sungai Nil, Mesir merupakan gurun yang menghubungkan Gurun Sahara di sebelah barat dengan Gurun Sinai di sebelah timur.

Di Mesir terdapat banyak bangunan kuno yang juga termasuk dalam bangunan keajaiban dunia. Dapatkah kamu menyebutkannya? Bangunan tersebut adalah Piramida dan Sphinx. Piramida adalah kuburan raja-raja Mesir kuno, sedangkan Sphinx adalah patung singa yang berkepala manusia.

Di Mesir juga terdapat bendungan yang terkenal bernama Bendungan Aswan. Bendungan Aswan membendung Sungai Nil dan dipergunakan sebagai pembangkit listrik dan pengairan.



**Gambar 3.16** Bendera dan peta wilayah Mesir

Sumber: Encarta 2006



**Gambar 3.17** Terusan Suez menghubungkan Laut Merah–Laut Tengah

Sumber: Encarta 2002

## Tahukah Kamu

Terusan Suez dibangun oleh seorang Perancis bernama Ferdinand de Lesseps. Terusan Suez pertama kali dibuka pada tahun 1870. Dengan dibukanya Terusan Suez, maka pelayaran dari Eropa ke Asia ataupun sebaliknya tidak lagi melalui Afrika Selatan.

### 2) Keadaan Penduduk

Penduduk Mesir umumnya tinggal sekitar lembah Sungai Nil yang subur. Mata pencahariannya terutama dalam bidang pertanian. Hasil pertaniannya antara lain gandum, kapas, bawang, kentang, kacang tanah, Jagung, sayuran, dan buah-buahan. Selain pertanian, ada juga hasil pertambangan lainnya yaitu emas, fosfat, mangan, bijih besi, uranium, gas alam dan minyak bumi.

Sebagian besar penduduknya memeluk agama Islam, dan sebagian lagi beragama Kristen. Di Mesir ada perguruan tinggi Islam yang terkenal yaitu Al Azhar yang merupakan perguruan tinggi tertua di dunia. Letak Perguruan Tinggi Al Azhar yaitu di Kairo.

### 3) Bentuk Pemerintahan

Ibu kota Mesir adalah Kairo. Pada zaman dahulu bentuk negara Mesir adalah kerajaan tapi sejak tahun 1953, Mesir menjadi negara Republik. Kepala negaranya adalah seorang presiden. Bahasa resmi Mesir adalah Bahasa Arab dan mata uangnya adalah Pound.



**Gambar 3.18** Piramida Mesir dan Sphinx, patung singa berkepala manusia  
**Sumber:** National Geographic

## b. Nigeria

### 1) Keadaan Alam

Nigeria merupakan negara yang terletak di wilayah Afrika Barat, tepatnya berada di wilayah pantai Teluk Guinea. Secara astronomis, letak Nigeria berada pada wilayah khatulistiwa sehingga iklimnya adalah tropis. Luas wilayah Nigeria adalah sekitar 923.768 km<sup>2</sup>.

Sungai yang terdapat di Nigeria adalah Sungai Niger dan Sungai Benue. Delta Sungai Niger merupakan delta sungai terluas di Afrika yang mencakup area seluas 36.000 km<sup>2</sup>.

### 2) Keadaan Penduduk

Pada tahun 2001 jumlah penduduk Nigeria mencapai 126.635.626 jiwa. Suku bangsa asli yang mendiami Hausa, Fulani, Yoruba dan Igbo, selebihnya adalah para pendatang dari negara tetangga lainnya di Afrika. Sebagian besar penduduk Nigeria beragama Islam dan sebagian lagi beragama Kristen.

Mata pencaharian penduduk adalah dalam bidang pertanian dan pertambangan. Nigeria termasuk salah satu negara yang kaya akan sumber alam, salah satunya adalah penghasil minyak bumi. Oleh karena itu, banyak para pencari kerja dari negara tetangga seperti Chad, Kamerun, Benin, dan Niger yang datang ke Nigeria.



**Gambar 3.19** Bendera dan peta wilayah Nigeria

Sumber: Encarta 2006

## Tahukah Kamu

Karena merupakan negara penghasil minyak bumi maka Nigeria masuk dalam anggota Organisasi negara - negara penghasil minyak (OPEC).

### 3) Bentuk Pemerintahan

Ibu kota negara Nigeria adalah Abuja. Bentuk negaranya adalah republik. Kepala negara dan kepala pemerintahannya adalah presiden. Mata uang Nigeria adalah Naira. Bahasa resmi Nigeria adalah Bahasa Inggris.



**Gambar 3.20** Lagos kota terbesar di Nigeria

Sumber: Encarta 2002

## 4. Benua Amerika

Secara astronomis Benua Amerika berada pada  $35^{\circ}$  BB sampai  $17^{\circ}$  BB dan  $83^{\circ}$  LU sampai  $58^{\circ}$  LS. Luas Benua Amerika kurang lebih  $42.073.188 \text{ km}^2$ . Benua Amerika dapat dibagi menjadi empat kawasan yaitu kawasan Amerika Utara, Amerika Tengah, Amerika Selatan, dan Kepulauan Karibia. Untuk lebih jelasnya, perhatikanlah peta Benua Amerika di bawah ini!



**Gambar 3.21** Peta Benua Amerika

Sumber: Atlas Dunia Buana Raya



### ***Kawasan Amerika Tengah***

| <b>No.</b> | <b>Negara</b>      | <b>Ibu Kota</b> |
|------------|--------------------|-----------------|
| 1.         | Guatemala          | Guatemala City  |
| 2.         | El Salvador        | San Salvador    |
| 3.         | Honduras (Inggris) | Belize          |
| 4.         | Honduras           | Tegucigalpa     |
| 5.         | Nikaragua          | Managua         |
| 6.         | Costa Rika         | San Jose        |
| 7.         | Panama             | Panama City     |

### ***Kawasan Amerika Selatan***

| <b>No.</b> | <b>Negara</b>     | <b>Ibu Kota</b> |
|------------|-------------------|-----------------|
| 1.         | Colombia          | Bogota          |
| 2.         | Venezuela         | Caracas         |
| 3.         | Guyana            | Georgetown      |
| 4.         | Suriname          | Paramaribo      |
| 5.         | Guyana (Perancis) | Cayenne         |
| 6.         | Ecuador           | Quito           |
| 7.         | Peru              | Lima            |
| 8.         | Brasil            | Brasilia        |
| 9.         | Bolivia           | Lapaz           |
| 10.        | Paraguay          | Asuncion        |
| 11.        | Uruguay           | Montevideo      |
| 12.        | Argentina         | Buenos Aires    |
| 13.        | Chili             | Santiago        |

### ***Kawasan Amerika Utara***

| <b>No.</b> | <b>Negara</b>   | <b>Ibu Kota</b> |
|------------|-----------------|-----------------|
| 1.         | Kanada          | Ottawa          |
| 2.         | Amerika Serikat | Washington DC   |
| 3.         | Meksiko         | Meksiko City    |

## Kawasan Kepulauan Karibia

| No. | Negara      | Ibu Kota       |
|-----|-------------|----------------|
| 1.  | Kuba        | Havana         |
| 2.  | Haiti       | Port Au Prince |
| 3.  | Dominica    | Santo Domingo  |
| 4.  | Puerto Rico | San Juan       |
| 5.  | Jamaika     | Kingston       |

Pembahasan mengenai negara-negara yang ada di Benua Amerika akan dibatasi mengenai negara-negara besarnya saja yaitu Amerika Serikat dan Brasil.

### a. Amerika Serikat

#### 1) Keadaan Alam

Amerika Serikat terletak di kawasan Amerika Utara. Luas Amerika Serikat adalah sekitar 9.529.063 km<sup>2</sup>. Wilayah Amerika Serikat terdiri atas pegunungan di bagian timur dan barat serta dataran rendah yang luas di bagian tengah. Di bagian timur terdapat pegunungan Appalachia-Allegheny yang membentang ke arah timur hingga Samudra Pasifik. Di bagian barat terbentang Pegunungan Rocky. Dataran rendah yang luas terdapat di bagian tengah diapit oleh Pegunungan Rocky dan Pegunungan Appalachia-Allegheny. Dataran ini dialiri oleh Sungai Mississippi yang bermuara di Teluk Meksiko.

Kota-kota penting di Amerika Serikat antara lain: New York, Chicago, Los Angeles, San Francisco, Washington DC, dan Philadelphia.



**Gambar 3.22** Bendera dan peta wilayah Amerika Serikat

Sumber: Encarta 2002


## 2) Keadaan Penduduk

Penduduk Amerika terdiri atas orang kulit putih, orang Indian, dan orang Negro. Selain itu ada juga yang berasal dari luar negara dari seluruh dunia. Amerika Serikat dikenal dengan negara multirasial karena dihuni oleh semua ras dari seluruh dunia. Jumlah penduduk Amerika Serikat pada tahun 2002 mencapai 2.780.528.881 jiwa.

Mata pencaharian penduduk Amerika meliputi berbagai bidang yaitu pertanian, pertambangan, perdagangan, peternakan, dan industri. Dalam banyak hal, Amerika menempati peringkat pertama di dunia, misalnya dalam bidang teknologi, produksi pangan, dan ekonomi.

## 3) Bentuk Pemerintahan

Ibu kota negara Amerika Serikat adalah Washington DC. Bentuk negaranya adalah republik. Kepala negara dan kepala pemerintahannya adalah presiden. Istana kepresidenan Amerika Serikat disebut Gedung Putih (*White House*). Bahasa resminya adalah Bahasa Inggris. Mata uangnya adalah Dollar (US \$). Lagu kebangsaannya adalah *The Star Spangled Banner*.



**Gambar 3.23** Taman Nasional Grand Canyon di Arizona Amerika dan Jembatan George Washington antara New York dan New Jersey

Sumber: Encarta 2002

## b. Brasil

### 1) Keadaan Alam

Negara Brasil merupakan negara terluas di Amerika Selatan. Luas Brasil kurang lebih 8.511.965 km<sup>2</sup>. Dataran tinggi di Brasil merupakan dataran tinggi yang datar. Pantai timurnya berupa dataran rendah yang sempit dan mendapat hujan sepanjang tahun.



**Gambar 3.24** Bendera Brasil

Lebih dari sepertiga daratan Brasil dialiri oleh Sungai Amazon sehingga menjadikannya daerah yang subur. Keadaan tanah tersebut sangat menguntungkan karena bisa dimanfaatkan untuk pertanian. Hal tersebut menjadikan Brasil sebagai negara dengan mutu pertanian paling maju di dunia.

## Tahukah Kamu

Sungai Amazon adalah sungai terbesar di dunia.

### 2) Keadaan Penduduk

Penduduk Brasil terdiri atas orang kulit putih dan orang Negro. Bangsa kulit putihnya berasal dari negara-negara Eropa seperti Portugis, Spanyol, Belanda, Inggris, Perancis, Jerman, dan Italia. Orang Negro di Brasil banyak menempati pantai timur. Penduduk Brasil sebagian besar beragama Katolik.

Mata pencaharian penduduk terutama dalam pertanian dan perkebunan. Brasil merupakan negara penghasil kopi nomor satu di dunia.



**Gambar 3.25** Peta wilayah Brasil  
**Sumber:** Atlas Dunia Buana Raya



**Gambar 3.26** Air terjun Iguacu dan suasana kota Sao Paolo di Brasil  
**Sumber:** Encarta 2002

### 3) Bentuk pemerintahan

Ibu kota Brasil adalah Brasilia. Bentuk negara Brasil adalah Republik. Kepala negara dan kepala pemerintahan adalah seorang presiden. Bahasa resmi Brasil adalah Bahasa Portugis. Mata uang Brasil adalah Cruzeiro (Cz \$). Lagu kebangsaan Brasil adalah Hino Nacional Brasileiro.

## 5. Benua Australia

Perhatikanlah peta Benua Australia tersebut di atas! Apa saja yang bisa kamu simpulkan dari peta tersebut?

Tahukah kamu benua yang terkecil di dunia? Ya, benua tersebut adalah Benua Australia. Luas Benua Australia sekitar 7.686.848 km<sup>2</sup>. Secara astronomis, Benua Australia terletak pada 113° BT sampai 155° BT dan 10° LS sampai 43° LS.

Australia adalah satu-satunya negara di dunia yang berbentuk benua. Australia merupakan negara federal yang terdiri atas enam negara bagian dan dua wilayah teritorial. Negara-negara yang ada di Australia adalah sebagai berikut!



Gambar 3.27 Bendera dan peta wilayah Australia

Sumber: Encarta 2002

| No. | Negara Bagian dan Teritorial  | Ibu Kota  |
|-----|-------------------------------|-----------|
| 1.  | New South Wales               | Sydney    |
| 2.  | Victoria                      | Melbourne |
| 3.  | Queensland                    | Brisbane  |
| 4.  | Australia Selatan             | Adelaide  |
| 5.  | Australia Barat               | Perth     |
| 6.  | Tasmania                      | Hobarth   |
| 7.  | Teritorial Australia Utara    | Darwin    |
| 8.  | Teritorial Ibu Kota Australia | Canberra  |



### a. Keadaan Alam

Wilayah Australia terdiri atas pegunungan, gurun, dan dataran rendah. Pegunungan di Australia terdapat di sebelah timur yaitu Pegunungan Blue Mountain yang memanjang ke utara dan Pegunungan Alpen Australia yang memanjang ke selatan. Selain itu ada Pegunungan Hamersley di sebelah barat, sedangkan Pegunungan Mac Donnel dan Musgrave di sebelah utara.

Dataran tinggi terdapat di sebelah barat yang terdiri atas padang rumput dan gurun. Gurun yang terkenal dari Australia adalah Gurun Gibson, Gurun Besar Victoria, dan Gurun Pasir Besar.

Dataran rendah terletak di antara pegunungan sebelah timur dan barat. Di dataran rendah ini terdapat banyak sungai. Sungai-sungai tersebut antara lain: Sungai Dawson, Sungai Darling, Sungai Diamantina, dan Sungai Cooper. Sungai Diamantina bermuara di Danau Eyre.

### Tahukah Kamu

Danau Eyre adalah danau terendah di Australia, yaitu berada 13 meter di bawah permukaan laut.

### b. Keadaan Penduduk

Penduduk Australia terdiri atas bangsa asli dan bangsa Eropa. Suku asli Australia merupakan bangsa Negro Australia berkulit hitam yang bernama bangsa Aborigin. Penduduk asli Australia hanya sedikit, dan umumnya tinggal di daerah pedalaman. Senjata tradisional bangsa Aborigin yang terkenal adalah Bumerang. Sebagian besar penduduk Australia adalah para imigran yang datang dari Eropa yaitu Inggris.

Mata pencaharian penduduk Australia terdiri atas peternakan, pertanian, perdagangan, perindustrian, dan pertambangan. Hasil utama pertaniannya adalah gandum, kapas, dan tebu. Hasil peternakannya adalah keju, daging, mentega, dan wol. Hasil pertambangannya adalah emas. Australia merupakan negara penghasil wol nomor satu di dunia.



**Gambar 3.27** Gedung Opera yang terkenal di Sydney Australia

Sumber: Encarta 2002

### c. Bentuk Pemerintahan

Nama resmi Australia adalah Commonwealth of Australia. Ibu kota Australia adalah Canberra. Australia merupakan negara merdeka yang tergabung dalam negara persemakmuran Inggris. Kepala negaranya adalah Ratu Inggris, sedangkan kepala pemerintahannya adalah perdana menteri. Bahasa resmi Australia adalah Bahasa Inggris. Mata uangnya adalah Dollar Australia. Lagu kebangsaan Australia adalah *God Save The Queen*.

## Kreativitas dan Menyenangkan

- Bukalah peta dunia yang kamu miliki!
  - Buatlah peta Benua Australia berdasarkan skala yang kamu buat!
  - Warnailah peta tersebut semirip mungkin dengan sumber peta!
- Kumpulkan hasilnya kepada gurumu!

## Rangkuman

1. Secara astronomis Benua Asia terletak antara  $11^{\circ}$  LS sampai  $77^{\circ}$  LU dan  $26^{\circ}$  BT sampai  $169^{\circ}$  BB.
2. Mount Everest memiliki ketinggian mencapai 8.888 meter. *Mount Everest* merupakan gunung tertinggi di dunia.
3. Secara astronomis Benua Eropa ada pada  $34^{\circ}$  LU sampai  $71^{\circ}$  LS dan  $10^{\circ}$  BB sampai  $66^{\circ}$  BT.
4. Sungai Amazon di Brasil merupakan Sungai terbesar di dunia.
5. Terusan Suez di Mesir menghubungkan Laut Tengah dengan Laut Merah.
6. Yang termasuk dalam bangunan keajaiban dunia adalah Piramida dan Sphinx di Mesir, Menara Eiffel di Paris, Tembok raksasa di Cina, dan Taj Mahal di India.
7. Australia merupakan satu-satunya negara di dunia yang berbentuk benua.
8. Australia merupakan negara federal yang terdiri atas enam negara bagian dan dua wilayah teritorial.



## Latihan Soal Pelajaran 3

### I. Pilihlah jawaban yang benar!

1. Berikut ini merupakan nama-nama samudra yang ada di dunia, **kecuali** ....
  - a. Samudra Pasifik
  - b. Samudra Atlantik
  - c. Samudra Hindia
  - d. Samudra Mediterania
2. Negara yang terletak di kawasan Asia Tenggara adalah ....
  - a. India
  - b. Laos
  - c. Taiwan
  - d. Pakistan
3. Ibu kota negara Turki adalah ....
  - a. Riyadh
  - b. Colombo
  - c. Ankara
  - d. Amman
4. Bentuk pemerintahan negara Jepang adalah ....
  - a. Republik
  - b. Kesultanan
  - c. Dominion
  - d. Kerajaan
5. Bangunan kuno yang terkenal dari India adalah ....
  - a. Taj Mahal
  - b. Menara Pisa
  - c. Piramida
  - d. Petronas
6. Tembok raksasa merupakan salah satu keajaiban dunia yang berada di negara ....
  - a. India
  - b. Jepang
  - c. Taiwan
  - d. Cina

7. Sungai yang bermuara di Danau Eyre Australia adalah ....
  - a. Sungai Darling
  - b. Sungai Murry
  - c. Sungai Diamantina
  - d. Sungai Dawson
8. Penduduk Asli negara Australia adalah ....
  - a. Aborigin
  - b. Ainu
  - c. Negro
  - d. Mongol
9. Negara dengan jumlah penduduk terpadat di dunia adalah ....
  - a. Cina
  - b. India
  - c. Indonesia
  - d. Amerika
10. Bangunan yang merupakan keajaiban dunia di Mesir adalah ....
  - a. Piramida dan Taj Mahal
  - b. Sphinx dan Tembok Raksasa
  - c. Piramida dan Menara Eifel
  - d. Piramida dan Sphinx
11. Berikut ini merupakan negara-negara di kawasan Eropa Barat, **kecuali** ....
  - a. Inggris
  - b. Italia
  - c. Jerman
  - d. Belanda
12. Ibu kota negara Finlandia adalah ....
  - a. London
  - b. Amsterdam
  - c. Helsinki
  - d. Athena
13. Sungai yang terkenal dari Inggris adalah ....
  - a. Sungai Nil
  - b. Sungai Seine
  - c. Sungai Rhine
  - d. Sungai Thames

14. Berikut ini adalah negara-negara yang berada di kawasan Afrika Utara, **kecuali** ....
  - a. Mesir, Libya, Aljazair
  - b. Tunisia, Libya, Sahara Barat
  - c. Angola, Zambia, Nigeria
  - d. Libya, Maroko, Tunisia
15. Mata uang negara Mesir adalah ....
  - a. Pound
  - b. Dollar
  - c. Peso
  - d. Lira

## II. Isilah titik-titik di bawah ini dengan jawaban yang benar!

1. Mata uang Amerika Serikat adalah . . . .
2. Lagu kebangsaan Australia adalah . . . .
3. Sungai terbesar di dunia adalah Sungai . . . .
4. Sungai terpanjang di dunia adalah Sungai . . . .
5. Terusan Suez menghubungkan Laut . . . dan Laut . . . .
6. Chad, Kamerun, Zaire, dan Kongo merupakan negara di Benua Afrika yang berada di kawasan . . . .
7. Ibu kota negara Nigeria adalah . . . .
8. Lagu kebangsaan Jerman adalah . . . .
9. Naira adalah mata uang negara . . . .
10. Ibu kota negara Puerto Rico adalah . . . .
11. Taman Nasional yang terkenal di Arizona Amerika adalah . . . .
12. Lagu kebangsaan Amerika Serikat adalah . . . .
13. Senjata tradisional Bangsa Aborigin adalah . . . .
14. Canberra adalah Ibu kota . . . .
15. Bangunan di Paris yang merupakan keajaiban dunia adalah . . . .

## III. Jawablah pertanyaan berikut ini dengan singkat dan jelas!

1. Sebutkan beberapa benua yang kamu ketahui!
2. Sebutkan negara-negara yang mendiami kawasan Amerika Utara beserta ibu kotanya!



3. Sebutkan nama-nama Samudra yang ada di dunia!
4. Apa yang kamu ketahui tentang Sungai Nil?
5. Sebutkan tiga negara yang mendiami kawasan Eropa Selatan!
6. Sebutkan tiga suku bangsa yang merupakan penduduk benua Afrika!
7. Sebutkan negara-negara bagian yang ada di Benua Australia!
8. Sebutkan empat pulau besar yang terdapat di negara Jepang!
9. Sebutkan atiga negara di Kepulauan Karibia!
10. Apa yang kamu ketahui tentang Tembok Berlin?

## Latihan Ulangan Semester I

### I. Pilihlah jawaban yang benar!

1. Provinsi di wilayah Indonesia pada awal kemerdekaan adalah ....
  - a. Papua
  - b. Maluku Utara
  - c. Sumatra
  - d. DKI Jakarta
2. Jumlah provinsi di Indonesia pada awal kemerdekaan adalah ....
  - a. 5 provinsi
  - b. 6 provinsi
  - c. 7 provinsi
  - d. 8 provinsi
3. Perkembangan provinsi di Indonesia terjadi dengan pertimbangan berikut, **kecuali** ....
  - a. adanya pemberontakan
  - b. penambahan jumlah penduduk
  - c. kemampuan dalam peningkatan ekonomi
  - d. kemampuan bidang pertahanan dan keamanan
4. Gubernur DKI Jakarta yang sekarang adalah ....
  - a. Bapak Dada Rosada
  - b. Bapak Dani Setiawan
  - c. Bapak Sutiyoso
  - d. Bapak Fauzi Bowo
5. Provinsi Banten berdiri pada tahun ....
  - a. 1958
  - b. 1964
  - c. 1976
  - d. 2000
6. Ibu kota negara Laos adalah ....
  - a. Jakarta
  - b. Phnom Penh
  - c. Manila
  - d. Vientiane

7. Berikut ini negara-negara yang terletak di kawasan Indocina, **kecuali** ....
  - a. Kamboja
  - b. Vietnam
  - c. Laos
  - d. Myanmar
8. Ibu kota negara Turki adalah ....
  - a. Riyadh
  - b. Colombo
  - c. Ankara
  - d. Amman
9. Sungai yang terkenal dari Inggris adalah ....
  - a. Sungai Nil
  - b. Sungai Seine
  - c. Sungai Rhine
  - d. Sungai Thames
10. Berikut ini adalah negara-negara yang berada di kawasan Afrika Utara, **kecuali** ....
  - a. Mesir, Libya, Aljazair
  - b. Tunisia, Libya, Sahara Barat
  - c. Angola, Zambia, Nigeria
  - d. Libya, Maroko, Tunisia
11. Mata uang negara Mesir adalah ....
  - a. Pound
  - b. Dollar
  - c. Peso
  - d. Lira
12. Bangunan yang terkenal dari India adalah ....
  - a. Taj Mahal
  - b. Menara Pisa
  - c. Piramida
  - d. Petronas
13. Tembok raksasa merupakan salah satu keajaiban dunia yang berada di negara ....
  - a. India
  - b. Jepang
  - c. Taiwan
  - d. Cina

14. Sungai yang bermuara di Danau Eyre Australia adalah ....
  - a. Sungai Darling
  - b. Sungai Murry
  - c. Sungai Diamantina
  - d. Sungai Dawson
15. Negara dengan jumlah penduduk terpadat di dunia adalah ....
  - a. Cina
  - b. India
  - c. Indonesia
  - d. Amerika
16. Bangunan yang merupakan keajaiban dunia di Mesir adalah ....
  - a. Piramida dan Taj Mahal
  - b. Sphinx dan Tembok Raksasa
  - c. Piramida dan Menara Eifel
  - d. Piramida dan Sphinx
17. Berikut ini merupakan negara-negara di kawasan Eropa Barat, **kecuali** ....
  - a. Inggris
  - b. Italia
  - c. Jerman
  - d. Belanda
18. Ibu kota negara Amerika Serikat adalah di ....
  - a. Ottawa
  - b. Mexico City
  - c. Washington DC
  - d. Buenos Aires
19. Sungai terbesar di dunia adalah ....
  - a. Nil
  - b. Amazon
  - c. Thames
  - d. Rhine
20. Ibu kota Nigeria adalah ....
  - a. Niger
  - b. Abuja
  - c. Mogadishu
  - d. Luanda

## II. Isilah titik-titik di bawah ini dengan jawaban yang benar!

1. Provinsi Gorontalo berdiri pada tahun . . . .
2. Penduduk Asli negara Australia adalah . . . .
3. Pada tahun 1999 Irian dipecah menjadi tiga provinsi yaitu . . . , . . . , dan . . . .
4. Kota pelabuhan terbesar di Filipina adalah . . . .
5. Ibu kota Vietnam yaitu . . . .
6. Pleng Chard adalah lagu kebangsaan negara . . . .
7. Lagu kebangsaan Myanmar adalah . . . .
8. Terusan Suez menghubungkan . . . dengan . . . .
9. Gunung tertinggi di dunia adalah . . . .
10. Negara penghasil padi terbesar dan merupakan lumbung padi di Asia adalah . . . .

## III. Jawablah pertanyaan berikut ini dengan singkat dan jelas!

1. Jelaskan beberapa hal yang memengaruhi perkembangan wilayah Indonesia!
2. Sebutkan hasil utama dari Brunei Darussalam!
3. Mengapa letak negara Singapura sangat strategis?
4. Apa yang kamu ketahui tentang Sungai Nil?
5. Sebutkan bangunan-bangunan yang merupakan keajaiban dunia!



## Pelajaran

# 4

# Gejala Alam di Indonesia dan Negara Tetangga



*Tsunami Aceh*

Sumber: [www.wikipedia.org](http://www.wikipedia.org)

Banyak gejala alam yang menguntungkan dan merugikan manusia. Kamu harus mengetahuinya. Kamu harus bisa memanfaatkan peluang dan menghindari risiko. Untuk itu, kamu harus tahu apa yang harus kamu lakukan jika menjumpai gejala alam tertentu.

# Peta Konsep



Tahukah kamu apa yang dimaksud dengan gejala alam? Gejala alam atau tanda-tanda alam adalah peristiwa yang ditimbulkan oleh alam. Gejala alam seringkali memakan korban tak hanya harta benda tapi juga nyawa manusia.

Gejala alam erat kaitannya dengan kenampakan alam yang ada di muka bumi. Secara umum, kenampakan muka bumi Indonesia hampir sama dengan negara-negara tetangganya yang tergabung dalam ASEAN. Dengan demikian gejala alamnya pun hampir sama.

Secara geologis, hampir seluruh kawasan Asia tenggara dilalui oleh jalur pegunungan lipatan muda jalur mediterania yang labil. Pegunungan yang sudah tua terdapat di Thailand, Semenanjung Malaysia, dan Kalimantan bagian selatan. Pertemuan kedua jalur lempengan pegunungan tersebut menyebabkan daerah yang dilaluinya rawan gempa dan letusan gunung berapi.



**Gambar 4.1** Kehancuran gedung yang ditimbulkan oleh gempa  
Sumber: [www.wikipedia-com](http://www.wikipedia-com)

## A. Bentuk Alam

Sebelumnya kita telah mengetahui bahwa negara-negara di kawasan Asia Tenggara ini dilalui oleh rangkaian jalur pegunungan Mediterania yang labil. Negara Filipina terletak pada jalur pegunungan lipatan Sabuk Pasifik dan juga ada pertemuan lempeng-lempeng. Hal ini menyebabkan wilayah Filipina termasuk wilayah yang labil sehingga sering terjadi gempa bumi baik gempa tektonik maupun gempa vulkanik. Gunung yang masih aktif di Filipina adalah Gunung Apo yang tingginya sekitar 1.954 meter. Indonesia juga memiliki beberapa gunung api yang masih aktif, salah satunya adalah Gunung Merapi. Dengan demikian, gejala alam yang terjadi di Indonesia sama dengan yang terjadi di Filipina.

Masih ingatkah kamu mengenai gunung-gunung yang ada di Indonesia? Gunung yang terdapat di Indonesia banyak ragamnya ada yang masih aktif dan ada yang sudah tidak aktif lagi. Gunung yang masih aktif merupakan gunung berapi yang sewaktu-waktu bisa meletus dan memuntahkan seluruh material yang dikandungnya. Beberapa gunung yang masih aktif antara lain Gunung Merapi (Indonesia), dan Gunung Apo di Filipina.

Hampir semua wilayah negara tetangga memiliki gunung dan pegunungan. Berikut ini adalah tabel nama-nama gunung yang ada di Indonesia dan beberapa negara tetangga!

| No. | Negara       | Nama Gunung/Dataran Tinggi           |
|-----|--------------|--------------------------------------|
| 1.  | Indonesia    | Merapi, Mahameru, Puncak Jaya, Bromo |
| 2.  | Malaysia     | Kinabalu                             |
| 3.  | Filipina     | Apo, Mayon, Pinatubo                 |
| 4.  | Thailand     | Doi Inthanon                         |
| 5.  | Myanmar      | Arakan Yoma                          |
| 6.  | Laos         | Truong Son (Dataran tinggi Annam)    |
| 7.  | Vietnam      | Fan Si Pan                           |
| 8.  | Kamboja      | Chuor Phnum Krâvanh                  |
| 9.  | Australia    | Pegunungan Alpen Australia, Musgrave |
| 10. | Papua Nugini | Wilhelm                              |

Adanya gunung-gunung berapi di wilayah tertentu berpotensi terjadinya peristiwa gunung meletus. Keadaan tersebut akan terjadi sewaktu-waktu tanpa diduga.



**Gambar 4.2** Letusan Gunung Api yang mengeluarkan lava pijar

Sumber: *Encarta Encyclopedia Deluxe 2002*



Selain gunung-gunung yang tersebar di hampir seluruh wilayah Indonesia dan negara tetangga lainnya, ada juga sungai-sungai dan danau yang dimiliki wilayah tersebut, yaitu:

| No. | Negara            | Sungai                      | Danau                            |
|-----|-------------------|-----------------------------|----------------------------------|
| 1.  | Indonesia         | Barito, Kapuas              | Toba, Singkarak, Maninjau        |
| 2.  | Malaysia          | Rajang, Kinabatangan, Baram | Temegor, Kenyir                  |
| 3.  | Filipina          | Cagayan, Pampanga           | Taal                             |
| 4.  | Thailand          | Chao Phraya                 | Songkhla                         |
| 5.  | Myanmar           | Irrawaddy, Sittang          |                                  |
| 6.  | Laos              | Mekong                      | Nam Ngum (danau buatan)          |
| 7.  | Vietnam           | Mekong, Merah               |                                  |
| 8.  | Kamboja           | Mekong                      | Tônle Sap                        |
| 9.  | Brunei Darussalam | Belaït                      |                                  |
| 10. | Australia         | Darling, Murray, Swan       | Eyre                             |
| 11. | Papua Nugini      |                             | Fly, Sepik, Ramu, Purari, Kikori |

## B. Iklim

Perhatikan kembali peta kawasan Asia Tenggara! Di situ terlihat bahwa seluruh wilayah negara yang ada di kawasan Asia Tenggara berada pada daerah yang beriklim tropis. Daerah yang beriklim tropis ditandai dengan adanya dua musim yaitu musim kemarau dan musim hujan. Pada umumnya musim hujan di negara - negara Asia Tenggara mempunyai curah hujan yang tinggi. Hal ini mengakibatkan sering terjadi banjir dan jika keadaan lingkungan yang rusak akibat penebangan liar dan ketahanan tanah yang rendah, maka terjadi pula longsor.

Iklim yang ada di negara-negara tetangga dapat dilihat pada tabel berikut!

| No. | Negara    | Iklim        |
|-----|-----------|--------------|
| 1.  | Indonesia | Tropis       |
| 2.  | Malaysia  | Tropis       |
| 3.  | Thailand  | Musim Tropis |
| 4.  | Filipina  | Tropis       |



| No. | Negara            | Iklm         |
|-----|-------------------|--------------|
| 5.  | Singapura         | Tropis       |
| 6.  | Brunei Darussalam | Tropis       |
| 7.  | Laos              | Tropis       |
| 8.  | Myanmar           | Tropis       |
| 9.  | Kamboja           | Tropis       |
| 10. | Vietnam           | Tropis       |
| 11. | Australia         | Musim Tropis |



**Gambar 4.3** Banjir yang terjadi dipengaruhi curah hujan dan kerusakan lingkungan

Sumber: TEMPO 18-02-07

## C. Flora dan Fauna

Selain bentuk alam dan keadaan iklim di seluruh kawasan Asia Tenggara yang hampir sama, jenis flora dan fauna yang ada pun hampir sama. Menurut wilayah biologisnya, wilayah Asia Tenggara dibagi menjadi tiga, yaitu:

### 1. Zona tumbuh-tumbuhan dan hewan Asia.

Zona ini meliputi Sumatra, Kalimantan, Jawa, sebelah barat Kepulauan Filipina, hingga ke selatan ke Selat Makassar dan Selat Lombok dengan dibatasi Garis Wallace. Hewan yang ada di kawasan ini antara lain: Gajah, harimau, kera, kerbau, babi hutan, beruang, badak, burung merak dan orang utan.

## 2. Zona tumbuh-tumbuhan dan hewan Australia.

Zona ini meliputi Irian dan Australia dengan dibatasi Garis Weber. Hewan yang ada di kawasan ini antara lain: burung cendrawasih, burung kakatua, kuskus, dan kangguru.

## 3. Zona transisi (Zona peralihan).

Zona ini meliputi Kepulauan Filipina, Sulawesi, Maluku, Nusa Tenggara Barat, Nusa Tenggara Timur, dan Timor Leste. Hewan yang ada di kawasan ini antara lain: anoa, kuda, babirusa, tapir, kasuari, dan komodo.

### Tahukah Kamu

Garis Wallace dan Garis Weber dibuat oleh ahli flora dan fauna bernama Alfred Weber dan Wallace. Garis Weber adalah garis yang digambar oleh Weber untuk menunjukkan batas habitat fauna tipe Australia dengan daerah fauna tipe peralihan. Garis Wallace adalah garis yang digambar oleh Wallace untuk menunjukkan batas habitat fauna tipe Asiatis dengan hewan tipe peralihan.

Di bawah ini adalah peta yang menunjukkan pembagian wilayah Indonesia yang dibatasi Garis Weber dan Garis Wallace!



**Gambar 4.4** Pembagian wilayah Indonesia yang dibatasi Garis Weber dan Garis Wallace!

Sumber: Encarta Encyclopedia Deluxe 2002

Tabel jenis fauna yang mendiami Indonesia dan negara tetangga!

| No. | Negara            | Nama Gunung / Dataran Tinggi   |
|-----|-------------------|--|
| 1.  | Indonesia         | Gajah, harimau, kera, kerbau, sapi, babi hutan, badak, kuda, anoa, burung cendrawasih, burung kakatua, merak, tapir, kasuari, komodo |
| 2.  | Malaysia          | Harimau, tapir, rusa, badak, orang utan, monyet siamang  |
| 3.  | Singapura         | Kancil, landak, rubah, kadal   |
| 4.  | Brunei Darussalam | Harimau, singa, monyet   |
| 5.  | Thailand          | Gajah, harimau, macan tutul, monyet siamang, badak, buaya, lembu   |
| 6.  | Filipina          | Kerbau, rusa, babi, burung beo   |
| 7.  | Australia         | Kangguru, koala, tasmanian devil   |
| 8.  | Papua Nugini      | Kangguru, trenggiling, burung cendrawasih  |

## Menjaga Lingkungan

Buatlah tabel yang menunjukkan keberadaan hewan yang menghuni setiap zona di Indonesia dan negara tetangga lainnya!

Kumpulkan hasilnya kepada gurumu!

| Zona Asia | Zona Australia | Zona Transisi |
|-----------|----------------|---------------|
| Gajah     | Kangguru       | Anoa          |
| Harimau   | ....           | ....          |
| ....      | ....           | ....          |

## Rangkuman

1. Gejala alam atau tanda-tanda alam adalah peristiwa yang ditimbulkan oleh alam.
2. Pada umumnya wilayah Indonesia dan negara tetangga lainnya beriklim tropis.
3. Selain iklim yang sama, keadaan alam di wilayah Indonesia dan sekitarnya hampir sama yaitu memiliki gunung-gunung, sungai, dan danau.
4. Garis Weber adalah garis yang digambar oleh Weber untuk menunjukkan batas habitat fauna tipe Australia dengan daerah fauna tipe peralihan.
5. Garis Wallace adalah garis yang digambar oleh Wallace untuk menunjukkan batas habitat fauna tipe Asiatis dengan hewan tipe peralihan.



## Latihan Soal Pelajaran 4

### I. Pilihlah jawaban yang benar!

1. Peristiwa yang ditimbulkan oleh alam disebut ....
  - a. gejala bumi
  - b. gejala alam
  - c. gejala gempa
  - d. gejala kerak bumi
2. Gunung yang terdapat di Filipina adalah ....
  - a. Gunung Apo
  - b. Gunung Kinabalu
  - c. Gunung Merapi
  - d. Gunung Maoke
3. Thailand memiliki iklim ....
  - a. tropis
  - b. hangat
  - c. musim tropis
  - d. dingin
4. Danau yang terdapat di Australia adalah ....
  - a. Danau Toba
  - b. Danau Tempe
  - c. Danau Maninjau
  - d. Danau Eyre

5. Garis yang digambar Wallace untuk menunjukkan batas habitat fauna tipe Asiatis dengan tipe Peralihan adalah ....
  - a. Garis Wallace
  - b. Garis Weber
  - c. Garis Transisi
  - d. Garis Teritorial
6. Wilayah yang termasuk zona fauna Asia adalah sebagai berikut, **kecuali** ....
  - a. Sumatra
  - b. Jawa
  - c. Kalimantan
  - d. Maluku
7. Fauna yang termasuk zona Australia adalah ....
  - a. Irian
  - b. Nusa Tenggara Timur
  - c. Kepulauan Filipina
  - d. Sumatra
8. Burung Cendrawasih dan Kangguru termasuk fauna di wilayah ....
  - a. Zona Asia
  - b. Zona Peralihan
  - c. Zona Australia
  - d. Zona Afrika
9. Peristiwa alam yang terjadi di Indonesia antara lain berikut ini, **kecuali** ....
  - a. gempa bumi
  - b. banjir
  - c. gunung meletus
  - d. erosi
10. Fauna yang termasuk zona transisi mendiami pulau ....
  - a. Sumatra
  - b. Australia
  - c. Irian
  - d. Sulawesi

## II. Isilah titik-titik di bawah ini dengan jawaban yang benar!

1. Garis yang menunjukkan batas habitat fauna Australia dengan fauna tipe peralihan adalah . . . .
2. Zona fauna Australia meliputi daerah . . . dan . . . .
3. Sumatra, Jawa, Kalimantan, sebelah barat Kepulauan Filipina merupakan zona yang didiami oleh fauna tipe . . . .
4. Peristiwa yang ditimbulkan oleh alam disebut . . . .
5. Pembagian wilayah fauna yang dibatasi Garis Weber dan Garis Wallace dibuat oleh . . . .

## III. Jawablah pertanyaan berikut ini dengan singkat dan jelas!

1. Sebutkan jenis-jenis hewan yang mendiami zona Asia!
2. Sebutkan jenis-jenis hewan yang mendiami zona Australia!
3. Sebutkan jenis-jenis hewan yang mendiami zona transisi!
4. Apa saja gejala alam yang terjadi di Indonesia dan negara tetangga?
5. Sebutkan nama-nama sungai yang terdapat di Malaysia!



## Pelajaran

# 5

# Bencana Alam dan Cara Menanganinya



*Gempa Bumi Bantul*

Sumber: [www.wikipedia.org](http://www.wikipedia.org)

Negara kita sering ditimpa bencana alam. Ada gempa bumi, kebakaran, banjir, tanah longsor, dan angin puting beliung. Kamu dan keluargamu harus waspada. Harus juga bisa menyelamatkan diri. Untuk itu, kenallah berbagai bencana tersebut. Agar kamu dapat menghindarinya. Simaklah dengan saksama uraian berikut ini.

# Peta Konsep



Pernahkah kamu mengalami banjir? Bagaimana kamu menghadapinya? Di antara kamu mungkin ada yang tinggal di sekitar sungai yang rawan banjir. Atau mungkin tidak tinggal di sekitar sungai tapi tetap mengalami banjir. Tahukah kamu penyebabnya? Untuk menjawab pertanyaan tersebut, kita akan mengenal dahulu apa saja yang termasuk bencana alam.

Bencana alam tidak hanya berupa banjir. Ada juga gempa, gunung meletus, tsunami, angin ribut (angin topan) dan lain-lain. Kamu tentu tidak menginginkan bencana alam itu terjadi bukan? Akan tetapi negara kita terletak pada jalur lipatan muda mediterania yang labil, maka bencana alam tersebut tidak bisa dihindari. Bencana alam mengakibatkan hilangnya harta benda, tempat tinggal, barang berharga, bahkan nyawa. Kamu harus mampu menangani bencana alam tersebut, untuk itu simaklah pelajaran ini dengan baik.

## A. Banjir

Banjir hanyalah salah satu dari sekian banyak bencana alam yang sering terjadi. Banjir itu sendiri berarti meluapnya air sungai ke daerah-daerah yang dilalui aliran sungai. Keadaan ini tercipta karena daya tampung air sungai tidak mencukupi dengan volume air yang ada. Seperti kita ketahui bahwa salah satu sifat air adalah mencari tempat yang rendah, maka aliran sungai yang banjir akan menggenangi daerah yang dilaluinya. Banjir lebih disebabkan karena ulah manusia itu sendiri yang tidak menjaga lingkungannya.

Banjir sering terjadi terutama pada musim hujan dengan intensitas yang sering dan lebat. Daerah yang menjadi langganan banjir terutama pada daerah sekitar arus sungai. Namun daerah yang jauh dari sungai pun kadang terkena musibah banjir juga jika curah hujan yang datang terus menerus dan sungai tidak lagi sanggup menampung banyaknya air hujan.

Bencana banjir yang datang tentu tidak kita harapkan, namun saat musibah banjir menimpa kita, tentu kita tidak bisa hanya berdiam diri saja dan pasrah menghadapinya. Ada banyak cara untuk menghadapi banjir tersebut, Di antaranya yaitu:

- Selamatkan barang-barang berharga
- Selamatkan orang-orang yang kita sayangi setelah itu jika memungkinkan tolong juga orang-orang di sekitar tempat tinggal kita



**Gambar 5.1** Suasana saat banjir terjadi dilihat dari atas udara

Sumber: ENCARTA2006

- Pindahkan barang-barang penting seperti barang elektronik, tempat tidur, dan alat rumah tangga ke tempat yang lebih tinggi, misalnya lantai dua rumah atau loteng.
- Jika kita tidak memiliki loteng maka bawalah pergi barang-barang penting seperti selimut, uang, perhiasan, dan bahan makanan sebisanya.

## Mencegah Banjir

Ada ungkapan lebih baik mencegah daripada mengobati. Itu merupakan ungkapan yang bijaksana mengingat upaya pencegahan lebih mudah dilakukan daripada mengobati itu sendiri. Hal ini pun bisa kita terapkan dalam hal pencegahan banjir. Ada beberapa upaya untuk mencegah terjadinya banjir, yaitu:

- Membuang sampah pada tempatnya
- Membersihkan saluran air di sekitar rumah kita
- Mengadakan kerja bakti untuk membersihkan seluruh saluran air di desa kita
- Mengadakan bakti sosial untuk membersihkan sungai-sungai
- Menanam pohon-pohon untuk membantu menyerap air hujan
- Menyediakan lahan berupa tanah untuk penyerapan air di kala hujan, dengan kata lain tidak menembok seluruh lahan di sekitar rumah, sebagian lagi dibiarkan berupa tanah.
- Membuat sumur-sumur resapan untuk menampung air hujan.

### Mengasah Imajinasi

- Buatlah karangan singkat mengenai pengalamanmu saat banjir atau saat kamu menyaksikan banjir!
- Bacakan karanganmu di depan kelas!

## B. Gempa Bumi

Gempa bumi merupakan bencana alam yang terjadi karena proses alam dan bukan disebabkan karena tangan manusia. Berdasarkan penyebabnya gempa bumi dapat dibedakan menjadi dua yaitu gempa tektonik dan gempa vulkanik.



## 1. Gempa tektonik

Gempa tektonik terjadi karena adanya pergeseran di dalam lapisan kulit bumi. Gempa ini bisa berskala kecil maupun besar. Gempa yang berskala kecil umumnya hanya berupa getaran-getaran kecil pada daerah sekitar pusat gempa. Sedangkan gempa yang berskala besar berupa getaran atau guncangan besar disertai retaknya atau runtuhnya bangunan di sekitar pusat gempa. Gempa tektonik tidak bisa kita antisipasi terlebih dahulu karena datangnya tiba-tiba, dan tidak ada tanda-tanda khusus sebelum terjadinya. Jika gempa tektonik datang apalagi gempanya berskala besar maka kemungkinan untuk menyelamatkan barang-barang sangat kecil.

## 2. Gempa vulkanik (gunung berapi)

Gempa vulkanik adalah gempa bumi akibat letusan gunung berapi. Gempa vulkanik terjadi berdekatan dengan gunung berapi dan mempunyai bentuk keretakan memanjang yang sama dengan gempa bumi tektonik. Gempa bumi gunung berapi disebabkan oleh pergerakan magma ke atas dalam gunung berapi, di mana geseran pada batu-batuan menghasilkan gempa bumi.

Gempa bumi diukur dengan menggunakan alat yang dinamakan Pengukur Richter. Gempa bumi dibagi ke dalam skala dari satu (1) hingga sembilan (9) berdasarkan ukurannya (skala Richter).



**Gambar 5.2** Dampak yang ditimbulkan oleh gempa berupa kehancuran rumah-rumah penduduk.

Sumber: [id.wikipedia.org](http://id.wikipedia.org)

## Menghadapi Gempa Bumi

Bencana gempa bumi memang tidak bisa ditentukan kapan terjadinya, tapi kita bisa melakukan sesuatu jika gempa bumi itu datang menimpa. Ada beberapa cara untuk menghadapinya yaitu:

### 1. Jika kita di dalam ruangan

- Jauhi barang-barang yang mudah jatuh, seperti lemari dan lampu gantung
- Matikan api kompor jika sedang memasak, serta matikan juga peralatan elektronik lainnya untuk mencegah terjadinya kebakaran.
- Hindari pula barang yang mudah pecah, seperti kaca dan jendela.
- Berlindunglah di bawah meja atau tempat lain yang terlindung dari kemungkinan runtuhnya barang-barang.



- Lindungi kepala dari kemungkinan tertimpa benda-benda yang tidak kita inginkan

## **2. Jika kita di luar ruangan**

- Jauhi pohon-pohon yang tinggi, dan tiang listrik.
- Carilah daerah yang terbuka seperti lapangan atau tempat lain yang jauh dari pepohonan dan gedung tinggi.
- Lindungi kepala dari kemungkinan tertimpa benda-benda yang tidak kita inginkan

## **3. Jika kita sedang dalam kendaraan**

- Segera hentikan kendaraan di tempat yang terbuka.
- Jauhi pepohonan, tiang listrik, papan reklame dan gedung-gedung tinggi.
- Jangan berhenti di bawah jembatan, baik jembatan layang maupun jembatan penyebrangan.
- Lindungi kepala dari kemungkinan tertimpa benda-benda yang tidak kita inginkan.

## **4. Persiapan untuk keadaan darurat**

- Menyediakan air minum untuk keperluan darurat. Bekas botol air mineral dapat digunakan untuk menyimpan air minum. Kebutuhan air minum biasanya 2 sampai 3 liter sehari untuk satu orang .
- Menyiapkan tas ransel yang berisi (atau dapat diisi) barang-barang yang sangat dibutuhkan di tempat pengungsian. Barang-barang yang sangat diperlukan dalam keadaan darurat misalnya:
  - Lampu senter berikut baterai cadangannya
  - Air minum
  - Kotak P3K berisi obat penghilang rasa sakit, plester, pembalut dan sebagainya
  - Makanan yang tahan lama seperti biskuit
  - Sejumlah uang tunai
  - Buku tabungan
  - Korek api
  - Lilin
  - Helm
  - Pakaian dalam
  - Barang-barang berharga yang harus dibawa di saat keadaan darurat

Hal yang terpenting dari semua itu lebih kepada pribadi kita sendiri yaitu jangan panik menghadapi musibah gempa ini. Tetap tenang dan jangan terburu-buru, lakukanlah dengan penuh perhitungan. Jika perlu mengungsi, mengungsilah ke tempat yang sudah ditentukan dan jangan mendekati daerah yang lebih rendah seperti laut, untuk menghindari terjadinya tsunami.

## C. Gunung Meletus

Bagi penduduk yang tinggal di sekitar gunung, terutama gunung berapi, kemungkinan terjadinya gunung meletus selalu ada. Pada umumnya gunung yang akan meletus tidak langsung memuntahkan material yang dikandungnya. Gunung yang akan meletus mempunyai tanda tertentu. Tanda-tanda tersebut antara lain:

1. Terjadinya gempa yang berulang-ulang
2. Banyak binatang yang meninggalkan hutan di sekitar gunung
3. Udara di sekitar gunung menjadi sangat panas
4. Gunung mengeluarkan debu dan asap secara terus menerus
5. Gunung mengeluarkan lelehan-lelehan lava pijar maupun lahar dingin
6. Tercium bau belerang yang sangat menyengat

Jika kamu sudah mengetahui bahwa gunung di daerahmu akan meletus maka sebaiknya kamu mengungsi sesuai dengan arahan pemerintah.



**Gambar 5.3** Gunung api yang meletus sedang mengeluarkan lava pijar  
**Sumber:** Encarta Encyclopedia 2002

## D. Tsunami

Pernahkah kamu menyaksikan dampak tsunami di Aceh tahun 2004 yang lalu? Menyedihkan sekali bukan? Banyak anak yang terpisah dari kedua orang tuanya, atau orang tua yang kehilangan anak dan keluarga lainnya. Tak ada lagi tempat tinggal, harta benda melayang, bahkan ribuan nyawa jadi korban.

Gelombang tsunami adalah sebuah ombak yang terjadi setelah adanya gempa di bawah permukaan laut atau suatu longsor di bawah permukaan laut. Hal ini mengakibatkan terjadinya gelombang air laut yang besar dengan ketinggian mencapai 30 meter bahkan lebih di tengah laut.



**Gambar 5.4** Gelombang tsunami.  
**Sumber:** Encarta Encyclopedia 2002

## Menghadapi Tsunami

Hal-hal yang bisa dilakukan jika tsunami terjadi adalah sebagai berikut:

- Jika kita sedang berada di pinggir laut atau dekat sungai, segera berlari sekuat-kuatnya ke tempat yang lebih tinggi. Jika memungkinkan, berlailah menuju bukit yang terdekat.
- Jika situasi memungkinkan, pergilah ke tempat evakuasi yang sudah ditentukan.
- Jika situasi tidak memungkinkan untuk pergi ke tempat evakuasi, carilah bangunan bertingkat yang bertulang, gunakan tangga darurat untuk sampai ke lantai yang paling atas (sedikitnya sampai ke lantai 3).
- Jika situasi memungkinkan, pakai jaket hujan dan pastikan tangan bebas dan tidak membawa apa-apa.

## E. Tanah Longsor

Tanah longsor adalah suatu peristiwa geologi di mana terjadi pergerakan tanah seperti jatuhnya bebatuan atau gumpalan besar tanah. Penyebab utama terjadinya longsor adalah hujan lebat pada daerah yang mempunyai lereng curam. Daerah yang tinggi dengan lereng curam serta tidak adanya pepohonan akibat penebangan kayu liar mengakibatkan terjadinya longsor yang menghantam daerah di bawahnya.

Peristiwa longsor ini sering tidak disadari oleh masyarakat yang tinggal di daerah perbukitan atau pegunungan yang gundul atau kurang memiliki ketahanan tanah yang kuat. Longsor juga banyak disebabkan karena ulah tangan manusia yang tidak bisa menjaga lingkungan. Longsor juga mengakibatkan banyak korban jiwa yang tidak sedikit.

Hal – hal yang perlu diketahui atau dilakukan untuk mencegah terjadinya longsor adalah:

- Jangan menebang pepohonan tanpa diiringi penanaman kembali
- Lakukan penanaman atau penghijauan lahan pada daerah yang gundul
- Memahami pentingnya keberadaan pohon – pohon sebagai penahan air hujan
- Belajar mencintai dan menjaga lingkungan sekitar agar tetap segar dan asri

Berikut ini adalah tabel beberapa peristiwa bencana alam yang terjadi di Indonesia selama tiga tahun terakhir:

| No. | Bencana Alam        | Lokasi  | Bulan  | Tahun  |
|-----|---------------------|---|--|--|
| 1.  | Gempa bumi          | Padang<br>Yogyakarta<br>Maluku<br>Menado dan Ternate<br>Taliwang NTB  | Maret<br>Mei<br>Februari<br>Februari<br>April  | 2007<br>2006<br>2007<br>2007<br>2007   |
| 2.  | Tsunami             | Aceh<br>Pantai Selatan Jawa   | Desember<br>Juli   | 2004<br>2006   |
| 3.  | Banjir              | Jakarta<br>Kalimantan Selatan<br>Gorontalo<br>Subang<br>Solo<br>Jambi<br>Palembang<br>Jombang<br>Jember dan Banjarnegara<br>Bandung | Maret<br>Februari<br>Februari<br>Februari<br>Februari<br>Januari<br>Januari<br>Januari<br>Januari<br>April | 2007<br>2007<br>2007<br>2007<br>2007<br>2007<br>2007<br>2006<br>2006<br>2007 |
| 4.  | Tanah Longsor       | Madiun<br>Manggarai NTT   | Maret<br>Maret   | 2007<br>2007   |
| 5.  | Lahar dingin Merapi | Yogyakarta dan Jawa Tengah  | September  | 2006   |
| 6.  | Banjir lumpur       | Sidoarjo Jawa Timur   | Juni   | 2006   |

## Kreativitas dan Menyenangkan

- Buatlah kliping mengenai berbagai bencana alam yang terjadi di Indonesia!
- Siapkan kertas hvs, gunting, penggaris dan lem.
- Buatlah kliping tersebut semenarik mungkin dengan menambahkan spidol atau pensil warna untuk bingkainya.

Kumpulkan hasilnya kepada gurumu!

## Rangkuman

1. Berbagai jenis bencana alam sering terjadi di Indonesia karena faktor alam maupun oleh tangan manusia sendiri.
2. Banjir, gempa bumi, tanah longsor, tsunami, dan gunung meletus adalah berbagai jenis bencana alam yang pernah terjadi di Indonesia.
3. Gempa dibedakan menjadi dua, yaitu gempa tektonik dan gempa vulkanik.
4. Banjir terjadi jika sungai tidak lagi mampu menampung air hujan yang datang terus menerus.
5. Tsunami terjadi setelah adanya gempa di bawah permukaan laut.



## Latihan Soal Pelajaran 5

### I. Pilihlah jawaban yang benar!

1. Berikut ini yang termasuk bencana alam, **kecuali** ....
  - a. banjir
  - b. erosi
  - c. gempa bumi
  - d. tsunami
2. Gempa yang terjadi karena akan adanya gunung meletus disebut gempa ....
  - a. vulkanik
  - b. bumi
  - c. tektonik
  - d. pegunungan
3. Berikut adalah upaya pencegahan banjir, **kecuali** ....
  - a. membuat sumur resapan
  - b. membuang sampah pada tempatnya
  - c. membersihkan saluran-saluran air
  - d. membuang sampah ke sungai



4. Salah satu tanda akan adanya gunung meletus adalah udara ....
  - a. di sekitar gunung menjadi sangat dingin
  - b. di sekitar gunung menjadi sangat panas
  - c. menjadi mendung
  - d. sekitar sangat cerah
5. Gempa yang terjadi akibat adanya pergeseran kulit bumi ....
  - a. gempa tektonik
  - b. gempa vulkanik
  - c. gempa alam
  - d. tsunami
6. Gelombang laut yang terjadi setelah adanya gempa yang terjadi di bawah permukaan laut disebut ....
  - a. tsunami
  - b. erosi
  - c. gempa vulkanik
  - d. gempa tektonik
7. Berikut yang merupakan penyebab banjir, **kecuali** ....
  - a. hujan lebat terus menerus
  - b. daya tampung sungai terbatas
  - c. pengikisan tanah
  - d. pembuangan sampah di sungai
8. Peristiwa geologi yang mengakibatkan pergerakan bebatuan dan gumpalan tanah adalah pengertian dari ....
  - a. banjir
  - b. erosi
  - c. tanah longsor
  - d. tsunami
9. Salah satu cara mencegah tanah longsor adalah ....
  - a. menebang pohon sembarangan
  - b. membuang sampah ke sungai
  - c. melakukan reboisasi
  - d. membuat saluran irigasi
10. Peristiwa tsunami di Aceh disebabkan oleh ....
  - a. panas sinar matahari
  - b. hembusan angin yang kencang
  - c. perburuan ikan yang berlebihan
  - d. gempa bumi

## II. Isilah titik-titik di bawah ini dengan jawaban yang benar!

1. Bencana yang terjadi karena ulah manusia yaitu . . . dan . . . .
2. Sebuah ombak yang terjadi setelah adanya gempa di bawah permukaan laut disebut . . . .
3. Banyak binatang yang meninggalkan hutan di sekitar gunung, dan gunung mengeluarkan debu dan asap terus menerus merupakan tanda – tanda akan terjadinya . . . .
4. Hujan yang lebat di lereng yang curam dengan ketahanan tanah yang rendah menyebabkan . . . .
5. Alat untuk mengukur gempa bumi adalah . . . .

## III. Jawablah pertanyaan berikut ini dengan singkat dan jelas!

1. Sebutkan dua tanda gunung akan meletus!
2. Apa saja yang bisa kamu lakukan untuk mencegah terjadinya banjir?
3. Bagaimana tindakanmu jika terjadi gempa ketika sedang di dalam rumah?
4. Apa yang mesti dilakukan dalam menghadapi tsunami?
5. Sebutkan tiga barang yang diperlukan dalam keadaan darurat saat gempa terjadi!

## Globalisasi

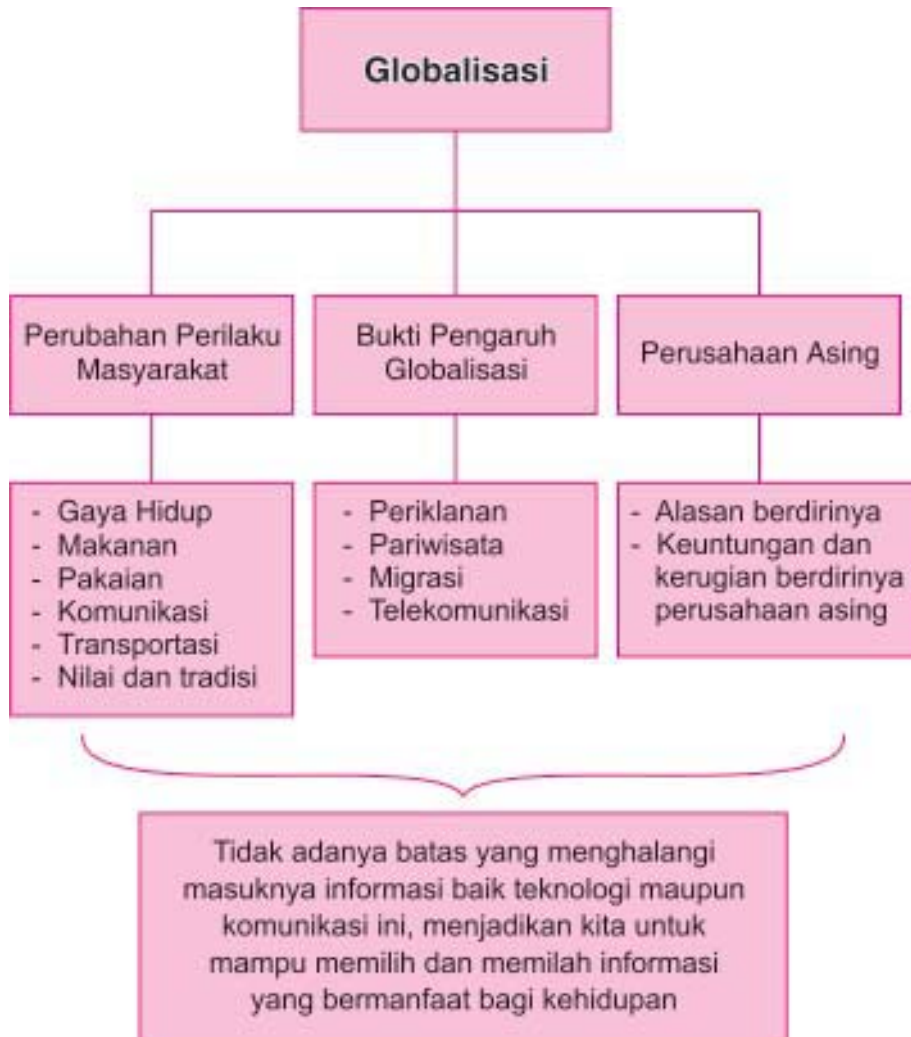


*Jalan Tol di Jakarta*

**Sumber:** TEMPO 1 Maret 2007

Sekarang kita hidup di era global. Hubungan manusia antarbangsa sudah tanpa sekat lagi. Apalagi ada telepon genggam dan internet, komunikasi di dunia ini menjadi amat mudah. Ada dampak positif dan negatif dari globalisasi. Kamu harus waspada. Ambillah yang positif dan hindari yang negatif.

# Peta Konsep





## 1. Apa itu Globalisasi?

Pernahkah kamu mendengar istilah globalisasi? Globalisasi berasal dari kata globe artinya dunia, dan globalisasi berarti mendunia. Ini berarti dunia yang begitu luas dan jarak antarnegara tidak menjadi halangan untuk bisa saling berhubungan. Kemajuan teknologi dari hari ke hari berperan penting dalam terciptanya proses globalisasi.

Kita tentu sering menyaksikan televisi yang menayangkan peristiwa di berbagai belahan bumi. Kita pun bisa berkomunikasi dengan kerabat atau teman yang tinggal di negara lain dengan mudah. Semua ini bisa terjadi berkat kemajuan teknologi dan komunikasi yang begitu canggih.

Saat udara panas dan merasa haus kita mungkin mencari minuman ringan dalam kemasan seperti Coca cola atau minuman bersoda lainnya. Kita bisa menemukan minuman tersebut dengan mudah padahal minuman tersebut berasal dari negara luar. Inilah gambaran sedikit mengenai dampak globalisasi yang ada di sekitar kita.



**Gambar 6.1** Berbagai jenis minuman dalam kemasan

Sumber: Ayah Bunda

## 2. Perubahan Perilaku Masyarakat

Pengaruh globalisasi telah memengaruhi perilaku masyarakat kita dalam berbagai bidang kehidupan. Perubahan ini tidak hanya terjadi pada masyarakat perkotaan tapi juga masyarakat yang tinggal di perdesaan. Pengaruh globalisasi ini bisa berdampak positif dan juga negatif. Oleh karena itu kita harus bisa memilih yang baik untuk diterapkan dan yang buruknya kita tinggalkan.

### a. Gaya Hidup

Perubahan pola hidup yang sangat jelas terlihat di kota besar seperti Jakarta yang banyak dipenuhi gedung-gedung pencakar langit. Sebagaimana pula yang terlihat pada kota-kota besar yang ada di negara lain yang telah maju.



Kehidupan masyarakatnya pun telah berubah karena pengaruh dari barat. Mulai dari pakaian, rambut, bersosialisasi dan gaya rumah.

Namun perlu juga diingat tidak semua pengaruh yang datang dari luar negara kita bisa diterapkan begitu saja. Perilaku bangsa lain yang tidak sesuai dengan kepribadian bangsa kita hendaknya kita jauhi.



**Gambar 6.2** Gedung pencakar langit  
Sumber: ENCARTA 2002

### **b. Makanan**

Jika dahulu kita menjadikan nasi sebagai makanan pokok, maka dengan adanya globalisasi kita mengenal mie, spaghetti, burger dan pizza sebagai pengganti makanan pokok. Kita bisa menjumpai berbagai makanan asal negara lain di sekitar kita. Berbagai restoran cepat saji pun tersebar di nusantara seperti Mc Donald, Pizza Hut, dan KFC yang semua makanan dan minuman yang disajikan berasal dari Negara Amerika. Kini dengan adanya globalisasi, makanan asing tersebut mudah dijumpai di mana-mana terutama di pusat-pusat perbelanjaan.

### **c. Pakaian**

Celana jeans, T-Shirt, setelan jas, gaun malam, baju pesta, hingga baju pengantin juga tidak terlepas dari dampak globalisasi yang ada di sekitar kita. Setelan jeans dan T-shirt mudah sekali kita jumpai. Bahkan setelan jas yang dahulu hanya dipakai oleh bangsa barat, kini sudah menjadi pakaian resmi internasional. Gaun malam, baju pesta, dan baju pengantin ala barat yang beragam, juga bisa dimiliki dengan mudah. Baju-baju tersebut berasal dari negara barat yang kini sudah mendunia.

### **d. Komunikasi**

Di antara kamu mungkin sudah mengenal bahkan memiliki handphone. Ini merupakan salah satu kemajuan teknologi komunikasi yang berkembang seiring arus globalisasi yang ada. Teknologi internet yang kian berkembang juga memungkinkan orang untuk berkomunikasi dan bertukar informasi di berbagai belahan dunia manapun dengan cepat dan aktual.



**Gambar 6.3** PDA phone sebagai alat komunikasi

Sumber: wikipedia.id

#### **e. *Transportasi***

Pesawat terbang merupakan salah satu contoh kemajuan di bidang transportasi sebagai dampak lain dari arus globalisasi. Dengan adanya pesawat terbang, perpindahan arus barang dan orang dari satu negara ke negara lainnya menjadi cepat dan mudah. Jauhnya jarak, tidak lagi menjadi masalah. Perkembangan jenis pesawat pun semakin beragam dan semakin canggih.

#### **f. *Nilai-nilai dan tradisi***

Nilai atau norma merupakan aturan yang tidak tertulis namun diakui dan dihormati oleh masyarakat. Namun nilai-nilai tersebut kini sudah mulai bergeser bahkan bercampur dengan nilai-nilai yang baru yang berasal dari luar. Tradisi nenek moyang pun perlahan sudah mulai terlupakan. Sebagai orang yang pandai dan cinta tanah air, sepantasnyalah kita tetap mempertahankan nilai dan tradisi yang sesuai dengan kepribadian bangsa.

### **3. *Bukti-bukti adanya pengaruh globalisasi***

Arus globalisasi yang melanda masyarakat kita telah terasa dampaknya dalam kehidupan kita sehari-hari. Penggunaan handphone, komputer, mobil, baju dan makanan yang sama dengan masyarakat di berbagai negara lain merupakan bukti adanya dampak globalisasi terhadap kehidupan masyarakat. Dengan demikian seolah-olah tidak ada batas antara negara satu dengan negara lainnya. Sebenarnya banyak bukti-bukti dampak globalisasi yang ada, berikut ini ada beberapa yang bisa kita lihat di sekitar kita.


#### **a. *Media Cetak dan Elektronik***

Dengan adanya media cetak dan elektronik, produsen dengan mudah memberikan informasi suatu produk kepada konsumen. Media cetak itu meliputi surat kabar, majalah, tabloid, selebaran iklan, dan lain-lain. Sedangkan media elektronik antara lain televisi, radio, dan internet. Di era globalisasi ini, membuat iklan untuk memperkenalkan produk menjadi sangat penting agar masyarakat mengenal produk yang ditawarkan.

Di dalam persaingan antar produsen, periklanan berperan penting dalam menunjang keberhasilan penjualan suatu produk. Di antaranya dengan menggunakan artis sebagai bintang iklan. Cara ini lebih efektif karena masyarakat lebih dahulu mengenal artis yang membawakan produk tertentu. Tengoklah televisi yang menayangkan berbagai iklan dengan dibintangi seorang atau beberapa artis terkenal.

### b. Pariwisata

Dampak lain yang timbul dari arus globalisasi adalah gencarnya informasi mengenai pariwisata melalui teknologi komunikasi yang ada. Wisatawan mancanegara banyak berdatangan ke negara kita untuk mengunjungi berbagai objek wisata yang ada di Indonesia. Bahkan tidak hanya kawasan wisata yang merasakan dampaknya, penduduk sekitar kawasan pun telah merasakan manfaatnya, mulai dari peningkatan pendapatan yang mereka terima hingga lapangan kerja yang tersedia. Ini merupakan dampak positif dari adanya pengaruh globalisasi.



**Gambar 6.4** Pura Besakih di Bali  
Sumber: [www-wikipedia-com](http://www.wikipedia-com)

Tahukah kamu, bahwa dengan adanya wisatawan mancanegara ini, menambah pendapatan negara kita? Para wisatawan mancanegara yang datang ke Indonesia untuk menikmati keindahan alam dan budaya yang ada di negara kita ini, telah memberikan keuntungan yang besar bagi masyarakat dan negara kita.

### c. Migrasi

Migrasi adalah perpindahan penduduk dari satu tempat ke tempat lainnya. Alasan penduduk untuk bermigrasi bisa bermacam-macam. Ada yang ingin memperoleh pekerjaan dan kehidupan yang lebih baik di tempat lain hingga akhirnya menetap, dan ada pula yang sementara untuk keperluan belajar atau bisnis. Perpindahan penduduk ini ditunjang dengan kemudahan teknologi transportasi yang semakin maju dan angkutan yang memadai.

### d. Telekomunikasi

Kita mungkin pernah menggunakan internet, untuk sekedar *chatting*, mengirim e-mail atau bermain games dengan orang di tempat yang jauh bahkan tidak kita kenal sekalipun. Dengan teknologi internet, kita mengenal *teleconference* yang memungkinkan seseorang yang saling berjauhan bisa bertatap muka. Perkembangan teknologi melalui satelit memberikan peran berarti untuk kemajuan telekomunikasi. Pengertian telekomunikasi itu sendiri adalah komunikasi yang dilakukan dari jarak jauh.



**Gambar 6.5** Komunikasi melalui internet menjadi hal biasa  
Sumber: *Majalah Concept*

Ternyata banyak sekali bukan dampak yang bisa dirasakan dalam kehidupan masyarakat kita? Kenyataan ini membuktikan bahwa pengaruh globalisasi ini memberikan manfaat yang besar bagi kita, walaupun tak dipungkiri pula ada dampak negatif yang ditimbulkannya.

#### 4. Sikap kita terhadap globalisasi

Arus globalisasi yang demikian besar yang telah melanda negeri kita ini, memang tidak mungkin lagi kita bendung. Dampak positif dan negatif pun mau tak mau akan masuk dalam masyarakat kita. Tidak adanya batas yang menghalangi masuknya informasi baik teknologi maupun komunikasi ini, menjadikan kita untuk mampu memilih dan memilah informasi yang bermanfaat bagi kehidupan.

Sikap masyarakat kita pun beragam dalam menanggapi arus globalisasi yang melanda. Ada yang menerimanya dengan terbuka dan dengan senang hati menerapkannya dalam kehidupan dengan harapan untuk kemajuan, dan ada juga yang tidak mau menerimanya karena menganggap globalisasi ini akan berdampak buruk untuk kehidupan sosial masyarakat dan menimbulkan kesenjangan yang besar antara yang kaya dan miskin.

#### Mengasah Kecakapan Pribadi

Tuliskan lima cara kamu untuk membentengi diri agar tidak terpengaruh oleh dampak negatif globalisasi?

Kumpulkan hasilnya kepada gurumu!

#### B. Perusahaan Asing di Indonesia

Tidak dipungkiri pula, arus globalisasi yang melanda mendorong masuknya perusahaan asing ke Indonesia. Perusahaan asing adalah perusahaan yang dimiliki oleh negara lain dan menjalankan usahanya di Indonesia. Sebagian saham yang dimiliki perusahaan asing ini dimiliki oleh negara asalnya dan sebagian lagi milik pengusaha Indonesia. Bersama mereka menjalankan perusahaan ini sesuai kesepakatan bersama dan pemerintah mengatur hal ini untuk kepentingan bersama.

Pemerintah berperan dalam membuat kebijakan untuk masuknya perusahaan asing. Ini penting agar Bangsa Indonesia turut menikmati kekayaan alam yang dikelola perusahaan asing.

## 1. Alasan Berdirinya Perusahaan Asing

Berdirinya perusahaan asing di Indonesia tentu ada alasan tersendiri. Tentu saja alasan utamanya untuk mendapatkan keuntungan. Namun ada baiknya kita lihat beberapa faktor lainnya.

### **a. Kekayaan alam Indonesia yang melimpah**

Kurangnya kemampuan bangsa Indonesia mengelola kekayaan alam yang ada mendorong perusahaan asing menanamkan modalnya di Indonesia. Dengan kemajuan teknologi yang dimilikinya, perusahaan asing tersebut mampu mengolah kekayaan alam Indonesia secara maksimal.

### **b. Kebutuhan konsumen yang besar**

Jumlah penduduk Indonesia yang demikian banyak menjadikan motivasi tersendiri untuk berdirinya perusahaan asing di Indonesia. Kebutuhan masyarakat akan suatu produk, mendorong pengusaha asing dan nasional untuk bekerja sama menciptakan perusahaan. Hal ini memberikan keuntungan tersendiri bagi pendirinya karena permintaan yang besar dari masyarakat akan produk yang dihasilkan.

### **c. Tenaga kerja yang murah**

Tingkat pendidikan masyarakat kita pada umumnya masih rendah. Kebanyakan penduduknya hanya sampai lulusan sekolah menengah. Hal ini tidak sesuai dengan kebutuhan tenaga kerja yang perlu tenaga-tenaga ahli di bidang tertentu. Ini mengakibatkan banyaknya pencari kerja dan menciptakan persaingan dalam memperoleh pekerjaan. Persaingan ini pula yang menyebabkan murahnya upah kerja karena tidak adanya tawar menawar upah.

Upah yang murah dan tenaga kerja yang banyak mampu menekan biaya produksi perusahaan. Ini menguntungkan perusahaan karena dengan biaya yang relatif murah, perusahaan bisa menjual produk yang dihasilkan dengan harga yang mahal.

### **d. Stabilitas Keamanan yang memadai**

Kebijakan pemerintah dalam bidang keamanan sangat mendukung bertahannya perusahaan asing di Indonesia. Dengan terciptanya keamanan, menjadikan perusahaan asing ini dengan nyaman menjalankan



perusahaannya. Keamanan di negara kita yang stabil mendorong perusahaan-perusahaan asing dari negara lain untuk ikut menanamkan sahamnya di negara kita. Kita tentu tahu tidak mungkin ada negara yang mau menanamkan modalnya di negara yang terjadi gangguan keamanan. Disinilah peran penting pemerintah untuk menciptakan penegakan hukum yang tegas bagi setiap pelanggar hukum. Penegakan hukum ini berlaku bagi semua masyarakat Indonesia dan tidak terkecuali warga asing yang datang ke Indonesia.

### Tugas Kontekstual

1. Sebutkan nama-nama perusahaan asing yang ada di Indonesia!
  2. Tuliskan pula bidang usaha yang mereka operasikan!
  3. Buatlah nama-nama tersebut dalam bentuk tabel seperti berikut ini!
- Kumpulkan hasilnya kepada gurumu!

| No. | Nama Perusahaan      | Asal Negara     | Bidang yang digarap           |
|-----|----------------------|-----------------|-------------------------------|
| 1.  | PT Freeport Mc MoRan | Amerika Serikat | Pertambangan emas dan tembaga |
| 2.  | Sony                 | Jepang          | ....                          |
| 3.  | ....                 | ....            | ....                          |

## 2. Keuntungan dan Kerugian Beroperasinya Perusahaan Asing

### a. Keuntungan

Dengan beroperasinya perusahaan asing di Indonesia, memberikan beberapa keuntungan bagi Bangsa Indonesia. Keuntungan tersebut adalah sebagai berikut.

### 1) *Mengurangi pengangguran*

Sebagaimana telah kita ketahui, kebutuhan masyarakat Indonesia akan pekerjaan sangat tinggi sementara lapangan kerja yang tersedia sedikit. Ini menyebabkan banyaknya pengangguran di Indonesia. Dengan adanya perusahaan asing, tentu membutuhkan banyak tenaga kerja untuk menjalankan roda perusahaan. Perusahaan asing tersebut menyerap pengangguran yang ada pun dapat dikurangi. Hal ini juga meringankan tugas pemerintah dalam menangani tingkat pengangguran di Indonesia.



**Gambar 6.6** *Pekerja di perusahaan luar negeri.*

**Sumber:** *www-google-com*

### 2) *Meningkatkan kesejahteraan masyarakat*

Pengangguran yang semakin berkurang, dan penghasilan yang didapat dari hasil bekerja ini meningkatkan daya beli masyarakat untuk mencukupi kebutuhan hidupnya. Terkadang banyak alat-alat rumah tangga yang tidak terdapat dari dalam negeri sehingga harus diimpor dari luar yang berharga mahal. Tetapi dengan adanya perusahaan asing yang menyediakan kebutuhan rumah tangga tersebut, biaya yang dikeluarkan untuk membeli bisa dihemat sehingga kelebihan uang bisa dipakai untuk kebutuhan yang lain. Dengan beroperasinya perusahaan asing di Indonesia bisa membatasi masuknya barang-barang impor sehingga kita tidak terlalu tergantung pada barang hasil impor karena bisa memproduksi sendiri. Dengan demikian perekonomian kita semakin kokoh, dan meningkatkan kesejahteraan masyarakat.

### 3) *Pemanfaatan kekayaan alam secara maksimal*

Kekayaan alam Indonesia begitu melimpah, sehingga bukan tidak mungkin pemanfaatannya kurang maksimal. Dengan masuknya perusahaan asing yang membantu mengeksplorasi kekayaan alam ini, maka bisa dirasakan manfaatnya dalam kehidupan masyarakat Indonesia sendiri. Perusahaan nasional mungkin memerlukan bantuan pengadaan alat-alat berat dan alat untuk mengeksplorasi kekayaan yang tersedia, oleh karenanya pengusaha nasional bekerja sama dengan pengusaha asing. Contoh perusahaan yang ada di Indonesia adalah PT Caltex yang bergerak dalam bidang pengeboran minyak dengan teknologi canggih.

#### 4) Penerapan teknologi

Perusahaan asing yang beroperasi di Indonesia biasanya merupakan perusahaan besar yang sudah ada di negara asalnya. Mereka memiliki beberapa perusahaan yang sejenis di negara lain sehingga disebut perusahaan multinasional. Perusahaan asing yang bermodal besar ini memiliki teknologi tinggi dan canggih. Tenaga kerja Indonesia yang bekerja di perusahaan asing ini kemudian dididik dan dilatih agar mampu menerapkan teknologi yang mereka bawa di kemudian hari.



**Gambar 6.7** Penerapan teknologi yang canggih dalam industri tekstil

Sumber: *Encarta Encyclopedia 2002*

### b. Kerugian

#### 1) Lingkungan yang tercemar

Tidak sepenuhnya keberadaan perusahaan dan industri yang berkembang di Indonesia membawa keuntungan. Ada pula dampak buruk yang ditimbulkannya yaitu pencemaran lingkungan. Limbah yang dihasilkan dari perusahaan seringkali tidak melalui proses pengolahan limbah. Limbah yang masih tercemar itu dibuang ke sungai sehingga mencemari air sungai dan lingkungan sekitar yang dilalui sungai itu. Begitu pula dengan asap hasil pembakaran limbah ini akan mencemari udara. Beberapa bentuk pencemaran tersebut antara lain pencemaran air, pencemaran udara, serta pencemaran suara akibat kebisingan yang ditimbulkan dari pabrik-pabrik ataupun kendaraan bermotor.



**Gambar 6.8** Polusi air dan polusi udara akibat industri

Sumber: : *Encarta Encyclopedia Deluxe 2002*

Salah satu alasan negara maju mendirikan perusahaan di negara berkembang seperti Indonesia ini adalah karena tidak ingin negaranya terkena dampak pencemaran yang ditimbulkan dari hasil industri.

## 2) *Perubahan fungsi lahan*

Perusahaan asing yang berdiri di Indonesia adalah perusahaan yang besar dan untuk mendirikannya perlu lahan yang luas pula. Karenanya untuk keperluan pendirian perusahaan inilah lahan pertanian yang luas berubah menjadi bangunan dan pusat perindustrian. Ini mengakibatkan lahan pertanian semakin menyempit.

## 3) *Hasil kekayaan alam tidak dinikmati sepenuhnya*

Walaupun negara kita kaya akan kekayaan alamnya namun jika tidak dikelola secara maksimal kurang bisa dirasakan manfaatnya. Berdirinya perusahaan asing mungkin bisa memaksimalkan pengolahan kekayaan alam yang ada tetapi hasilnya tidak sepenuhnya bisa dinikmati oleh bangsa kita. Sebagian besar dinikmati perusahaan asing yang mengelolanya padahal kekayaan alam ini milik bangsa kita dan seharusnya bangsa kitalah yang bisa lebih banyak menikmati kekayaan ini.

## Rangkuman

- a. Globalisasi berarti dunia yang begitu luas dan jarak antarnegara tidak menjadi halangan untuk bisa saling berhubungan. Singkatnya proses mendunia segala aspek kehidupan.
- b. Kemajuan bidang teknologi komunikasi dan transportasi mempercepat terjadinya proses globalisasi.
- c. Beberapa faktor yang menarik minat perusahaan asing mendirikan perusahaannya di Indonesia antara lain:
  - Kekayaan alam Indonesia yang melimpah
  - Kebutuhan konsumen yang besar
  - Tenaga kerja yang murah
  - Stabilitas Keamanan yang memadai
- d. Keuntungan beroperasinya perusahaan asing di Indonesia antara lain:
  - Mengurangi pengangguran
  - Meningkatkan kesejahteraan masyarakat
  - Pemanfaatan kekayaan alam secara maksimal
  - Penerapan teknologi
- e. Kerugian beroperasinya perusahaan asing yaitu:
  - Lingkungan yang tercemar
  - Perubahan fungsi lahan
  - Hasil kekayaan alam tidak dinikmati sepenuhnya.



## Latihan Soal Pelajaran 6

### I. Pilihlah jawaban yang benar!

1. Tidak adanya batas antara negara satu dengan lainnya adalah pengertian dari ....
  - a. globalisasi
  - b. harmonisasi
  - c. sosialisasi
  - d. eksploitasi
2. Kita bisa menyaksikan peristiwa di belahan dunia lain dengan cepat karena kemajuan ....
  - a. teknologi komunikasi
  - b. teknologi transportasi
  - c. teknologi kedokteran
  - d. teknologi industri
3. Berikut ini merupakan perubahan perilaku pada masyarakat akibat dampak globalisasi, **kecuali** ....
  - a. gaya hidup
  - b. makanan
  - c. pakaian
  - d. cita-cita
4. Contoh makanan yang berasal dari negara asing adalah ....
  - a. pizza, hamburger, nasi padang
  - b. spaghetti, pizza, hamburger
  - c. spaghetti, soto ayam, nasi goreng
  - d. sandwich, hamburger, sate
5. Salah satu bukti adanya globalisasi adalah sebagai berikut, **kecuali** ....
  - a. penggunaan *handphone* di seluruh lapisan masyarakat
  - b. pesawat terbang yang canggih
  - c. adanya masyarakat Indonesia yang tinggal di negara asing
  - d. penggunaan kerbau untuk membajak sawah
6. Sikap kita terhadap arus globalisasi yang masuk ke negara kita adalah ....
  - a. menerima sepenuhnya karena yang berasal dari barat pasti baik
  - b. memilih yang positif karena tidak semua yang datang dari luar itu baik
  - c. menolak mentah-mentah
  - d. tidak tahu menahu
7. Faktor yang menyebabkan adanya perusahaan asing di Indonesia adalah sebagai berikut, **kecuali** ....
  - a. tenaga kerja yang murah
  - b. kebutuhan masyarakat akan suatu produk
  - c. stabilitas keamanan yang memadai
  - d. pajak yang tinggi bagi perusahaan asing



8. Contoh perusahaan asing yang ada di Indonesia adalah ....
  - a. PT Unilever
  - b. PT Indofood
  - c. PT. Freeport
  - d. PT. Telkom
9. Keuntungan dari adanya perusahaan asing di Indonesia adalah ....
  - a. masyarakat Indonesia jadi mencintai produk asing
  - b. lahan pertanian berubah menjadi bangunan perusahaan
  - c. mengurangi pengangguran di Indonesia
  - d. masyarakat tidak mau lagi menjadi petani
10. Salah satu contoh kemajuan di bidang teknologi komunikasi adalah ....
  - a. handphone, internet
  - b. mobil, kapal terbang
  - c. celana jeans, setelan jas
  - d. coca cola, orange jus

## II. Isilah titik-titik di bawah ini dengan jawaban yang benar!

1. Globalisasi adalah . . . .
2. Alasan utama berdirinya perusahaan asing di Indonesia adalah . . . .
3. Perubahan perilaku masyarakat bisa dilihat pada . . . .
4. Penyebab murahnya upah tenaga kerja di Indonesia yaitu . . . .
5. Menyempitnya lahan pertanian disebabkan oleh . . . .

## III. Jawablah pertanyaan berikut ini dengan singkat dan jelas!

1. Sebutkan alasan perusahaan asing berdiri di Indonesia!
2. Apa kerugian dari adanya perusahaan asing?
3. Apa yang dimaksud perusahaan multinasional?
4. Sebutkan beberapa perusahaan asing yang ada di Indonesia!
5. Kemukakan alasan pemerintah mengatur kebijakan masuknya perusahaan asing!
6. Sebutkan manfaat berdirinya perusahaan asing!
7. Bagaimana dampak globalisasi di bidang pakaian?
8. Sebutkan benda-benda di sekitarmu yang termasuk hasil globalisasi!
9. Bagaimana pendapatmu mengenai penggunaan alat elektronik dalam kehidupan sehari-hari?
10. Apa saja manfaat adanya handphone dan internet dalam kehidupan?

# Pelajaran

# 7

## Kegiatan Ekspor dan Impor



*Pelabuhan Peti Kemas,*

*Sumber: PC CD-Room Image Collection*

Manusia mempunyai banyak kebutuhan. Untuk memenuhinya, harus membeli. Bahkan ada yang harus didatangkan dari luar negeri. Oleh karena itu, banyak kegiatan ekspor dan impor. Perdagangan dengan luar negeri besar manfaatnya. Tahukah kamu? Simaklah uraian berikut ini dengan saksama.

# Peta Konsep



## A.

# Jenis Perdagangan

Pernahkah kamu mendengar istilah ekspor dan impor? Ekspor dan impor erat kaitannya dengan kegiatan ekonomi khususnya dalam bidang perdagangan. Pada pelajaran lalu di kelas 5, kita telah mempelajari berbagai kegiatan ekonomi di Indonesia. Sekadar untuk menyegarkan kembali ingatan kita, ada baiknya kita mengulas kembali sedikit mengenai kegiatan ekonomi. Jenis kegiatan ekonomi meliputi kegiatan produksi, distribusi, dan konsumsi.

- Kegiatan produksi adalah kegiatan menghasilkan suatu barang atau jasa. Orang atau perusahaan yang melakukannya disebut *produsen*.
- Kegiatan distribusi adalah kegiatan menyalurkan barang atau jasa. Orang atau perusahaan yang menyalurkannya disebut *distributor*.
- Kegiatan konsumsi adalah kegiatan memakai atau menggunakan barang atau jasa. Orang yang melakukannya disebut *konsumen*.

Kegiatan tersebut erat kaitannya dengan kegiatan perdagangan. Perdagangan adalah kegiatan tukar menukar barang atau jasa antara produsen dengan konsumen. Perbedaan hasil produksi antara satu tempat dengan tempat lainnya menyebabkan adanya kegiatan perdagangan. Hal ini dilakukan untuk memenuhi kebutuhan.

Menurut nilai dagangannya, perdagangan dibagi menjadi perdagangan kecil dan perdagangan besar. Perdagangan kecil ini contohnya pedagang yang ada di pasar, pedagang eceran, pedagang asongan, dan lain-lain. Perdagangan besar ini dibagi lagi menjadi perdagangan dalam negeri dan perdagangan luar negeri.

## 1. Perdagangan Dalam Negeri

Perdagangan dalam negeri meliputi perdagangan antardaerah, antarprovinsi dan antarpulau. Seringkali kita menggunakan barang-barang yang sebenarnya bukan berasal dari daerah kita saat ini. Contohnya produk dari hasil perdagangan dalam negeri antara lain:

- a. Hasil olahan pangan dengan bahan dasar sagu yang berasal dari Pulau Maluku dan Irian Jaya.
- b. Kursi rotan yang bahan baku rotannya banyak dihasilkan dari Pulau Sumatra, dan Kalimantan.
- c. Barang-barang elektronika dari Pulau Batam.
- d. Hasi pangan dan aneka sandang yang berasal dari Pulau Jawa.
- e. Kain songket dari Sumatra, kain tenun dari Nusa Tenggara, dan Kain batik dari Jawa Barat dan Jawa Tengah.



## 2. Perdagangan Luar Negeri

Seringkali sumber daya alam yang tersedia di suatu negara tidak terdapat di negara yang lain. Dengan demikian komoditas yang diperdagangkan pun tidak sama, sehingga dibutuhkan kerja sama yang saling melengkapi. Hal ini yang mendorong terjadinya hubungan perdagangan antarbangsa. Dalam dunia perdagangan antarbangsa baik antara negara Indonesia dengan negara tetangga maupun Indonesia dengan negara asing lainnya, hubungan perdagangan ini dikenal dengan istilah ekspor dan impor.

### Tahukah Kamu

Komoditas adalah barang - barang yang diperjualbelikan untuk tujuan ekspor maupun impor.

## B. Manfaat Ekspor dan Impor

### 1. Kegiatan Ekspor

Pengertian Ekspor adalah kegiatan menjual barang atau jasa keluar negeri. Banyak sekali ragam komoditas yang diekspor dari negara kita ke berbagai negara di dunia. Komoditas ekspor tersebut antara lain:

- **Hasil tambang** : Minyak bumi, gas alam, besi, baja, aluminium, emas, tembaga, batu bara, dan timah.
- **Hasil pertanian** : Sayur-sayuran, kacang-kacangan dan buah-buahan.
- **Hasil perkebunan** : Teh, minyak sawit, coklat, lada, kina, kopi, jagung, dan karet.
- **Hasil industri** : Tekstil, pakaian jadi, semen, dan pupuk.
- **Hasil hutan** : Kayu, kayu lapis, dan rotan.
- **Hasil perikanan** : Udang, ikan laut, dan ikan air tawar.



**Gambar 7.1** Berbagai jenis kopi yang menjadi komoditas ekspor

Sumber: Encarta 2006



## Tugas Kontekstual

Buatlah tabel daftar komoditas ekspor yang telah kamu pelajari!

| No. | Jenis Kegiatan | Komoditas Ekspor                             |
|-----|----------------|--|
| 1.  | Hasil tambang  | Minyak bumi, gas alam, besi, baja, alumunium |
| 2.  | ....           | ....   |

Carilah komoditas ekspor lainnya yang kamu ketahui!

Diskusikan kegiatan tersebut dengan teman kelompokmu!

Kegiatan ekspor terdiri atas ekspor Migas dan Non Migas. Komoditas ekspor migas terdiri atas minyak dan gas alam, sedangkan selain minyak dan gas alam termasuk komoditas non migas. Negara-negara yang menjadi tujuan ekspor Indonesia antara lain negara-negara yang tergabung dalam ASEAN dan negara lainnya. Beberapa negara tersebut di antaranya:

**a. Kerja sama perdagangan antara Indonesia dan Malaysia**

Barang yang diekspor ke Malaysia antara lain minyak bumi mentah, batu bara, kayu jati, karet alam, kopi, dan sayuran. Dalam bidang jasa yaitu jasa transportasi udara dan laut. Contohnya Garuda Indonesia Airways (GIA) melakukan penerbangan ke Malaysia dengan rute Jakarta–Penang.

**b. Kerja sama perdagangan antara Indonesia dan Filipina**

Barang yang diekspor ke Filipina yaitu minyak bumi, besi, baja dan alumunium.

**c. Kerja sama perdagangan antara Indonesia dengan Singapura**

Barang yang diekspor ke Singapura terdiri atas minyak mentah, timah, gas alam, sayur-sayuran, kayu lapis, karet, kina, kopra, lada, dan daging. Kerja sama bidang jasa pun terjalin dengan baik yaitu adanya penerbangan dari Jakarta ke Singapura oleh GIA dan Singapore Airlines (SIA).



**Gambar 7.2** Kegiatan bongkar muat di pelabuhan

Sumber: [www-google-com](http://www-google-com)

**d. Kerja sama yang terjalin antara Indonesia dan Thailand**

Barang yang diekspor ke Thailand yaitu hasil hutan berupa kayu.

**e. Kerja sama Indonesia dengan Brunei Darussalam**

Barang yang diekspor ke Brunei terdiri atas sayur-sayuran, buah-buahan, pakaian jadi, dan kendaraan.

**f. Kerja sama Indonesia dengan Jepang**

Barang-barang yang diekspor ke Jepang berupa barang tambang, hasil hutan, has alam, minyak bumi, alumunium dan kayu lapis.

**g. Kerja sama Indonesia dengan Australia**

Barang – barang yang diekspor ke Australia antara lain minyak bumi mentah, teh, kopi, kacang-kacangan dan buah-buahan.

## Tahukah Kamu

Eksportir adalah negara yang melakukan kegiatan ekspor.

Importir adalah negara yang melakukan kegiatan impor.

## 2. Kegiatan Impor

Pengertian Impor adalah kegiatan membeli barang atau jasa dari luar negeri. Seperti juga komoditas ekspor, yang menjadi komoditas impor pun banyak jenisnya. Barang-barang impor utamanya berupa bahan baku dan barang-barang penolong untuk industri seperti mesin-mesin industri tekstil, komponen elektronika, software, baja, dan perakitan kendaraan bermotor.

Komoditas impor lainnya antara lain:

- Hasil perkebunan:** Gula, kopra, buah-buahan, dan kacang kedelai.
- Hasil pertanian:** Beras, terigu.
- Hasil industri:** Kendaraan bermotor, alat-alat elektronik, pakaian jadi, bahan-bahan kimia dan wol.
- Hasil ternak:** Daging sapi, keju, susu, dan mentega.
- Jasa:** Tenaga ahli
- Obat-obatan**



**Gambar 7.3** Motor Harley Davidson yang diimpor dari Amerika

Sumber: Digital image

Negara-negara pengimpor ke Indonesia antara lain Filipina, Singapura, Thailand, Jepang, Amerika, Korea, Jerman, dan Cina.

- a. Kerja sama bidang impor antara Indonesia dengan Malaysia

Barang-barang yang diimpor dari Malaysia antara lain minyak bumi matang, bahan kimia, benang sintetis, alkohol, dan baja lembaran.

- b. Kerja sama bidang impor antara Indonesia dengan Filipina

Indonesia mengimpor gula, madu, semen putih, dan kopra dari Filipina.

- c. Kerja sama bidang impor antara Indonesia dengan Thailand

Indonesia mengimpor gula, madu, buah-buahan, dan beras dari Thailand

- d. Kerja sama bidang impor antara Indonesia dengan Singapura

Barang-barang yang diimpor dari Singapura antara lain minyak bumi masak, kapal, pipa besi baja, alat-alat elektronik dan bahan kimia.

- e. Kerja sama bidang impor antara Indonesia dengan Jepang

Indonesia mengimpor buah-buahan, alat-alat elektronik dan mesin otomotif dari Jepang.

- f. Kerja sama bidang impor antara Indonesia dengan Korea

Indonesia mengimpor alat-alat elektronik dari Korea.

- g. Kerja sama bidang Impor antara Indonesia dengan Cina

Indonesia mengimpor alat-alat kosmetik, pakaian jadi, dan lain-lain.

- h. Kerja sama bidang Impor antara Indonesia dengan Australia

Indonesia mengimpor barang-barang dari Australia berupa susu, daging, dan kain wol.

- i. Kerja sama bidang Impor antara Indonesia dengan Amerika

Barang-barang impor dari Amerika antara lain kendaraan bermotor, buah-buahan, dan lain-lain.



**Gambar 7.4** Pengiriman barang ekspor dan impor yang dilakukan melalui Kapal laut

Sumber: [www-google-com](http://www-google-com)

### 3. Manfaat Ekspor dan Impor

Dari uraian tersebut di atas jelaslah bahwa Indonesia walaupun kaya akan sumber daya alam, namun tidak bisa memenuhi seluruh kebutuhan dari dalam negeri sendiri. Perdagangan tidak hanya berupa barang saja tetapi juga jasa.

Jasa biasanya mencakup kegiatan penerbangan, pengiriman tenaga ahli, dan pengiriman tenaga kerja. Untuk pemenuhan proses industri terkadang negara Indonesia memerlukan bahan baku industri sehingga perlu mengimpor barang baku industri dari negara lain. Begitu pula negara lain memerlukan komoditas perdagangan dari Indonesia, sehingga Indonesia mengekspor komoditas tersebut ke luar negeri. Dengan demikian kita berkesimpulan bahwa setiap negara saling bergantung satu sama lain sehingga menimbulkan kegiatan perdagangan antarnegara.

Kegiatan perdagangan terutama dalam hal ekspor dan impor memiliki banyak manfaat bagi para pelakunya. Beberapa manfaat tersebut antara lain:

- a. Meningkatkan pendapatan negara
- b. Memberikan penghasilan bagi para pelakunya
- c. Tercukupinya kebutuhan akan suatu barang di negara yang bersangkutan
- d. Mengaktifkan perputaran nilai uang
- e. Meningkatkan kesejahteraan

### Tugas Kontekstual

Berdasarkan pembahasan yang telah kamu pelajari, buatlah tabel daftar negara dan jenis barang yang diekspor dan di impor ke Indonesia!

| No. | Negara   | Komoditas Ekspor                               | Komoditas Impor                                     |
|-----|----------|--|---|
| 1.  | Malaysia | Kayu jati, minyak bumi mentah, kopi, batu bara | Minyak bumi matang, benang sintetis, baja lempengan |
| 2.  | ....     | ....   | ....  |
| 3.  | ....     | ....   | ....  |

- Diskusikan kegiatan tersebut dengan teman kelompokmu!
- Tuliskan tabel tersebut dalam buku latihan!
- Kumpulkan hasil kegiatanmu kepada guru!

## Rangkuman

1. Kegiatan ekonomi meliputi kegiatan produksi, distribusi, dan konsumsi.
2. Perdagangan adalah kegiatan tukar menukar barang atau jasa antara produsen dengan konsumen.
3. Menurut nilai dagangannya, perdagangan terdiri atas perdagangan kecil dan perdagangan besar. Perdagangan kecil contohnya pedagang di pasar, pedagang asongan, pedagang kaki lima, dan warung.
4. Perdagangan besar dibagi lagi menjadi perdagangan dalam negeri dan perdagangan luar negeri.
5. Kegiatan ekspor dan impor merupakan jenis perdagangan luar negeri. Ekspor adalah kegiatan menjual barang atau jasa ke luar negeri. Sedangkan impor adalah kegiatan membeli barang atau jasa dari luar negeri.



## Latihan Soal Pelajaran 7

### I. Pilihlah jawaban yang benar!

1. Kegiatan menjual barang atau jasa ke luar negeri adalah pengertian dari ....
  - a. impor
  - b. ekspor
  - c. produksi
  - d. distribusi
2. Berikut ini yang merupakan kegiatan ekonomi, **kecuali** ....
  - a. produksi
  - b. konsumsi
  - c. evolusi
  - d. distribusi
3. Negara yang melakukan kegiatan impor disebut ....
  - a. importir
  - b. eksportir
  - c. produsen
  - d. distributor



4. Komoditas impor yang berupa bahan-bahan penolong untuk industri adalah sebagai berikut, **kecuali** ....
  - a. mesin-mesin tekstil
  - b. software
  - c. baja
  - d. karet
5. Negara yang melakukan kegiatan ekspor disebut ....
  - a. distributor
  - b. eksportir
  - c. produser
  - d. importir
6. Barang-barang impor dari Filipina adalah sebagai berikut, **kecuali** ....
  - a. kopra
  - b. semen putih
  - c. keju
  - d. gula
7. Indonesia mengekspor barang-barang ke Brunei Darussalam sebagai berikut, **kecuali** ....
  - a. gas alam
  - b. pakaian jadi
  - c. sayur-sayuran
  - d. buah-buahan
8. Barang-barang impor dari Jepang adalah ....
  - a. pakaian jadi dan gas alam
  - b. alat elektronik dan mesin kendaraan
  - c. keju dan alat elektronik
  - d. mesin kendaraan dan susu
9. Berikut merupakan contoh perdagangan kecil, **kecuali** ....
  - a. pedagang kaki lima
  - b. warung
  - c. grosir
  - d. pedagang asongan
10. Barang-barang yang diimpor dari Australia adalah sebagai berikut, **kecuali** ....
  - a. wol
  - b. semen putih
  - c. keju
  - d. susu

## II. Isilah titik-titik di bawah ini dengan jawaban yang benar!

1. Jenis kegiatan perdagangan luar negeri adalah . . . dan . . . .
2. Makanan yang berbahan dasar sagu berasal dari pulau . . . .
3. Kegiatan menjual barang atau jasa ke luar negeri disebut . . . .
4. Manfaat ekspor dan impor bagi negara adalah . . . .
5. Ekspor hasil hutan dari Indonesia antara lain . . . .

## III. Jawablah pertanyaan berikut ini dengan singkat dan jelas!

1. Sebutkan tiga manfaat adanya kegiatan ekspor dan impor!
2. Tuliskan lima barang yang menjadi bahan dagangan dalam negeri khususnya antarpulau!
3. Sebutkan komoditas ekspor dari Indonesia ke Jepang!
4. Mengapa kegiatan ekspor lebih menguntungkan daripada impor? Berikan pendapatmu!
5. Sebutkan lima komoditas impor dari luar negeri ke Indonesia!

## Latihan Ulangan Semester II

### I. Pilihlah jawaban yang benar!

- Peristiwa yang ditimbulkan oleh alam disebut ....
  - gejala bumi
  - gejala alam
  - gejala gempa
  - gejala kerak bumi
- Garis yang digambar Wallace untuk menunjukkan batas habitat fauna tipe Asiatis dengan tipe Peralihan adalah ....
  - Garis Wallace
  - Garis Weber
  - Garis Transisi
  - Garis Teritorial
- Fauna yang termasuk zona Australia adalah ....
  - Irian
  - Nusa Tenggara Timur
  - Kepulauan Filipina
  - Sumatra
- Berikut yang merupakan penyebab banjir, **kecuali** ....
  - hujan lebat terus menerus
  - daya tampung sungai terbatas
  - pengikisan tanah
  - pembuangan sampah di sungai
- Peristiwa tsunami di Aceh terjadi pada tanggal ....
  - 22 Desember 2004
  - 23 Desember 2004
  - 25 Desember 2004
  - 26 Desember 2004
- Berikut ini yang termasuk bencana alam, **kecuali** ....
  - banjir
  - erosi
  - gempa bumi
  - tsunami
- Gelombang laut yang terjadi setelah adanya gempa yang terjadi di bawah permukaan laut disebut ....
  - tsunami
  - erosi
  - gempa vulkanik
  - gempa tektonik
- Tidak adanya batas antara negara satu dengan lainnya adalah pengertian dari ....
  - globalisasi
  - harmonisasi
  - sosialisasi
  - eksploitasi
- Contoh makanan yang berasal dari negara asing adalah ....
  - pizza, hamburger, nasi padang
  - spaghetti, pizza, hamburger
  - spaghetti, soto ayam, nasi goreng
  - sandwich, hamburger, sate

10. Salah satu bukti adanya globalisasi adalah sebagai berikut, **kecuali** ....
- penggunaan handphone di seluruh lapisan masyarakat
  - pesawat terbang yang canggih
  - adanya masyarakat Indonesia yang tinggal di negara asing
  - penggunaan kerbau untuk membajak sawah
11. Faktor yang menyebabkan adanya perusahaan asing di Indonesia adalah sebagai berikut, **kecuali** ....
- tenaga kerja yang murah
  - kebutuhan masyarakat akan suatu produk
  - stabilitas keamanan yang memadai
  - pajak yang tinggi bagi perusahaan asing
12. Salah satu contoh kemajuan di bidang teknologi komunikasi adalah ....
- handphone, internet
  - celana jeans, setelan jas
  - mobil, kapal terbang
  - coca cola, orange jus
13. Contoh perusahaan asing yang ada di Indonesia adalah ....
- PT Unilever
  - PT. Freeport
  - PT Indofood
  - PT. Telkom
14. Berikut ini merupakan perubahan perilaku pada masyarakat akibat dampak globalisasi, **kecuali** ....
- gaya hidup
  - pakaian
  - makanan
  - cita-cita
15. Barang-barang impor dari Filipina adalah sebagai berikut, **kecuali** ....
- kopra
  - keju
  - semen putih
  - gula
16. Barang-barang impor dari Jepang adalah ....
- pakaian jadi dan gas alam
  - alat elektronik dan mesin kendaraan
  - keju dan alat elektronik
  - mesin kendaraan dan susu
17. Barang-barang yang diimpor dari Australia sebagai berikut, **kecuali** ....
- wol
  - keju
  - semen putih
  - susu
18. Berikut merupakan manfaat adanya kegiatan ekspor-impor, **kecuali** ....
- menambah devisa negara
  - memberi keuntungan bagi pelakunya
  - mengaktifkan perputaran uang
  - kebanggaan memakai produk asing

19. Barang - barang impor dari Thailand adalah sebagai berikut, **kecuali** ....
- |         |                |
|---------|----------------|
| a. gula | c. buah-buahan |
| b. keju | d. beras       |
20. Indonesia mengekspor barang-barang ke Australia berupa ....
- |                       |          |
|-----------------------|----------|
| a. minyak bumi mentah | c. keju  |
| b. semen putih        | d. beras |

**II. Isilah titik-titik di bawah ini dengan jawaban yang benar!**

1. Negara yang melakukan kegiatan impor disebut . . . .
2. Kain Songket berasal dari Pulau . . . .
3. Kegiatan menjual barang atau jasa ke luar negeri adalah pengertian dari . . . .
4. Gempa yang terjadi akibat adanya pergeseran kulit bumi disebut . . . .
5. Thailand memiliki iklim . . . .
6. Gunung yang terdapat di Malaysia adalah . . . .
7. Zona fauna Australia meliputi daerah . . . dan . . . .
8. Garis yang menunjukkan batas habitat fauna Australia dengan fauna tipe peralihan adalah . . . .
9. Alat untuk mengukur gempa bumi menggunakan . . . .
10. Globalisasi adalah . . . .

**III. Jawablah pertanyaan berikut ini dengan singkat dan jelas!**

1. Sebutkan kawasan yang termasuk zona fauna Australia!
2. Apa saja yang bisa kamu lakukan untuk mencegah terjadinya banjir?
3. Bagaimana tindakanmu saat terjadi gempa jika sedang dalam kendaraan?
4. Sebutkan alasan perusahaan asing berdiri di Indonesia!
5. Sebutkan beberapa manfaat adanya kegiatan ekspor dan impor!



## Ujian Akhir Tahun

### I. Pilihlah jawaban yang benar!

- Provinsi di wilayah Indonesia pada awal kemerdekaan adalah ....
  - Papua
  - Maluku Utara
  - Sumatra
  - DKI Jakarta
- Jumlah provinsi pada awal kemerdekaan adalah ....
  - 5 provinsi
  - 6 provinsi
  - 7 provinsi
  - 8 provinsi
- Perkembangan provinsi di Indonesia terjadi dengan pertimbangan berikut, **kecuali** ....
  - adanya pemberontakan
  - pertambahan jumlah penduduk
  - kemampuan dalam peningkatan ekonomi
  - kemampuan bidang pertahanan dan keamanan
- Gubernur sekarang yang menjabat provinsi DKI Jakarta adalah ....
  - Bapak Dada Rosada
  - Bapak Dani Setiawan
  - Bapak Sutiyoso
  - Bapak Agum Gumelar
- Provinsi Banten berdiri pada tahun ....
  - 1958
  - 1964
  - 1976
  - 2000
- Hasil utama Brunei Darussalam adalah ....
  - padi
  - logam
  - minyak bumi
  - kapas
- Negara penghasil padi terbesar dan merupakan lumbung padi di Asia adalah ....
  - Malaysia
  - Filipina
  - Indonesia
  - Thailand
- Ibu kota negara Laos adalah ....
  - Jakarta
  - Phnom Penh
  - Manila
  - Vientiane
- Berikut ini negara-negara yang terletak di kawasan Indocina, **kecuali** ....
  - Kamboja
  - Vietnam
  - Laos
  - Myanmar

10. Ibu Kota negara Filipina adalah ...
  - a. Manila
  - b. Singapura
  - c. Jakarta
  - d. Hanoi
11. Ibu kota negara Turki adalah ....
  - a. Riyadh
  - b. Colombo
  - c. Ankara
  - d. Amman
12. Sungai yang terkenal dari Inggris adalah ....
  - a. Sungai Nil
  - b. Sungai Seine
  - c. Sungai Rhine
  - d. Sungai Thames
13. Berikut ini adalah negara-negara yang berada di kawasan Afrika Utara, **kecuali** ....
  - a. Mesir, Libya, Aljazair
  - b. Tunisia, Libya, Sahara Barat
  - c. Angola, Zambia, Nigeria
  - d. Libya, Maroko, Tunisia
14. Mata uang negara Mesir adalah ....
  - a. Pound
  - b. Dollar
  - c. Peso
  - d. Lira
15. Bangunan yang terkenal dari India adalah ....
  - a. Taj Mahal
  - b. Menara Pisa
  - c. Piramida
  - d. Petronas
16. Tembok raksasa merupakan salah satu keajaiban dunia yang berada di negara ....
  - a. India
  - b. Jepang
  - c. Taiwan
  - d. Cina
17. Penduduk Asli negara Australia adalah ....
  - a. Aborigin
  - b. Ainu
  - c. Negro
  - d. Mongol
18. Negara dengan jumlah penduduk terpadat di dunia adalah ....
  - a. Cina
  - b. India
  - c. Indonesia
  - d. Amerika
19. Bangunan yang merupakan keajaiban dunia di Mesir adalah ....
  - a. Piramida dan Taj Mahal
  - b. Sphinx dan Tembok Raksasa
  - c. Piramida dan Menara Eifel
  - d. Piramida dan Sphinx
20. Berikut ini merupakan negara-negara di kawasan Eropa Barat, **kecuali** ....
  - a. Inggris
  - b. Italia
  - c. Jerman
  - d. Belanda

21. Ibu kota negara Amerika Serikat adalah di ....
  - a. Ottawa
  - b. Mexico City
  - c. Washington DC
  - d. Buenos Aires
22. Sungai terbesar di dunia adalah ....
  - a. Nil
  - b. Amazon
  - c. Thames
  - d. Rhine
23. Terusan Suez menghubungkan ....
  - a. Laut Merah dan Laut Selatan
  - b. Laut Tengah dan Laut Utara
  - c. Laut Tengah dan Laut Pasifik
  - d. Laut Merah dan Laut Tengah
24. Peristiwa yang ditimbulkan oleh alam disebut ....
  - a. gejala bumi
  - b. gejala alam
  - c. gejala gempa
  - d. gejala kerak bumi
25. Thailand memiliki iklim ....
  - a. tropis
  - b. hangat
  - c. musim tropis
  - d. dingin
26. Garis yang digambar Wallace untuk menunjukkan batas habitat fauna tipe Asiatis dengan tipe Peralihan adalah ....
  - a. Garis Wallace
  - b. Garis Weber
  - c. Garis Transisi
  - d. Garis Teritorial
27. Fauna yang termasuk zona Australia adalah ....
  - a. Irian
  - b. Nusa Tenggara Timur
  - c. Kepulauan Filipina
  - d. Sumatra
28. Gempa yang terjadi akibat adanya pergeseran kulit bumi ....
  - a. gempa tektonik
  - b. gempa vulkanik
  - c. gempa alam
  - d. tsunami
29. Berikut yang merupakan penyebab banjir, **kecuali** ....
  - a. hujan lebat terus menerus
  - b. daya tampung sungai terbatas
  - c. pengikisan tanah
  - d. pembuangan sampah di sungai
30. Peristiwa tsunami di Aceh terjadi pada tanggal ....
  - a. 22 Desember 2004
  - b. 23 Desember 2004
  - c. 25 Desember 2004
  - d. 26 Desember 2004
31. Gelombang laut yang terjadi setelah adanya gempa yang terjadi di bawah permukaan laut disebut ....
  - a. tsunami
  - b. erosi
  - c. gempa vulkanik
  - d. gempa tektonik

32. Tidak adanya batas antara negara satu dengan lainnya adalah pengertian dari ....
- |                |                |
|----------------|----------------|
| a. globalisasi | c. sosialisasi |
| b. harmonisasi | d. eksploitasi |
33. Contoh makanan yang berasal dari negara asing adalah....
- pizza, hamburger, nasi padang
  - spaghetti, pizza, hamburger
  - spaghetti, soto ayam, nasi goreng
  - sandwich, hamburger, sate kambing
34. Salah satu bukti adanya globalisasi adalah sebagai berikut, **kecuali** ....
- penggunaan handphone di seluruh lapisan masyarakat
  - pesawat terbang yang canggih
  - adanya masyarakat indonesia yang tinggal di negara asing
  - penggunaan kerbau untuk membajak sawah
35. Faktor yang menyebabkan adanya perusahaan asing di Indonesia adalah sebagai berikut, **kecuali** ....
- tenaga kerja yang murah
  - kebutuhan masyarakat akan suatu produk
  - stabilitas keamanan yang memadai
  - pajak yang tinggi bagi perusahaan asing
36. Salah satu contoh kemajuan di bidang teknologi komunikasi adalah ....
- |                         |                              |
|-------------------------|------------------------------|
| a. handphone, internet  | c. celana jeans, setelan jas |
| b. mobil, kapal terbang | d. coca cola, orange jus     |
37. Kegiatan menjual barang atau jasa ke luar negeri adalah pengertian dari ....
- |           |               |
|-----------|---------------|
| a. impor  | c. produksi   |
| b. ekspor | d. distribusi |
38. Negara yang melakukan kegiatan impor disebut ....
- |              |                |
|--------------|----------------|
| a. importir  | c. produsen    |
| b. eksportir | d. distributor |
39. Barang-barang impor dari Filipina adalah sebagai berikut, **kecuali** ....
- |                |         |
|----------------|---------|
| a. kopra       | c. keju |
| b. semen putih | d. gula |
40. Kain Songket berasal dari Pulau ....
- |             |                  |
|-------------|------------------|
| a. Sulawesi | c. Kalimantan    |
| b. Sumatra  | d. Nusa Tenggara |

41. Barang-barang impor dari Jepang adalah ....
  - a. pakaian jadi dan gas alam
  - b. alat elektronik dan mesin kendaraan
  - c. keju dan alat elektronik
  - d. mesin kendaraan dan susu
42. Barang-barang yang diimpor dari Australia adalah sebagai berikut, **kecuali** ....
  - a. wol
  - b. semen putih
  - c. keju
  - d. susu
43. Berikut merupakan manfaat adanya kegiatan ekspor - impor, **kecuali** ....
  - a. menambah devisa negara
  - b. memberi keuntungan bagi pelakunya
  - c. mengaktifkan perputaran uang
  - d. kebanggaan memakai produk asing
44. Barang-barang impor dari Thailand adalah sebagai berikut, **kecuali** ....
  - a. gula
  - b. keju
  - c. buah - buahan
  - d. beras
45. Indonesia mengekspor barang-barang ke Australia berupa ....
  - a. minyak bumi mentah
  - b. semen putih
  - c. keju
  - d. beras

## II. Isilah titik-titik di bawah ini dengan jawaban yang benar!

1. Kegiatan membeli barang atau jasa dari luar negeri disebut . . . .
2. Manfaat ekspor dan impor bagi negara adalah . . . .
3. Wilayah provinsi dikepalai oleh . . . .
4. Provinsi Bangka Belitung berdiri pada tahun . . . .
5. Lagu kebangsaan Malaysia adalah . . . .
6. Mata uang Myanmar adalah . . . .
7. Sungai terpanjang di dunia adalah Sungai . . . .
8. Ibu kota negara Puerto Rico adalah . . . .
9. Menara miring Pisa terdapat di negara . . . .
10. Ibu kota Brasil adalah . . . .
11. Helsinki adalah ibu kota negara . . . .
12. Kangguru dan koala merupakan fauna khas negara . . . .



13. Bencana yang terjadi karena ulah manusia yaitu . . . dan . . . .
14. Penyebab murahnya upah tenaga kerja di Indonesia yaitu . . . .
15. Perusahaan negara lain yang mendirikan usahanya di Indonesia disebut . . . .

### III. Jawablah pertanyaan berikut ini dengan singkat dan jelas


1. Apa yang dimaksud dengan perdagangan?
2. Sebutkan barang ekspor dari Indonesia ke Singapura!
3. Sebutkan beberapa manfaat adanya kegiatan ekspor dan impor!
4. Sebutkan beberapa hal yang memengaruhi perkembangan wilayah Indonesia!
5. Apa saja provinsi yang berada di Pulau Jawa? Sebutkan satu persatu beserta ibu kotanya!
6. Sebutkan negara-negara yang termasuk kawasan Asia Tenggara!
7. Sebutkan negara-negara di Kepulauan Karibia!
8. Sebutkan gunung-gunung yang terdapat di Filipina!
9. Bagaimana tidakanmu jika terjadi gempa ketika sedang di dalam rumah?
10. Kemukakan pendapatmu mengenai globalisasi yang terjadi di sekitar kita!

## Latihan Ebtanas 1


### I. Pilihlah jawaban yang benar!

- Gas dapat bermanfaat untuk kehidupan manusia. Misalnya untuk bahan bakar, industri dan proses pembuatan hujan buatan. Gas yang digunakan dalam kebutuhan rumah tangga adalah ....
  - Elpiji
  - LNG
  - Gas bumi
  - Gas hidrokarbon
- Kriminalitas dan gizi buruk termasuk dalam masalah sosial yang dapat diatasi. Cara yang dapat dilakukan antara lain dengan memberantas ....
  - kesengsaraan
  - kemalasan
  - kemiskinan dan kebodohan
  - pengangguran
- Gambar di samping adalah simbol pada peta yang menunjukkan ....
  - ibukota
  - kota
  - gunung
  - bandara
- Perbandingan jarak pada peta dengan jarak yang sebenarnya disebut ....
  - simbol
  - legenda
  - skala
  - globe
- Jarak A dan B pada peta 2 cm. Skala yang digunakan 1: 5.000.000. Berapakah jarak sebenarnya?
  - 2,5 km
  - 10 km
  - 100 km
  - 250 km
- Peristiwa tsunami di Aceh pada 26 Desember 2004 yang lalu merupakan peristiwa alam yang terjadi akibat adanya ....
  - Gunung meletus
  - Pergeseran lempeng bumi
  - Air laut yang melebihi kapasitas
  - Erosi pantai

7. Sungai Mahakam adalah sungai terbesar di Indonesia yang terdapat di ....
  - a. Pulau Jawa
  - b. Pulau Kalimantan
  - c. Sulawesi
  - d. Papua
8. Zaman kerajaan Hindu-Buddha, dalam status sosial masyarakat terdapat perbedaan yang disebut ....
  - a. jabatan
  - b. tingkat
  - c. level
  - d. kasta

9.  Gambar di samping ini adalah kegiatan para penambang ....
  - a. emas
  - b. perak
  - c. bijih besi
  - d. batu kwarsa

10. Pulau Bangka Belitung adalah pulau yang terkenal sebagai penghasil ....
  - a. batu bara
  - b. gas alam
  - c. timah
  - d. genteng
11. Buku yang berisi kumpulan surat-surat yang dikirim RA. Kartini kepada sahabat-sahabatnya di Belanda berjudul ....
  - a. Habis Gelap Merdekalah Bangsa
  - b. Habis Gelap Terbitlah Terang
  - c. Dari Gelap Menuju Terang
  - d. Setelah Gelap Kembali Terang

12.  Rumah asal Sumatra Barat di atas dinamakan rumah ....
  - a. Joglo
  - b. Padang
  - c. Minang
  - d. Gadang

13. Gunung di Indonesia memiliki 3 tipe. Yakni strato, kaldera dan maar. Gunung yang berbentuk kerucut dinamakan tipe ....
  - a. strato
  - b. kaldera
  - c. maar
  - d. gabungan ketiganya

14. Perjuangan bangsa Indonesia sebelum lahirnya tonggak kebangkitan bangsa bersifat ....
  - a. kedaerahan dan kurang terorganisir
  - b. nasionalisme
  - c. sukuisme dan terorganisir dengan baik
  - d. berkelanjutan
15. Zaman prasejarah ditandai dengan ditemukannya bukti berupa ....
  - a. candi
  - b. prasasti
  - c. fosil dan perkakas dari batu
  - d. perkakas kayu
16. Untuk pelayaran dan penerbangan globe lebih banyak digunakan untuk menunjukkan jarak pada permukaan bumi dibanding peta bidang datar. Alasannya ....
  - a. globe mudah dibawa-bawa
  - b. globe mudah dilihat
  - c. globe dapat menunjukkan jarak melintang pada bumi seperti aslinya
  - d. peta bidang datar kurang akurat
17. Gurun terpanas dan terluas di dunia adalah gurun ....
  - a. Sahara
  - b. Namibia
  - c. Kenya
  - d. Gobi
18. Lagu Indonesia Raya diciptakan oleh ....
  - a. L. Manik
  - b. Gesang
  - c. Ibu Sud
  - d. Wage Rudolf Supratman
19. Mata air yang terdapat di tengah-tengah suatu gurun disebut ....
  - a. oasis
  - b. danau
  - c. titik air
  - d. muara
20. Ir. Soekarno dan Moh. Hatta dikenal sebagai ....
  - a. pahlawan pergerakan
  - b. pahlawan pendidikan
  - c. Tokoh Proklamator kemerdekaan RI
  - d. Pahlawan Revolusi

21. Meningkatnya polutan di udara dapat mengakibatkan rusaknya lapisan ozon. Rusaknya lapisan ozon akan mengakibatkan bumi semakin panas yang disebut ....
  - a. pemanasan bumi
  - b. pemanasan global
  - c. efek rumah kaca
  - d. ketimpangan bumi
22. Kejar paket A adalah setingkat ....
  - a. SD
  - b. SMP
  - c. SMA
  - d. Perguruan Tinggi
23. Prasasti Ciaruteun terdapat di ....
  - a. Sulawesi
  - b. DI. Yogyakarta
  - c. Bogor, Jawa Barat
  - d. Kalimantan
24. Pahlawan pergerakan wanita antara lain adalah ....
  - a. Cut Nyak Dhien
  - b. Martha Cristina Tiahahu
  - c. R. Dewi Sartika
  - d. Nyi Serang
25. Salah satu bentuk kerjasama yang baik dengan tetangga adalah ....
  - a. mudik bersama
  - b. saling meminjamkan barang
  - c. kerja bakti
  - d. bergosip
26. Teknologi satelit di Indonesia bernama ....
  - a. SKSD Palapa
  - b. Sateli dunia
  - c. Satelit Internasional
  - d. SKSD Mercubuana
27. SMS adalah fasilitas pada hanphone yang dapat menggantikan fasilitas ....
  - a. pager
  - b. telepon
  - c. e-mail
  - d. internet



28. KB adalah program pemerintah untuk menekan laju ....
- pertumbuhan penduduk
  - kematian ibu setelah melahirkan
  - kematian anak
  - gizi buruk balita
29. Pekan Imunisasi, Kartu ASKES dan Sehat Lansia adalah program pemerintah di bidang ....
- kependudukan
  - komunikasi
  - kesehatan
  - perhubungan
30. Kelemahan teknologi komunikasi modern adalah ....
- cepat
  - mudah
  - murah
  - radiasi
31. Bus Way adalah jalur khusus di DKI Jakarta untuk kendaraan ....
- umum
  - bis
  - sepeda motor
  - pejalan kaki
32. Koran, majalah, brosur dan tabloid termasuk media ....
- audio
  - audio-visual
  - visual
  - cetak
33. Berikut ini termasuk dalam masalah sosial, **kecuali** ....
- kerawanan sosial
  - kemiskinan
  - narkoba
  - gunung meletus
34. Salah satu upaya kita untuk membantu mengurangi pengangguran adalah dengan ....
- mencari pekerjaan sampai dapat
  - menunggu tawaran pekerjaan yang datang
  - menciptakan lapangan pekerjaan sendiri
  - mengikuti tes seleksi karyawan pemerintah setiap tahun

35. Gunung tertinggi di Indonesia adalah ....
  - a. Puncak Jaya di Papua
  - b. Bromo di Jawa Tengah
  - c. Gunung Kerinci di Sumatra
  - d. Gunung Rantekombola di Sulawesi
36. Menyemburnya lumpur LAPINDO di Jawa Tengah mencemari ....
  - a. Tanah saja
  - b. Udara
  - c. Lingkungan hidup
  - d. Air saja
37. Kesepakatan antara pembeli dan penjual kemudian saling menyerahkan barang dan uang disebut ....
  - a. barter
  - b. pertukaran
  - c. transaksi
  - d. pembelian
38. Kentongan termasuk teknologi masa lalu di bidang ....
  - a. perhubungan
  - b. komunikasi
  - c. produksi
  - d. transportasi
39. Kegiatan menghasilkan suatu barang disebut dengan istilah ....
  - a. distribusi
  - b. konsumsi
  - c. inkubasi
  - d. produksi
40. Buah Jeruk Mandarin yang beredar luas hampir di seluruh wilayah Indonesia termasuk dalam kategori barang ....
  - a. impor
  - b. ekspor
  - c. mentah
  - d. jadi
41. ATM adalah mesin yang digunakan untuk mengambil uang. Singkatan apakah ATM itu ?
  - a. Anjungan Teler Mandiri
  - b. Anjungan Tunai Mandiri
  - c. Anjungan Telepon Mandiri
  - d. Anjungan Tele Marketing

42. Perhatikan gambar berikut



- Bila U menunjukan utara, maka arah rumah di atas menghadap ke ....
- selatan
  - tenggara
  - timur
  - barat
43. Rumahmu ada di selatan. Jika kamu mengunjungi rumah temanmu di gang belakang. Maka kamu harus berjalan menuju arah ....
- barat daya
  - timur
  - barat laut
  - utara
44. Salah satu penyebab terjadinya danau secara alami antara lain ....
- tanah turun karena gempa
  - sungai yang dibendung
  - kaldera yang terisi air hujan
  - banjir
45. Lautan sempit yang memisahkan pulau satu dengan pulau lainnya adalah ....
- danau
  - selat
  - samudra
  - tanjung
46. Garis khayal yang membelah bumi menjadi bagian barat dan timur disebut ....
- |                       |                  |
|-----------------------|------------------|
| a. Garis bujur        | c. Garis lintang |
| b. Garis khatulistiwa | d. Garis bumi    |
47. Pada pembagian waktu, istilah GMT merupakan singkatan dari ....
- Greenwich Meridian Time
  - Greenwich Meal Time
  - Greenwich More Time
  - Greenwich Mean Time

48. Bali dan Nusa Tenggara termasuk dalam Wilayah ....
- Waktu Indonesia Tengah
  - Waktu Indonesia Timur
  - Waktu Indonesia Tenggara
  - Waktu Indonesia Barat

49. Gambar di samping ini merupakan bendera negara ....



- Kamboja
  - Thailand
  - Laos
  - Brunei Darussalam
50. Barang-barang yang diperjualbelikan untuk tujuan ekspor maupun impor disebut ....
- komunitas
  - konektifitas
  - kompas
  - komoditas

## Latihan Ebtanas 2

### I. Pilihlah jawaban yang benar!

1. Indonesia terletak di wilayah ....
  - a. Asia Tenggara
  - b. Asia Timur
  - c. Asia Barat
  - d. Asia Selatan
2. Indonesia terletak di antara dua benua, yaitu ....
  - a. Asia dan Afrika
  - b. Asia dan Australia
  - c. Asia dan Eropa
  - d. Australia dan Amerika
3. Indonesia juga diapit oleh dua samudra, yaitu ....
  - a. Pasifik dan Atlantik
  - b. Pasifik dan Laut Cina Selatan
  - c. Pasifik dan Hindia
  - d. Hindia dan Atlantik
4. Letak astronomis wilayah Negara Kepulauan Indonesia adalah ....
  - a.  $6^{\circ}\text{LU} - 11^{\circ}\text{LS}$  dan  $95^{\circ}\text{BB} - 141^{\circ}\text{BB}$
  - b.  $6^{\circ}\text{LU} - 11^{\circ}\text{LS}$  dan  $95^{\circ}\text{BT} - 141^{\circ}\text{BT}$
  - c.  $6^{\circ}\text{LU} - 11^{\circ}\text{LS}$  dan  $95^{\circ}\text{BB} - 141^{\circ}\text{BT}$
  - d.  $6^{\circ}\text{LU} - 11^{\circ}\text{LS}$  dan  $95^{\circ}\text{BT} - 141^{\circ}\text{BB}$
5. Tiruan bumi yang berbentuk bola disebut sebagai ....
  - a. denah
  - b. peta
  - c. globe
  - d. atlas
6. Jika seluruh atau sebagian permukaan bumi digambarkan atau dilukiskan pada suatu bidang datar dalam ukuran kecil, maka bidang datar itu disebut ....
  - a. globe
  - b. peta
  - c. denah
  - d. atlas

7. Wilayah Indonesia yang dilalui Garis Bujur Timur  $100^{\circ}$  adalah pulau ...
- Kalimantan
  - Sumatra
  - Jawa
  - Sulawesi

8.



Peta di samping ini menunjukkan kota di Kalimantan yang dilalui oleh garis khatulistiwa, yaitu ....

- Samarinda
- Palangkaraya
- Banjarmasin
- Pontianak

9. Letak Indonesia sangat strategis karena ....

- berada dalam jalur perdagangan
- memiliki banyak pulau
- dekat dengan Australia
- dikelilingi oleh lautan

10. Iklim utama wilayah Kepulauan Indonesia dan Negara-negara di Asia Tenggara pada umumnya adalah ....

- Sub-tropis
- Sangat panas
- Sedang
- Tropis

11.



Gambar wilayah (provinsi) yang diberi warna hitam dan ditunjukkan oleh tanda panah menunjukkan wilayah ....

- Kalimantan Selatan
- Sumatra Utara
- Sulawesi Utara
- Maluku

12. Di sebelah barat, Indonesia berbatasan dengan ....

- Samudra Pasifik
- Samudra Hindia
- Australia
- Filipina

13. Di sebelah Timur, Indonesia berbatasan dengan ....

- Filipina
- Australia
- Timor Timur
- Papua Nugini



14. Suku utama yang berasal dari Provinsi Nusa Tenggara Barat adalah ....
  - a. Sunda
  - b. Melayu
  - c. Sasak
  - d. Betawi
15. Garis pada peta yang digambarkan secara vertikal pada peta disebut ....
  - a. garis bujur
  - b. garis khatulistiwa
  - c. garis vertikal
  - d. garis lintang
16. Negara ini merupakan negara terkaya di Asia Tenggara dan juga terkaya nomor 3 didunia. Negara ini adalah ....
  - a. Malaysia
  - b. Brunei Darussalam
  - c. Singapura
  - d. Indonesia

17.



Gambar di samping menunjukkan sebuah negara di Asia Tenggara yaitu ....

- a. Singapura
- b. Thailand
- c. Myanmar
- d. Filipina

18.



Gambar di samping ini menunjukkan lambang sebuah organisasi di wilayah Asia Tenggara, yaitu ....


- a. PBB
- b. ASEAN
- c. WHO
- d. UNICEF

19. Berikut ini adalah pulau-pulau yang dilalui oleh garis khatulistiwa, **kecuali** ....
 

|               |             |
|---------------|-------------|
| a. Sumatra    | c. Sulawesi |
| b. Kalimantan | d. Jawa     |
20. Propinsi yang terletak pada perpotongan Garis Lintang  $0^\circ$  dan  $120^\circ$ BT adalah ....
 

|                      |                    |
|----------------------|--------------------|
| a. Sumatra Barat     | c. Sulawesi Tengah |
| b. Kalimantan Tengah | d. Manokwari       |

21. Di negara inilah berdiri dengan kokoh Menara Eiffel. Negara ini adalah ....
  - a. Perancis
  - b. Inggris
  - c. Swedia
  - d. Jerman
22. Tujuan dari diadakannya Agresi Militer Belanda I yaitu ....
  - a. mengusir tentara Jepang
  - b. menangkap tentara Jepang
  - c. menangkapi para pejuang
  - d. menguasai kembali Republik Indonesia
23. Nama negara ini sama dengan nama benuanya, yaitu ....
  - a. Australia
  - b. Asia
  - c. Artik
  - d. Amerika
24. Negara non blok adalah ....
  - a. negara yang tidak berpihak kepada blok barat maupun blok timur
  - b. negara yang berpihak kepada blok barat maupun blok timur
  - c. negara yang tidak diakui blok barat maupun blok timur
  - d. negara yang tidak punya pendirian
25. Hasil keputusan Konferensi Asia Afrika lebih dikenal dengan sebutan ....
  - a. Piagam Jakarta
  - b. Undang-undang Dasar
  - c. Piagam Berlin
  - d. Dasa Sila Bandung
26. Bahasa resmi negara Mesir adalah ....
  - a. Perancis
  - b. Urdu
  - c. Arab
  - d. Melayu
27. Orang Inggris penemu benua Australia adalah ....
  - a. Amerigo Vespucci
  - b. James Cook
  - c. Cristopher Columbus
  - d. Marco Polo

28. Patung singa berkepala manusia di Mesir bernama ...
- Pagoda
  - Patung Liberty
  - Sphinx
  - Taj Mahal
29. Pada rentang bulan apakah terjadi musim hujan di Indonesia?
- Oktober - Maret
  - Oktober - April
  - Oktober - November
  - September - Oktober
30. Berikut ini adalah negara-negara yang berada di wilayah Asia Timur, **kecuali** ....
- Taiwan
  - Jepang
  - Korea Selatan
  - Bangladesh
31. Ibu kota Yordania adalah ....
- Kairo
  - Amman
  - Dacca
  - Teheran
32. ASEAN didirikan bertujuan untuk ....
- mempererat hubungan perdagangan
  - bersatu melawan Negara Barat
  - saling memengaruhi di antara negara-negara di Asia Tenggara
  - memperbaiki hubungan baik di antara negara-negara di Asia Tenggara
33.  Siapakah tokoh pahlawan nasional di samping ini ....
- Ahmad Yani
  - Muhammad Yamin
  - WR. Supratman
  - Otto Iskandardinata
34. Campuran Suku Indian dan Spanyol disebut ....
- Suku Mestizo
  - Suku Inuit
  - Suku Kurdi
  - Suku Ainu

35.



Letak Kerajaan Sriwijaya pada peta di samping ditunjukkan dengan huruf ....

- a. A
- b. B
- c. C
- d. D

36. Orang yang merancang Terusan Suez adalah ....

- a. Roosevelt
- b. Christopher Columbus
- c. Abel Tasman
- d. Ferdinand de Lessep

37. Lagu kebangsaan Belanda adalah ....

- a. God Save the Queen
- b. Wilhemus Van Nassouwe
- c. The Stars Spangled Banner
- d. Kimigayo

38. Politik Apartheid yang pernah berlaku di Afrika Selatan memiliki arti ....

- a. politik perbedaan warna kulit
- b. politik balas dendam
- c. politik pintu terbuka
- d. politik persamaan hak

39. Di Sungai Nil terdapat suatu bendungan raksasa, yaitu ....

- a. Hooverdam
- b. Aswan
- c. Eyre
- d. Amazon

40. Di dalam Konferensi Asia Afrika pada tahun 1955 dipimpin oleh seorang ketua dari Indonesia yang bernama ....

- a. Ali Sastroamidjojo
- b. Adam Malik
- c. Muhammad Hatta
- d. Ruslan Abdul Ghani

41. Garis pusat  $0^{\circ}$  melintasi sebuah kota di Inggris yang bernama ....

- a. London
- b. York
- c. Greenwich
- d. Manchester

42. Adam Malik pernah menduduki jabatan penting dalam pemerintahan Indonesia, yaitu sebagai ....
- Presiden
  - Wakil Presiden
  - Menteri Olah Raga
  - Menteri Penerangan

43.



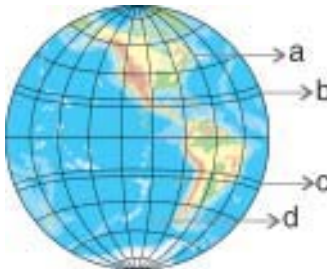
Gambar di samping menunjukkan salah satu keajaiban dunia dari Cina, yaitu ....

- Taman Gantung Babilonia
- Candi Borobudur
- Pyramid
- Tembok Besar

44. Mata uang negara Korea Selatan adalah ....

- Won
- Yen
- Yuan
- Sen

45.



Garis Lintang Selatan pada gambar di samping ditunjukkan oleh nomor ....

- 1
- 2
- 3
- 4

46. Pada tanggal 20 Nopember 1945 terjadi pertempuran melawan tentara NICA di Margarana, Bali. Pertempuran itu terkenal dengan sebutan ....

- Perang Puputan
- Perang Gerilya
- Perang Paregreg
- Perang Margarana

47. Binatang yang sangat dihormati dan dianggap suci oleh masyarakat India adalah ....

- kucing
- anjing
- domba
- sapi

48. Berikut ini adalah negara anggota ASEAN yang belum pernah dijajah oleh bangsa mana pun, yaitu ....
- Indonesia
  - Thailand
  - Myanmar
  - Kamboja

49.



Gambar di samping ini menunjukkan lambang organisasi internasional, yaitu ....

- UNICEF
  - PBB
  - UNESCO
  - ILO
50. Air terjun tertinggi di dunia yang berada di Venezuela yaitu air terjun ....
- Angel
  - Niagara
  - Victoria
  - Tugela



# Glosarium

**Benua.** Daratan yang sangat luas

**Bencana alam.** Peristiwa kerusakan yang ditimbulkan oleh alam

**Devisa.** Pendapatan Negara

**Ekspor.** Pengiriman barang dagangan ke luar negeri

**Gejala.** Suatu hal (keadaan, peristiwa)

**Impor.** Pemasukan barang dan sebagainya dari luar negeri

**Modernisasi.** Proses pergeseran sikap dan mentalitas sebagai warga masyarakat untuk dapat hidup sesuai dengan tuntutan masa kini

**Negara.** Wilayah suatu bangsa

**Negara tetangga.** Negara yang letaknya berdekatan dengan negara lainnya

**Provinsi.** Daerah wilayah dari suatu Negara

**Samudra.** Lautan yang sangat luas

**Sosial.** Segala sesuatu mengenai masyarakat, kemasyarakatan

## Daftar Pustaka

- Encarta Encyclopedia Deluxe. 2002. Microsoft Corporation  
Ichtiar Baru-Van Hoere. *Ensiklopedi Indonesia Jilid 6*. Jakarta: Penerbit Ichtiar Baru-Van Hoeve.
- Ruslan H. Prawiro. 1979. *Ekologi Lingkungan, Pencemaran*. Semarang: Penerbit Satyawacana.
- Suntoro, Sucipto. 2004. *Rangkuman Pengetahuan Umum Lengkap*. Surakarta: Penerbit Beringin 55
- Tugiyono K.S. 1985. *Atlas dan Lukisan Sejarah Nasional Indonesia*. Jakarta: CV Baru.
- Wayong, Pelatta dan A. Latif Chalid. 1988. *Atlas Indonesia dan Dunia*. Jakarta: PT Pembina Peraga.
- Zen, M.T. 1979. *Menuju Kelestarian Lingkungan Hidup*. Bandung: Yayasan Obor Indonesia, ITB.

### Sumber Gambar:

- Encarta Encyclopedia Deluxe 2002: Microsoft Corporation  
<http://www.lapanrs.com>  
[www.id.wikipedia.org](http://www.id.wikipedia.org)  
[www.Foto-foto.com](http://www.Foto-foto.com)



# Ilmu Pengetahuan Sosial 6

ISBN 978-979-068-008-1 (nomor jilid lengkap)  
ISBN 978-979-068-023-4

Buku ini telah dinilai oleh Badan Standar Nasional Pendidikan (BSNP) dan telah dinyatakan layak sebagai buku teks pelajaran berdasarkan Peraturan Menteri Pendidikan Nasional Nomor 69 Tahun 2008 tanggal 7 November 2008 tentang Penetapan Buku Teks Pelajaran yang Memenuhi Syarat Kelayakan untuk Digunakan dalam Proses Pembelajaran.

Harga Eceran Tertinggi (HET) Rp10.802,-